

2016上半年事业单位联考真题

《职业能力倾向测验》

(经济类)

文政公务员
江苏公务员考试中心



江苏公务员考试信息



江苏事业单位招聘信息

2016 年上半年江苏省事业单位考试

经济类（会计审计类）

第一部分 综合知识

（考试时限：150 分钟，满分：150 分）

答题说明：请在专用答题卡指定位置作答，在试卷、草稿纸及其他位置作答一律无效。

一. 单项选择题（在下列选项中选择最恰当的 1 项，并用 2b 铅笔在答题卡相应题号涂黑所选答案项的信息点，在试卷上作答一律无效。在试卷本大题共 60 小题，共 60 分）

1. 2016 年 4 月 1 日，国家主席习近平在第四届国际核安全峰会上发表重要讲话，提出了加强国际核安全体系建设的中国方案，展现了中国的大国担当，其核心观点是

- A. 全球核安全治理应强化国际合作，打造核安全命运共同体
- B. 全球核安全治理应加大经济投入，提升核安全研究的水平
- C. 全球核安全治理应充分发挥社会力量作用，构筑严密防线
- D. 全球核安全治理应以发达国家为主导，其他国家适度参与

2. 下列举措与党的十八届五中全会提出的五大发展理念对应正确的是

- A. 实行能源和水资源消耗、建设用地等总量和强度双控行动——协调发展
- B. 健全军民融合发展的组织管理体系、工作运行体系和政策制度体系——开放发展
- C. 推进基础设施互联互通和国际大通道建设、共建国际经济合作走廊——共享发展
- D. 实施一批国家重大科技项目和在重大创新领域组建一批国家实验室——创新发展

3. “粗缯大布裹生涯，腹有诗书气自华。”这一诗句体现的哲理是

- A. 内容决定形式
- B. 物质决定意识
- C. 内因决定外因
- D. 客观决定主观

4. 新型政商关系强调政府官员与民营企业之间的“亲”“清”关系，“亲”就是双方坦荡真诚接触交往，“清”就是清白纯洁，不搞权钱交易。构建“亲”“清”新型政商关系的关键是

- A. 改善政商关系，促进双方合作
- B. 消除偏见误解，增进政商友谊
- C. 改变歧视看法，坦荡真诚交往
- D. 转变政府职能，厘清权力边界

5. 下列行政机关履行的职能，不属于经济职能的是

- A. 税务部门对房产交易依法进行征税
- B. 工商部门为工商企业办理登记注册
- C. 交管部门对违章司机进行罚款处理
- D. 质监部门到生产企业检查产品质量

6. 建立和完善社会矛盾调解机制是实现社会管理创新的重要任务。下列不属于完善社会矛盾调解机制的做法是

- A. 市中级人民法院在审理民事案件过程中贯彻调解优先原则
- B. 街道办建立社区心理咨询服务站，开展心理调节疏导工作
- C. 社区服务中心成立邻里矛盾调解办公室，处理邻里间纠纷
- D. 小区居民自主约定居民行为规范，明确邻里矛盾解决办法

7. 下列属于公共服务活动范畴的是

- A. 某健身中心针对会员推出专项服务
- B. 某区科技局定期举办科普知识讲座
- C. 某培训中心开设外语学习强化班
- D. 某私立幼儿园提供幼儿托管服务

8. 法律是社会关系的调整器，但法律的作用是有限的。

- A. 法律无法调整所有社会关系
- B. 法律无法兼顾保护所有利益
- C. 法律无法对人的主观心理状态进行评价
- D. 法律受到其他社会规范及社会环境的制约



9.《环境保护法》规定，对污染环境、侵害众多消费者合法权益等损害社会公共利益的行为，法律规定的机关和有关组织可以向人民法院提起诉讼。这一法律规定的诉讼形式是

- A. 共同诉讼 B. 集团诉讼 C. 公益诉讼 D. 行政诉讼

10.《侵权责任法》规定，因抢救生命垂危的患者等紧急情况，不能取得患者或者其近亲属意见的，经医疗机构负责人或者授权的负责人批准，可以立即实施相应的医疗措施。对此，下列说法错误的是

- A. 生命权与其他民事权利冲突时，生命权优于其他民事权利
B. 紧急情况下医疗机构对患者采取的一切医疗措施均可负责
C. 医疗机构有权根据具体情况的紧迫程度采取相应医疗措施
D. 患者及其近亲属的自主权不是一项绝对的权利

11.当前，我国的内需消费增长旺盛。对此，下列分析错误的是

- A. 城乡居民收入的持续增加增高了老百姓的消费能力
B. 社会保障体制的不断完善让居民们有钱且“敢消费”
C. 国内的各种商品和劳务价格已经明显低于国外市场
D. 社会消费条件的不断改善催生了大量的新消费热点

12.根据现有的文物知识，博物馆中比应该出现的文物标识是

- A. 汉代的青花瓷瓶 B. 唐代的秘色瓷碗
C. 宋代的花鸟织锦 D. 明代的宣德炉

13.随着互联网的普及，人们越来越多地借助社交媒体进行分享、讨论和交流。关于社交媒体，下列说法错误的是

- A. 现阶段的社交媒体种类主要包括社交网站、微信、博客、论坛等
B. 社交媒体是指互联网上基于用户关系建立的内容生产与交换平台
C. 微博是通过关注机制分享简短实时信息的广播式的社交媒体平台
D. 社交媒体允许网民以 Web1.0 为基础撰写、分享、评价、讨论等

14.在羌塘保护区腹地西藏那曲地区双湖县，藏羚羊集结有序，沿水草丰美的山坳前行，时而扬蹄疾驰，时而悠闲觅食，公路上汽车呼啸而过，也丝毫（ ）。填入文中画横线处最恰当的一项是

- A. 视而不见 B. 不为所动 C. 听而不闻 D. 不乱方寸

15.对地球和人类而言，月亮不仅仅（ ）着地月系统的固有状态和稳定运行，还以其优雅、静谧、澄澈，以及阴晴圆缺和生生不息（ ）着人们无尽的审美意象。依次填入文中画横线处最恰当的一项是

- A. 维系 承纳 B. 维持 承载 C. 维护 传承 D. 保持 承接

16.心中有国，身后是家。军营的真实生活，让人们看到了，在许多人过着（ ）生活的同时，军人们在大多数人不容易去到的地方默默（ ）着汗水，成为人们幸福生活的坚强后盾依次填入文中画横线处最恰当的一项是

- A. 甜美 挥霍 B. 舒服 流溢 C. 舒适 挥洒 D. 安稳 流淌

17.小说以明晰晓畅的语言、巧妙精致的（ ）、深刻蕴藉的是思想以及（ ）的从容笔调，为我们讲述了一个曲折浪漫甚至有些诡异的故事依次填入文中画横线处最恰当的一项是

- A. 结构 游刃有余 B. 框架 淋漓尽致
C. 篇幅 栩栩如生 D. 轮廓 惟妙惟肖

18.有人说：“一个民族没有自己的文化是（ ）的，有了文化不去弘扬是（ ）的有了优秀文化却去践踏是（ ）的。”实在太精辟了！依次填入文中画横线处最恰当的一项

- A. 可耻 可悲 可怕 B. 可悲 可耻 可怕
C. 可怕 可耻 可悲 D. 可怕 可悲 可耻

19.“羊群效应”又被称为从众效应，是指人们通常倾向于跟从大众的思想或者行为，而不进行独立思考。许多人将网络时代看作是民意自由表达的时代，但是过分的自由往往给不法分子有可乘之机，网络上些微的诱导或煽动就能引发大量网民的盲从，而有些所谓的“网络民意”甚至节能是不法分子恶意操纵、扭曲和极端化的结果这段话主要表现

- A. “网络民意”并不能完全代表真正的社会民意
B. 网络时代要尽量避免“羊群效应”的产生
C. 真正的社会民意只能由非网络手段获取
D. 要强化对网络社交平台的管控与引导

20.有时原诗韵脚紧凑得令人喘不过气，有时又松弛的相隔数行才遥遥呼应：诗句重音有力，节奏明快——恰如其分地烘托出妖精进攻之剧烈、小女孩莉齐反抗之坚定。精巧的韵律架构，支撑起生动的叙事、奇巧的比喻，意韵配合，堪称完美。无怪乎差不多所有评论者都同意，克里斯蒂娜诗歌成就高下容可争论，但在语言技巧上，她是无可匹敌的。契合这段文字的关键



词是

- A. 语言技巧韵脚意韵配合 B. 诗歌成就韵脚比喻奇巧
C. 语言技巧韵律架构意韵配合 D. 诗歌成就韵律架构叙事生动

21. “根据宇宙大爆炸理论，大爆炸产生 3 种类型的物质，一种是我们目前肉眼看到的正物质，一种是反物质，还有一种是看不见、摸不着的暗物质。”专家认为，暗物质的发现将改变人们对宇宙构成的认识，是进一步论证宇宙起源、揭露宇宙奥秘的重要因素；同时，也是人类认识自我和世界的重要途径。对这段文字的正确概括是

- A. 暗物质的发现是人类认识宇宙和认识自我的基本前提
B. 暗物质的发现是人类认识宇宙和认识自我的必要条件
C. 暗物质的发现是人类认识宇宙和认识自我的重要契机
D. 暗物质的发现是人类认识宇宙和认识自我的重大步骤

22. 过分突出社会的过错和善事的难得，很像是在鼓励一种抱怨的态度，甚者会引起恶劣的社会反应。好的作家必须意识到，即便他发出谴责之声，“背后也有一种建设性的、善的支撑。他的作品参与形成的舆论氛围产生了可观的压力，使整个社会同感改革的紧迫性”。下列不符合这段文字原意的是

- A. 作品中的谴责之声与善意支撑并不矛盾
B. 建设性建议的加入可以产生良性推动力
C. 善的支撑可以适度缓解谴责之声的负面影响
D. 好的作家会避免在作品中直接谈论社会过错

23. 由动物携带或引发的各类疾病，在全球范围内造成了严重影响。比较常见的家养动物，如狗，多数不是自然死亡，而是死于犬瘟及细小病毒、腺病毒感染等疾病；而病死的猫则大多数死于猫瘟，且多数猫携带绦虫、跳蚤等寄生虫。如果宠物尸体掩埋不到位或乱扔，其身上携带的病毒极易传播开来，带来蔓延隐患。这段文字讨论的重点是

- A. 宠物身上携带的病毒极易传染开来
B. 动物的各类疾病造成了全球性影响
C. 亟待规范对动物尸体的无害化处理
D. 家养动物多死于瘟疫而非自然死亡

24. 如何区分科学与伪科学？一个残酷的现实是两者之间的界限有时是模糊的。在发展迅速的生命科学、人工智能等领域，今天的发现可能就会颠覆昨天的定论。更让人头痛的是，当科学知识被撕裂、混杂再拼凑到一起时，哪怕是专业人士也很难即刻辨析真伪，更不用说是被专业术语一下子搞晕的入门级人士了。这段文字最恰当的概括是

- A. 普通人士要想辨别科学与伪科学是十分困难的
B. 专业人士也很难在短时间内辨清科学与伪科学
C. 现实生活中科学和伪科学往往彼此纠缠难以分辨
D. 科学与伪科学在现实生活中基本上是难以辨别的

25. 中国社会正在走向工业化和现代化，人们饮食生活方式的转变不可避免，其中最为核心的就是人与食物之间关系的变动。从熟悉的食物到陌生的商品，从自然地馈赠到工业的生产，从自给自足到仰给于人，这些转变的过程使得人类对食物以及饮食生活有了与以往截然不同的认识。

这段文字主要说明的是

- A. 人们饮食生活方式发生了很大变化
B. 人们对食物的认识与以往截然不同
C. 人们的食物主要来自工业生产
D. 人们的食物无法依靠自给自足

26. ①机动车尾气大量排放

②空气质量得到改善，天又变蓝了

③空气严重污染，雾霾不断出现

④城市机动车保有量持续增加

⑤管理部门对机动车实行限号出行下列对上述 5 个事件排序最合理的是

- A、④-②-①-③-⑤ B、⑤-②-③-④-①
C、⑤-③-①-④-② D、④-①-③-⑤-②

27. ①小李到高铁车站取了票

②小李乘上了去北京的高铁

③小李在网上订了一张周末去北京的高铁票



④单位领导吩咐小李周末去北京出差

小李打电话给朋友取消周末的约会下列对上述 5 个事件排序最合理的是

- A、④-③-②-①-⑤ B、④-⑤-②-③-①
C、④-③-⑤-①-② D、③-⑤-④-①-②

28. ①服药无效，家属告状

②身患重病，借款购药

③企业胜诉，报社致歉

④药品鉴定，真伪分明

⑤记者撰文，药厂被黑下列对上述 5 个事件排序最合理的是

- A、②-①-⑤-③-④ B、⑤-②-①-④-③
C、②-①-⑤-④-③ D、⑤-④-②-①-③

29. ①斯本塞习惯地把手伸进口袋，想摸出巧克力充饥，不想巧克力已经融化

②斯本塞设想巧克力的融化是由微波炉产生的热引起的

③斯本塞用玉米和鸡蛋放在磁控管边上，结果玉米和鸡蛋都熟了

④斯本塞发明第一台用微波加热食物的炉子—微波炉

⑤斯本塞像往常一样在实验室研究磁控管，忽然感到肚子饿了下列对上述 5 个事件排序最合理的是

- A、③-④-②-⑤-① B、①-②-⑤-④-③
C、②-⑤-①-③-④ D、⑤-①-②-③-④

30. ①工作有条不紊

②有些事务忘记处理

③按照紧急程度对需处理事务进行排序

④建立记事本

⑤年终事务繁多下列对上述 5 个事件排序最合理的是

- A、①-④-③-⑤-② B、⑤-②-④-③-①
C、②-③-①-④-⑤ D、③-⑤-①-④-②

下列选项中填入括号内最符合该数列排列规律的是

31. 9, 11, 14, 19, 26, ()

- A、33 B、35 C、37 D、39

32. 4, 3, 8, 6, 12, 12, 16, 24, 20, 48, ()

- A、24.72 B、32.96 C、32.64 D、24.96

33. A、32 B、48 C、64 D、72

下列词或词组关系与上述词或词组关系最为相似的一项是

34. 面粉：面包

- A、奶牛：奶粉 B、楼面：楼房
C、铁矿：铁路 D、石头：石桥

35. 教师：教学

- A、商人：商量 B、农民：农活
C、作家：作文 D、工人：工作

36. 鸟巢：北京：体育馆

- A、白宫：华盛顿：皇宫 B、夫子庙：南京：寺庙
C、金字塔：开罗：陵墓 D、迪士尼：香港：玩具

37. 信用卡之于 () 相当于身份证之于 ()

- A、虚拟——真实 B、卡片——证书
C、金钱——信息 D、支付——证明

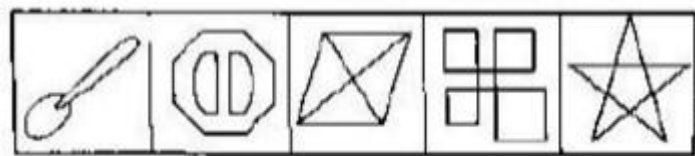
38. 自驾游之于 () 相当于广场舞之于 ()

- A、健身——娱乐 B、汽车——广场
C、导航仪——音乐 D、男性——女性

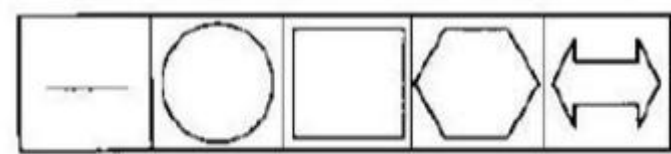
39. 下列右边第四个图形中更能保持左边五个图形变化规律的是



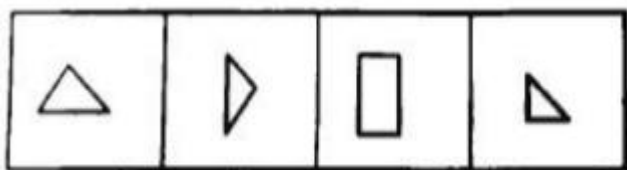
A	B	C	D
1	1	1	1
2	2	2	2
3	3	3	3
4	4	4	4
5	5	5	5
6	6	6	6
7	7	7	7
8	8	8	8
9	9	9	9
10	10	10	10
11	11	11	11
12	12	12	12
13	13	13	13
14	14	14	14
15	15	15	15
16	16	16	16
17	17	17	17
18	18	18	18
19	19	19	19
20	20	20	20
21	21	21	21
22	22	22	22
23	23	23	23
24	24	24	24
25	25	25	25
26	26	26	26
27	27	27	27
28	28	28	28
29	29	29	29
30	30	30	30
31	31	31	31
32	32	32	32
33	33	33	33
34	34	34	34
35	35	35	35
36	36	36	36
37	37	37	37
38	38	38	38
39	39	39	39
40	40	40	40
41	41	41	41
42	42	42	42
43	43	43	43
44	44	44	44
45	45	45	45
46	46	46	46
47	47	47	47
48	48	48	48
49	49	49	49
50	50	50	50
51	51	51	51
52	52	52	52
53	53	53	53
54	54	54	54
55	55	55	55
56	56	56	56
57	57	57	57
58	58	58	58
59	59	59	59
60	60	60	60
61	61	61	61
62	62	62	62
63	63	63	63
64	64	64	64
65	65	65	65
66	66	66	66
67	67	67	67
68	68	68	68
69	69	69	69
70	70	70	70
71	71	71	71
72	72	72	72
73	73	73	73
74	74	74	74
75	75	75	75
76	76	76	76
77	77	77	77
78	78	78	78
79	79	79	79
80	80	80	80
81	81	81	81
82	82	82	82
83	83	83	83
84	84	84	84
85	85	85	85
86	86	86	86
87	87	87	87
88	88	88	88
89	89	89	89
90	90	90	90
91	91	91	91
92	92	92	92
93	93	93	93
94	94	94	94
95	95	95	95
96	96	96	96
97	97	97	97
98	98	98	98
99	99	99	99
100	100	100	100



A	B	C	D
---	---	---	---



A	B	C	D
1	2	3	4
5	6	7	8
9	10	11	12
13	14	15	16
17	18	19	20
21	22	23	24
25	26	27	28
29	30	31	32
33	34	35	36
37	38	39	40
41	42	43	44
45	46	47	48
49	50	51	52
53	54	55	56
57	58	59	60
61	62	63	64
65	66	67	68
69	70	71	72
73	74	75	76
77	78	79	80
81	82	83	84
85	86	87	88
89	90	91	92
93	94	95	96
97	98	99	100



A	B	C	D
1	2	3	4
5	6	7	8
9	10	11	12
13	14	15	16
17	18	19	20
21	22	23	24
25	26	27	28
29	30	31	32
33	34	35	36
37	38	39	40
41	42	43	44
45	46	47	48
49	50	51	52
53	54	55	56
57	58	59	60
61	62	63	64
65	66	67	68
69	70	71	72
73	74	75	76
77	78	79	80
81	82	83	84
85	86	87	88
89	90	91	92
93	94	95	96
97	98	99	100



A	B	C	D
---	---	---	---

A. 眉开眼笑

C. 垂头丧气

D. 反唇相讥

45. 中心对称：指图形的一种特征，即图形沿中心点旋转 180° 可与原图完全重合。假设这个定义是正确的、不容置疑的，



B.

C.

D.

46. 老龄产业：指由老年消费市场需求增长带动而形成的特色产业，它包括所有有关满足老年人特殊需求的商品生产、销售和服务等经济活动。

假设这个定义是正确的、不容置疑的，则下列属于老龄产业的是

A. “好再来”面馆在某地开了多年，口碑甚好，吃客盈门，到这面馆吃早餐已成为当地许多老朋友的生活习惯

B. 小王开网店专门经营男式服装，对老年服装的销售颇有心得，最近他卖的一批羽绒服特别受到一些男性老年朋友的喜爱



C. 汉唐街道最近有一家龙城养护中心开业了，虽然费用不低，但仍有不少缺乏生活自理能力或身边无人照顾陪伴的老年人报名入住

D. 由于自己及丈夫工作太忙，家务无从打理，方女士聘请一位住家保姆，除了洗衣做饭、打扫卫生外，还兼照顾自己年事已高的母亲

47. 互惠法则：指人们在交往过程中尽量采用相同或对等的方式回报他人的行为准则。假设这个定义是正确的，不容置疑的，则下列属于互惠法则的是

- A. 爱屋及乌 B. 同病相怜 C. 李代桃僵 D. 投桃报李

48. 有氧运动：指在氧气供应充分的情况下，有全身主要肌群共同参与的，持续半个小时以上的体育锻炼活动。

假设这个定义是正确的，不容置疑的，则下列属于有氧运动的是

- A. 小刘是一位自行车发烧友，一到周末他就会与骑行协会的几个朋友一道骑行 200 多公里，精神总是特别兴奋
B. 小王所在的大学每天清晨都要求大一学生到操场做广播体操，既能锻炼学生身体，又能培养他们早起的习惯
C. 长城俱乐部选手与长江俱乐部选手刚刚结束了一场激烈的拳击赛，虽然只打了几分钟，但长江俱乐部选手已是疲惫不堪
D. 老朱是一位资深核桃玩家，为了让心爱的核桃品相能好一些，他每天都是桃不离手，一把玩就是好几个小时

49. 某市气象台发布了该市三区一县未来 24 小时的天气预报。已知 4 个区县未来 24 小时的天气只有晴、多云和小雨 3 种类型；蓝天区和白云县天气状况相同，而雨水区和谷雨区未来 24 小时无雨。

根据以上陈述，关于未来 24 小时的天气，可以推出

- A、蓝天区小雨 B、白云县多云
C、雨水区晴 D、谷雨区多云

50. 甲、乙、丙、丁、戊、己 6 人争夺一场比赛的冠军。张明、王刚和李伟对这场比赛的结果进行了预判：

张明：冠军不是甲，就是乙；

王刚：冠军或者是丙，或者是丁；李伟：丙、戊、己绝不可能是冠军。事后得知，只有一人的预判是正确的。

根据以上陈述，可以推出冠军是

- A. 甲 B. 乙 C. 丙 D. 丁

51. “杀人犯在作案时一定会在案发现场。”一位年轻警察在察看完现场后作出了这一断言。

以下哪项与上述警察的断言相结合能够构成合乎逻辑的推理？

- A. 张某不是杀人犯，所以，案发时张某一定不在案发现场
B. 王某是杀人犯，但他只幕后策划，并未去案发现场作案
C. 李某案发时在案发现场，所以，李某一定是杀人犯
D. 赵某案发时不在案发现场，所以赵某不是杀人犯

52. 某研究人员通过对 100 名管理者和 100 名非管理者进行心理分析后发现，管理者在遇到重大突发事件时往往表现得更加冷静。该研究人员由此认为，遇事冷静的人更容易成为管理者。

以下各项如果为真，最能反驳该研究人员观点的是

- A. 非管理者遇到重大突发事件往往表现不够冷静
B. 许多人成为管理者之后学会了遇事要更加冷静
C. 不能冷静处理重大突发事件的管理者将遭淘汰
D. 遇事不够冷静的人往往伴有其他人格上的缺陷

53. 曾经有许多人认为，暴饮暴食是肥胖的原因，但是一项新的调查研究否定了这种看法。研究者发现，无所事事才是肥胖的根本原因。以下各项如果为真，最能支持上述新发现的是

- A. 无所事事者常常暴饮暴食
B. 有些工作紧张的人也常常暴饮暴食
C. 有些肥胖的人整天无所事事
D. 有些无所事事的人即时没有暴饮暴食也很肥胖

54. 在许多农村，猫头鹰被认为是一种可怕的动物。某动物保护组织宣称，猫头鹰其实没有什么可怕的，它之所有被认为是一种可怕的动物，主要是因为它有一双在夜间睁得大大的眼睛。

以下各项如果为真，最能质疑该组织观点的是

- A. 狐狸的眼睛在夜间并不大，但是人们也认为它是一种可怕的动物
B. 猫的眼睛在夜间也睁得很大，但是人们还是非常喜欢猫
C. 人们不了解猫头鹰在夜间捕食大量害虫
D. 猫头鹰不太在白天活动，它的眼睛白天也睁得很

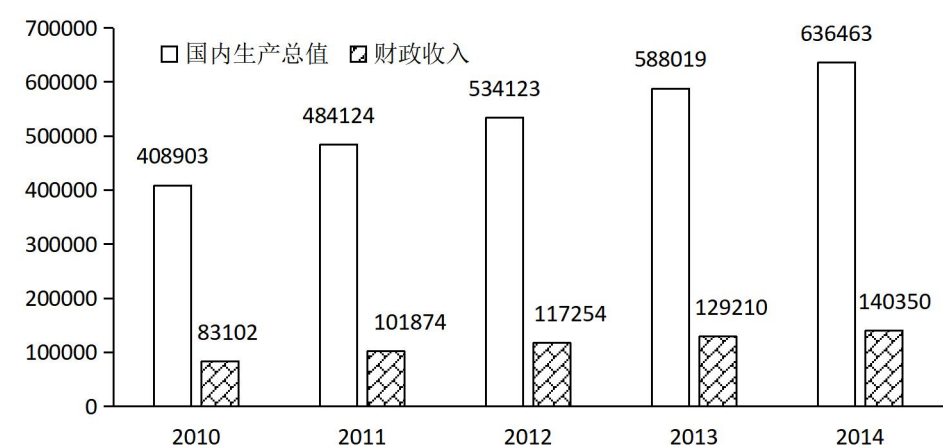
55. 甲、乙、丙是住在同一城市但分住不同小区的好友。在一次聚会时，他们三人都谈到电梯安全问题：

- 甲：我们城市所有楼宇里的电梯都必然进行了定期检修；
乙：我们小区有些高楼里的电梯可能并没有进行定期检修；
丙：如果实行电梯定期检修制度，就能确保电梯运行安全。
现在知道，上述三人中只有一人说对了，据此，可以推出
- A. 三人所在的城市所有楼宇里的电梯都必然进行了定期检测
B. 乙所在小区有些高楼里的电梯可能并没有进行定期检测
C. 即使实行电梯定期检测制度，也不能确保电梯运行安全
D. 如果不能确保电梯运行安全，就不实行电梯定期检测制度

根据所给资料回答 56-60 题：

2010-2014 年我国国内生产总值、财政收入见下图。2015 年 1-6 月我国财政收入分别为 16203 亿元、9513 亿元、10691 亿元、13502 亿元、14356 亿元、15335 亿元，同比分别增长 5.0%、0.3%、5.8%、8.2%、5.0%和 13.9%。2010-2014 年我国研究与试验发展经费支出分别为 7063 亿元、8687 亿元、10298 亿元、11847 亿元和 13312 亿元，分别比上年增长 21.7%、23.0%、18.5%、15.0%和 12.4%。

2010-2014年我国国内生产总值和财政收入



56. 2010-2014 年我国财政收入占国内生产总值比重超过 20% 的年份个数有
A. 2 个 B. 3 个 C. 4 个 D. 5 个
57. 2011-2014 年我国研究与试验发展经费支出的年平均增量是
A. 1156 亿元 B. 1363 亿元 C. 1541 亿元 D. 1562 亿元
58. 2015 年 2-6 月我国财政收入环比增速最快的月份是
A. 3 月 B. 4 月 C. 5 月 D. 6 月
59. 将 2011-2014 年我国研究与试验发展经费支出、财政收入和国内生产总值的年平均增长速度分别记为 V_r 、 V_f 、 V_g ，下列选项正确的是
A. $V_g < V_f < V_r$ B. $V_r < V_g < V_f$ C. $V_r < V_f < V_g$ D. $V_f < V_r < V_g$
60. 下列说法正确的是
A. 2011-2014 年我国研究与试验发展经费支出占当年财政收入的比重逐年提高
B. 2011-2014 年我国国内生产总值比上年增长最多的年份是 2014 年
C. 2014 年 5 月我国财政收入与 2014 年 1 月的差距小于 1847 亿元
D. 2011-2014 年我国财政收入的年平均增速是 20.2%

第二部分 专业知识和专业能力

一、单选题（每题 0.5 分，共 10 题，合计 5 分）

61、我国目前实行银行、证券、保险分业监管的体制。这样做的原因是

- A 世界上主要国家都实行分业监管
- B 银行、证券、保险不能混业经营
- C 金融发展的模式主要由政府主导
- D 发展中国家金融监管能力不强

62、市场经济中资金借贷或金融交易可以借助一定的工具，下列属于投资类金融工具的是

- A 股票
- B 支票
- C 保险合约
- D 商业票据

63、资源税的从量计征即以矿产企业的产品产量征收，从价计征即以矿产企业的产品销售额征收，将资源税的从量计征改为从价计征的积极意义是

- A 能够确保国家税收收入实现稳定增长
- B 有效的反映矿产企业的生产经营状况
- C 在价格波动时保证矿产企业产量稳定
- D 保护矿产资源的储存和开采实现平衡

64、2015 年年末，某企业流动资产为 200 万元，存货 30 万元，负债总额 100 万元，若不考虑其他核算项目，则该企业 2015 年末流动资产总额为

- A 100 万元
- B 130 万元
- C 170 万元
- D 230 万元

65、企业发生的下列支出应计入财务费用的是

- A 材料价款
- B 广告费
- C 排污费
- D 现金折扣

66、小李购入某两年期债券 10000 元，一年后欲将该债券以 11000 元卖出，但一直未果，由此引发的债券投资风险是

- A 违约风险
- B 通货膨胀风险
- C 流动性风险
- D 利率风险

67、注册会计师小张在某公司进行财务审计时，发现一笔 20 万元的“应收账款”截止

日期有疑点，为了核实截止日期的正确性，下列不属于小张考虑的是

- A 获得的审计证据应与截止期认定相关
- B 用外部审计证据核实 20 万元的合理性
- C 特定的审计方法与应收账款认定的关系
- D 用亲历审计证据核实 20 万元的截止日期

68、注册会计师对某集团公司进行重大错误评估时，下列最容易发生错误风险的是

- A 集团公司复杂的会计计量
- B 持续经营的流动资金充足
- C 健全的集团内部控制制度
- D 管理良好的职业基础

69、《行政事业单位内部控制基本规范》2014 年 1 月 1 日实施后，某事业单位按照该规范进一步完善内控制度不属于内部控制要求的是

- A 会计出纳人员的定期轮岗
- B 内审人员对会计控制制度实施风险评估
- C 会计出纳不相容职务分离
- D 内审人员参与重要财务事项

70、某大一学生第一学期修完五门课程的成绩分别为：2 学分课程 90 分，3 学分课程 90 分、93 分、87 分，4 学分课程 75 分。这位同学该学期的学分绩点是

- A、3.2
- B、3.6
- C、3.8
- D、4.1

二、多选题（每题 1 分，共 5 分）

71、商品的价格往往会围绕价值出现一定的波动，下列属于正常波动的有

- A、高铁商务座的价格比二等座的价格高出 3 倍左右
- B、商业银行的存款利率可根据客户存款的金额浮动
- C、菜场里蔬菜和水产品的早市价格高于晚市的价格
- D、“三八”期间康乃馨和玫瑰的价格比平时高一些

72、共享发展意味着要让全体人民共同分享经济增长和社会发展的成果。下列属于共享发展的有

- A、国家出台精准扶贫的一系列政策措施
- B、国务院和政府部门多次进行机构精简
- C、提高农村高中阶段的国家助学金水平
- D、增强对外重要出口产品的国际竞争力

- 73、分配企业管理人员工资费用时，编制会计分录的借方科目名称有
A、生产成本 B、管理费用 C、研发支出 D、销售费用
- 74、国家审计、内部审计、注册会计师审计均是不断适应环境而发展起来的，这里所说的环境包括
A、法律环境 B、文化环境 C、政治环境 D、经济环境
- 75、回归分析中，可决系数 R^2 和调整的可决系数是评价拟合效果的重要指标，下列关于 R^2 和的表述正确的有
A、 R^2 是回归平方和与残差平方和的比值
B、 R^2 是回归平方和占总平方和的比值
C、对于多元模型，比 R^2 更有效
D、 $R^2 \in [0, 1]$ ， $>R^2$

三、简答题（每题 10 分，共 20 分）

- 1、根据国民经济运行状况，2016 年中央政府预算增加了财政赤字规模，请简要阐述财政赤字对我国经济的影响。
- 2、从经济学的角度，请说明农产品产量经常出现“大小年”现象的主要原因。

四、综合分析题（2 小题，每小题 20 分，共 40 分）阅读下列材料，根据要求回答问题

1、光伏产业作为新能源领域的主要发展项目，一直受到世界各国的重视，光伏产品的品种经常创新，质量也不断提升。我国的光伏产业从 2006 年考试快速发展，借助于从国外进口多晶硅提纯等核心技术、生产欧美发达国家大量需要的家用光伏日常产品，越来越多的企业竞相进入市场，很快就成为全球太阳能电池（板）生产的第一大国，其中接近 90%的产品出口欧洲。但是，随着国际市场对光伏产品需求的饱和，过去鼓励进口光伏产品的大部分欧洲国家相继减少甚至取消补贴，尤其是美国和欧盟先后宣布对中国出口的太阳能电池（板）启动反倾销和反补贴的调查，曾经发展蓬勃的中国光伏产业面临严酷的寒冬，产能严重过剩，产品难以进入发达国家的高端市场，出口由于贸易壁垒而量价齐跌。

- (1) 分析我国光伏产业发展面临寒冬的原因
- (2) 在经济新常态下怎样促进我国战略性新兴产业的创新发展。

2. 某股份制公司为增值税一般纳税人，2015 年全年实现税后净利润 3000 万元，其中部分经济业务如下：

- 8 月购入一批原材料用于生产，由于该批原材料价格较低，公司将存贷发出的计价方法由月末一次加权平均法改为先进先出法，后期又做出调整，
- 9 月，销售产品 20 万元，贷款未付，以应收账款确认销售收入，并将售出产品可能发生的保修义务确认为预计负债。
- 10 月融资租入一台设备，将其视为公司资产入账，并计提资产减值准备。
- 11 月，购入某联营企业 30%的股权，支付价款 300 万元，采用成本法核算。资产负债表日，公司将存贷按成本与可变现净值较低进行计量。

2016 年初，公司拟对某项目进行投资，预计投资额为 4000 万元，为了降低资金成本，公司将往年的固定股利支付率股利政策调整为剩余股利政策，并将公司目标资本结构确定为：负债资本 30%，股东权益资本 70%

- (1) 上述经济业务中哪些会计处理符合谨慎性要求？
- (2) 请分析比较公司股利政策调整对 2015 年股利分配的影响。

五、实务题（20 分）

2016 年 3 月，审计人员对甲公司进行审计。甲公司主要从事小型家用电器生产和销售。根据企业发展战略，该公司将 2015 年销售目标定位为销售额比上年增长 20%，并将销售模式由代销改为经销，启用新财务信息系统。甲公司未经审计的 2015 年报表部分项目如下：

报表部分项目列表（单位：万元）

项目	2015 年初	本年增加	本年减少	2015 年末
资产总额	25000	5000		30000
实收资本	12000	1000		13000
资本公积	7500	500		8000
应收账款	300	1500		4500
营业收入	6400	1200		7600
未分配利润	4600		600	4000
利润总额	3500		500	3000

审计发现下列事项：

- (1) 甲公司采取的经销方式是：给予经销商最长 3 个月赊账，经销商于合同约定日付



款，由于 2015 年经营形式不容乐观，甲公司放宽了授信额度来增加销售收入，并延长赊账期限至 6 个月

（2）公司老会计在新系统操作初期，往往临时找其他会计人员帮助。

（3）2015 年 12 月的一笔销售收入 300 万元，甲公司已按规定于年底入账，但该批产品 2016 年 2 月被退回。会计人员未进行相关调整，审计人员要求调整被拒绝。

1. 指出报表及管理层认定可能存在的问题。
2. 针对上述材料，请确定审计报告的类型并列出导致意见类型的事项。

参考答案

1. 【答案】A

【解析】4月1日，第四届核安全峰会在美国首都华盛顿举行。峰会以“加强国际核安全体系”为主题。国家主席习近平出席并发表题为《加强国际核安全体系，推进全球核安全治理》的重要讲话，围绕构建公平、合作、共赢的国际核安全体系，全面阐述中国政策主张，介绍中国在核安全领域取得的新进展，宣布中国加强本国核安全并积极推进国际合作的举措。

2. 【答案】D

【解析】十八届五中全会强调，创新、协调、绿色、开放、共享的发展理念。A属于绿色发展，B属于共享发展，C属于开放发展。只有D正确。

3. 【答案】C

【解析】“粗缯大布裹生涯，腹有诗书气自华”出自宋朝诗人苏轼的古诗作品《和董传留别》之中，其意思是：我虽然身穿简陋的土布，用粗丝绑发，却满腹诗书，自然气质高华。体现的哲理是内因是根本原因，决定了外因。

4. 【答案】D

【解析】2016年3月4日下午，中共中央总书记、国家主席、中央军委主席习近平看望出席全国政协十二届四次会议民建、工商联界委员并参加联组讨论。习近平就构建新型政商关系作了阐述，他指出，新型政商关系，概括起来就是“亲”、“清”两个字。政府与企业家的关系既相互依存，又职责各异，应当有底线、有距离。构建新型政商关系，需要双方厘清边界、各司其职和相向而行的鼎力协作。因此，D正确。

5. 【答案】C

【解析】经济职能是指政府为国家经济的发展，对社会经济生活进行管理的职能。
我国政府主要有三大经济职能：①提供经济调节的职能。即宏观调控职能，政府通过制定和运用财政税收政策和货币政策，对整个国民经济运行进行间接的、宏观的调控。②提供公共产品和服务职能。政府通过政府管理、制定产业政策、计划指导、就业规划等方式对整个国民经济实行间接控制；同时，还要发挥社会中介组织和企业的力量，与政府一道共同承担提供公共产品的任务。③市场监管职能。即政府为确保市场运行畅通、保证公平竞争和公平交易、维护企业合法权益而对企业和市场所进行的管理和监督。C属于政治职能。

6. 【答案】A

【解析】A属于司法调解。BCD属于社会矛盾调解机制。

7. 【答案】B

【解析】公共服务，是21世纪公共行政和政府改革核心理念，包括加强城乡公共设施建设，发展教育、科技、文化、卫生、体育等公共事业，为社会公众参与社会经济、政治、文化活动等提供保障。公共服务以合作为基础，包括加强城乡公共设施建设，强调政府的服务性，强调公民的权利。ACD都属于赢利性质。

8. 【答案】C

【解析】法律的社会作用就是调整社会关系的，但并不是能够调整所有的社会关系！而是调整法律化的社会关系，即法律关系。法律关系就是法律主体之间由于作为或者不作为而产生的利益分配、冲突。因此实体法中的每一条律条，都是调整某一个法律关系，也就是调整某方面的社会关系。

9. 【答案】C

【解析】环境公益诉讼即有关环境保护方面的公益性诉讼，是指由于自然人、法人、或其他组织的违法行为或不作为，使环境公共利益遭受侵害或即将遭受侵害时，法律允许其他的法人、自然人或社会团体为维护公共利益而向人民法院提起的诉讼。

10. 【答案】B

【解析】《医疗事故处理条例》中规定有下列情形之一的，不属于医疗事故：（一）在紧急情况下为抢救垂危患者生命而采取紧急医学措施造成不良后果的；（二）在医疗活动中由于患者病情异常或者患者体质特殊而发生医疗意外的；（三）在现有医学科学技术条件下，发生无法预料或者不能防范的不良后果的；（四）无过错输血感染造成不良后果的；（五）因患方原因延误诊疗导致不良后果的；（六）因不可抗力造成不良后果的。因此，B的说法太绝对了。

11. 【答案】C

【解析】内需消费增长包括消费能力和消费需求的增长。AB属于消费能力增长，D属于消费需求增长。C的说法太绝对。

12. 【答案】A

【解析】青花瓷又称白地青花瓷，常简称青花，中华陶瓷烧制工艺的珍品。是中国瓷器的主流品种之一，属釉下彩瓷。青花瓷是用含氧化钴的钴矿为原料，在陶瓷坯体上描绘纹饰，再罩上一层透明釉，经高温还原焰一次烧成。钴料烧成后呈蓝色，具有着色力强、发色鲜艳、烧成率高、呈色稳定的特点。原始青花瓷于唐宋已见端倪，成熟的青花瓷则出现在元代景德镇的湖田窑。明代青花成为瓷器的主流。清康熙时发展到了顶峰。所以汉代不会出现青花瓷。因此，该题选A。秘色瓷碗是唐朝时期



1987年陕西省扶风县法门寺塔地宫出土。中国织锦工艺，历史悠久，文化底蕴深厚。周代丝织物中出现织锦，花纹五色灿烂，技艺臻于成熟。汉代设有织室、锦署，专门织造织锦，供宫廷享用，出现了中国四大名锦：壮锦、云锦、蜀锦、宋锦。唐代贞观年间窦师伦的对雉、斗羊、翔凤等蜀锦图案，称为陵阳公样。宣德炉，为明朝宣德年间创制的焚香之炉，通常用于陵墓、寺庙及权势之家烧香，拜佛、祭祖神。

13. 【答案】D.

【解析】社交媒体(SocialMedia)指互联网上基于用户关系的内容生产与交换平台。社交媒体是人们彼此之间用来分享意见、见解、经验和观点的工具和平台，现阶段主要包括社交网站、微博、微信、博客、论坛、播客等等。AB正确。微博(Weibo)，即微型博客(MicroBlog)的简称，也即是博客的一种，是一种通过关注机制分享简短实时信息的广播式的社交网络平台。C正确。社交媒体的产生依赖的是WEB2.0的发展。因此，D错误。

14. 【答案】B

【解析】视而不见，指不重视或有意识地不去注意；听而不闻，形容漠不关心。两个词意思相近，都表现出某种主观性态度，显然不能用在藏羚羊身上。不乱方寸，指遇到特殊紧急情况时能够从容镇定，公路离藏羚羊群体有一段距离，而且每天都有车流，不能称其为“特殊”“紧急”，所以答案只能选不为所动，意为不被吸引、不因打扰而改变原有的情态。因此答案选B。

15. 【答案】B

【解析】第一空填一个动词，之后的宾语是状态和运行，能同时搭配的最佳选项是维持。第二空承载着意象，也比较合适。考查动宾词语搭配。因此答案选B。

16. 【答案】C

【解析】首先可以通过第二空搭配汗水，排除掉AB，继续结合语境比较CD。许多人过着舒适的生活，而军人的生活不舒适，很苦，这个词没有问题。如果填入安稳，意为军人的生活、军人的职业不是安稳的，这种说法不太准确。第二空挥洒汗水，搭配也最为合适。因此答案选C。

17. 【答案】A

【解析】第一空，“巧妙精致”可以形容结构或者框架，不能搭配篇幅和轮廓。第二空通过后面的关键提示词“从容”可知，应选游刃有余。语境中没有表现出“淋漓尽致”的意思，而且和“笔调”搭配不当。因此答案选A。

18. 【答案】D

【解析】三个词的感情意义明显不同。可怕指让人害怕的是，我们害怕自己的民族没有文化；可悲指悲伤、伤心，有文化不去弘扬是让人难过、伤心的；可耻则是事情有极端倾向，违背了道德、被众人所反对，践踏自己的文化应该是一种羞耻。因此答案选择D。

19. 【答案】A

【解析】分析文段三句话以及相互的关系。第一句解释“羊群效应”，就是指从众、不独立。第二句转折说出重点问题：网络上看似是民意的自由表达，其实有大量的盲从。第三句紧接着继续说这些所谓的“网络民意”，可能是不法分子利用从众心理造成的，不是民众真正的民意。可见，文段论述的关键词应该是“网络民意”。主要问题就是有人利用了“羊群效应”制造出“网络民意”，这可能是不法的，是恶意的，是虚假的，是不自由的民意。所以符合这一解释的选项就是A。B项要避免羊群效应，很明显从众是无法避免。C项表述显然不对，D项讨论的是“平台”与文段不符合。

20. 【答案】C

【解析】文段第一句话说明了韵脚与节奏，第二句话说明韵律架构很完美，第三句话总结说明语言技巧无可匹敌，文段围绕核心的关键词是语言技巧，排除BD，比较AC，韵脚韵脚、重音、节奏，都概括在韵律架构里，所以关键词是韵律架构。因此答案选C。

21. 【答案】C

【解析】第一句说明大爆炸理论的三种物质，第二句专家提出观点，暗物质将改变人类认识、认识宇宙重要因素，同时也是重要途径，句子之间属于并列关系说明暗物质对人类认识宇宙和认识自我有重要作用，A项认识的“基本前提”、B项认识的“必要条件”、D项认识的“重大步骤”都没有体现。因此答案选C。

22. 【答案】D

【解析】细节理解题。A项表达正确，“即便发出谴责，背后也有善意支撑”，即二者不矛盾；B项表达正确，通过最后一句可以看出；C项意思相近，也正确；文中并非要避免谈论过错，故答案选择D。

23. 【答案】B

【解析】第一句提出观点动物携带或引发的各类疾病会带来重大影响。第二句举养动物为例说明说致死是疾病传播带来的影响，第三句举宠物尸体的例子说明对尸体没处理好会让疾病传播蔓延。二三句都在证明第一句动物的疾病会带来重大影响。因此答案选B。



24. 【答案】C

【解析】开头提出设问，即文段要讨论的主题即区分科学与伪科学。紧接着给出回

答，二者有时是模糊的。之后的论述为这一观点做解释。C项是其同义替换。D项中的“基本上”过于绝对，不符合文意。因此答案选C。

25. 【答案】B

【解析】第一句提出最核心的是人与食物的关系变动，第二句进一步说明人和食物之间关系的变化，使得人们对食物有人不同的认识。因此答案选B。

26. 【答案】D

27. 【答案】C

28. 【答案】C

29. 【答案】D

30. 【答案】B

31. 【答案】C

【解析】做差数列。做差一次，得2、3、5、7、(11)，为质数数列，下一项为26+11=37。

32. 【答案】D.

【解析】机械分组。整数部分为等差数列，小数部分为等比数列。

33. 【答案】B.

【解析】做商数列。

34. 【答案】D.

【解析】面粉是面包的原材料，石头是石桥的原材料。

35. 【答案】D

【解析】教师的主要任务是教学，工人的主要任务是工作，农民是做农活，而不是农活，作家的主要任务是写作，而非作文，故选择D。

36. 【答案】C

【解析】题干的逻辑关系鸟巢在北京，鸟巢是体育馆。C项金字塔在开罗，金字塔是陵墓，与题干逻辑关系一致。而选项A 白宫不是皇宫，B项夫子庙不是寺庙，D 迪士尼不止在香港有，而且迪士尼不是玩具。所以本题选择C选项。

37. 【答案】D

【解析】A项信用卡虚拟的金钱，那身份证也是虚拟的身份象征，所以A不对。B项，信用卡是卡片的一种，但是身份证是证件的一种，而不是证书，所以不符合。C项信用卡对于金钱，身份证对应身份信息，所以不适合。D项信用卡用作支付，身份证用作证明。所以选择D项。

38. 【答案】C

【解析】广场舞是娱乐方式的一种，但是自驾游不是健身方式。B项自驾游需要汽车作为工具，但是广场舞在广场，但是广场不是工具。C自驾游需要导航仪，广场舞需要音乐。D项跳广场舞的大都是大龄女性，但是不能说自驾游的是大龄男性。

39. 【答案】D

【解析】题干每幅图都是一个人骑自行车，B是摩托车，所以排除B项，题干每幅图都是在骑行，而C不符合。而题干中的骑行都是直行，而A在绕行，排除。所以选择D选项。

40. 【答案】A

【解析】本题考察图形的面的数量，题干图形的面的个数分别是2，3，4，5，6，延续这一个规律，选一个7个面的图形，所以选择A选项。

41. 【答案】B

【解析】本题考察图形的对称性，题干中的每幅图形都由竖直和一条水平的对称轴，符合的只有B选项。

42. 【答案】答案：C

【解析】1 拼接到2的右下方，4拼接到3的上方，拼接之后的图形共同组成C。

43. 【答案】B

44. 【答案】B

【解析】定义的关键词是“情绪状态相联系”“躯干或四肢的动作变化”，只有B项手舞足蹈符合。ACD项没有躯干或四肢的动作变化。

45. 【答案】A

【解析】定义的关键词是“沿中心点旋转180度可与原图重合。”只有A项符合。



46. 【答案】C

【解析】定义的关键词是“所有满足老年人特殊需求”“特色产业”，A 项面馆不是老年人的需求。B 项卖老年服装不是特色产业。D 项住家保姆主要职责是做法打扫卫生，只是兼顾老人，不符合，只有 C 项符合。

47. 【答案】D

【解析】定义的关键词是“相同或对等”、“回报他人”。D 项投桃报李的意思是他送给我桃，我以李子回赠他，符合定义。故选择 D 项。

48. 【答案】A

【解析】定义的关键词是“全身肌群共同参与”、“持续半小时以上”“体育锻炼活动”。

B 项广播体操无法体现是持续半小时以上的体育锻炼活动，C 项只有几分钟，D 项没有肌群共同参与，只有 A 项符合。

49. 【答案】A

【解析】题干中四个区县有三种天气类型，而雨水区和谷雨区 24 小时无雨，那说明可能是多云或晴这两种天气状况，但也无法确定到具体的每个区，蓝天和白云天气状况相同，说明这两个区只能都下雨，故选择 A 项。

50. 【答案】C

【解析】张明的话是要么甲，要么乙，有且只有一个上。王刚是丙或者丁，李伟是非丙且非戊且非己，因为只有一句是对的，排除代入，选择 C。

51. 【答案】D

【解析】杀人犯推出在现场，否后推出否前，不在现场能够推出不是杀人犯，所以选择 D。

52. 【答案】B

【解析】论点为遇事冷静的人容易成为管理者，A 选择为支持，B 为因果倒置，先成为管理者，才遇事冷静，是强削弱，可选。C 属于无关项，讲的是成为管理者之后的事。D 也为无关项。

53. 【答案】D

【解析】文中论点为并非是因为暴饮暴食，无所事事才是肥胖的根本原因，A 选项主要说明了无所事事和暴饮暴食的关系，不选择，B 选项与论点无关，C 选项是一种因果倒置，削弱论点。D 选项能够支持论点。

54. 【答案】B

【解析】论点为因为猫头鹰夜间眼睛睁得大大的，所以人们认为可怕。A 讲的是狐狸眼睛睁得不大，也被认为可怕，能起到削弱的作用，B 是夜里猫的眼睛大，也没有让人感到可怕，但 B 更强。C、D 与论点关。所以选项 B 选项。

55. 【答案】C

【解析】甲与乙为矛盾，所有的必然都做了和有的可能没做，所以必有一真必有一假，只有题中只有一个人是对的，所以丙说的为假，实行电梯检查制度推出确保安全的否命题是实行检查制度且不能确保安全，P 推出 Q 和 P 且非 Q 矛盾，所以 C 项最为符合

56. 【答案】D

【解析】2010-2014 年，我国财政收入占国内生产总值比重均超过 20%。

57. 【答案】D

【解析】2011-2014 年我国研究与试验发展经费支出的年平均增量是 $(13312-7063) \div 4 \approx 1562$ 。

58. 【答案】B

【解析】比较环比增速，只要比较现期和基期的比值即可，最大为 4 月。

59. 【答案】A

【解析】比较年平均增长速度，只要比较现期和基期的比值即可， $V_r = 13312/7063 = 1.9$ ， $V_f = 140350/83102 = 1.7$ ， $V_g = 636463/408903 = 1.6$ 。所以 $V_g < V_f < V_r$ 。

60. 【答案】C

【解析】A 项 2011 年比重下降，故错误；B 项，增长最多的年份是 2011 年，故错误；D 项年平均增速小于 20.2%，故错误。本题答案选 C。

第二部分

61. 【答案】D。解析：我国之前实行的混业经营与发达市场经济国家中的银行所实施的混业经营有重大的、原则性的区别，我国的混业经营实质上是一个锅里吃饭，决策还是领导说了算。在实践中，这种情况给金融业带来了一定程度的混乱。因此，我国在 1995 年颁布的《中华人民共和国商业银行法》中确立了严格的分业经营原则。

62. 【答案】A。解析：股票是股份有限公司发行的、用以证明投资者的股东身份和权益，并据以获得股息和红利的凭证。

63. 【答案】B。解析：资源税是指以各种应税自然资源为课税对象、为了调节资源级



差收入并体现国有资源有偿使用而征收的一种赋税，征收方式包括从量和从价两种。从量计征的方式即以矿产品产量来征收资源税，从价计征的方式是按照企业的销售额按比例征收税赋，其征收幅度随着企业效益和市场行情而波动，相对于从量计征的方式而言，更能够客观反映企业的经营状况。

64. 【答案】C。解析：流动资产可以分为速动资产和非速动资产。其中，常见的非速动资产为存货、预付账款等，常见的速动资产为货币资金、交易性金融资产、应收账款等。故本题速动资产总额为：200-30=170（万元）。

65. 【答案】D。解析：材料价款发生时计入存货的初始成本，广告费发生时计入销售费用，排污费发生时计入管理费用。财务费用核算的内容主要包括利息支出、汇兑损益以及相关手续费、企业发生的现金折扣等。

66. 【答案】C。解析：流动性风险是指商业银行无法及时获得或以合理成本获得充足资金，用于偿付到期债务、履行其他支付业务或满足正常业务开展需要的风险。

67. 【答案】B。解析：获取审计证据的目的是为了核实截止期的正确性，B选项考虑的不是应收账款的截止期。

68. 【答案】A。

69. 【答案】D。解析：建立与实施有效的内部控制，应当包括下列要素：内部环境、风险评估、控制活动、信息与沟通和内部监督。会计出纳人员的定期轮岗以及会计出纳不相容职务分离都是控制活动的具体表现；内审人员对会计控制实施风险评估是内部控制的必要构成。内审人员参与重要财务事项的决策，有违内控的要求。

70. 【答案】B。

71. 【答案】CD。解析：A和B属于不同的商品，不符合商品的价格围绕价值上下波动这个价值规律。

72. 【答案】AC。解析：B项属于创新发展理念，D项属于开放发展理念

73. 【答案】BC。解析：计提企业管理人员的工资费用，借记管理费用；计提研发人员工资费用时，借记研发支出。

74. 【答案】ACD。

75. 【答案】BC。解析：拟合优度是指回归直线对观测值的拟合程度。度量拟合优度的统计量是可决系数（亦称确定系数） R^2 。 R^2 的取值范围是[0, 1]。 R^2 的值越接近1，说明回归直线对观测值的拟合程度越好；反之， R^2 的值越接近0，说明回归直线对观测值的拟合程度越差。

可决系数 $R^2 = SSR / SST$ ，其中SSR为回归平方和，SST为总平方和。

可调整的可决系数 $= 1 - (1 - R^2) \left(\frac{n-1}{n-k-1} \right)$ 。

二者的区别：同时考虑了样本量（n）和模型中自变量的个数（k）的影响，这就使的值永远小于 R^2 ，而且的值不会由于模型中自变量个数的增加而越来越接近于1。因此，在多元回归分析中，通常用可调整的可决系数。

简答题

1. 财政赤字对经济的影响主要表现在三个方面：

第一，财政赤字与货币供给。

财政赤字对经济的影响和赤字规模大小有关，但更主要的还取决于赤字的弥补方式。向银行透支或借款来弥补财政赤字。出现财政赤字意味着财政收进的货币满足不了必需的开支，其中有一种弥补办法就是向银行借款。可见，财政向银行借款会增加中央银行的准备金从而增加基础货币，但财政借款是否会引起货币供给过度，则不是肯定的。在现代信用制度下，在发生财政向银行借款时，只要银行能控制住贷款总规模，就不会发生货币供给过量的问题。居民个人或企业包括商业银行购买公债，一般说只是购买力的转移或替代，不产生增加货币供给的效应。

居民或企业购买公债有两种不同情况：一是用现钞和活期存款购买；

另一种情况是用储蓄或定期存款购买。由中央银行认购公债。中央银行认购公债，在中央银行账户的资产方政府公债项增加，负债方的财政金库存款等额增加，而当财政用于支出时，则中央银行的财政金库存款减少，在商业银行贴户上居民和企业存款相应增加，从而商业银行的存款准备金也相应增加。商业银行有了超额储备，就可能用以扩大贷款规模，增加货币供给。

第二，财政赤字扩大总需求的效应。

财政赤字可以是作为新的需求叠加在原有总需求水平之上，使总需求扩张。另一种情况则是通过不同的弥补方式，财政赤字只是替代其他部门需求而构成总需求的一部分。20世纪80年代中期以来，还出现另一种说法，认为财政赤字是国民收入超分配的重要原因。首先对国民收入超分配这个概念有不同的理解，其实准确的理解只能是总需求大于总供给、货币供给量大于货币需求量，不过是需求过旺或通货膨胀的另一种说法。

第三，财政赤字与发行国债。

发行国债是世界各国弥补财政赤字的普遍做法而且被认为是一种最可靠的弥补途径。但是，债务作为弥补财政赤字的来源，会随着财政赤字的增长而增长。还有另一面，就是债务是要还本付息的，债务的增加也会反过来加大财政赤字。

2. 农产品大小年波动就是农产品价格周期性上涨或下跌，出现“上期粮食价格上涨—当期粮食产量提高，上期粮食价格下跌—当期粮食产量降低”现象，形成“粮食价格上涨—粮食产量提高—粮食价格下跌—粮食产量降低—粮食价格上涨—粮食产量降低”现象。



量再提高”的循环运动轨迹。

农产品价格波动的原因：

1. 从农产品供给与需求分析

农产品市场调节具有滞后性，当某一年欠收时，供给不足，价格上升，依据供给法则，价格上升，供给就会增加，第二年农民就会加大投入，于是供给量大量增加，而农产品需求量基本是不变的，于是供给和需求出现较大偏差，农产品价格下降，如此就形成了农产品价格大小年波动。

2. 从农产品供求弹性分析：

在一般情况下，价格波动的幅度取决于供求弹性的大小，供求弹性越低，价格波动越大，反之亦然。由于农产品供求弹性都较低，因而农产品价格波动的幅度必然相对较大，无论源于需求还是供给方的变化，都会使价格较大幅度波动，因此，农产品价格总体上呈现出不稳定的特征。并且粮食产量小幅度的波动会引起粮食价格大幅度的波动。因此，在农产品特定的供求格局下，其价格是不稳定的。

综合分析题

第 1 题

(1) 1. 产业链两头在外，受制于人。

太阳能光伏产业链自上而下依次为太阳能级硅材料、硅锭硅片、电池、组件、系统集成，最终作用于市场端，实现光伏发电。此外，还有一个外围环节，即光伏产业的设备制造和平衡部件的生产环节。光伏设备的技术质量直接关系到光伏产品的质量和成本。位于太阳能光伏产业链价值链上游的是晶体硅制备、切片环节，技术门槛最高、利润回报最大。2008 年全球多晶硅供应依然被美欧日七大传统厂商所垄断，其占据全球总产能的 78%和产量的 90%左右。位于太阳能光伏产业价值链下游的是光伏发电市场，主要市场分布在欧洲、美国和日本，我国光伏企业 90%以上产品依靠出口。受全球金融危机和欧债危机扩散的影响，2011 美等地纷纷下调光伏发电补贴政策，首当其冲受到影响的就是产业链中竞争最为激烈、技术门槛最低的组件和电池制造环节。我国光伏产业大都位于产业价值链中低端，中游的电池、组件制造环节，技术门槛较低，利润回报较少。尤其是组件环节，成本竞争最为激烈，企业的抗风险能力也最低。我国企业恰恰是集中在产业链中下游的电池、组件制造环节。我国光伏产业不仅长期面临原料在外、市场在外的问題，制造业的关键设备和技术也主要依靠进口，进口设备费用约占企业设备费用的 80%。由于发达国家技术管制，有些关键设备和技术引进还没有取得成功。

2. 竞争非理性，产业产能过剩。

新能源是我国七大战略性新兴产业之一，光伏产业又被视为新能源中最具发展前途的产业。2009 年《中华人民共和国可再生能源法》修正，出台了系列支持光伏产业发展的政策，相继推出“太阳能屋顶计划”、“金太阳示范工程”和“太阳能光电建筑应用示范工程”等。许多地方政府和企业对光伏市场产生了巨大的预期，一时间，光伏基地、光伏产业园遍地开花。

3. 技术创新力度不够，抗风险能力差。

以太阳能光伏技术为代表的新能源，已经从传统的晶硅电池发展到第二代薄膜电池。薄膜技术是晶硅之后的又一代技术，晶硅能干的事情薄膜都可以干，但是薄膜能干的事情晶硅不一定能干，而且薄膜电池的污染和能耗要大大小于晶硅，具有更大的成本优势。但目前我国薄膜的转化率只有 10%上下。我国光伏企业主要集中在传统的晶硅电池的生产和组装上，美国的“双反”也主要针对我国的晶硅电池，薄膜电池不在美国“双反”范围之列。可见企业缺乏核心技术，就存在受制于人的巨大风险。

4. 贸易保护主义蔓延。

美国对中国光伏产品实施“双反”调查，5 月 17 日，美商务部宣布对中国光伏电池及组件的反倾销税初裁结果，税率达 31.14%至 249.96%。而该反倾销税将会叠加在之前因为接受中国政府不公平补贴而征收的 4.73%的关税之上，是典型的贸易保护主义。在美国商务部公布对华太阳能初裁结果后，德国最大的太阳能组件制造商 SOLARWORLD 今年 7 月 25 日，已正式向欧盟委员会提出申请，要对中国太阳能制造商进行反倾销调查。如果德国对中国光伏企业进行“双反”调查，中国企业的损失将更严重。

(2) 1. 强政策，落实激励创新措施。针对战略性新兴产业人力资本、研发费用比例较高和产品发展初期进入市场难度较大的特征，结合税制改革方向，按新产品新增地方财政贡献给予一定比例扶持，专项用于企业创新投入和研发团队奖励。研究设立战略性新兴产业创业投资引导基金、科技保险综合创新服务，整合筹措更多资金，为产业创新加油助力。对投资额特别大、引领带动作用特别强的战略性新兴产业项目，可一事一议给予支持。

2. 抓创新，重点发展战略性新兴产业。按照创新驱动发展战略，依托现有优势产业集聚区，培育发展战略性新兴产业集群，提升科技创新基础能力和产业技术创新能力，强化产业链的关键环节合作，推进由单纯项目合作向联手制定标准、共同拓展国际市场延伸。把握生态经济、环保产业的战略机遇，引进、培育一批节能环保行业的优秀企业，发展特色优势产业，努力形成新的经济增长点。重视新一

代企业家创新精神的培养，保持创业激情，锐



意开拓创新，强化责任担当，切实打破小富即安、不思进取的“思维惯性”，提升企业层次和核心竞争力。争取到 2020 年，战略性新兴产业产值年均增长 15%。

3. 建平台，培育优势企业。推进中小企业孵化园、小微企业科创园等创新平台建设，培育一大批“小而精”的成长型企业，形成一批初具规模且科技创新能力突出、有影响力的产业集群，引领战略性新兴产业规模化发展。

4. 抢机遇，推进“两化”深度融合。以建设省级装备电子（软件）产业基地为契机，顺应“互联网+”的发展趋势，以信息化与工业化深度融合为主线，重点发展新一代信息技术、高档数控机床和机器人、先进轨道交通装备、新材料、生物医药等战略性新兴产业，促进科技与经济深度融合

启动“无线城市”建设，完善信息基础设施，全面建设两化

融合创新

服务体系，实现区域信息化指数、两化融合评估水平的全面提升。进一步发挥企业数据平

台作用，持续推进科技创新，加快产业转型升级，提高工艺水平和产品质量，推进智能制造、绿色制造，推动经济发展朝着有质量、有效益、可持续的方向阔步迈进。

5. 引人才，优化企业发展空间。需以创新人才政策为重点，围绕转型升级和战略新兴产业发展需要，积极引进各类海内外高层次人才，引进一批“带项目、带技术、带资金”的科技领军人物和创新团队。注重人才创新体系平台建设，择优引进高校院所和科研机构落户，发挥高技能创新人才的集聚作用。加强科技成果使用处置和收益管理改革，扩大股权和分红激励政策实施范围，完善科技成果转化、职务发明法律制度，使创新人才分享成果收益。加速推进技师学院的建设，争取与国内特色高等院校的合作，推进国家级高技能人才培训基地建设。进一步探究校企双向全程介入“2+1”人才培养模式，以增强学生创新能力和实践能力为重点，着重培养适应温岭产

业发展的、具有创新思维的应用型人才。

第 2 题

（1）②保修义务确认预计负债、③对融资租入设备计提减值准备⑤存货按成本与可变现净值孰低进行计量符合谨慎性要求。原因：①改变存货发出计价方法不符合谨慎性要求，原材料由月末一次加权平均法改为先进先出法，期末存货成本接近于市价，现行国情是物价呈上涨趋势，则发出成本偏低，会高估企业当期利润和库存存货价值，不符合不高估资产或者收益，不低估负债或者费用的谨慎性要求

②保修义务确认预计负债符合谨慎性要求，根据会计准则的规定，企业将保修义务确认预计负债和销售费用，符合不高估资产或者收益，不低估负债或者费用的谨慎性要求③对融资租入设备计提减值准备符合谨慎性要求，根据会计准则的规定，融资租入的设备视同企业自有资产管理，对该资产计提减值准备，符合不高估资产或者收益，不低估负债或者费用的谨慎性要求

④购入联营企业 30%的股权，应采用权益法进行后续计量，会计处理不正确，与谨慎性要求无关

⑤存货按成本与可变现净值孰低计量符合谨慎性要求，成本大于可变现净值的差额计提减值准备，符合不高估资产或者收益，不低估负债或者费用的谨慎性要求

（2）采用固定股利支付率政策发放股利，应发放股利为 $3000 \times 30\% = 900$ （万元）采用剩余股利政策保持现在的目标负债占 30%，权益占 70%，则 4000 万的投资其中需要 2800 万元，税后净利润为 3000 万元，分红为 200 万元。

实务题

1 事项（1）甲公司放宽了授信额度来增加销售收入，并延长赊账期限至 6 个月会带来应收账款的坏账风险。

事项（2）公司老会计在新系统操作初期，往往临时找其他会计人员帮助，在内部控制方面存在风险。

2 审计报告的类型可以考虑为带强调事项段的审计报告，原因是事项（3）2015 年 12 月的一笔销售收入 300 万元，甲公司已按规定于年底入账，但该批产品 2016 年 2 月被退回，会计人员未进行相关调整。审计人员要求调整被拒绝。如果需要修改其他信息而被审计单位拒绝修改，注册会计师应当考虑在审计报告中增加强调事项段说明该重大不一致，或采取其他措施。



我爱学习，学习使我快乐