

2017上半年江苏事业单位招聘考试 《综合知识和能力素质》

计算机类

文政公务员
江苏公务员考试中心



江苏公务员考试信息



江苏事业单位招聘信息

2017 年上半年江苏省省属事业单位统一公开招聘人员笔试

（综合知识与能力素质）

（计算机类）专业知识和专业能力部分

（考试时限：150 分钟满分：150 分）

答题说明：

请在专用答题卡指定位置作答，在试卷、草稿纸及其他位置作答一律无效。

一、单项选择题（在下列选项中选择最恰当的 1 项，并用 2B 铅笔在答题卡相应题号下涂黑所选答案项的信息点，在试卷上作答一律无效。本大题共有 60 小题，共 75 分。）

1. 2017 年 1 月 18 号，国家主席习近平在联合国日内瓦总部万国宫会见新任联合国秘书长古特雷斯，并发表重要演讲，全面阐述人类命运共同体理念，就事关人类前途命运的重大问题提供中国方案。下列对人类命运共同体的理解正确的是

- ①构建人类命运共同体有赖于一代又一代人的努力
- ②构建人类命运共同体有助于推动世界的和平与发展
- ③人类命运共同体理念是共建共赢共享思想的集中体现
- ④主权平等是构建人类命运共同体必须遵循的重要准则

A. ①② B. ②③ C. ①②③ D. ①②③④

2. 设立河北雄安新区是以习近平同志为核心的党中央作出的一项重大历史性战略选择，是继深圳经济特区和上海浦东新区之后又一具有全国意义的新区，是千年大计、国家大事。

下列对设立河北雄安新区意义的理解不正确的是

- A. 集中疏散北京的首都功能
- B. 培育创新驱动发展新引擎
- C. 调整优化京津冀城市布局 and 空间结构
- D. 探索人口经济密集地区优化开发新模式

3. 农村贫困人口如期脱贫、贫困县全部摘帽、解决区域性整体贫困，是我国全面建成小康社会的底线任务。为此，必须更好地推进精准扶贫、精准脱贫，确保如期实现脱贫攻坚目标。下列作答最符合精准扶贫、精准脱贫要求的是

- A. 加强贫困人口动态统计监测，建立扶贫台账
- B. 完善扶贫脱贫扶持政策，健全扶贫工作机制
- C. 加强贫困地区基础设施建设，提高贫困地区公共服务水平
- D. 根据致贫的原因和脱贫的需求，对贫困人口实行分类扶持

4. 十八大以来，我国初步确立了适应经济发展新常态的经济政策框架，下列最符合的一项是

- A. 供给侧结构性改革 B. 城乡关系结构性改革
- C. 所有制结构性改革 D. 收入分配结构性改革

5. 两点论与重点论相统一的思想方法，要求我们正确把握主要矛盾与次要矛盾、矛盾的主要方面与次要方面的关系。下列表述蕴涵两点论与重点论相统一哲理的是

- A. 长堤溃蚁穴，君子慎其微 B. 落其实思其树，饮其流怀其源
- C. 甘瓜抱苦蒂，美枣生荆棘 D. 善学者尽其理，善行者究其难

6. 公共部门与私人部门的核心差异是

- A. 是否提供公共服务 B. 是否生产公共产品
- C. 是否使用公共资金 D. 是否运用公共权力

7. 拓展和畅通群众需求表达渠道，全面准确地了解群众需求是提高公共服务精准性与有效性的首要前提。下列做法不属于拓展和畅通群众需求表达渠道的是

- A. 成立民意跟踪监测中心 B. 构建民情在线综合服务平台
- C. 开通移动政务发布平台 D. 在门户网站设置群众留言板块



8. 为了推动社会组织有效参与社区治理与服务，我国需大力培育发展服务性、公益性、互助性社区社会组织。对此，下列做法不恰当的是

- A. 某市简化社区社会组织的登记程序
- B. 某区成立区、街两级社会组织孵化中心
- C. 某街道鼓励社区社会组织开展邻里互助活动
- D. 某市出台政策允许社区社会组织设立地域性分支机构

9. “在事实发生之后制定的法律，不能将该事实中涉及的行为确定为违法。”对此，下列理解正确的是

- A. 法律职能对已发生的事实作出禁止性规定
- B. 法律未明确禁止的行为，一概为合法的行为
- C. 法律没有明确溯及既往的，应推定溯及既往
- D. 不得制定对当事人不利的溯及既往的法律

10. 我国公民享有平等权，但法律法规也规定了公民平等的合理差别。下列不属于公民平等权合理差别的是

- A. 《刑法》规定，不满 14 周岁的人不负刑事责任
- B. 《军人抚恤优待条例》规定，烈士遗属享受抚恤优待
- C. 《残疾人保障法》规定，残疾人申请个体营业执照的，优先核准
- D. 《女职工劳动保护特别规定》规定，禁止女职工从事矿山井下作业

11. 根据《工伤保险条例》等相关规定，下列不能认定为工伤的情形是

- A. 职工甲某在上班途中被他人电动车撞伤
- B. 职工乙某在宴请客户时醉酒死亡
- C. 职工丙某在抢险救灾中受伤
- D. 职工丁某在工作中突发脑溢血，送医院后次日死亡

12. 某超市 S 品牌化妆品专柜实行“买一赠一”。赵女士购买了 S 品牌化妆品后，将附赠的美白护肤霜送给了王女士。王女士使用后，出现皮肤红肿、瘙痒等症状。经鉴定，附赠的美白护肤霜汞含量超标。对此，下列说法正确的是

- A. 超市仅提供了销售场地，对销售的产品不承担责任
- B. 该护肤霜是赠品，生产商无需对王女士承担责任
- C. 赵女士未使用附赠产品，无权向超市索赔
- D. 王女士虽不是产品的购买者，但有权向生产商索赔

13. 高速公路收费站点多、节假日拥堵严重、货车严重超载等问题一直饱受诟病。为此，交通部提出将逐步探索高速公路分时段差异化收费。下列对探索高速公路分时段差异化收费理解不正确的是

- A. 促使消费需求均匀化，避免道路资源闲置或超负荷运转
- B. 体现了供给侧结构性改革的要求，有利于降低企业的物流成本
- C. 调节高速公路的交通流量，改变收费站点多和收费混乱的局面
- D. 增加货车上高速的频率，减轻公路网中国道和省道的交通压力

14. 下列诗句所描写的情境与所在地对应正确的是

- A. 月落乌啼霜满天，江枫渔火对愁眠——江苏扬州
- B. 落霞与孤鹜齐飞，秋水共长天一色——江西九江
- C. 黄河远上白云间，一片孤城万仞山——山西太原
- D. 黄鹤一去不复返，白云千载空悠悠——湖北武汉

15. 今年计划发射的探月工程三期“嫦娥五号”探测器，将实现我国首次探测器月球表面取样返回的任务。发射“嫦娥五号”的新一代大推力火箭“长征五号”的运载能力最大将达到 14 吨。如果“嫦娥五号”顺利从月球采样并返回地球，将标志着中国探月工程绕月、落月、返回的全面完成。对此，下列说法不正确的是

- A. 中国将成为当今世界自主掌握月球探测返回技术的国家之一
- B. 发射“嫦娥五号”探测器的“长征五号”运载能力世界排名第一
- C. “嫦娥五号”比进行了月球表面探测的“嫦娥三号”功能更复杂
- D. “嫦娥五号”探测器任务中有多项技术难题是中国航天首次面临的挑战

16. 市场运行良好，需要政府、市场与社会这样一个国家治理三维结构得以有效地耦合。完全独立于政府之外的放任自由市场不是万能的，市场在许多情景下往往会失灵，如垄断、贫富两极分化、外部性、事业、公共物品供给不足等，从而导致资源无效率配置和各种社会问题。

这段文字主要强调的是



- A. 市场经济会引发贫富两极分化等问题
- B. 市场一旦失灵会导致各种社会问题
- C. 市场经济运行良好在于政府的作用
- D. 市场经济不能完全独立于政府之外

17. 好的书法家应该是有诗人的情怀，有知识分子的理性意识，有宗教家的救赎精神，是从技法的“崇山峻岭”冲击到精神的“高原”，就如同八大山人的绘画，技法虽重要，但更重要的是他创造了一幅幅倾泻心灵的作品，就像启功先生的书法一样，其技法并非不可超越，但是启功的书法体现了他做人的纯净、平和、温润，是字如其人。

下列对文意概括最准确的是

- A. 好的书法家应该具备高尚情怀
- B. 艺术创作中技法和精神的关系
- C. 书法创作中精神层次的重要性
- D. 八大山人和启功创作的艺术特点

18. 嗜酸菌能够将硫化物或硫氧化成硫酸，硫酸即可将矿石中的铁、铜、钴、镍、锌、锡、铀等金属溶解提取出来，进行回收。嗜酸菌的这一“冶金”特性对贫矿和多组分矿的综合利用做出了贡献。同理，嗜酸菌还可以处理重金属污染的土壤，铜、锌、镍、镉去除率可达80%以上，成本比传统的酸处理法低得多。

这段文字着重讨论的是

- A. 嗜酸菌的生物化学特征
- B. 嗜酸菌的化学冶炼功能
- C. 嗜酸菌的土壤保护原理
- D. 嗜酸菌的广阔应用的前景

19. 我们的研究已经表明一切认识都有其不言而喻的先入之见，从而也就有其不可彻底排除的社会历史的局限性，但这并不意味着我们将放弃对客观性的追求，这当然不是自相矛盾地宣称可以获得绝对的客观性，而是体现了一种力求超越自身局限性的有限理性的态度。当我们试图解释社会现实的时候，客观性作为一种也许永远都无法彻底实现的理想总在指引着我们，我们应当不断地去反思自身社会历史性的先入之见，尽管这一过程将永无止境。

这段文字主要强调的是

- A. 人的认识想要达到客观几乎是不可能的
- B. 认识社会克服先入之见追求客观并不容易
- C. 客观解释社会现实是一项无法抵达的目标
- D. 用客观态度认识社会还需经历漫长历史时期

20. 有些经济理论本身的价值并非直接解释现实，而是为解释现实发展更新的理论提供研究平台和参照系。借鉴这些方法，人们可以对如何解决现实中的问题得到启发。由于环境的不同，一个理论对一个国家或地区适合，不见得对另外一个国家或地区适合，不能机械地生搬硬套，而需要修改或创新原有理论，根据当地的经济环境和人们的行为方式发展新的理论。

下列说法与这段文字所包含的道理无关的是

- A. 理论结合实际
- B. 对症下药
- C. 纸上得来终觉浅
- D. 一把钥匙开一把锁

21. 与新闻、评论等舆情载体相比，网络流行语有以下特征：反映集体的认同和感受，推动舆论升温发酵，形成“无所不在”的批判，具有草根、亚文化特质。其形成并非全是偶然，某一词句能成为网络流行语除了简单形象、生动有趣外，往往还反映了某种普遍的社会心理与社会情绪。

关于网络流行语，下列描述不符合文意的是

- A. 已成为社情民意的特殊载体
- B. 多为社会底层人士使用传播
- C. 其产生流行有一定的必然性
- D. 大多直白风趣而且活灵活现

22. 在信息技术还不发达的年代，信息获得和传播的障碍成为隐私利益的天然保护，因此还不需要专门的法律制度来规范社会成员对他人隐私利益的不当获得和利用。但是，随着信息技术不断发展，一些人可以通过发达的信息技术提高自己的信息能力，从而获得更多的信息时，社会组织成员之间的竞争平衡便被破坏了。这种竞争平衡被破坏的直接后果便是一部分社会组织成员处于不利的竞争地位，从而丧失更多的自由。为了恢复竞争的平衡，需要在制度上设置私权来限制这种不当的竞争行为，

填入文中划横线处最恰当的一句是

- A. 这便是隐私权制度的意义
- B. 这便需要隐私权制度来进行干预
- C. 隐私权制度恢复了社会成员竞争的平衡
- D. 隐私权制度就成为个人权利不可或缺的保障

23. 眼下对中国来说，将短期的应急举措与长期的改革举措区分开来，也许更加合理。令中国的增长速度达到其_____增长速度是中国的短期目标，调结构和改革则是长期目标。不过，上述两者意见并不一定存在_____。



- A. 固有 矛盾 B. 潜在 冲突 C. 应有 关联 D. 内在 制约

24. 游学者认为, 加强传统书写教育的积极作用_____, 它能够_____书法文化, 消除使用输入法给人们的汉字记忆带来的负面影响。

- A. 显而易见 传承 B. 不言而喻 宣扬
C. 毋庸置疑 发扬 D. 众所周知 传递

25. 在现代经济中商业养老保险至少应该发挥这些功能: 个人和家庭商业养老保障计划的主要_____, 社会养老保障市场化运作的积极_____, 养老服务业健康发展的有力促进者。

依次填入划横线处最恰当的一项是

- A. 负担者 倡导者 B. 提供者 支持者
C. 发起者 推进者 D. 承担者 参与者

26. 传统媒体经过多年的高速增长到近年的_____, 生存环境从卖方市场到买方市场, 发生了巨大变化。在这个急剧变化的时代, 一些纸媒从业者的判断发生了_____, 因此, 进行系统的战略性_____, 才能让我们在历史与未来的交汇处, 做出正确判断, 明确行动方向。

依次填入划横线部分最恰当的一项是

- A. 一败涂地 误差 变革 B. 盛极而衰 偏差 考量
C. 江河日下 差错 改变 D. 一落千丈 偏离 思考

27. 阅读前辈学者的著述, 常有一种感觉, 即无论研究什么具体问题。他们胸中纵横的大局观, _____的视野总是能够充分体现出来, 去粗取精、去伪存真的材料_____过程和由此及彼、由表及里的贯通融会能力, 令人_____。

- A. 广泛性 分析 佩服不已 B. 前瞻性 辨析 感叹不已
C. 概括性 甄别 由衷赞叹 D. 预见性 辨别 望尘莫及

下列 28~32 题中, 分别给出了 5 个事件, 请你从备选答案中选出 5 个事件排序最合理的一项。

28. ①渔港逐渐恢复繁荣
②采取休渔等措施, 并推广网箱养殖渔业
③千年渔港日渐凋零
④过度捕捞, 鱼群数量逐年下降
⑤渔民无鱼可捕, 陷入生计困境

- A. ④—⑤—③—②—① B. ④—⑤—②—①—③
C. ④—①—⑤—③—② D. ④—⑤—③—①—②

29. ①老王在芳草水岸楼盘买了一套毛坯房
②老王对不断接到询问装修事宜的电话非常恼火
③芳草水岸楼盘还未开盘就开始大力宣传
④一家知名装修公司被老王选中为他装修新房
⑤亲友们都来老王新居祝贺乔迁之喜

- A. ③—①—②—④—⑤ B. ③—②—①—⑤—④
C. ③—①—②—⑤—④ D. ①—④—③—⑤—②

30. ①我加入等候公交车的队伍
②我招呼她还是到我的前面来, 但她不肯
③等待公交车的队伍很长, 一个小女孩排在最后面
④小女孩回来后排到了队伍的后面
⑤小女孩突然离队去上厕所

- A. ③—①—②—⑤—④ B. ①—⑤—②—④—③
C. ③—①—⑤—④—② D. ③—②—①—⑤—④

31. ①国税局新来一位赵局长
②王老板打电话威胁赵局长不要搞得两败俱伤
③赵局长家里的一位女士收受了王老板的 10 万元贿款
④赵局长严查王老板的偷税漏税问题
⑤警察告诉王老板, 他的 10 万元钱送给了一个女惯偷

- A. ①—③—④—②—⑤ B. ①—④—②—③—⑤
C. ①—⑤—④—③—② D. ①—②—④—③—⑤



32. ①张先生的手机中了木马病毒
②张先生点击了短信中的图片
③张先生银行卡里的6万元不翼而飞
④张先生向警察报案
⑤张先生收到一条陌生号码发来的短信

- A. ⑤—④—②—①—③
B. ⑤—②—①—③—④
C. ⑤—③—②—①—④
D. ⑤—①—②—④—③

下列 33~37 题中, 每道题先给出一组相关的词, 请在备选答案中找出一组与之在逻辑关系上最为贴近、相似或匹配的词。

33. 唐诗: 宋词

- A. 秦腔: 清唱
B. 汉赋: 元曲
C. 唐宋: 宋祖
D. 秦砖: 汉瓦

34. 就业: 创业

- A. 商机: 投机
B. 消费: 花费
C. 学习: 练习
D. 听从: 服从

35. 论证: 证据

- A. 统治: 权力
B. 决策: 民主
C. 咨询: 建议
D. 谈判: 风险

36. 企业: 股东: 监管

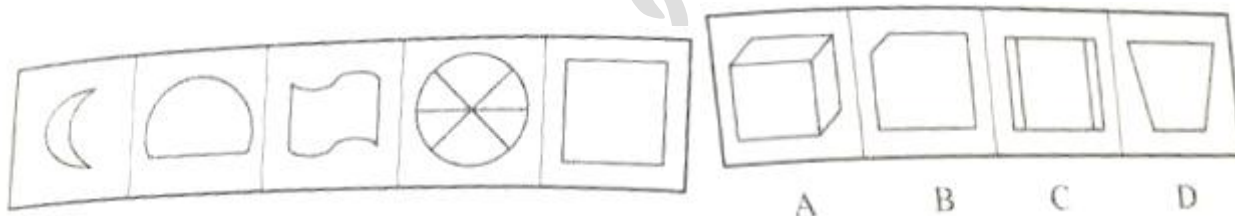
- A. 学生: 老师: 交流
B. 事业: 单位: 改制
C. 国家: 军队: 保卫
D. 专家: 公众: 服务

37. 浙江: 西湖: 雷锋塔

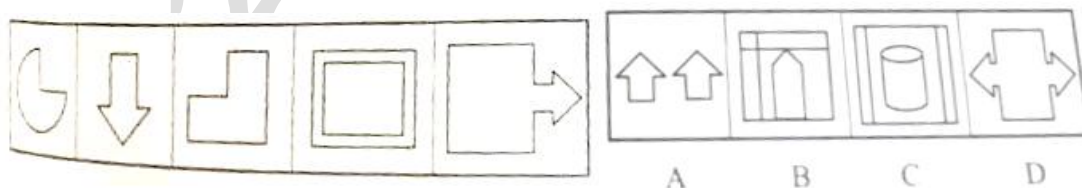
- A. 甘肃: 黄河: 母亲河
B. 北京: 长城: 八达岭
C. 江西: 长江: 滕王阁
D. 安徽: 黄山: 迎客松

下列 38~41 题中, 左边给出了五个图形, 请你从右边四个图中选出唯一的一项, 作为保持左边五个图规律性的第六个图。

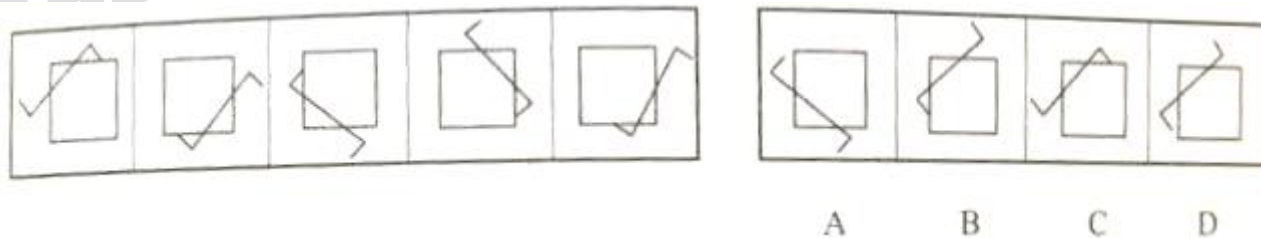
38.



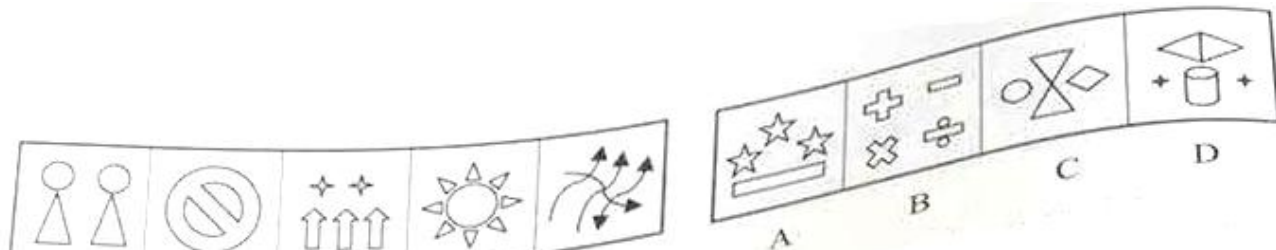
39.



40.

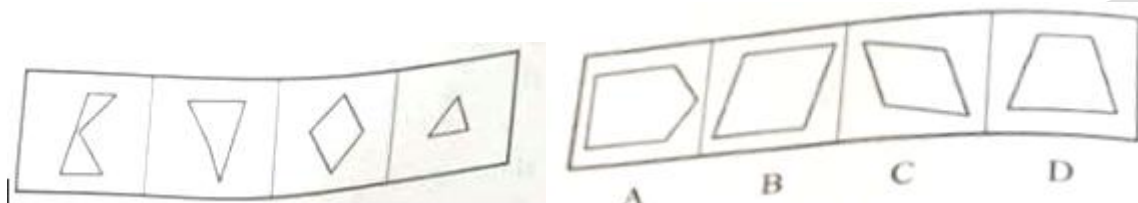


41.



下列 42~44 题中，右边给出了四个图形，只有一个是 由左边的四个图形拼合（只能通过上、下、左、右平移）而成的，请你把它找出来。

42.



43.



44.



45. 抱团养老：指一些老同事、老同学或老朋友主动结伴生活在一起的一种新型养老模式。

假设这个定义是正确的、不容置疑的，则下列属于抱团养老的是：

A. 小李平时上班很忙，但每逢节假日他喜欢约上几位好友一块出游，他的理念是既要工作，更要玩乐，因为再不抓紧玩，很快就老了。

B. 张大爷几年前从农村搬到城市与儿子同住，但儿子媳妇均很忙，无暇照顾他，他只好跑到附近的老年服务站，结识了不少与他同样经历的老人。

C. 孙先生是东北人，早就与几个好友约定退休后一起去海南生活。现在他们都是三亚某楼盘的住户，经常在一起聊天、下棋。

D. 年近八旬的王某，得知老同学最近丧偶，就盛情邀请老同学来自己家小住几日散散心，两位老人在一起畅叙旧日往事，不胜感慨。

46. 装忙族：指一些人为了维护自己在亲友或领导眼中的形象，用“装忙”来表现自己事业很成功，其实他们的工作并不忙。

假设这个定义是正确的、不容置疑的，则下列属于装忙族的是：

A. 王老师是一位大学教授，平时既要上课，又要做科研，还兼任学院的副院长，另外还指导着 3 个博士生、6 个硕士生，在校园里走路都是急匆匆的样子。

B. 小李是一名三年级小学生，每天上学很早，放学很晚，回家后做作业常常要做到晚上 10 点钟，他常常抱怨自己没有玩的时间。

C. 小钱对同学几次一道出游的邀请都以工作太忙而拒绝了，其实他是最近迷上了一款游戏，一有空就“宅”在家里打游戏，对其他事情一概没有兴趣。

D. 每次回老家，小赵都是匆匆而来，匆匆而走，他向亲朋解释他时间紧张，因为领导把很多事都交给他做，其实情况不是



这样。

47. 预付费陷阱：指商家以打折促销手段吸引顾客预付服务费用，但在后续服务中不能按照约定内容提供服务的现象。

假设这个定义是正确的、不容置疑的，则下列不属于预付费陷阱的是：

A. 陈女士为儿子报了 10 次暑期英语培训课程，上了 3 次后因要外出旅游便要求退还剩余 7 次课程的费用，但培训机构拒绝退还。

B. 李女士在某美容店购买了一张价值 1000 元的会员卡，但过几天李女士再去该店做美容时却被告知，她买的会员卡不能使用，因为该美容店已换了老板。

C. 孟先生办理了 20 元/次的洗车年卡，但春节期间来洗车却被告知，洗车卡不能使用，洗车费调到 50 元/次。洗车店老板解释说，过年嘛，肯定跟平时不一样。

D. 熊先生在一家健身中心教练的热情推荐下，当场刷卡 2 万办理了原价 3 万元的健身年卡。半个月之后，当熊先生再去健身中心时，发现那里早已人去楼空。

48. 职业效能感：指个体对自己拥有完成也顶职业任务的能力有清醒的认知，或对自己实现职业目标具有充分的信心。

假设这个定义是正确的、不容置疑的，则下列属于职业效能感的是：

A. 小张毕业于中文专业，擅长写作，曾经发表过 3 篇短篇小说，但他不打算走专业作家的道路，只想找一份比较稳定的教师工作。

B. 小李学的是国际贸易专业，认为自己个性开朗善于交际，大学期间创办过网店，赚了不少钱，觉得自己就应该从事贸易类工作。

C. 小王是英语专业研究生，英语听说读写能力均较高，老师建议她从事英语口语译工作，不过她还是想去外企从事管理工作。

D. 小赵是位历史学博士，有良好的学术功底，对中国古代史有着浓厚的研究兴趣，但因其舅舅是某股份公司总经理，最终他还是去了该公司任人事经理助理。

49. 授权赋能：指为了实现单位利益，管理层赋予下属更多参与决策的权力。

假设这个定义是正确的、不容置疑的，则下列属于授权赋能的是：

A. 某单位要接待一个兄弟省份的考察团，为充分展现本省本单位的工作风貌，单位领导要求相关部门务必做好接待工作。

B. 为推动地方经济发展，某市领导班子集体研究决定，提高招商引资的力度，对有意来该市投资的公司，最大程度地满足其所提出的合作条件。

C. 某企业与一所大学的技术合作谈判进入最后阶段，企业领导要求本单位的三位高级工程师组成谈判代表团，全权决定与该大学合作的具体事宜。

D. 某市一位领导的朋友请求帮助解决其女儿的工作问题，由于受到相关规定的约束，领导要求办公室秘书全权负责解释此事。

50. 中国共产党是一个具有坚定理想信念的政党，有了坚定的理想信念，一个党员就能坚持正确的政治方向，在胜利和顺境时不骄傲不急躁，在困难和逆境中不消沉不动摇，经受住各种风险和困难考验，自觉抵御各种腐朽思想的侵蚀，永葆共产党人的政治本色。

根据以上信息，可以得出以下哪项？

A. 只有中国党员人，才具有坚定的理想信念。

B. 如果没有坚定的理想信念，一个党员就不能坚持正确的政治方向。

C. 一个党员如果不能自觉抵御各种腐朽思想的侵蚀，就不会具有坚定的理想信念。

D. 一个党员如果在胜利和顺境时不骄傲不急躁，就会在困难和逆境中不消沉不动摇。

51. 在世纪之交的人类基因组计划，到今天的人类基因组编写计划，基因革命的巨轮劈波斩浪，滚滚向前。有学者担心，如果人类基因组编写计划成功实现，就有可能造出没有生物学意义上父母的人，从而挑战“人的定义”这个最为根本的哲学问题。

以下哪项是上诉学者的担心所假设的？

A. 人指的是存在生物学意义上父母的人。

B. 人的社会属性比其生物学属性更加重要。

C. 人类基因组编写计划不能违反人类伦理。

D. 人类基因组的哲学问题要比技术问题更为根本。

52. 为办好近期的环保工作会议，会务组决定招聘 3 名志愿者。有甲、乙、丙、丁和戊 5 名大学生前来应聘。根据考察，会务组形成以下两点共识：

（1）甲、乙两人至多招聘一人。

(2) 如果招聘戊, 那么也要招聘丁。

根据以上信息，可以得出以下哪项？

- A. 招聘甲 B. 招聘丙 C. 招聘丁 D. 招聘戊

53. 某单位办公室有 12 名员工。他们当中，单身的博士都住在南湖公寓，自己有车的男性员工都住在滨江区。王英博士有车，在该单位已工作 3 年，住在滨江区的南湾小区。

根据以上信息，可以得出以下哪项？

- A. 王英是男性 B. 王英不是单身
C. 该办公室有些人没有车 D. 南湖公寓比南湾小区离单位更近

54. 中国高铁最高运营时速是继续保持目前的 300 公里还是恢复 350 公里? 对此问题, 有专家认为, 我国高铁运营的硬件和软件实力均十分雄厚, 应恢复最高时速 350 公里。

以下哪项如果为真，最能支持上述专家的观点？

A. 在兼顾安全性和经济性原则的基础上, 部分高铁干线“复跑”350 公里的时机已经成熟, 对促进国产先进轨道交通装备走出国门、走向世界具有重大战略意义

B. 现在从北京到长沙要坐到 7 个小时，如果恢复 350 公里最高时速，5 个多小时就能到，而 5 个小时是旅客坐高铁旅行舒适感受的“时间临界点”

C. 如果高铁时速从 300 公里提升至 350 公里, 空气阻力系数就会大幅提高, 将导致列车运行能耗及成本明显上升

D. 截止 2015 年底，中国高铁总里程达到 1.9 万公里，其中有 9000 公里左右设计速度为 350 公里/小时，很多指标还具备更高的安全系数和更大的技术余量

55. 某高校旅游管理专业学生组成甲、乙、丙、丁、戊 5 支队伍，暑期赴安徽、山西、湖北、四川、广西 5 省调研旅游景点管理现状。他们各自均有一个特定的调研对象，分别是寺庙、道观、园林、海滩及村落，没有遗漏也没有重复。已知：

- (1) 甲队比调研寺庙的队伍出发早, 但比调研村落的丙队出发晚;
- (2) 如果调研寺庙的不去山西, 则调研海滩的不去广西;
- (3) 调研园林的乙队出发最早;
- (4) 调研海滩的丁队出发最晚。

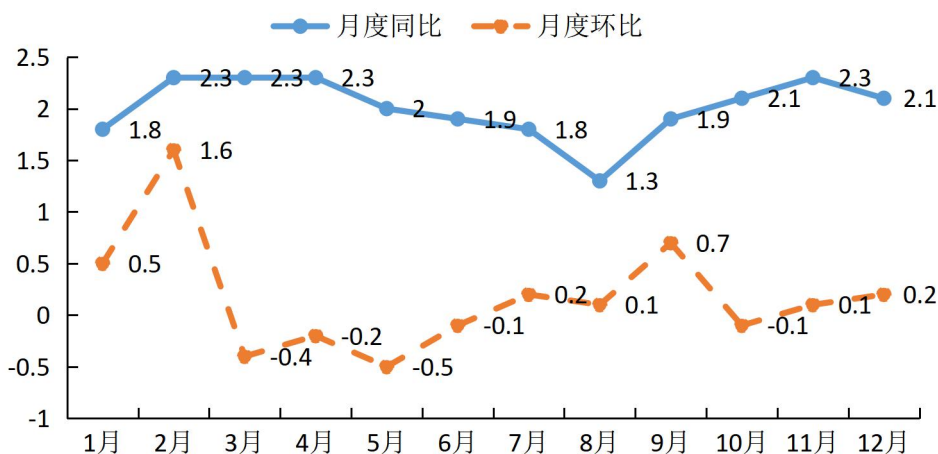
根据以上信息，可以得出以下哪项？

- A. 甲队赴四川调研道观 B. 乙队赴湖北调研园林
C. 丙队赴安徽调研村落 D. 戊队赴山西调研寺庙

根据所给资料回答 56~60 题:

2016 年全国居民消费价格比上年上涨比率 (%)

指标	全国	城市
居民消费价格	2.0	2.1
其中：食品烟酒	3.8	3.7
衣着	1.4	1.5
居住	1.6	1.9
生活用品及服务	0.5	0.5
交通和通信	-1.3	-1.4
教育文化和娱乐	1.6	1.5
医疗保健	3.8	4.4
其他用品和服务	2.8	2.9



2016年全国居民消费价格月度上涨比率(%)

56. 2016 年全国消费价格中，农村比上年上涨比率高于城市的有（ ）

A. 食品烟酒价格、生活用品及服务价格、教育文化和娱乐价格

B. 食品烟酒价格、交通和通信价格、教育文化和娱乐价格

C. 衣着价格、交通和通信价格、教育文化和娱乐价格

D. 衣着价格、居住价格、生活用品及服务价格
57. 2016 年上半年全国居民消费价格最低和最高的月份分别是（ ）

A. 6 月和 2 月

B. 5 月和 2 月

C. 6 月和 1 月

D. 1 月和 2、3、4 月
58. 2016 年全国医疗保健价格上涨比率分别比衣着、居住价格上涨比率高（ ）

A. 2.9、2.5 个百分点

B. 2.4、2.5 个百分点

C. 2.4、2.2 个百分点

D. 2.9、2.2 个百分点
59. 2016 年全国居民消费价格比上月有所下降的月份个数是

A. 7

B. 6

C. 5

D. 4
60. 下列说法不正确的是

A. 2016 年各个月份的全国居民消费价格都高于上年同期

B. 2015 年 4 月全国居民消费价格的环比上涨比率约为—0.2%

C. 2015 年 3 月全国居民消费价格的环比上涨比率约为—0.4%

D. 2015 年 2 月全国居民消费价格的环比上涨比率约为 1.6%
- 一、单项选择题（下列个体的备选答案中，只有一项是最符合题意的，请把这个答案选出， 并将答题卡相应题号后的选项涂黑。共 10 题，每题 0.5 分，共 5 分）

61. 人工智能是研究、设计和应用智能机器或系统来模拟人类活动的能力，以延伸人类智能的科学，获得“人工智能之父”称号的是（ ）。

A. 冯·诺依曼

B. 阿伦·图灵

C. 查理斯·巴贝奇

D. 阿达·奥古斯塔

62. 逻辑门是构成数字电路的基本单元，下列不属于最基本的逻辑门的是（ ）。

A. “与” 门

B. “或” 门

C. “非” 门

D. “异或” 门

62. 在运行大规模程序或处理大量数据时，内存可能无法满足要求，现代操作系统为提高内存容量所用的技术是（ ）。

A. 虚拟存储

B. 磁盘管理

C. 过程管理
- 江苏公务员学习中心（官网:www. jsgwysc. com）——做您身边的江苏公考培训！
- 9



D. 内存保护

63. 通过数据压缩可以提高数据传输和存储的效率，数据压缩方法主要分为无损压缩和有损压缩，下列编码属于有损压缩的方法是（）。

- A. 游程长度编码
- B. 霍夫曼编码
- C. Lempel Ziv 编码
- D. 变换编码

64. 一种能够把 IP 数据包按主机的 IP 地址进行转发、屏蔽各种网络的技术差异，将数据包封装成 IP 数据报正确达目的计算机的设备是（）。

- A. 路由器
- B. 服务器
- C. 防火墙
- D. 集线器

65. 高频振荡的正弦波信号在长距离通信中能够比其他信号传送更圆，信息传送时，发送方利用信源信号去调整载波某个参数得到载波信号进行发送，接收方再把载波所携带的信号检测出来，回复成原始信号，实现该过程的设备是（）。

- A. 滤波器
- B. 调制解调器
- C. 多路复用器
- D. 干扰器

66. 图是一种可以用来解决复杂路由问题的抽象数据类型，图的遍历可以不重复的访问给定图中的所有顶点，当从图的第一个顶点开始任意一个和它相邻的子顶点进行处理，知道某一顶点没有相邻子顶点，知道遍历完所有顶点，该方法称为（）。

- A. 随机遍历
- B. 后序遍历
- C. 深度优先遍历
- D. 广度优先遍历

67. 核磁共振成像仪所生成的媒体是（）。

- A. 数字图形
- B. 数字图像
- C. 合成图像
- D. 矢量图像

68. 等价类划分是一种软件测试方法，其将输入的数据划分成若干个等价类，在每个类中挑选有代表性的数据作为测试用例，大大降低测试的数据量等价类划分属于（）。

- A. 黑盒测试
- B. 白盒测试
- C. 逻辑测试
- D. 边界测试

69. 大数据分析已经在许多领域得到广泛应用，它所分析的数据之间的关系是（）。

- A. 从属关系
- B. 约束关系
- C. 相关关系
- D. 因果关系

二、多项选择题（下列各题的备选答案中，至少有两项是符合题意的，请将所选答案在答题卡相应题号后的选项涂黑。多选、少选或错选均不给分。共 5 题，每题 1 分，共 5 分）

70. 高级程序设计语言分为编译型和解释型两类，下列程序设计语言属于解释类的有（）。

- A. C++
- B. FORTRAN
- C. Java
- D. Python

71. 大数据在进行处理前，一般要经过预处理，下列属于大数据预处理方法的有（）。



- A. 数据集成
- B. 数据变换
- C. 数据清洗
- D. 数据归纳

72. 超链接结束超链接文本、图片、文档等对象相互连接，支持超链接的文档有（ ）。

- A. TXT 文档
- B. Word 文档
- C. PPT 文档
- D. 网页

73. 数据备份对系统经历灾难后，能迅速复原有重要作用，常见的数据备份方法有（ ）。

- A. 数据转储
- B. 磁盘镜像
- C. 双机热备份
- D. 双工备份

74. 线性结构是有限个同类型的数据元素构成，除第一个和最后一个元素外，每个元素有且仅有一个直接前驱和一个直接后驱，常用的线性数据结构有（ ）。

- A. 线性表
- B. 堆栈
- C. 队列
- D. 树

三、简答题（两道题，每题 10 分，总共 20 分）

1. 汉字键盘输入编码方法有很多，举例说明有哪些键盘输入法。

2. 存储卡是用于数码产品上独立的存储介质，且种类很多，请列举出常见存储卡的类型及使用场合。

四、实务题（请在答题卡上的指定位置作答，在其他位置作答的一律无效，本大题共有 3

小题，每小题 20 分，共 60 分）

1. 某单位开发一个职工体检管理信息系统，包括：预约，等级，查询及打印等功能。职工预约时要填写工号，姓名，性别，单位，婚姻状况，年龄，预约检查时间和电话号码。报告单信息包括单位名称，姓名，单位检查时间，报告时间和检查结果。检查结果包含若干检查项，每一项信息包含项目代码，项目名称，结果，参考最低值和参考最高值。

（1）画出实体关系图（实体□，属性○，关系◇）。

（2）根据实体关系图给出相应的关系模型。

2. 简单的电子手表可以让人们方便地看到时间，其实可以用程序实现的，主要包括显示时间，设置小时，设置分钟。有两个按键，一个是功能键，切换上述 3 个功能；另外一个数值增加键，比原来数值加 1。

（1）设置电子手表时间的流程。

（2）给出电子手表系统的用例图。（例用，外部，外部参与者）

（3）给出电子手表系统的状态图。（状态图，状态转移）

3. 某单位组建了一个局域网，对内办公，也可以浏览外部资源，其设备包括防火墙，路由器，交换机和服务器及若干主机终端，使用过程中，打开网页速度慢，下载速度快，而利用 web 网页上传邮件，附件慢，较大附件无法上传，同时利用 web 网页登陆防火墙速度慢。

（1）写出该网络的拓扑网。

（2）找出上述故障的可能原因和判断方法。



我爱学习，学习使我快乐