



2014 年江苏省考行测真题 B

第一部分 言语理解与表达

（共 25 题，参考时限 25 分钟）

一、片段阅读。每道题包含一段文字，要求你从四个选项选出最恰当的一项，你的选择必须与题干要求相符合。

1. 凡是符合立案条件，并已办理立案手续的所有案件，除涉及国家机密或个人隐私等不宜公开的理由外，均应当在人民法院决定立案的 7 日内在网上公示，同时告知合议庭组成人员和案件审理期限，便于当事人和社会监督，防止拖延案件审理期限，提高司法效率。

这段文字主要说明的是（ ）

- A. 怎样提高司法工作效率
- B. 加强立案公开制度的措施
- C. 案件审理期限告知方式
- D. 司法工作怎样接受社会监督

2. 目前，各种新的技术还在测试中，填埋也不是废物处理的唯一方式。垃圾的焚烧和循环利用也在许多国家的废物处理中占较大比例，而且这两种方式正在经历技术变革并日趋完善。传统意义上的循环利用，如金属、塑料机纸张的回收利用，仍然发挥较大作用。但是最快的废物循环方式往往是最简单的方法：垃圾堆肥。

从这段文字中不能得出的结论是（ ）

- A. 垃圾焚烧正在经历技术变革并日趋完善
- B. 填埋、焚烧、循环利用是常用的废物处理方式
- C. 传统的循环利用方式包括可再生物资的回收
- D. 垃圾堆肥不久将取代其他废物循环利用方式

3. 语言的国际影响力，首先表现在多边外交等国际交往中，其次是有多少外国人把它作为外语来学习。近年来，“汉语热”的话题常现报端，孔子学院在世界各地建立，汉语国际教育有了前所未有的发展。但是就实际统计数据来看，世界上将汉语作为第二语言学习的远赶不上以英语、德语、法语为第二语言学习的人数。

这段文字意在强调（ ）

- A. 倡导在国际交往中尽可能使用汉语
- B. 优化汉语教学方法，做大做强孔子学院
- C. 充分利用“汉语热”，推进汉语国际教育
- D. 汉语的国际影响力尚有待进一步提升

4. 中国的传统廉政文化源远流长，它对历代执政者的操守要求与为政规则不外乎五个方面：重民生而知根本、畏法度而能自律、明廉耻而守气节、崇节俭而重情操、知恩惠而思报国。

下面对传统廉政文化特点的概括与文意不符的一项是（ ）

- A. 执法如山，遵章守纪
- B. 注重民生，情操高尚
- C. 学识渊博，乐善好施
- D. 生活简朴，严于律己

5. “以房养老”的前提是手里有房，一般来说，手头有两套以上房产的人可能更会考虑“以房养老”，而从观念上看，中青年更易接受，他们应该是未来“以房养老”的潜在群体。但近年来房价非理性上涨已经大大超出很多人的承受能力，有些甚至到 60 岁都还不完房贷。养房都成问题，更别说以房养老了。

这段文字意在强调（ ）

- A. 仅有一套房的人不会考虑“以房养老”
- B. 60 岁以下的人不会考虑“以房养老”
- C. “以房养老”在现阶段适用人群较少
- D. 推迟退休年龄或可推动“以房养老”

6. 汽车产业是一个长期性产业。不仅产业自身的发展会对经济增长具有一定的扩展或成倍的乘数效应，而且会带动金属、电气设备、橡胶等一系列相关产业的发展，极大地解决了就业问题，提升了社会福利，这反过来又会促进汽车工业的进一步发展。

这段文字主要说明的是（ ）

- A. 汽车产业与其他相关产业的关系
- B. 汽车产业与社会就业问题的关系
- C. 汽车产业与产业革命进程的关系
- D. 汽车产业与经济社会发展的关系



7. 这是一种痛苦的状态，不能回到过去却又对过去恋恋不舍；这也正是法律人重构中国秩序方案的焦灼所在，西方法治文明与传统内发秩序之间，依然横亘着“一湾浅浅的海峡”。

“一湾浅浅的海峡”比喻的是西方法治文明与传统内发秩序之间（ ）

- A. 一条无法跨越的鸿沟
- B. 一层不可穿越的隔膜
- C. 一段不可逾越的距离
- D. 一道无法破解的难题

8. 许许多多的临床实验都表明抗氧化物质实际上并不能对我们的心血管系统起到改善作用。关于抗氧化物质与癌症关系的数据没那么多，但最近一次大规模的检验维生素 E 能否抑制癌症的实验中途就被停止了——因为维生素 E 不仅没有显示出益处，反倒略微增加了前列腺癌的发病率。

这段文字预设的信息是（ ）

- A. 心血管系统的改善与抗氧化物质无关
- B. 人们认为抗氧化物质是对身体健康有利的
- C. 目前关于抗氧化物质的研究仍然不足
- D. 可以通过维生素 E 治疗前列腺癌

9. 过去一段时间，随着粮食价格的暴涨，某些国家的公司开始悄然在世界各地投资农场，收购农田。表面上，这些购买行为是为了土地，其深层目的是为了水。因为土地是与用水权联系在一起的。在大多数国家，水基本上是所属土地的一个“免费赠品”，但随着水资源的日益稀缺，水却越来越有可能成为土地交易中最有价值的一部分。

这段文字意在说明（ ）

- A. 水是所属土地的“免费赠品”
- B. 抢购土地的实质是对水资源的争夺
- C. 粮价暴涨引发土地产权的投资热
- D. 用水权与土地权相分离成为趋势

10. 高等教育进入大众化阶段之后，大学毕业生就业的一些规律逐渐显现出来，认识不到的话则会误导舆论和政策。劳动经济学研究表明，受教育程度越高，特别是接受过大学本科以上教育之后，求职者实现与劳动力市场的匹配所需要的时间就越长。因此，单纯的大学毕业几个月之后的就业率并不能完全说明问题。

这段文字意在说明（ ）

- A. 大学毕业生就业率的统计可靠性不高
- B. 目前有关大学生就业难的舆论有待商榷
- C. 大学毕业生找到合适工作需要一定时间
- D. 求职时间长短与工作匹配程度成正比

二、文章阅读。阅读下面文章，回答问题。本题共有五个小题，每道小题提供四个选项，要求你从中选出最恰当的一项，你的选择必须与题干要求相符合。

2013 年诺贝尔文学奖授予加拿大女作家爱丽丝·门罗。爱丽丝·门罗出生于加拿大安大略省的温格姆镇。父亲酷爱写作，母亲身为教师。生活在这样的书香门第，少女时代的门罗就萌生了成为小说家的梦想。

19 岁那年，门罗还在安大略大学攻读新闻学学士学位时，这位天赋异禀的姑娘就发表了自己的第一篇短篇小说《影子的维度》，从此她的创作热情便一发不可收拾，直到婚后数年，门罗为人妻、为人母之后，仍时时沉浸于自己的文学世界之中。人们很难想象，一位少妇如何以柔弱的身躯，在小说、孩子、书店和琐碎的家务事之间繁忙地周旋。

每当门罗回忆起这段艰涩的时光，总忍不住叹息“真是绝望的赛跑”。万幸的是“良马终遇伯乐”，在加拿大广播公司文学节目制作人罗伯特·韦佛的推荐下，门罗的作品终于有机会被更多读者关注。而立之年，门罗的文学事业逐渐走向辉煌。1968 年，她的第一部短篇小说集《快乐影子舞》获得了加拿大文学界的最高荣誉——总督奖。评委会对她的评价是“每每读到爱丽丝·门罗的小说，便知生命中未曾想到之事”。为了完成这部集子，门罗用了整整 20 年。

门罗将目光流连于平凡人的生活，她笔下的人物性格如同大海一样——忧郁、冷漠、孤傲。无论是自叙还是他叙，叙述者总是形而上的、忧郁的，带着远离自己生活的讽刺态度，来描述人生的重大“坍塌时刻”。门罗擅长“打岔”，擅长用旁敲侧击的回旋笔法，为小说中的人物，也为读者留下思考的空隙。“有呼吸的空隙，这是门罗短篇小说里最优美的一手。”

这种“空隙”不是逃避，也不是故弄玄虚。只要读过门罗的人生经历，便会体会到空隙中流露的恻隐之情。在经历了少女、人妻、人母，走向老年的过程中，门罗已经纯熟于这种处变不惊的节奏，以贴近女性心理的笔触叙述生命的无常，以及由此而来的身心重负。

11. 有关门罗第一篇短篇小说下列说法正确的是（ ）

- A. 由罗伯特·韦佛的介绍才得以公开出版
- B. 为门罗赢得了加拿大文学界的最高荣誉



- C. 是在自己家乡读大学本科时写作和发表的
D. 小说以预知生命中即将发生的事件而著称
12. 文中“真是绝望的赛跑”是指（ ）
A. 经历了少女、人妻、人母阶段的重重磨难
B. 20 年含辛茹苦不停歇写完《快乐影子舞》
C. 常常在生命无常的感觉中挣扎
D. 在小说写作和家庭主妇事务之间争分夺秒
13. 从文中可以知道，爱丽丝·门罗出生于（ ）
A. 20 世纪 30 年代 B. 20 世纪 40 年代
C. 20 世纪 50 年代 D. 20 世纪 60 年代
14. 下列说法不符合文意的是（ ）
A. 门罗的父亲酷爱写作，母亲从事教育工作
B. “伯乐”的推荐为门罗带来加拿大最高文学奖
C. 门罗处变不惊的叙事节奏源于她的生活阅历
D. 门罗擅长以旁观者的视角表现人生的变故
15. 根据文意，门罗小说中的“空隙”所流露的主要是（ ）
A. 超越现实的梦想 B. 高深莫测的玄思
C. 悲天悯人的情怀 D. 虚怀若谷的胸襟

三、选词填空。从题后所给的四个选项中选出最符合文意的一项。

16. 要因地制宜、____，不搞“一刀切”，不追求一步到位，允许采取差异性，过渡性的制度和政策安排。
填入划横线处最恰当的一项是（ ）
A. 量体裁衣 B. 因时制宜 C. 循序渐进 D. 对症下药
17. 文字是人们现实生活的一部分，是人类思维方式、生活方式等最生动的____。一种文字发明、演变过程越是漫长，它所反映的这些方面的内容就越深刻。
填入划横线处最恰当的一项是（ ）
A. 工具 B. 形式 C. 载体 D. 记录
18. 从法官的精英化到法官的专业化，无不____着人们对法官资格和法官职位的憧憬和理想，当前，应当建立以职业品德、专业知识、实践经验三位一体的法官培养____标准。
依次填入划横线处最恰当的一项是（ ）
A. 承载 遴选 B. 寄托 挑选 C. 肩负 选取 D. 承担 入选
19. 最大程度地____网络谣言，一方面要依赖法治力量，另一方面也需要网民尤其是所谓“网络大 V”____高度理性和负责的精神。
A. 消除 秉持 B. 去除 把持 C. 根除 维持 D. 清除 操持
20. 信息技术的发展及广泛应用是一个重大的系统工程，其日新月异的发展与____的应用令人____，或者有些始料未及。
依次填入划横线处最恰当的一项是（ ）
A. 五花八门 瞠目结舌 B. 无孔不入 无法招架
C. 无所不在 目不暇接 D. 形形色色 猝不及防
21. 人们享受着科学给生活带来新奇和益处的同时，也开始关注科学存在的风险及其对社会的影响。未来，投入市场的纳米技术创新将在清洁能源、纳米医学等有所建树，而这一全新领域的____风险和二次影响也不可忽视，科学家们正在进行纳米技术前景分析并将设计更好的评估方法，以____的态度展望未来。
依次填入划横线处最恰当的一项是（ ）
A. 潜在 审慎 B. 潜藏 慎重 C. 隐含 克制 D. 既有 谨慎
22. 那时在我们家里，主人和客人均彬彬有礼，但常因观点相异而激烈争论，____，互不相让。不但洋溢着自由争论的热烈气氛，也体现出“____”的传统精神。
依次填入划横线处最恰当的一项（ ）
A. 各抒己见 君子而不同 B. 各执一词 君子喻于义
C. 各抒己见 君子成人之美 D. 各抒己见 君子之交淡如水
23. 真正的批评，总是建立在对等的基础之上的。只有修养与____对等的人的批评，才值得____和理会。至于无边无际的谩骂，除了____之外，没有任何意义。



依次填入划横线处最恰当的一项 ()

- A. 才华 关心 气急败坏 B. 学识 关注 自我贬低
C. 才情 注目 贻笑大方 D. 知识 注视 自娱自乐

24. 随着劳动年龄人口进入负增长,人口红利终究要消失,经济增长从过去的高速转为相对低速的常态也是不可避免的。生育政策的调整也不可能在短期内_____人口红利。不过,_____地调整生育政策,对于未来中国人口均衡发展_____长期潜在增长率,仍然可以产生积极的效果。

依次填入划横线处最恰当的一项 ()

- A. 带来 高瞻远瞩 甚至 B. 增加 恰如其分 以及
C. 逆转 未雨绸缪 乃至 D. 恢复 不失时机 抑或

25. 当然,这并不是说政府必须_____,也不是所有社会都得_____。比如助弱扶贫,政府可以自己出手;也可以让企业相助。典型的例子就是养老,早年的养老院皆为政府投资,而今天私人投资的养老院则_____。

依次填入划横线处最恰当的一项是 ()

- A. 大包大揽 事必躬亲 比比皆是 B. 一包到底 责无旁贷 遍地开花
C. 恪尽职守 出手相助 随处可见 D. 鼎力相助 亲力亲为 纷至沓来

第二部分 数量关系

(共 15 题, 参考时限 15 分钟)

一、数字推理。给出一个数列, 缺少其中一项, 要求你仔细观察数列的排列规律, 从四个选项中选择最合适的一项, 使之符合原数列的排列规律。

26. 2, 17, 29, 38, 44, ()

- A. 45 B. 46 C. 47 D. 48

27. $\frac{1}{2}$, 1, 3, 15, 120, ()

- A. 240 B. 360 C. 144 D. 1440

28. 1, 121, 441, 961, 1681, ()

- A. 2401 B. 2601 C. 3721 D. 4961

29. 3, 19, 43, 79, 133, ()

- A. 169 B. 205 C. 214 D. 229

30. 1, 1, $\frac{8}{7}$, $\frac{16}{11}$, 2, ()

- A. $\frac{36}{23}$ B. $\frac{9}{7}$ C. $\frac{32}{11}$ D. $\frac{35}{22}$

二、数学运算。通过运算, 选择最合适的一项。

31. 甲、乙两种商品, 其成本价共 200 元。如甲、乙商品分别按 20% 和 30% 的利润定价, 并按定价的 90% 出售, 全部售出后共获得利润 27.7 元, 则乙种商品的成本价是 ()

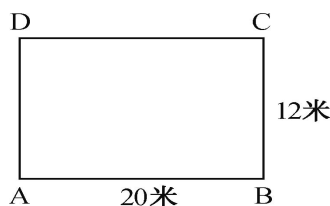
- A. 120 元 B. 125 元 C. 130 元 D. 150 元

32. 在数列 a_n ($n=1, 2, \dots$) 中, $a_1=1959$, $a_2=1995$, 且从第三项起, 每项是它前两项平均值的整数部分, 则 $\lim_{n \rightarrow +\infty} a_n =$

()

- A. 1980 B. 1981 C. 1982 D. 1983

33. 如图, 在长方形跑道上, 甲乙两人分别从 A、C 出同时出发, 按顺时针方向延跑道匀速奔跑, 已知甲乙两人的速度分别是 5 米/秒、4.5 米/秒。则当甲第一次追上乙时, 甲延长方形跑道跑过的圈数是 ()



- A. 4 B. 4.5 C. 5 D. 5.5



34. 有甲、乙两瓶盐水, 其浓度分别为 16% 和 25%, 质量分别为 600 克和 240 克, 若向这两瓶溶液中加入等量的水, 使他们的浓度相同, 则需要向这两瓶盐水中分别加入的水量为 ()

- A. 320 克 B. 360 克 C. 370 克 D. 377 克

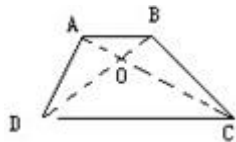
35. 一次校友聚会共有 50 人参加, 在参加聚会的同学中, 每个男生认识的女生的人数各不相同, 而且恰好构成一串连续的自然数, 已知认识女生最少的一个男生认识 15 名女生, 并有一名男生认识所有的女生, 则参加这次聚会的男生一共有 ()

- A. 16 名 B. 17 名 C. 18 名 D. 19 名

36. 恰有两位数字相同的三位数一共有 ()

- A. 243 个 B. 234 个 C. 225 个 D. 216 个

37. 如图, 在梯形 ABCD 中, AB 与 CD 平行, O 为 AC 与 BD 的交点, $CO=2AO$, 则梯形 ABCD 与三角形 AOB 的面积之比为 ()



- A. 6 : 1 B. 7 : 1 C. 8 : 1 D. 9 : 1

38. 小张的手表每天快 30 分钟, 小李的手表每天慢 20 分钟, 某天中午 12 点, 两人同时把手表调到标准时间, 则两人的手表再次同时显示标准时间最少需要的天数是 ()

- A. 24 B. 36 C. 72 D. 144

39. $76^{2013} + 25^{2014}$ 的最后两位数字是 ()

- A. 01 B. 91 C. 21 D. 51

40. 有一项工程, 甲、乙、丙分别用 10 天、15 天、12 天可独自完成。现三人合作, 在工作过程中, 乙休息了 5 天, 丙休息了 2 天, 甲一直坚持到工程结束, 则最后完成的天数是 ()

- A. 6 B. 9 C. 7 D. 8

第三部分 判断推理

(共 40 题, 参考时限 35 分钟)

一、类比推理。

(一) 先给出一组有某种关系的词或词组, 请你从四个选项中选出正确的一项, 其关系与题干给出的词或词组的关系最为相似。

41. 木雕 : 木材

- A. 硅藻 : 海水 B. 果盘 : 水果
C. 香椿 : 春天 D. 米线 : 大米

42. 湖水 : 荡漾

- A. 春雨 : 连绵 B. 水草 : 小溪
C. 蝴蝶 : 花丛 D. 闪耀 : 群星

43. 种子 : 经得住埋没的考验

- A. 蔬菜 : 一种草本植物 B. 萝卜 : 叶子羽状分裂
C. 青苗 : 未来希望所在 D. 木薯 : 可用来制作淀粉

(二) 请从四个选项中选出正确的一项, 使得该项的两个词或词组依次代入题干的括号中, 能够最大限度地满足题干所表达的类比关系。

44. () 之于 民生 相当于 惩治 之于 ()

- A. 民众 法律 B. 诉求 治理
C. 关注 腐败 D. 提高 环境

45. 自信 之于 () 相当于 谨慎 之于 ()

- A. 自我 小心 B. 自卑 粗俗
C. 信心 束缚 D. 自大 怯懦

46. () 之于 钢琴 相当于 乒乓球 之于 ()

- A. 舞台 球台 B. 手风琴 足球
C. 音乐家 运动员 D. 琴声 喝彩

(三) 请从四个选项选出正确的一项，其特征或规律与题干给出的一串符号的特征或规律最为相似。

47. APDDPAQQ

A. PQDDPQAA

B. APQDDAQP

C. QAPPAQDD

D. QAPDDAPQ

48. Q2Y3Q4R5Y6R

A. D5F6D7J8F9J

B. L4A5A6M7L8M

C. P3G1P4K5G6K

D. U7M6U1N4M6N

49. KU1T66T1UK

A. LK9E33E9LK

B. GD4B33B4DG

C. FV5B85B8VF

D. DG3B43D4BG

50. 

A. 

B. 

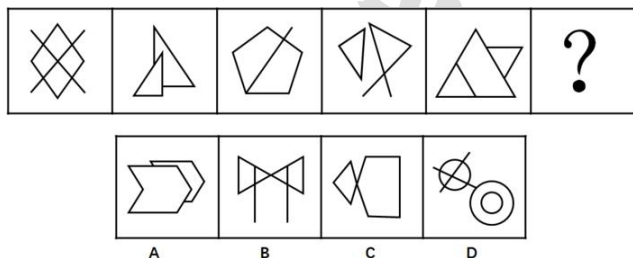
C. 

D. 

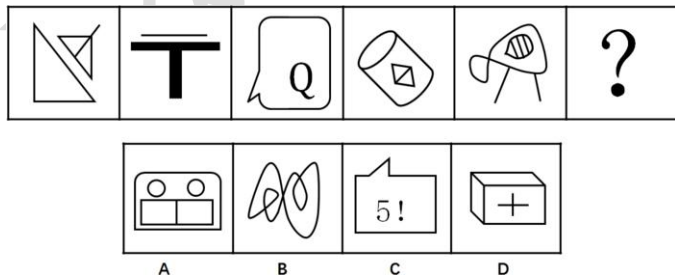
二、图形推理。本部分共 10 题，包括三种类型的题目。

(一) 左边的题干中给出一套图形，其中有五个图，这五个图呈现一定的规律性。在右边给出一套图形，其中有四个图，从中选出唯一的一项作为保持左边五个图规律性的第六个图。

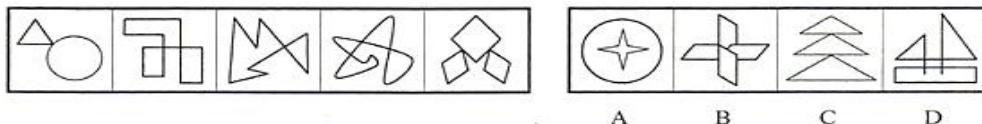
51. 每道题的题干中给出一套图形，其中有五个图，这五个图呈现一定的规律性。选项给出一套图形，其中有四个图，从中选出唯一的一项作为保持题干五个图规律性的第六个图。



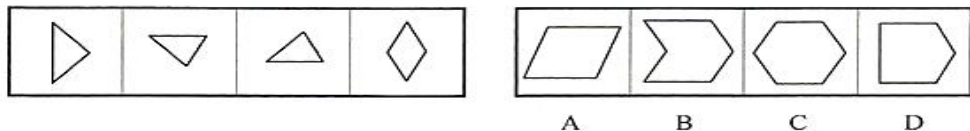
52. 每道题的题干中给出一套图形，其中有五个图，这五个图呈现一定的规律性。选项给出一套图形，其中有四个图，从中选出唯一的一项作为保持题干五个图规律性的第六个图。



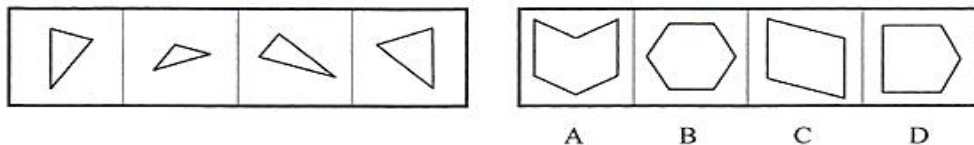
53.



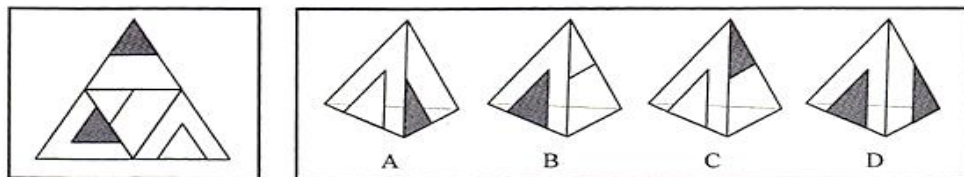
54.



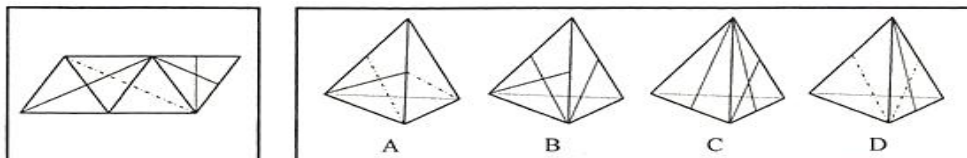
55.



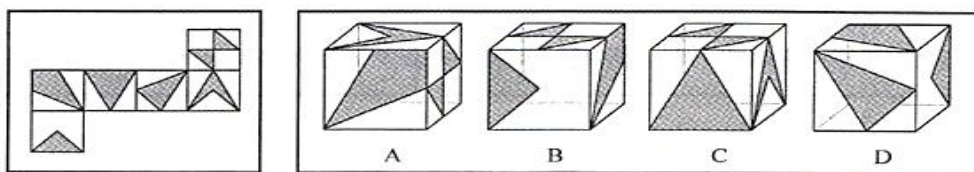
56.



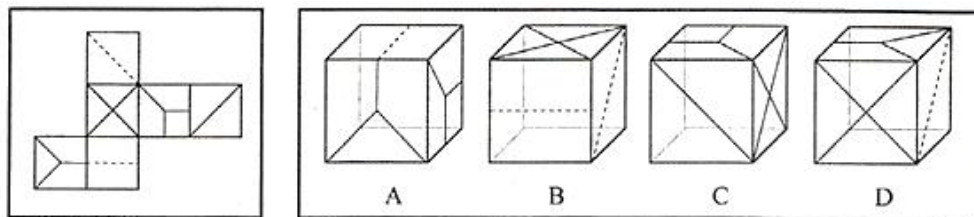
57.



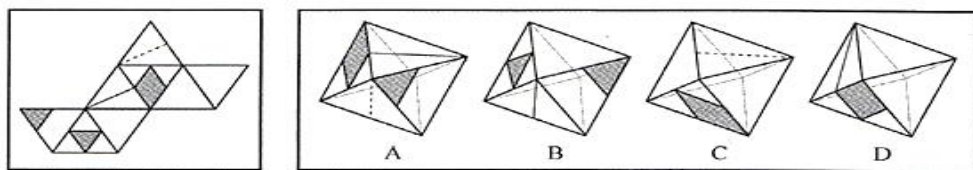
58.



59.



60.



三、逻辑判断。每题给出一段陈述，这段陈述假设是正确的、不容置疑的。请你根据这段陈述，选择一个正确答案。注意：正确的答案不需要任何附加说明即可以从陈述中必然推出。

61. 党要管党，首先是要管好干部；从严治党，关键是从严治吏，干部作风存在问题，就易成为腐败的温床。唯有紧抓干部的清廉从政，坚决扫除作风之弊、行为之垢，我们的党才能永葆纯洁，才能永葆与人民群众的血肉联系。

根据以上信息，可以得出以下哪项（ ）

- A. 如果从严治吏，就要从严治党
- B. 如果干部作风没有问题，腐败就找不到滋生的温床
- C. 如果不紧抓干部的清廉从政，我们的党就不能永葆与人民群众的血肉联系
- D. 如果坚决扫除作风之弊、行为之垢，我们的党就能永葆纯洁

62. 最有希望的成功者，并不是那些才干出众的人，而是那些善于抓住每一次机遇努力去开拓奋斗的人。

根据以上信息，得不出以下哪项（ ）

- A. 有的最有希望的成功者不是那些才干出众的人
- B. 有的才干出众的人并不是最有希望的成功者
- C. 有些才干出众的人是那些善于把握机遇的人
- D. 有些善于把握机遇的人是最有希望的成功者



63. 为什么地球、太阳等亿万个星球，亿万年来的能在宇宙间相安无事地运行而不发生冲撞呢？为什么人与人之间，经常会发生磕磕碰碰的事呢？人文专家告诉我们，地球、太阳等亿万个星球都运行在自己的轨迹上，都走在自己的路上，而我们人类却非如此，有的人见别人的路好走，就想去走别人的路；见别人的路近，就要去抄别人的近路。放着自己的路不走而去挤别人的路，怎么会不发生磕碰和碰撞呢？

以下哪些如果为真，最能质疑上述人文专家的言论（ ）

- A. 每个人的路都应该是独特的，不应该交叉重叠
- B. 每个人的路都是独特的，但总有交叉重叠的部分
- C. 人生不如意事十之八九，磕碰和冲撞再平常不过
- D. 人与星球并不相同，何况星球也有磕碰和冲撞的时候

64. 目前，中国 10 个省区市设置了 25 个“弃婴安全岛”，广州市的“弃婴安全岛”在开放两周后就收到弃婴 51 名，南京市的“弃婴安全岛”在启用 2 周内收到 26 名弃婴。统计数字显示，全国“弃婴安全岛”接收的婴儿基本男女各一半，但是几乎所有的弃婴都有残疾或重病。有专家就此批评指出，“弃婴安全岛”的设置助长了父母遗弃婴儿的行为。

以下哪项如果为真，最能质疑上述专家提出的批评（ ）

- A. 设置“弃婴安全岛”是对我国儿童医疗保障制度的一种有益补充
- B. 患有残疾或重病的弃婴由于“弃婴安全岛”的设置而能得到社会及时救助
- C. 弃婴对于家长来说实属无奈之举，忍痛遗弃孩子希望他们得到更好救治
- D. “弃婴安全岛”刚刚设置不久，其对婴儿父母行为的影响还有待进一步观察

65. 购买彩票时，很多人往往愿意自己选号，不愿交由电脑随机选号。因为他们相信，中奖号码从长远看是随机产生的，但在短期内却有规律，比如前面连续多期出现的数字，这期出现的可能性就要小一些；或者某些数字对于自己意味深长，或者干脆就是自己的幸运数字，选择他们应该更可能中奖。

以下哪项如果为真，最能质疑上述这些人的想法（ ）

- A. 很多人研究彩票的中奖规律，但他们的中奖率并没有因此而显著提高
- B. 每一期中奖号码都是独立随机产生的，彼此间没有任何内在的关联
- C. 对于中奖号码的产生究竟有无规律，很多人持“信则有，不信则无”的观念
- D. 电脑选号是随机的，而自己选号有特定的意向，在这一点上人比电脑更聪明

66. 小芳与小莲是一对好朋友，大刚与大勇也是，但这四人彼此间却不太熟悉。在一次机关联谊会，小芳、小莲和大刚、大勇相遇，小芳能叫出大刚的名字，但大刚却叫不出小芳的名字。凡能叫出大刚名字的人都能叫出大刚朋友的名字，凡叫不出小芳名字的人都叫不出小芳朋友的名字。

根据以上信息，可以得出以下哪项（ ）

- A. 小莲能叫出大刚的名字
- B. 大刚能叫出小莲的名字
- C. 小芳能叫出大勇的名字
- D. 大勇能叫出小芳的名字

67. 某企业有甲、乙、丙、丁、戊、己、庚等 7 位董事，他们执行集体决策制度。制度规定，如果赞成票数达与会人数的一半以上，一项决策就能通过，否则不能通过；每位董事必须对所有决策提案行使表决权，要么赞成，要么反对，不得弃权。再一次决策会议上。董事悉数到齐，需要对 1 号、2 号、3 号等 3 项提案进行决策表决。已知：

- (1) 对这 3 项提案，每位董事都至少赞成一项，至少反对一项；
- (2) 甲赞成 1 号提案，但反对 2 号提案；
- (3) 乙赞成 1 号和 3 号提案；
- (4) 戊只赞成 1 号提案；
- (5) 庚反对 1 号和 2 号提案；

如果丁的选择与庚正好相反，可以得出以下哪项（ ）

- A. 1 号提案能通过
- B. 2 号提案能通过
- C. 3 号提案能通过
- D. 3 号提案不能通过

68. 在以下 5×5 的矩阵中，每个小方格中可填入一个汉字，要求每行每列均含有金、木、水、火、土 5 个汉字，不能重复也不能遗漏。根据已经给定的条件，矩阵中的①所在方格中应该填入的汉字是：

	水		①	金
--	---	--	---	---



		木		
			木	
		土		

- A. 火 B. 水 C. 木 D. 土

阅读下列资料，回答 69~70 题。

某大学辩论协会和围棋协会两个学生社团各自对外招聘 3 名干事。报名的人有甲，乙，丙，丁，戊，己等六人。事后得知：

- (1) 每个社团均各招到 3 名干事；
- (2) 至少有 1 位报名者被两个社团同时录用；
- (3) 甲、丁两人分别被不同的社团录用；
- (4) 乙、丙两人均没有被两个社团同时录用；
- (5) 如果丁被录用，则戊一定会被录用，且两人都只在围棋协会。

69. 根据以上信息，可以得知（ ）

- A. 甲被围棋协会录用 B. 乙被辩论协会录用
C. 丙被辩论协会录用 D. 戊被围棋协会录用

70. 如果乙没有被两社团录用，可以得出以下哪个选项（ ）

- A. 甲被围棋协会录用 B. 丙被围棋协会录用
C. 戊被辩论协会录用 D. 己被辩论协会录用

四、定义判断。先给你一个概念的定义，然后给出一组典型例证，要求你从中选出最符合题意的一项。注意：假设这个定义是正确的，不容置疑的。

71. 析词：指为了表达的特殊需要，临时把某个词拆开使用的修辞手法。

下列属于析词的是（ ）

- A. 谈笑有鸿儒，往来无白丁
B. 上下四方曰宇，古往今来曰宙
C. 教学要避免疏而不导，启而不发
D. 不爱家何以爱国，不孝父母何以爱人

72. 文献老化：指科学文献随着时间的推移，有效性或有益性逐渐降低，甚至失去作为科学情报源存在的价值。

下列属于文献老化的是（ ）

- A. 某资料室近几年陆续购买了大量图书，由于管理不善，很多已经破损不堪
B. 某科技辞典已经出版到第 6 版，图书馆的 1978 年第 1 版几乎无人查阅
C. 某科技杂志 1950 年第 1 期上的一篇论文，今天看来，其测量数据误差很大
D. 《1965 年××统计年鉴》的许多数据资料，至今仍然受到研究者的高度重视

73. 换城消费：指由于两个城市之间交通便捷，物价高低不一，市民经常到对方城市购物的消费方式。

下列属于换城消费的是（ ）

- A. 北京市民小汪告诉记者：在北京 6 块钱一斤的红富士苹果，天津 10 元能买 4 个；北京 80 元一桶的食用油，天津才 65 元
B. 每次听到珠海有商场搞促销，深圳的李女士都会兴高采烈地赶去血拼，半天时间，家里就满是她的战利品
C. 赵女士每次从韩国回来，都在机场免税店买一大堆化妆品，这比在国内购买同一韩国品牌省不少钱
D. 黄先生在南方某市工作了七八年，眼见物价一路狂飙，准备卖掉自家房子，和妻子一块回北方老家养老

74. 二次留守，指农村留守儿童被父母接到城市后，由于父母每天忙于工作，孩子周围都是陌生人，没有朋友和玩伴。

下列属于二次留守的是（ ）

- A. 某城市农民工公寓聚居着大量外来工友，很多人都把孩子接到城里过暑假，天天有操各地口音的小孩在附近的小卖部、广场上一起玩耍
B. 在某新区街道菜场里，被父母接进城的小英每天帮着卖菜的奶奶收钱，没有客人的时候，她就蹲在地上翻看连环画
C. 暑假期间，某教育部门组织大批留守儿童进城参加夏令营活动，有的孩子还能与久别重逢的父母短暂相聚，有父母带他们游玩城市景点
D. 进城打工的小陈夫妇把智障儿子小明带到身边，民政部门得知后把他安排到残疾人康复中心，小陈夫妇每周只能见小明一次



75. 次生丑闻：指某地或某人曝出某个丑闻后，又陆续牵出的其他丑闻。

下列不属于次生丑闻的是（ ）

A. 某市一官员的“艳照门”传得沸沸扬扬，记者在政府网站上核查该官员履历时，意外发现网上其他领导的视察照片居然有不少是 PS 的

B. 在会场上抽天价香烟的某官员被曝光停职后，网民们继续搜索，很快发现他名下有多套来源不明的房产

C. 新华社一篇题为《看似有隐情，其实真忽悠——盘点那些曾经的“官谣”》的文章，梳理了近年来各地出现的“官谣”案例

D. 故宫失窃案见诸报端后，由于故宫方面应对不当，“失窃门”又牵出了“错字门”、“会所门”、“瞒报门”

76. 隐性歧视：指存在于人的思想中、未公开显现出来的对特定群体的歧视性认识。

下列属于隐性歧视的是（ ）

A. 戴着墨镜进居民小区的中年男子往往被保安拦住盘问

B. 满脸大胡子、装束怪异的人往往被看成艺术家

C. 西装笔挺、皮鞋锃亮的人常常被认为是成功人士

D. 打扮成失学少年的乞丐往往能讨到更多的钱

77. 邻避效应：指居民针对将要建在自家附近、可能造成环境污染的公共设施所产生的嫌恶心理。出于对健康安全的担心，居民有时会出现高度情绪化的集体抵制甚至抗争行为。

下列不属于邻避效应的是（ ）

A. 某市建委召开 110 千伏变电站建设座谈会，当地居民拒绝参加并多次到市规划局、市环保局等单位上访，强烈反对将变电站建在自己家门口

B. 半年以来，每到城管委接访日，某村居民就会成群结队赶来上访，要求取消在该村附近建立大型垃圾中转站的计划

C. 某地准备建设一个大型的污水处理厂，计划刚一披露就遭到当地居民的强烈反对

D. 某酒店准备扩建自己的停车场，与周围居民进行了多次协商，始终没能达成一致，最终放弃了扩建计划

78. 保险储备：指企业为防备原材料运达误期或计划外增加需要量而建立的原材料储备。

下列属于保险储备的是（ ）

A. 张大妈平时习惯多买些粮油盐放在家里，以备万一有什么事抽不开身去买

B. 李厂长望着满仓库的滞销产品，愁容满面，心里盘算着大力扩展销售渠道的办法

C. 洪水肆虐，道路交通受到严重威胁，刘厂长并不慌忙，因为渡过汛期的原料早已备足

D. 王经理年前到处追债收款，给员工发放了年终奖金，也准备好了来年开工的各项资金

79. 服务性公关：指为获取社会公众的了解和好评，树立组织的良好形象，向消费者提供各种实惠服务的公共关系活动。

下列属于服务性公关的是（ ）

A. 某冰箱生产企业定期向客户发送食品贮存、保鲜新信息

B. 某公司借助墙报和公司网站定期公布产品研发销售情况

C. 某帐篷生产企业及时向某地震灾区捐助了数百顶帐篷

D. 某著名品牌的消费者自建一个交流使用体验的 QQ 群

80. 禁果心理：指基于对某种禁令的逆反心理而产生的强烈的探求欲望。

下列不属于禁果心理的是（ ）

A. 许多寺院的入口处都有“禁止拍摄”的牌子，仍有少数游客趁工作人员不备偷偷拍摄

B. 宙斯派侍女潘多拉传递魔盒，特地交代她千万不能打开，潘多拉却经不住诱惑打开了盒子，结果里面的罪恶跑到了人间

C. 某部书是官方禁书，但很多人不明白为什么要禁，千方百计地找这部书来读，还出现了许多手抄本

D. 某商场在“双十一”当日推出 20 台特价平板电脑，先到先得，结果出现了数百人抢购的场面

第四部分 资料分析

（共 25 题，参考时限 25 分钟）

下列给出的文字、表格、图形资料均有五个问题要你回答，你应根据资料提供的信息进行分析、计算、处理，然后从备选答案中选择一个最恰当的答案。

一、根据以下资料，回答 81～85 题。

2013 年上半年，全国入出境 2.19 亿人次，同比增长 5.07%。其中，内地居民 9091.83 万人次，港澳台居民 1.03 亿，外国人 2538.42 万人次。

内地居民出境 4564.43 万人次，同比增长 18.36%。内地居民出境前往国家或地区居前 5 位的分别是中国香港、中国澳门、泰国、韩国、中国台湾。



港澳台居民入出境 1.03 亿人次，同比下降 2.15%。其中，香港居民 7697.27 万人次，同比下降 1.25%；澳门居民 2069.99 万人次，同比下降 4.38%；台湾居民 486.82 万人次，同比下降 6.36%。

外国人入出境 2538.42 万人次，同比下降 5.22%。其中，入境 1277.07 万人次，同比下降 5.15%。外国人来华居前五位的国家分别是韩国、日本、美国、俄罗斯、越南。

来华外国人中，观光休闲 494.01 万人次，访问 248.35 万人次，交通运输服务员工 153.92 万人次，会议商务 63.89 万人次，其他入境目的为 316.90 万人次。外国人入境居前三位的口岸为上海浦东机场口岸（230.28 万人次，占总数的 18.03%）、北京首都机场口岸（202.80 万人次，占总数的 15.88%）和广州白云机场口岸（117.33 万人次，占总数的 9.19%）。

81. 2013 年上半年，港澳台居民入出境人次占全国入出境人次的比重是（ ）

- A. 45.16% B. 47.03% C. 49.75% D. 50.02%

82. 2013 年上半年，内地居民出、入境人次相差（ ）

- A. 32.59 万人次 B. 48.51 万人次 C. 37.03 万人次 D. 35.82 万人次

83. 2013 年上半年，既在内地居民出境前往国家或地区居前五位，又在外国人来华居前五位的国家是（ ）

- A. 泰国 B. 韩国 C. 日本 D. 美国

84. 2013 年上半年，港、澳、台居民入出境人次占全国入出境人次之比为（ ）

- A. 74.4 : 20.6 : 5.9 B. 77.0 : 20.7 : 4.9
C. 76.9 : 21.3 : 4.8 D. 78.1 : 20.6 : 5.3

85. 下列说法正确的是（ ）

- A. 2013 年上半年，外国人来华观光休闲与访问的人次相差 254.66 万
B. 2013 年上半年，港、澳、台居民入出境人次中台湾居民同比减少最多
C. 2013 年上半年，外国人入境人次同比下降速度高于出境人次同比下降速度
D. 2013 年上半年，上海浦东机场口岸外国人月平均入境人次是 38.38 万

二、根据以下资料，回答 86~90 题。

2013 年中国货物进出口总额 41600 亿美元，比上年增长 7.6%，成为世界第一贸易大国。其中，出口 22096 亿美元，增长 7.9%；进口 19504 亿美元，增长 7.3%；贸易顺差 2592 亿美元。2012 年中国货物进口 18178 亿美元，比上年增长 4.3%。

2005~2012 年中国货物进出口情况

年份	进出口总额 (亿美元)	占世界货物进出口总额 的比重 (%)	货物出口美国占中国货物 出口额的比重 (%)	从日本货物进口占中国 货物进口额的比重 (%)
2005	14221	13.4	21.4	15.2
2006	17607	14.4	21.0	14.6
2007	21738	15.4	19.1	14.0
2008	25616	15.8	17.7	13.3
2009	22073	17.5	18.4	13.0
2010	29728	19.5	18.0	12.7
2011	36421	19.9	17.1	11.2
2012	38668	-	17.2	9.8

86. 2013 年中国货物出口增长速度比进口增长速度提高（ ）

- A. 0.3 个百分点 B. 0.6 个百分点 C. 7.3 个百分点 D. 7.6 个百分点

87. 2013 年中国货物进出口总额比 2005 年增加了（ ）

- A. 24447 亿美元 B. 25619 亿美元 C. 26939 亿美元 D. 27379 亿美元

88. 2012 年中国货物出口占货物进出口总额的比重是（ ）

- A. 47.0% B. 48.3% C. 53.0% D. 57.7%

89. 2006~2011 年六年，中国货物进出口总额年增长速度超过世界年增长速度的年份有（ ）

- A. 3 年 B. 4 年 C. 5 年 D. 6 年

90. 下列判断不正确的有（ ）

- (1) 2006~2012 年七年，中国从日本货物进口额占货物进口总额的比重呈逐年递减的态势
(2) 2011 年中国对美国的货物出口额占货物出口总额的比重比 2005 年降低了 4.3%
(3) 2009~2013 年五年，中国货物进出口总额年平均增长速度小于“十一五”时期年平均增长速度



- A. 0 个 B. 1 个 C. 2 个 D. 3 个

三、根据以下资料，回答 91~95 题。

2013 年江苏省全年完成港口货物吞吐量 21.4 亿吨，比上年增长 9.7%。其中，外贸货物吞吐量 3.5 亿吨，增长 12.9%。公路里程 15.6 万公里，新增 1976 公里。其中，高速公路里程 4443.0 公里，新增 71.5 公里。民用汽车保有量 954.4 万辆，净增 141.3 万辆，分别增长 17.4%和 13.3%。私人汽车保有量 790.1 万辆，净增 132.9 万辆，分别增长 20.2%和 15.0%。其中，私人轿车保有量 554.6 万辆，净增 98.7 万辆，分别增长 21.6%和 14.4%。

2013 年江苏省各种运输方式完成运输量情况

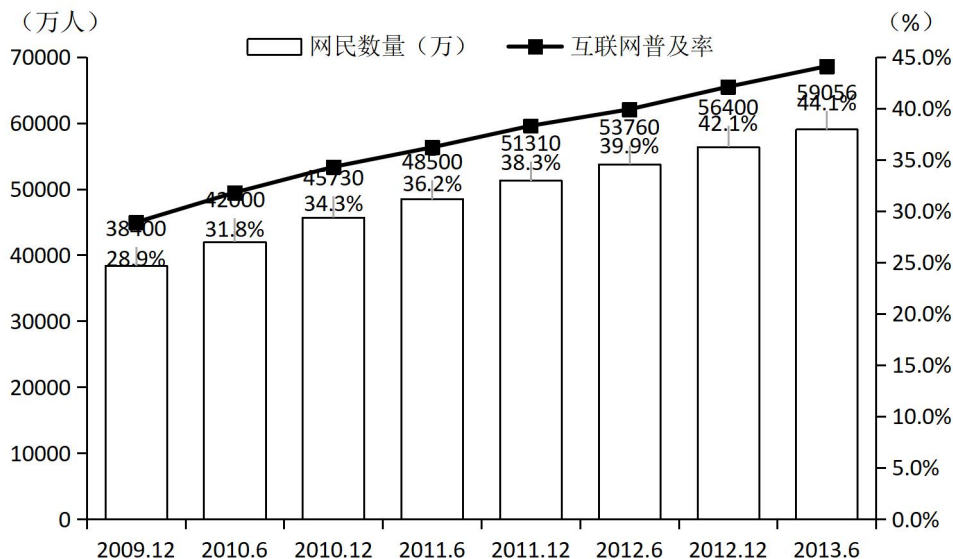
运输方式	货物周转量		货运量		旅客周转量		客运量	
	绝对数(亿吨公里)	比上年增长(%)	绝对数(万吨)	比上年增长(%)	绝对数(亿人公里)	比上年增长(%)	绝对数(万人)	比上年增长(%)
铁路	373.2	-4.7	6806.2	-5.8	505.9	13.3	13434.9	14.3
公路	1653.5	13.8	168613	9.7	1461.2	3	264416	3.5
水路	6857.7	13.3	63648	8.5	0.8	-39.5	443.9	-25.3
民航	1	5.1	6.7	-0.3	94	12.5	729.5	9.8
管道	619.3	7.4	12617	7.6	-	-	-	-
总计	9504.7	12.2	251690.9	8.8	2061.9	5.7	279024.3	4

91. 2013 年江苏省铁路客运量增速比旅客周转量增速高（ ）
A. 3.0% B. 1.0% C. 0.5% D. 2.7%
92. 2013 年江苏省公路旅客周转量占总旅客周转量的比重比上年（ ）
A. 下降了 1.8 个百分点 B. 上升了 1.8 个百分点
C. 下降了 5.7 个百分点 D. 上升了 5.7 个百分点
93. 下列运输方式中，2012 年江苏省货运量占货运总量比重最大的运输方式是（ ）
A. 民航 B. 水路 C. 管道 D. 铁路
94. 2012 年江苏省完成港口货物吞吐量及外贸货物吞吐量分别为（ ）
A. 20.5 亿吨，4.5 亿吨 B. 20.5 亿吨，3.1 亿吨
C. 19.5 亿吨，4.5 亿吨 D. 19.5 亿吨，3.1 亿吨
95. 下列说法正确的是（ ）
A. 2013 年江苏省私人汽车净增量增速低于私人轿车净增量增速
B. 2013 年江苏省民用汽车保有量增速高于私人汽车保有量增速
C. 2013 年江苏省公路里程增速低于高速公路里程增速
D. 2013 年江苏省货运量增速低于客运量增速

四、根据以下资料，回答 96~100 题。

2012 年，全国光缆线路长度净增 268.6 万公里，达到 1480.6 万公里；局用交换机容量净增 478.1 万门，达到 43906.4 万门；移动电话交换机容量净增 11233.8 万户，达到 182869.8 万户；全国互联网国际出口带宽达到 1899792.0Mbps，同比增长 36.7%。

2013 年 6 月，全国互联网普及率为 44.1%，同比增长 2.0%；手机网民规模达 46400 万人，同比增加 4379 万人，网民中使用手机上网的人数占 78.63%；农村网民占 27.9%，规模达 16500 万人，同比增加 908 万人。韩国、日本互联网普及率分别为 83.0%、79.0%。



96. 2009 年 12 月至 2013 年 6 月，全国网民增加最多的时期是（ ）

A. 2009 年 12 月至 2010 年 6 月

B. 2011 年 6 月至 2011 年 12 月

C. 2012 年 12 月至 2013 年 6 月

D. 2010 年 6 月至 2010 年 12 月
97. 2012 年 6 月至 2013 年 6 月，全国网民及手机网民分别增加（ ）

A. 5296 万人，3641 万人

B. 2656 万人，4379 万人

C. 5296 万人，4379 万人

D. 2656 万人，3641 万人
98. 用 V_1 、 V_2 、 V_3 分别表示 2012 年全国光缆线路长度、移动电话交换机容量和互联网国际出口带宽的增长率。下列表示正确的是（ ）

A. $V_3 > V_1 > V_2$

B. $V_3 > V_2 > V_1$

C. $V_1 > V_3 > V_2$

D. $V_1 > V_2 > V_3$
99. 2012 年 6 月，全国网民中农村网民占比是（ ）

A. 44.1%

B. 29.0%

C. 27.6%

D. 78.5%
100. 下列判断正确的有（ ）

(1) 2012 年全国互联网普及率为 42.1%

(2) 2013 年 6 月，日本互联网普及率世界最高

(3) 2010 年 6 月至 2013 年 6 月，我国互联网普及率每半年较前期都有所提高

A. 0 个

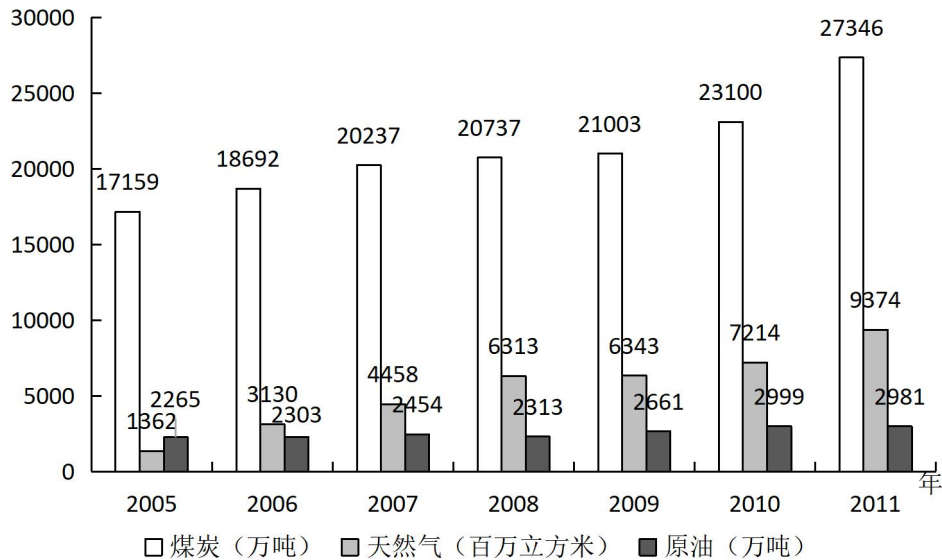
B. 1 个

C. 2 个

D. 3 个

五、根据以下资料，回答 101~105 题。

2005~2011 年江苏省煤炭、天然气和原油消费情况



101. 2011 年江苏省天然气消费量比 2005 年增长了（ ）

A. 4.88 倍 B. 5.88 倍 C. 6.88 倍 D. 7.88 倍

102. 2006~2011 年六年，江苏省煤炭消费增长量最小的年份是（ ）

A. 2007 年 B. 2008 年 C. 2009 年 D. 2010 年

103. 2006~2011 年六年，江苏省原油消费年平均增长量是（ ）

A. 102 万吨 B. 113 万吨 C. 119 万吨 D. 137 万吨

104 下列说法正确的是（ ）

A. 2006~2011 年六年，江苏省天然气消费年平均增长速度大于煤炭消费

B. 2006~2011 年六年，江苏省原油消费年平均增长速度大于煤炭消费

C. 2006~2011 年六年，江苏省原油消费年平均增长速度大于天然气消费

D. 2006~2011 年六年，江苏省煤炭消费年平均增长速度分别大于天然气消费、原油消费

105. 下列判断不正确的有（ ）

（1）2011 年江苏省天然气消费量比 2007 年翻了一番多

（2）2011 年江苏省煤炭消费增长量大于前四年煤炭消费增长量的总和

（3）2006~2011 年，江苏省煤炭、原油和天然气消费量均呈逐年增加的态势

A. 0 个 B. 1 个 C. 2 个 D. 3 个

2014 年江苏省考行测解析 B

1. 【解析】B。文段说的是立案后相关事项的公开制度。A 项的“提高司法工作效率”是文段前半部分论述的目的，表述过于宽泛。C 项的“告知方式”在文段中没有体现，属于无中生有。D 项的“社会监督”与文中的“当事人和社会监督”的表述不符。因此 B 项正确。

2. 【解析】D。由“垃圾的焚烧……这两种方式正在经历技术变革并日趋完善”可知 A 项正确。由第一句和第二句可知，B 项正确。由“传统意义上的循环利用，如金属、塑料及纸张的回收利用”可知，C 项正确。D 项不能推出，因此本题选 D。

3. 【解析】D。分析文段可知，“但是”之后的内容是文段的重点，即将汉语作为第二语言学习的人数仍然较少，汉语的国际影响力尚有待进一步提升。因此本题选 D。

4. 【解析】C。文段中历代执政者为政规则的五方面讲述了传统廉政文化的特点。A 项“执法如山，遵章守纪”对应“畏法度”；B 项“注重民生，情操高尚”对应的是“重民生”“重情操”；D 项“生活简朴，严于律己”对应文中的“崇节俭”“能自律”；C 项没有对应点。

5. 【解析】C。文段首先指出“以房养老”的前提和观念，接着以“但”作转折说明由于房价的上涨，人们养房都成问题，更别说“以房养老”了，也就是说“以房养老”在现阶段适用人群较少。因此，C 项正确。

6. 【解析】D。“汽车产业……不仅……”阐明了汽车产业对经济的影响，“而且……解决了就业问题，提升了社会福利”阐明了汽车产业对社会的影响，综合起来也就是汽车产业对经济社会发展的作用。“这反过来又会促进汽车工业的进一步发展”是经济社会发展对汽车产业的作用，所以整个文段讲的是汽车产业与经济社会发展的关系。因此，D 项正确。

7. 【解析】B。“海峡”原指两个水域之间的狭窄水上通道，连接两个水域。“一湾浅浅的海峡”比喻西方法治与传统内发秩序之间既有联系，又有矛盾的状态，排除 C、D 两项。“鸿沟”比喻事物间明显的界线，不合文意。“隔膜”更能体现两者之间既有联系又有矛盾的状态，因此，B 项正确。

8. 【解析】B。文段首句指出许多临床实验表明抗氧化物质实际上并不能对心血管系统起到改善作用，接着又以最近一次实验（维生素 E 能否抑制癌症）的结果来佐证。由此可知，这段文字预设的信息应是“人们认为抗氧化物质是对身体健康有利的”。

9. 【解析】B。文段首先指出随着粮食价格的暴涨，出现了许多投资农场、收购农田的购买行为，这些行为表面上是为了土地，其深层目的是为了水；接着进一步说明随着水资源的日益稀缺，水越来越有可能成为土地交易中最有价值的一部分。由此可以得出结论：抢购土地的实质是对水资源的争夺。A、C 两项均为文段部分内容，D 项无法从文段中得出。因此，B 项正确。

10. 【解析】B。文段首先指出如果认识不到大学毕业生就业的一些规律，就会误导舆论和政策，接着说明受教育程度越高，求职者实现与劳动力市场的匹配所需的时间就越长，因此单纯的大学毕业几个月后的就业率并不能完全说明问题。由此可知，文段意在说明的是目前有关大学生就业难的舆论有待商榷。A 项“可靠性”表述太笼统，C 项并非文段主旨所在，D 项本身表述错误。因此，B 项正确。

11. 【解析】C。A 项“在加拿大广播公司文学节目制作人罗伯特·韦佛的推荐下，门罗的作品终于有机会被更多读者关注。”并非针对她的第一篇小说而言，“被更多的读者关注”也不是指“公开出版”，排除 A 项。“她的第一部短篇小说集《快乐影子舞》获得了加拿大文学界的最高荣誉”，而不是第一篇小说，排除 B 项。D 项在文章中未提及，因此，C 项正确。

12. 【解析】D。由“每当门罗回忆起这段艰涩的时光，总忍不住叹息‘真是绝望的赛跑’”可知，“绝望的赛跑”是指前文提到的“在小说、孩子、书店和琐碎的家务事之间繁忙地周旋。”因此，D 项正确。

13. 【解析】A。从第四段“而立之年，门罗的文学事业逐渐走向辉煌。1968 年，……总督奖”可知在 1968 年门罗应该在 30 岁以上，因此，A 项正确。

14. 【解析】B。A 项出自第二段的原文，C 项出自文段最后一句话：“在经历了少女、人妻、人母，走向老年的过程中，门罗已经纯熟于这种处变不惊的节奏”；D 项从第五段得到，而 B 项与原文不符。

15. 【解析】C。文章最后一段的“怜悯之情”可以看出，“空隙”所流露的主要是悲天悯人的情怀。C 项正确。

16. 【解析】C。分析语境可知，横线处所应填入的词语要与“不追求一步到位”、“差异性”、“过渡性”相呼应，“循序渐进”符合，指学习、工作按照一定的步骤逐渐深入或提高。因此，C 项正确。

17. 【解析】C。A 项，“工具”指用以达到目的的事物，与“生动”搭配不妥，排除。B 项，“形式”指事物的形状和结构等，而文字表现的是“思维方式、生活方式”的内容，用在此处不妥，排除。D 项，提取主干，“文字是记录”，不合语法。进行验证 C 项，“载体”泛指能够承载其他事物（多为抽象概念）的事物，用在此处符合语境。因此，C 项正确。

18. 【解析】A。先看第一个空，“肩负”、“承担”与“憧憬和理想”搭配不当，排除 C、D 两项。再看第二空，“挑选”指从若干人或事物中找出合乎要求的，与“标准”搭配不当，“遴选”是指公务员队伍内部竞争性的转任和选拔方式，“遴选”更符合语境。因此，A 项正确。

19. 【解析】A。先看第二空，与“精神”相搭配的只能是“秉持”，因此，A 项正确。进一步验证第一空，“消除网络谣言”符合语境。



20. 【解析】C。先看第二空,“或者”表示并列,应填入的词语应该和后面的“始料未及”意思相一致。“无法招架”指没有办法抵挡;“猝不及防”指事情突然发生,来不及防备;“瞠目结舌”形容受窘或惊呆了的样子;“目不暇接”指东西太多,眼睛看不过来;结合语境看,只有“目不暇接”用在此处最合适。验证第一空,“无所不在”指到处都有,到处都存在,与前文“广泛应用”对应,符合语境。因此,C项正确。

21. 【解析】A。第一空,文段说的是纳米技术在未来带来的影响,这些影响尚未发生,“既有”不符合语境,排除D项。第二空,纳米技术可能存在风险,应该用谨慎的态度面对纳米技术的前景,“审慎”包含“慎重”的意思,“克制”词义程度过重。因此,A项正确。

22. 【解析】A。与“主人和客人均彬彬有礼……洋溢着自由争论的热烈气氛”相对应的是“君子和而不同”。

23. 【解析】B。先看第二空,主语是“批评”,“注目”和“注视”不能与“批评”搭配,排除C、D两项。第三空,与“无边无际的谩骂”构成对应关系的是“自我贬低”。因此,B项正确。

24. 【解析】C。先看第三空,“中国人口均衡发展”与“长期潜在增长率”之间是递进关系,“以及”表并列,“抑或”表选择,排除B、D两项。再看第一空,由“人口红利终究要消失”和“生育政策的调整也不可能在短期内_____人口红利”可知,生育政策无法改变人口红利逐渐消失的事实,“逆转”更符合语境。因此,C项正确。

25. 【解析】A。先看第二空,由“政府可以自己出手,也可以让企业相助”可以看出文段所要表达的意思是:不是所有的社会责任都由政府直接承担。“事必躬亲”和“亲力亲为”都合适,排除B、C两项。再看第三空,“纷至沓来”指连续不断地到来,文段中并无先后连续的意思,排除D项。因此,A项正确。

26. 【解析】C。利用作差法,后一项减去前一项,相邻两项之差依次为:15,12,9,6,(3),这是一个公差为-3的等差数列,因此,括号处应填入的数字是44+3=47,C项正确。

27. 【解析】D。相邻两项作商,得到新数列2,3,5,8,(12),该数列相邻两项之差依次为1,2,3,(4),括号处应填入的数字是120×12=1440。

28. 【解析】B。观察可知,数列各项依次为1²,11²,21²,31²,41², (51²=2601),因此,B项正确。

29. 【解析】C。相邻两项之差依次为:16,24,36,54,(81)这是一个公比为1.5的等比数列,括号处应填入133+81=214。

30. 【解析】C。数列各项依次写成 $\frac{2}{2}, \frac{4}{4}, \frac{8}{7}, \frac{16}{11}, \frac{32}{16}, (\frac{64}{22} = \frac{32}{11})$,该数列分子是公比为2的等比数列,分母是组成一个等差数列,相邻两项之差依次为2,3,4,5,(6)。因此,C项正确。

31. 【解析】C。设甲、乙两种商品的成本价分别为 x 、 y 元,根据题意列方程组得
$$\begin{cases} x+y=200 \\ (1.2x+1.3y) \times 0.9=200+27.7 \end{cases}$$
,解得
$$\begin{cases} x=70 \\ y=130 \end{cases}$$
。

32. 【解析】C。根据题意可得 $a_3=1977$, $a_4=1986$, $a_5=1981$, $a_6=1983$, $a_7=1982$, $a_8=1982$ …后面都是1982,

则 $\lim_{n \rightarrow +\infty} a_n = 1982$ 。

33. 【解析】C。追及问题,利用公式“追及路程=速度差×追及时间”求解。甲、乙之间的距离=追及路程=20+12=32(米),甲、乙速度差=5-4.5=0.5(米/秒),则追及时间=32÷0.5=64(秒)。甲跑过的圈数=甲跑过的路程÷跑道长度=5×64÷[(20+12)×2]=5(圈)。

34. 【解析】B。设加入的水量为 x 克,根据加入水后两瓶盐水的浓度相等列方程得
$$\frac{600 \times 16\%}{600+x} = \frac{240 \times 25\%}{240+x}$$
,解得 $x=360$ 。

35. 【解析】C。设男生有 x 名,女生有 $(50-x)$ 名。由第一名男生认识15名女生,则最后一名(第 x 名)男生认识 $(15+x-1)$ 名女生。又最后一名男生认识所有的女生可得 $50-x=15+x-1$,解得 $x=18$ 。

36. 【解析】A。三位数一共有900个,其中三位数字都相同的有9个,三个数字都不同的有 $9 \times 9 \times 8=648$ (个),则恰有两位数字相同的有 $900-648-9=243$ (个)。

37. 【解析】D。

解法一:设 $\triangle AOB$ 的边AB上的高为 H_1 , $\triangle COD$ 的边CD上的高为 H_2 ,由AB与CD平行可得, $\frac{AB}{CD} = \frac{H_1}{H_2} = \frac{AO}{CO} = \frac{1}{2}$ 。则梯形

ABCD与 $\triangle AOB$ 的面积之比为 $\frac{(AB+CD) \times (H_1+H_2)}{2} : \frac{AB \times H_1}{2} = (3AB \times 3H_1) : AB \times H_1 = 9:1$ 。

解法二:因为AB与CD平行,所以 $\triangle AOB \sim \triangle COD$,两者的面积之比等于对应边之比的平方。由 $CO=2AO$ 可得 $\triangle AOB$ 与 $\triangle COD$ 的对应边之比为1:2,面积之比为1:4。因为 $\triangle AOB$ 与 $\triangle BOC$ 是两个等高的三角形,所以两者的面积之比等于AO与CO之比,即1:2。又 $\triangle AOD$ 与 $\triangle BOC$ 面积相等,所以梯形ABCD与 $\triangle AOB$ 的面积之比为 $(1+4+2+2):1=9:1$ 。

38. 【解析】C。小张的手表每比标准时间快 12 小时后会再次显示标准时间，即每次需要经过 $12 \times 60 \div 30 = 24$ （天）。小李的手表每比标准时间慢 12 小时后会再次显示标准时间，即每次需要经过 $12 \times 60 \div 20 = 36$ （天）。24 和 36 的最小公倍数是 72，即最少经过 72 天两人的手表才能再次同时显示标准时间。

39. 【解析】A。76 的任意次方的最后两位数字都是 76，25 的任意次方的最后两位数字都是 25，则和的最后两位数字是 $76 + 25 = 101 \rightarrow 01$ 。

40. 【解析】A。设工程总量为 60（取 10、15、12 的最小公倍数），则甲、乙、丙的效率分别为 6、4、5。设最后完成的天数是 x ，根据题意列方程得 $6x + 4(x - 5) + 5(x - 2) = 60$ ，解得 $x = 6$ 。

41. 【解析】D。木材经过加工得到木雕，是木雕的原材料，大米经过加工得到米线，是米线的原材料。B 选项中水果不需要加工。因此，D 项正确。

42. 【解析】A。湖水是名词，荡漾是动词，湖水荡漾构成主谓结构，春雨是名词，连绵是动词，春雨连绵构成主谓结构。因此，A 项正确。

43. 【解析】C。题干的关系为事物及其隐含的寓意。种子经得住埋没的考验，青苗是未来希望所在。因此，C 项正确。

44. 【解析】C。题干为动宾结构，关注民生，惩治腐败。

45. 【解析】D。自信和自大意思相近，都表示对于自身能力的认可，但是自信是褒义词，自大是贬义词；谨慎和怯懦意思也相近，都表示做事不轻易做决定，但是谨慎是褒义词，怯懦是贬义词。因此，D 项正确。

46. 【解析】B。题干为并列关系。手风琴和钢琴都是一种琴，乒乓球和足球都是一种球。因此，B 项正确。

47. 【解析】C。观察题干，第一个字母和第六个字母相同，第二个字母和第五个字母相同，三、四两个字母相同，最后两个字母相同，符合要求的只有 C 项。

48. 【解析】A。字母和数字间隔排列，数字逐渐增大，并且第一个字母和第三个字母相同，第二个字母和第五个相同，第四个字和最后一个字母相同。因此，A 项正确。

49. 【解析】B。题干的字母呈对称排列，B 项正确。

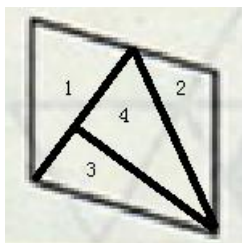
50. 【解析】D。第一个符号和第四个符号相同，第二个符号和第五个符号相同，第三个符号和最后一个符号相同。因此，D 项正确。

51~52. 略

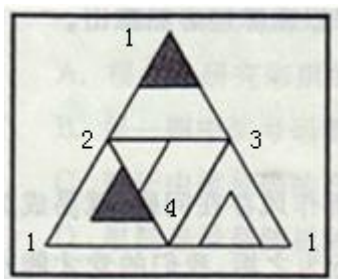
53. 【解析】A。题干图形中，面与面之间均以点相连，而并非以线或面相连。观察选项，只有 C 项满足规律。

54. 【解析】D。图形方向不变，而题干第一幅图中出现了竖直线，竖直线无法与其他图形拼接，因此答案中必然有竖直线，D 项正确。

55. 【解析】C。题干中的 4 个图形可以拼合成如下图形：



56. 【解析】A。如下图所示，利用描点法解答：



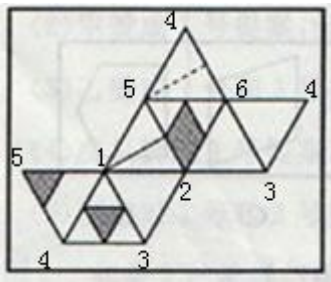
A 项，两个面相交线是 1-3，正确。B 项，相交线是 1-2 和 2-4，错误。C 项，相交线是 1-3 和 3-4，错误。D 项，相交线是 1-2 和 2-3，错误。

57. 【解析】B。平面图形中第一个面的直线，指向第四个面的右下角，因此 B 项这正确。

58. 【解析】A。B、D 两项正面和上面应为相对面，排除。C 项正面和侧面应为相对面，排除。A 项正确，当选。

59. 【解析】D。A、B、C 三项正面和侧面应为相对面。D 项正确，当选。

60. 【解析】A。如下图所示，利用描点法解答：



A项4个面相交于点5，符合。B项中，左上、右上、左下三个面相交于点1，交点是右下的面中的点4，排除。C项中，左下的面与右上的面应该以边连接而非以角连接，排除。D项中，右上、左下、右下三个面相交于点2，交点是左上一个面中的点5，排除。

61. 【解析】C。

分析题干，发现题干中包含四个假言命题：

①“党要管党，首先是要管好干部”。这是充分条件假言命题，推理形式为：党管党→党管好干部；

②“从严治党，关键是从严治吏”。这是充分条件假言命题，推理形式为：从严治党→从严治吏；

③“干部作风存在问题，就易成为腐败的温床”。这是充分条件假言命题，推理形式为：干部作风存在问题→易腐败；

④“唯有紧抓……血肉联系”。这是必要条件假言命题，推理形式为：（紧抓清廉从政∧扫除作风之弊、行为之垢）←（永葆纯洁∧永葆血肉联系）。

再根据充分条件和必要条件假言命题的推理规则判断各个选项。A项逻辑关系与②相反，排除。B项通过否定③的前件来否定其后件，不符合充分条件假言命题的推理形式，排除。C项通过否定④的前件来否定其后件，是必要条件假言命题的有效推理形式，正确。D项逻辑关系与④相反，排除。

62. 【解析】C。题干包含两个推理：①成功者→不出众，②成功者→抓住机遇。由①可推出有的成功者不出众，A项正确。①是充分条件的假言命题，否定后项可以否定前项，可推出：出众→不成功。因此有的出众的人并不成功，B项正确。C项无法推出，当选。由②可推出：有的抓住机遇者→成功者，D项正确。

63. 【解析】D。

题干是类比论证。题干的论证过程如下：

论据1：亿万个星球，亿万年来能在宇宙间相安无事地运行而不发生冲撞，因为它们都运行在自己的轨迹上。

论据2：有的人见别人的路好走，就想去走别人的路；见别人的路近，就要去抄别人的近路。

结论：人与人之间，经常会发生磕磕碰碰的事。

D项指出人与星球并不相同，利用“解题技法”中的方法1削弱了题干结论；且D项指出星球也有磕碰和冲撞的时候，通过直接否定了论据的方法反驳了题干的论证，因此D项正确。

64. 【解析】D。题干的论点为：“弃婴安全岛”的设置助长了父母遗弃婴儿的行为。A项和遗弃行为无关，无法质疑。B、C两项解释了“弃婴安全岛”为什么会助长遗弃婴儿的行为，属于加强项。D项指出“弃婴安全岛”对父母行为影响具有不确定性，质疑了题干的论点，当选。

65. 【解析】B。B项通过提出与这些人的想法相反的事实，直接否定了中奖号码的规律性，质疑性最强，当选。A项通过补充相反论据的方式质疑了这些人的想法，但仅由“很多人”并不能否定“所有人”，因此质疑性不如B项。

66. 【解析】C。因为能叫出大刚名字的人都能叫出大刚朋友的名字，而小芳能叫出大刚名字，所以小芳能叫出大勇的名字。

67. 【解析】A。根据题干给出条件列表求解。

	1号	2号	3号
甲	√	×	
乙	√	×	√
丙			
丁	√	√	×
戊	√	×	×
己			
庚	×	×	√

由表格可以看出，1号提案能通过，因此A项正确。

68. 【解析】D。第3列和第4列有“木”，则第一行的“木”只能在首位。第3列有“土”，则第一行的“土”只能在①的位置。因此D项正确。



69. 【解析】D。由（3）可知，丁被录用；由（5）可知，戊被围棋协会录用。因此D项正确。
70. 【解析】D。根据上题结论，丁、戊被围棋协会录用，则由（2），甲被辩论协会录用。已知乙没有被录用，又根据（3）（4）（5），甲、丁、丙、戊都只被一个协会录用，则己必被两个社团录用。因此D项正确。
71. 【解析】C。“析词”的定义要点是：为了表达的特殊需要，临时把某个词拆开使用。A、D两项没有把词语拆开使用，B项是解释字和宙的本来含义，不是词语的拆开使用，只有C项，把“疏导”、“启发”拆开来使用，符合定义。因此，C项正确。
72. 【解析】C。“文献老化”的定义要点是：随着时间的推移，文献的有效性或有益性逐渐降低甚至失去价值。A项只是破损。B项几乎无人查阅，不能判定有效性是否降低。C项符合定义。D项明显有很高的价值，不符合定义。
73. 【解析】B。“换城消费”的定义要点有：①两个城市；②到对方城市购物；③是一种消费行为。A项没有体现市民的购物行为，不符合③；C项中是两个国家，不符合①；D项也没有体现消费，不符合③。因此，B项正确。
74. 【解析】B。“二次留守”的定义要点是：①留守儿童被父母接到城市；②父母忙于工作；③没有朋友和玩伴。A项很多小孩一起玩耍不符合③；B项符合定义；C项是教育部门组织的，而不是被父母接到城里的，不符合①；D项不符合②。因此，B项正确。
75. 【解析】C。“次生丑闻”的定义要点是：一个丑闻牵出的其他丑闻。C项只是梳理以前的丑闻，没有牵出其他的丑闻，不符合定义。因此，C项正确。
76. 【解析】A。“隐形歧视”的定义要点是：未公开显现的歧视性认识。A项体现了保安对“戴着墨镜的中年男子”这类特定群体的歧视，符合定义；B项的“艺术家”和C项的“成功人士”都不歧视性认识；D项并不是歧视。因此，A项正确。
77. 【解析】D。“邻避效应”的定义要点是：针对将要建在自家附近、可能造成环境污染的公共设施所产生的嫌恶心理。A、B、C三项均符合定义要点，D项的停车场没有造成环境污染，不属于邻避效应。
78. 【解析】C。“保险储备”的定义要点是：①主体是企业；②建立原材料储备。A项，张大妈不是企业，不符合①。B项并不是产品滞销，不符合②。C项符合定义。D项说的是资金问题，也不是“原材料储备”，不符合②。因此，C项正确。
79. 【解析】A。“服务性公关”的定义要点为：向消费者提供各种实惠服务。B、C两项面对的不是消费者，D项是消费者自建的，而不是企业提供的。因此，A项正确。
80. 【解析】D。“禁果心理”的定义要点是：对禁令的逆反心理。A、B、C三项都体现了对禁令的逆反心理，D项没有体现出禁令，抢购也不是逆反心理。因此，D项正确。
81. 【解析】B。所求为 $\frac{1.03}{2.19} \approx 47\%$ ，B项与之最接近，当选。
82. 【解析】C。所求为 $[4564.43 - (9091.83 - 4564.43)]$ 万人次，利用尾数法求得算式的尾数为3，可知C项正确。
83. 【解析】B。内地居民出境前往国家或地区居前五位的分别是中国香港、中国澳门、泰国、韩国、中国台湾，外国人来华居前五位的国家分别是韩国、日本、美国、俄罗斯、越南，可知满足条件的只有韩国。
84. 【解析】B。港、澳、台居民出入境人次占全国出入境人次之比等于港、澳、台居民出入境人次之比，即等于 $7697.27 : 2069.99 : 486.82 \approx 77.0 : 20.7 : 4.9$ 。
85. 【解析】D。A项：外国人来华观光休闲与访问的人次相差 $494.01 - 248.35 = 245.66$ （万人次），可知该项说法错误。
B项：台湾居民出入境人次下降最快，但减少量不是最多的，可知该项说法错误。
C项：由第四段第一句可知外国人出入境人次同比下降5.22%，入境人次同比下降5.15%，根据加权平均知识可得出入境人次同比下降速度要大于5.22%，则出境下降速度大于入境下降速度，该项说法错误。
D项：上海浦东机场口岸外国人月平均入境人次为 $\frac{230.28}{6} = 38.38$ （万），可知该项说法正确，当选。
86. 【解析】B。所求为 $7.9\% - 7.3\% = 0.6\%$ ，B项正确。
87. 【解析】D。所求为 $41600 - 14221 = 27 \times \dots$ （亿美元），可知D项符合。
88. 【解析】C。所求为 $\frac{38668 - 18178}{38668} \approx \frac{20500}{38700} \approx 53\%$ 。
89. 【解析】D。由比重与增长速度的关系可知，当中国货物进出口总额占世界货物进出口总额的比重高于上一年时，中国货物进出口总额的年增长速度将超过世界年增长速度。观察表格第三列可知六年全部超过了。
90. 【解析】A。（1）观察表格最后一列可知该项说法正确。
（2）根据表格第四列数据可知，2011年中国对美国的货物出口额占货物出口总额的比重比2005年降低了 $21.4 - 17.1 = 4.3\%$ ，可知该项说法正确。

（3）2009～2013年中国货物进出口总额年平均增长速度为 $\sqrt[5]{\frac{41600}{25616}} - 1$ ，“十一五”时期年平均增长速度为 $\sqrt[5]{\frac{29728}{14221}} - 1$ ，目



测可知前者小于后者, 该项说法正确。

综上可知 A 项正确。

91. 【解析】B。所求为 $14.3\% - 13.3\% = 1\%$ 。

92. 【解析】A。 $\frac{1461.2}{2061.9} - \frac{1461.2}{1+3\%} \div \frac{2061.9}{1+5.7\%} = \frac{1461.2}{2061.9} \times (1 - \frac{1+5.7\%}{1+3\%}) = \frac{1461.2}{2061.9} \times \frac{-2.7\%}{1+3\%} > -2.7\%$, 可知 2013 年江苏省公路旅客周转量占总旅客周转量的比重的比重比上年有所下降, 且降幅小于 2.7 个百分点, A 项符合。

93. 【解析】B。由于 2012 年货运总量一定, 则占比最大的运输方式就是货运量最大的运输方式。民航货运量为 $\frac{6.7}{1-0.3\%} < 10$ (亿吨千里), 水路货运量为 $\frac{63648}{1+8.5\%} > 30000$ (亿吨千里), 管道货运量为 $\frac{12617}{1+7.6\%} < 20000$ (亿吨千里), 铁路货运量为 $\frac{6806.2}{1-5.8\%} < 10000$ (亿吨千里), 可知水路货运量最大。

94. 【解析】D。完成港口货物吞吐量为 $\frac{21.4}{1+9.7\%} < \frac{21.4}{1.07} = 20$ (亿吨), 排除 A、B 两项。外贸货物吞吐量为 $\frac{3.5}{1+12.9\%} < 3.5$ (亿吨), 排除 C 项, 选择 D 项。

95. 【解析】C。A 项: 根据文字资料可知 2013 年私人汽车净增量增速为 15%, 私人轿车净增量增速为 14.4%, 前者大于后者, 可知该项说法错误。

B 项: 根据文字资料可知民用汽车保有量增速为 17.4%, 私人汽车保有量增速为 20.2%, 前者小于后者, 可知该项说法错误。

C 项: 公路里程增速为 $\frac{0.1976}{15.6-0.1976} \approx 1.3\%$, 高速公路里程增速为 $\frac{71.5}{4443-71.5} \approx 1.6\%$, 可知该项说法正确, 当选。

D 项: 根据表格最后一行可知货运量增速为 8.8%, 客运量增速为 4%, 前者大于后者, 可知该项说法错误。

96. 【解析】D。2009 年 12 月至 2010 年 6 月网民增加数为 $42000 - 38400 = 3600$, 2011 年 6 月至 2011 年 12 月网民增加数为 $51310 - 48500 = 2810$, 2012 年 12 月至 2013 年 6 月网民增加数为 $59056 - 56400 = 2656$, 2010 年 6 月至 2010 年 12 月网民增加数为 $45730 - 42000 = 3730$, 可见增加最多的时期是 2010 年 6 月至 2010 年 12 月。

97. 【解析】C。全国网民增加 $59056 - 53760 = 5296$ (万人), 手机网民增加 4379 万人。

98. 【解析】A。 $V_1 = \frac{268.6}{1480.6-268.6} < \frac{300}{1200} = 25\%$, $V_2 = \frac{11233.8}{182869.8-11233.8} \approx \frac{11200}{182800-11200} = \frac{112}{1716} < 10\%$, $V_3 = 36.7\%$,

可知 $V_3 > V_1 > V_2$ 。

99. 【解析】B。所求为 $\frac{16500-908}{53760} \approx \frac{16500-900}{53700} = \frac{156}{537} \approx 29\%$ 。

100. 【解析】C。(1) 根据折线图可知该项说法正确。(2) 根据文字资料第二段最后一句话可知, 韩国互联网普及率高于日本, 可知该项说法错误。(3) 根据折线图可知该项说法正确。因此 C 项正确。

101. 【解析】B。所求为 $\frac{9374}{1362} - 1 \approx 6$ (倍), B 项与之最接近, 当选。

102. 【解析】C。观察煤炭所代表的各相邻柱体的高度差, 可得 2009 年增长量最小。

103. 【解析】C。所求为 $\frac{2981-2265}{6} \approx 120$ (万吨), C 项与之最接近, 当选。

104. 【解析】A。2006~2011 年煤炭、天然气和原油消费的年平均增速分别为 $\sqrt[6]{\frac{27364}{17159}} - 1$ 、 $\sqrt[6]{\frac{9374}{1362}} - 1$ 、 $\sqrt[6]{\frac{2981}{2265}} - 1$, 目测可

知天然气最大, A 项说法正确。

105. 【解析】C。(1) 2011 年天然气消费量是 2007 年的 $\frac{9374}{4458} > \frac{9000}{4500} = 2$ (倍), 即翻了一番多, 可知该项说法正确。

(2) 2011 年煤炭消费增长量为 $27364 - 23100 \approx 42 * *$ (万吨), 2007~2010 年煤炭消费增长量的总和为 $23100 - 18692 \approx 44 * *$ (万吨), 前者小于后者, 可知该项说法错误。

(3) 原油消费量 2008 年小于 2007 年, 不是逐年增加的, 可知该项说法错误。

综上可知 C 项正确。