

# 2015 年江苏省考行测真题 A

## 第一部分 言语理解与表达

一、片段阅读。每道题包含一段文字，要求你从四个选项选出最恰当的一项，你的选择必须与题干要求相符合。

请开始答题（1~10 题）

1. 财税体制改革，可谓牵一发而动全身，最关注财税体制改革、最明白其重要含义的无疑是各级地方政府。因为财税改革将撬动地方财政“钱袋子”，使之在收入、支出、监督等各方面均发生显著变化。对于目前地方财政面临的诸多深层次问题，如财权与事权不统一、土地财政过度膨胀、预算不够公开透明等等，都将拿起“手术刀”，直剖病灶予以解决。

对这段文字概括最准确的是（ ）

- A. 财税体制改革主要针对各级地方政府
- B. 财税改革将促使地方政府直面各种财税问题
- C. 财税改革是解决地方财政问题的良方妙药
- D. 财税改革目的在于收紧地方财政的“钱袋子”

2. 朱光潜生平最景仰两个人，一个是陶潜，一个是和他只有一面之缘的弘一法师。他一生奉行的座右铭是“以出世的精神，做入世的事业”。因做“入世”的事业，他有儒家兼济天下、学以致用的热肠，有“天行健，君子以自强不息”的意志。因有“出世”的精神，他深得道家超然物表、虚静无为的精髓，足具淡泊明志、宁静致远的神采。不管是风平浪静之时，还是黑云压城之日，他始终锲而不舍，孜孜以求。

下列词语与文段中对朱光潜的描述无关的是（ ）

- A. 无为而治
- B. 不求名利
- C. 意志坚强
- D. 心怀天下

3. 中国人均实际可利用水资源量为 900 立方米，且分布极不均衡。全国每年缺水量为 500 多亿立方米。2010 年，北京人均水资源降至 107 立方米，同期巴黎为 490 立方米，东京为 398 立方米。北方资源性缺水程度加剧，而南方水质型缺水现象突出，地下水污染状况严重。在 200 个城市的地下水监测中，水质较差的有 40.3%，极差的有 14.7%。珠三角等区域内主要城市及近郊地下水中普遍监测出有毒微量有机污染指标。

这段文字意在强调（ ）

- A. 中国水资源的问题主要在于分布不均匀
- B. 中国当前全国范围水资源面临严重问题
- C. 中国北方缺水情况与南方缺水情况不同
- D. 中国一些经济发达城市地下水污染严重

4. 由于现今大学对自身职能以及职能履行的认识存在一定偏差，大学内部制度中缺乏教学的价值体现，教师在教学方面的努力、贡献难以得到应有的承认，这样就桎梏了教师的教学热情，直接影响教学质量与大学的社会公信力。另外，大学及教师群体对“学术”内涵的窄化理解使得教学与科研相对立，未将教学上升到学术的层面加以理解。在大学中广泛存在着对专业科研的学术认同，而作为知识传播的教学则难以进入学术之列。

这段文字主要强调的是（ ）

- A. 大学应提高自身职能的认识
- B. 大学教学质量有待进一步提高
- C. 大学必须提高对教学价值的认识
- D. 大学内部应对教学与科研一视同仁

5. 睡眠有个神奇的特点，就是我们大多数人总是在每天晚上相同的时间感受到睡魔的召唤。之所以如此，是因为睡眠的启动部分依赖于大脑内的一个“时钟”，这个“时钟”能够追踪记录地球的昼夜更替，以及季节性节律。而这个星球上的其他生物，从细菌和植物，到鱼类，昆虫和哺乳动物，都具有这样的能力，“生物钟”在自然界无处不在。

根据文意，下列现象与“生物钟”无关的是（ ）

- A. 腊梅花香寒冬来到
- B. 公鸡每天清晨打鸣
- C. 旅美归来要“倒时差”
- D. 夏季来临昼长夜短

6. 20 世纪 90 年代起，我国实施允许国内民间资本和外资参与国有企业改革改组的政策。截至 2012 年底，银行业中股份制商业银行总股本中民间资本占比达到 45%，城市商业银行总股本中民间资本占比超过半数，农村中小金融机构股本中民间资本超过 90%。到 2012 年，我国已有 2494 家境内上市公司，股票市值达 23 万亿元，占当年 GDP 的 43%，股票有效账户数 14046 万户。

以下概括与文意不符的一项是（ ）

- A. 至 2012 年底城商银行民间资本参股占比超过 50%
- B. 2012 年我国 GDP 已超过 60 万亿元
- C. 2012 年我国股票有效账户数已经过亿

D. 2012 年我国境内上市公司已接近 2500 家

7. 民以食为天，人多地少是不少国家面临的共同问题。在全球化时代，国际粮价的波动往往对国内粮食生产影响巨大。据介绍，日本已在境外开发农田 1200 万公顷，相当于其国内耕地面积的 3 倍；韩国在海外购买和租赁农田 243 万公顷，相当于其国内耕地面积的 1.3 倍。日韩农业“走出去”，借助多元化的规模经营，获得了强大的国际竞争力，对保证其粮食安全起到了积极作用。

这段文字讨论的重点是（ ）

- A. 日本韩国本世纪的耕地面积规模      B. 日韩“走出去”的海外屯田战略  
C. 人多地少粮价波动是世界性问题      D. 国际粮价与国内粮食生产的联动

8. 夏商及周早期，中国并无商税。这一时期，由于生产力低下，手工业和商业较为落后，且必须在官府作坊内从事生产和贸易，史称“工商食官”，这种体制决定自己对自己征税并无必要，目前也尚无史料记载这一时期曾开征商税。

夏商及周早期中国没有商税的主要原因在于（ ）

- A. 当时整个社会的生产力水平太低  
B. 这个时期手工业和商业比较落后  
C. 当时的统治者还没有征收商税的意识  
D. 从事生产和贸易的作坊全都属于官府

9. 新型城镇化最大的障碍是旧的体制和旧的利益格局，而要突破旧体制的束缚，打破旧利益格局的掣肘，就需要政府淡化经济运营角色，从全能政府转变为有限政府，改变公共权力运行方式。诚然，在重视市场机制的同时，对于城镇化的进程、城市人口、城市布局、城市规模，政府要实行必要的宏观调控；但与此同时，政府也要从以行政手段为主管理城镇发展，转变为采用经济和法律手段为主管理城镇发展。

下列说法不符合文意的一项是（ ）

- A. 推动新型城镇化工作的关键是转变政府职能  
B. 新型城镇化发展的总体规划应该交由市场进行调控  
C. 推动新型城镇化稳步发展必须坚持并强化依法行政  
D. 新型城镇化过程中政府对人口等问题仍需实施管控

10. 律师以维护当事人的合法权益，维护法律的正确实施，维护社会公平和正义为己任。正确认识和评价律师在诉讼活动中的地位，为律师发挥积极作用营造良好的环境，有利于更好地查清案件事实，准确适用法律，提高案件审理的质量和效率，能够更好地引导人服判息诉，自觉履行生效判决，提升司法公信力。相反，忽视甚至否认律师在诉讼活动中的积极作用，必然影响诉讼活动的运行质量，削弱司法过程和裁判结果的社会认同，降低司法公信力。

这段文字主要强调的是（ ）

- A. 律师在维护当事人合法权益方面无疑具有积极作用  
B. 律师参与诉讼活动将更加有利于维护社会公平正义  
C. 忽视律师在司法活动中所起作用将影响司法公信力  
D. 必须正确认识和评价律师在诉讼活动中的积极作用

二、文章阅读。阅读下面文章，回答问题。本题共有五道题，每道题提供四个选项，要求你从中选出最恰当的一项，你的选择必须与题干要求相符合。

请开始答题（11~15 题）

我国最早的地理学著作《禹贡》，实际上产生于战国后期，但对历史地理现象的注意和记录在更早的著作中已可找到例证。成书于公元 1 世纪的《汉书·地理志》既是一篇内容丰富的当代地理著作，也堪称中国第一篇历史地理著作，因为它所记述的对象不限于西汉一朝，而是“采获旧闻，考迹《诗》《书》，推表山川，以缀《禹贡》《周官》《春秋》，下及战国、秦、汉”，对见于历史典籍记载的重要山川地名作了考订注释。此后，从郦道元的《水经注》至唐宋以来传世的地理著作，几乎都是由当世上溯到往古，注重历史地理现象的记载和研究的。

在中国漫长的历史时期内，皇朝的更迭、政权的兴衰、疆域的盈缩、政区的分合和地名的更改不断发生；黄河下游的频繁决溢改道又经常引起有关地区地貌及水系的变迁，给社会生活带来相当大的影响。中国古代发达的文化使这些变化大多得到了及时而详尽的记载，但由于在如此巨大的空间和时间中所发生的变化是如此复杂，已不是一般学者所能随意涉足，因而产生了一门专门学问——舆地之学（沿革地理）。到清代，沿革地理研究的成就达到了高峰，是乾嘉学派学术成就的重要组成部分。

毫无疑问，沿革地理是历史地理学的一个分支，因此我们可以说中国的历史地理研究\_\_\_\_\_于 1900 余年前的《汉书·地理志》，并可以更长的历史；但是沿革地理不等于历史地理学，两者不仅有量的不同，而且有质的区别。就研究内容而言，前者主要是政区和疆域、地名、水道的变迁，后者却包括地理学的各个分支。就研究的性质而言，前者一般只是现象的描述和复原，很少涉及变化的原因，后者则不仅要复原各种以往的地理现象，而且要寻求它们变化发展的原因，探索它们的规律。中国沿革地理虽然是一门专门的学问，却一直没有形成一门学科，所以数百年来除了有少数几位专治沿革地理的学者之外，大多只是历史学家、经学家、



训诂学家、文学家、金石家的副业，它的成果主要也是作为历史学和其他学科的注释检索之用。历史地理学则有自己独立的学科体系和理论，是现代地理学的一部分，一般说来需要有专门的研究人员，它的研究成果既可用于解释自然发展规律，也可用于解释人类活动与自然的关系，以及在特定自然条件下的人类社会的发展规律。

显然，历史地理学形成和发展的一个决定因素是现代地理学的建立。在中国，这是在 20 世纪初叶才具备的条件，所以中国沿革地理向历史地理学的发展是 30 年代以后才开始的。

11. 根据文意，下列对《汉书·地理志》描述不正确的一项是（ ）

- A. 可以看作中国最早的历史地理著作
- B. 首次详细记录了汉代当时的地理情况
- C. 收录了汉代以前战国及秦的地理情况
- D. 战国前的地理情况因资料缺乏尚未记载

12. 沿革地理产生的根本原因在于（ ）

- A. 漫长历史中地理情况的复杂变化需作专门研究
- B. 中国古代政区的分合和地名的更改不断发生
- C. 古代发达的文化记载了大量历史地理相关资料
- D. 清代乾嘉学派学术研究领域已经有了很大扩展

13. 依次填入文中划横线处最恰当的一项是（ ）

- A. 肇始溯源      B. 起源回溯      C. 创立上溯      D. 发轫追溯

14. 下列说法与文中论“沿革地理不等于历史地理学”的理由不符的一项是（ ）

- A. 称为学科必须有自己独立的学科体系和理论
- B. 沿革地理的成果主要为其他学科注释检索之用
- C. 历史地理学注重寻求地理现象变化发展的原因
- D. 历代从事沿革地理研究的人并非专职研究人员

15. 下列对文章的内容概括最恰当的是（ ）

- A. 历史地理学在我国的发展源远流长
- B. 历史地理学形成发展的主要原因
- C. 历史地理学在我国发展形成的过程
- D. 历史地理学形成发展必须具备的条件

**三、选词填空。从题后所给的四个选项中选出最符合文意的一项。**

请开始答题（16~25 题）

16. 辞书是工具书，帮助人们对字词加以正确与运用，人们将它作为“ ”的工具使用。

依次填入划横线处最恰当的一项是（ ）

- A. 理解无师自通      B. 解释有教无类
- C. 解析润物无声      D. 识别不可或缺

17. 的数字技术正在引发一系列革命，作者的革命、读者的革命、书籍的革命、出版的革命，这些数字技术点燃的一堆堆篝火，已让传统出版人感受到了。

依次填入划横线处最恰当的一项是（ ）

- A. 如火如荼切肤之痛      B. 轰轰烈烈危在旦夕
- C. 铺天盖地痛彻心扉      D. 席卷全球灭顶之灾

18. 不论是反腐败还是监督执法，公众的万万千千双眼睛都是最有力的后援。依靠公众监督，既表明了政法部门不护短的决心，也有利于调动公众的热情。只有有的打击与有的公众监督密切配合，才能最大程度不规矩的“执法之手”乱伸，最终还法治以。

依次填入划横线处最恰当的一项是（ ）

- A. 大张旗鼓不偏不倚防止清正
- B. 声势浩大不徇私情阻止光明
- C. 排山倒海一丝不苟压制公正
- D. 雷厉风行无处不在遏制清明

19. 夜色渐浓，江风徐徐，在灯火通明的街道上，叫卖声，人们抛开白日里水泥森林的高压与冷漠，在人流摩肩接踵的繁华小巷。百年老城的夜生活，就在的夜市中拉开了序幕。

依次填入划横线处最恰当的一项是（ ）

- A. 不绝于耳徘徊欢声笑语      B. 此起彼落穿梭杂乱无序

- C. 此起彼伏连熙熙攘攘 D. 声声入耳漫步喧嚣不已

20. 改革总是会先易后难的做法，养老保险的统一同样也应该这种规律，一步一步逐渐推行。第一步实现城乡居民养老制度统一，而后是企业单位职工与城乡居民养老制度的统一，公务员的聘用制也在逐步实施。各项工作坚持不懈地往前推进，全国养老制度的改革与完善终究会。

依次填入划横线处最恰当的一项是（ ）

- A. 采用遵守迎刃而解 B. 沿袭遵循水到渠成  
C. 承袭服从瓜熟蒂落 D. 采取纳入如期而至

21 文风源于内心，你表面上可以做到不动声色，但作为情感的，文字通常会将你内心的感受直接表现出来。一个人的文风并不是的，它会随着人的年龄、心态、思想内涵及的变化而改变。

依次填入划横线处最恰当的一项是（ ）

- A. 宣泄一成不变阅历 B. 抒发一以贯之经历  
C. 爆发一蹴而就资历 D. 表露持之以恒历练

22. 农业转型过程中，要让市场发挥决定性作用，切忌、揠苗助长，以行政力量甚至强推农业规模化。

依次填入划横线处最恰当的一项是（ ）

- A. 李代桃僵指导 B. 大包大揽引导  
C. 越俎代庖主导 D. 鞭打快牛倡导

23. 客家是汉民族的一支，在一千多年漫长的历史中，在融合各地民族文化的同时，不断地传播和，使得客家文化、源远流长。

依次填入划横线处最恰当的一项是（ ）

- A. 演变扩充波澜壮阔 B. 演化扩张不绝如缕  
C. 演绎扩大流光溢彩 D. 演进扩散生生不息

24. 随着人们环保意识的加强，在选购家具时人们更于选择带有环保标识的产品。本来有这样的意识是件好事，但我国并没有强制家具认证规定，国内也尚未环保家具认证标准，现在国内市面上的认证机构，环保标识。

依次填入划横线处最恰当的一项是（ ）

- A. 趋向公布鱼目混珠不一而足 B. 倾向颁布鱼龙混杂五花八门  
C. 热衷确定各自为政良莠不齐 D. 垂青制定形形色色千奇百怪

25. 我们置身于一个媒体异常发达的时代，现实的生活又充满着各种各样的焦虑与诱惑，想沉下心来，静心坐在书桌之前，沉浸于一本已久的好书，似乎是一种，有些勉为其难，即使有读书的“形态”，缺乏读书的“心态”。

依次填入划横线处最恰当的一项是（ ）

- A. 期盼幻想总是 B. 倾心超脱毕竟  
C. 心仪奢望依然 D. 仰慕妄想终究

## 第二部分 数量关系

一、数字推理。给出一个数列，缺少其中一项，要求你仔细观察数列的排列规律，从四个选项中，选择最合适的一项，使之符合原数列的排列规律。

请开始答题（26~30 题）

26. -7, -5, -1, 5, ( ), 23

- A. 10 B. 11 C. 13 D. 20

27. 21, 30, 40, 52, 68, ( )

- A. 112 B. 113 C. 95 D. 92

28. 2, 3, 4, 8, 8, 24, 16, 51, 32, 89, ( ), ( )

- A. 64, 138 B. 64, 136 C. 128, 138 D. 128, 136

29. 3,  $\sqrt{11}$ , 4,  $2\sqrt{6}$ ,  $\sqrt{35}$ , ( )

- A.  $\sqrt{51}$  B. 7 C. 6 D.  $3\sqrt{2}$

30. 4,  $2\frac{1}{2}$ ,  $11\frac{1}{5}$ ,  $19\frac{1}{7}$ ,  $1\frac{0}{3}$ , ( )

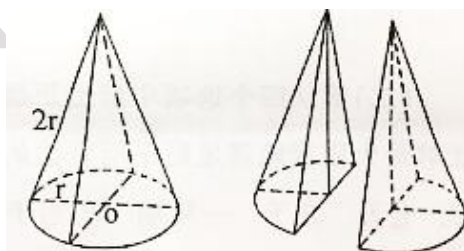


- A. 37/11
- B. 4
- C. 21/13
- D. 5

二、数学运算。通过运算，选择最合适的一项。

请开始答题（31~40 题）

31. 已知一等差数列  $a_1, 21, a_3, 31, \dots, a_n, \dots$ ，若  $a_n=516$ ，则该数列前  $n$  项的平均数是（ ）
- A. 266
- B. 258
- C. 255
- D. 212
32. 设  $a, b$  均为正整数，且有等式  $11a+7b=132$  成立，则  $a$  的值是（ ）
- A. 6
- B. 4
- C. 3
- D. 5
33. 甲、乙工程队需要在规定的工期内完成某项工程。若甲队单独做，则要超工期 9 天才能完成；若乙队单独做，则要超工期 16 天才能完成；若两队合做，则恰好按期完成。那么，该项工程规定的工期是（ ）
- A. 8 天
- B. 6 天
- C. 12 天
- D. 5 天
34. 一群大学生进行分组活动，要求每组人数相同。若每组 22 人，则多出一人未分进组；若少分一组，则恰好每组人数一样多。已知每组人数最多只能 32 人，则该群学生总人数是（ ）
- A. 441
- B. 529
- C. 536
- D. 528
35. 有 A. B. C 三种浓度不同的盐溶液，若取等量的 A. B 两种盐溶液混合，则得浓度为 17% 的盐溶液；若取等量的 B. C 两种盐溶液混合，则得浓度为 23% 的盐溶液；若取等量的 A. B. C 三种盐溶液混合，得到浓度为 18% 的盐溶液，则 B 盐溶液的浓度是（ ）
- A. 21%
- B. 22%
- C. 26%
- D. 37%
36. 假设空气质量可按良好、轻度污染和重度污染三类划分，一环境监测单位在某段时间对 63 个城市的空气质量进行了监测，结果表明：空气质量良好城市数是重度污染城市数的 3 倍还多 3 个，轻度污染城市数是重度污染城市数的 2 倍。那么，空气质量良好的城市个数是（ ）
- A. 33
- B. 31
- C. 23
- D. 27
37. 同样价格的某商品在四个商场销售时都进行了两次价格调整。甲商场第一次提价的百分率为  $a$ ，第二次提价的百分率为  $b$ （ $a>0, b>0$ ，且  $a\neq b$ ）；乙商场两次提价的百分率均为  $\frac{1}{2}(a+b)$ ；丙商场第一次提价的百分率为  $\frac{1}{3}(a+b)$ ，第二次提价的百分率为  $\frac{2}{3}(a+b)$ ；丁商场第一次提价的百分率为  $b$ ，第二次提价的百分率为  $a$ 。那么，两次提价后该商品售价最高的商场是（ ）
- A. 甲商场
- B. 乙商场
- C. 丙商场
- D. 丁商场
38. 黑白两个盒子中共有棋子 193 颗。若从白盒子中取出 15 颗棋子放入黑盒子中，则黑盒子中的棋子是白盒子中棋子数的  $m$ （ $m$  为正整数）倍还多 6 颗。那么，黑盒子中原来棋子至少有（ ）
- A. 121 颗
- B. 140 颗
- C. 161 颗
- D. 167 颗
39. 一实心圆锥体的底面半径为  $r$ ，母线长为  $2r$ 。若截圆锥体得到两个同样的锥体（如图），则所得两个锥体的表面积之和与原圆锥体表面积的值是（ ）
- A.  $\frac{1}{2}$
- B.  $\frac{(\pi+4\sqrt{3})}{6}$
- C.  $\frac{(3\pi+2\sqrt{3})}{3\pi}$
- D.  $\frac{(3\pi+4)}{6\pi}$



40. 甲、乙、丙三辆汽车分别从 A 地开往千里之外的 B 地。若乙比甲晚出发 30 分钟，则乙出发后 2 小时追上甲；若丙比乙晚出发 20 分钟，则丙出发后 5 小时追上乙。若甲出发 10 分钟后乙出发，当乙追上甲时，丙才出发，则丙追上甲所需时间是（ ）
- A. 110 分钟
- B. 150 分钟
- C. 127 分钟
- D. 128 分钟

第三部分 判断推理

一、类比推理

请开始答题（41~50 题）

（一）请从四个选项中选出正确的一项。其关系与题干给出的词或词组的关系最为相似。

41. 白羊：黑羊

( )

A. 高价：价格

B. 蓝天：春天

C. 周刊：月刊

D. 苏州：徐州
42. 自拍：拍照

( )

- A. 铁矿：金属                      B. 茶馆：场所  
C. 微信：博客                      D. 船舱：飞船  
43. 教师：教师法：尊师重教      ( )  
A. 企业：劳动法：招聘童工      B. 会计：会计法：虚报账目  
C. 司机：交通法：肇事逃逸      D. 夫妻：婚姻法：婚姻自主  
44. 人民币：美元：欧元          ( )  
A. 海洋：海鸥：海滩              B. 贵州：杭州：常州  
C. 兰花：牡丹：菊花              D. 宽恕：品性：诚信

(二) 请从四个选项中选出正确的一项，使得该项的两个词或词组依次代入题干的括号中，能够最大限度地满足题干所表达的类比关系。

45. 七天之于一个星期相当于 ( ) 之于 ( )  
A. 一米十分米                      B. 十元一百元  
C. 直线几何学                      D. 一吨十公斤  
46. 扎小羊灯之于 ( ) 相当于剪福字窗花之于 ( )  
A. 灯笼桃花                      B. 喜乐过年  
C. 小羊窗户                      D. 细绳剪刀  
47. 海盐之于 ( ) 相当于供暖器之于 ( )  
A. 咸味供暖                      B. 盐场取暖  
C. 味觉电流                      D. 调味电器

(三) 请从四个选项中选出正确的一项，其特征或规律与题干给出的一串符号的特征或规律最为相似。


48. 1223△※xxHG ( )  
A. 6779☆&ssHg                      B. 3449&@ddMW  
C. 8829@☆kkJY                      D. 3112◎&JjNH  
49. Д И Щ Ю Щ Ю Ё Д ( )  
A. Д Д И Щ Ю Щ Ю Ё              B. Щ Ё Д Д И Ю Ю Щ  
C. Ю Ё Д Щ Д Щ И Ю              D. Ё Щ Д Щ Ю Д Ю Ё  
50. + + + + + + + +  
A. + + + + + + + +  
B. + + + + + + + +  
C. + + + + + + + +  
D. + + + + + + + +

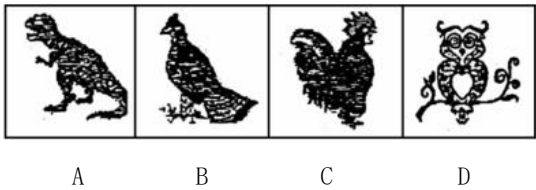
## 二、图形推理

开始答题（51~60 题）

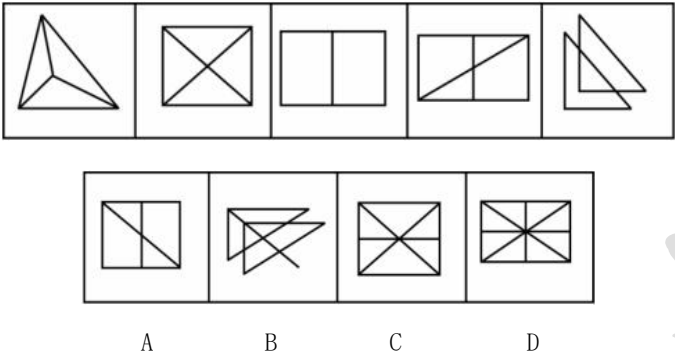
(一) 每道题在左边的题干中给出二套图形，其中有五个图，这五个图呈现一定的规律性。在右边给出一套图形，其中有四个图，从中选出唯一的一项作为保持左边五个图规律性的第六个图。

51.

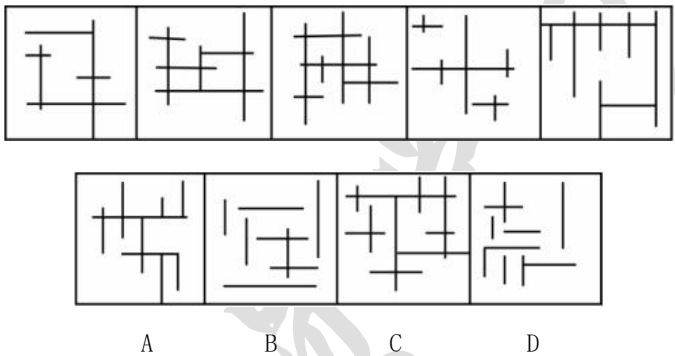




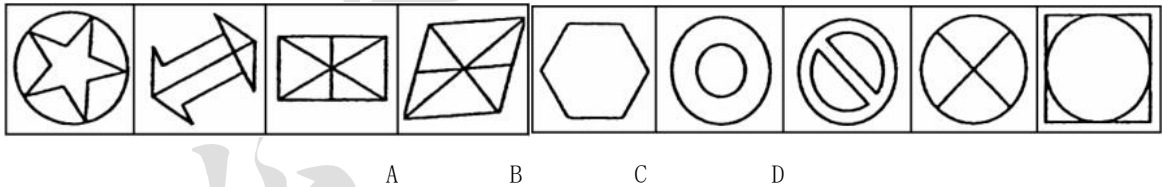
52.



53.

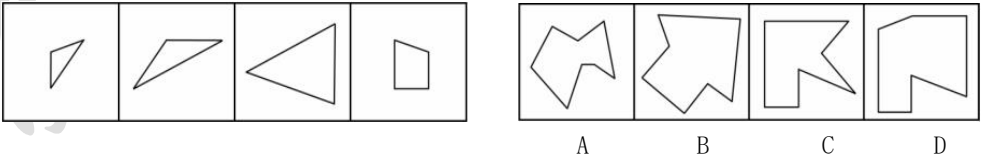


54.

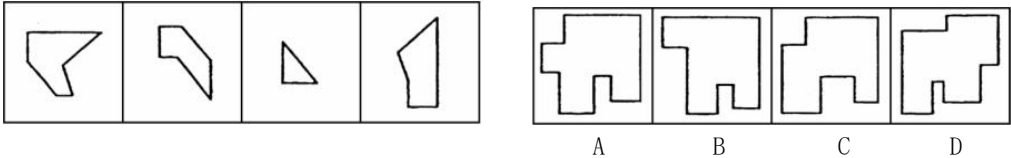


（二）右边四个图形中，只有一个是 由左边的四个图形拼（只能通过上，下，左，右平移）而成的，请把它找出来。

55.

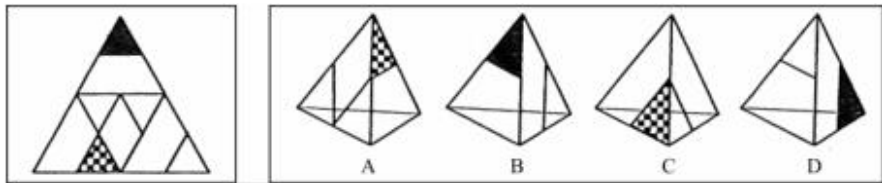


56.

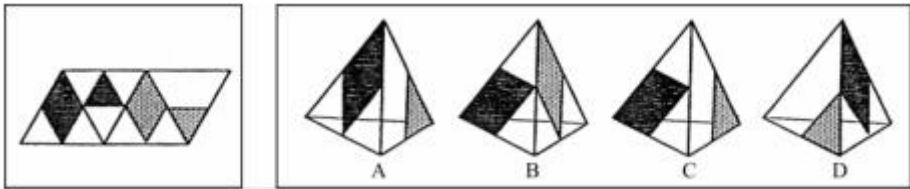


（三）左边给定的是纸盒外表面的展开图，右边哪一项能由它折叠而成？请把它找出来。

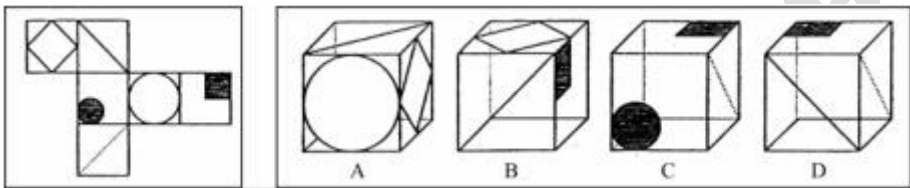
57.



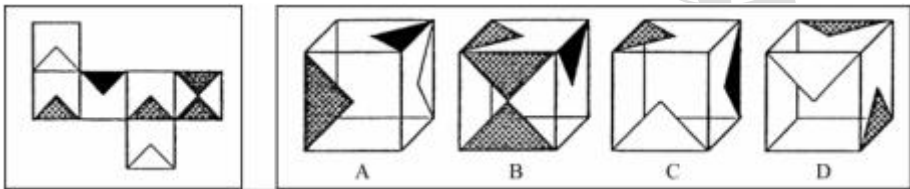
58.



59.



60.



三、逻辑判断。每道题给出一段陈述，这段陈述假设是正确的，不容置疑的。请你根据这段陈述，选择一个答案，注意，正确的答案不需要任何附加说明即可以根据陈述必然推出。

请开始答题（61~70 题）

61. 只有加大查处，惩罚的力度，对贪腐官员决不姑息手软，才能让官员“不敢腐”；只有在权力运作的每个环节建立和完善相关制度，才能让官员“不能腐”。但是，如果官员缺乏必要的廉耻之心，单纯依靠制度，那么，他们一定会找到制度的漏洞；相反，如果官员有一定的廉耻之心，那么，即便存在一些制度漏洞，他们也不会有意利用，而是会克制自己，甚至会修补这些漏洞，真正做到“不想腐”。

根据以上陈述，可以推出的是（ ）

A. 如果官员有一定的廉耻之心，一般会发现制度的漏洞，即使发现了，也不会利用，只会去修补它们

B. 如果官员有一定的廉耻之心，就会加强自我约束，不会有意利用制度的漏洞，从心里消除腐败的念头

C. 如果官员缺乏必要的廉耻之心，只要加大查处，惩罚的力度，决不姑息手软，他们就“不敢腐”

D. 如果官员缺乏必要的廉耻之心，只要建立和完善权力运作各个环节的相关制度，他们就“不能腐”

62. 中国人大多是在批评与训斥中长大的，父母、老师、长辈、领导……看你哪一点不顺眼，都能给出指教，话多半不好听，可听者听了多半心悦诚服，心生感激，因为大家想的是良药苦口、忠言逆耳的道理。但是，逆耳的未必都是忠言。有种电话诈骗就是以很凶的方式出现的，电话里的他们就是要批评你、威胁你、吓唬你，一旦你心里打怵了，你就听他们的了，而你听了他们的，你也就上当了。

根据以上陈述，可以推出的是（ ）

A. 有的逆耳之言可能不是忠言

B. 有的忠言并不逆耳

C. 有的电话诈骗的声音并不很凶

D. 如果听到逆耳的电话心里不打怵，你就不会上当

63. 某单位寻求对外合作，准备在甲、乙、丙、丁四家单位中确定一个或几个合作对象，单位管理层经过认真调研和讨论，最终形成了以下三种意见：

- （1）对于甲和乙两单位，至多选择一个；
- （2）对于甲和丁两单位，至少选择一个；
- （3）如果选择丙或丁单位，就不能选择乙单位；



在最终决定时，单位领导只采纳了上述一种意见。

根据以上陈述，以下哪项最符合单位领导的最终决定（ ）

- A. 选择乙、丙、丁                      B. 选择乙，但不选择丙和丁  
C. 选择甲、乙、丁                      D. 选择丙，但不选择乙和丁

64. 甲：为富皆不仁，为官皆不义。

乙：你说的两句都不对。

以下哪项与乙的说法最为接近或相似（ ）

- A. 为富皆仁，为官皆义                      B. 有的为富仁，有的为官义  
C. 有的为富不仁，有的为官不义                      D. 仁者不为富，义者不为官

65. 五对夫妻结伴自驾游。从出发点到目的地，正好有三个服务区，将他们的行程分为四段路，他们在每个服务区都休息了一会儿，有的夫妻也刚好可以换人驾车走下一段路。车队行进过程中，每对夫妻均在自家车中，一人驾车，一人休息。小孙因头晚喝了不少酒，所以今天一直未敢碰方向盘，只是与驾车的妻子说着闲话。已知：

第一段路驾车的是：张、王、李、赵、周

第二段路驾车的是：吴、王、张、赵、郑

第三段路驾车的是：李、钱、张、刘、吴

第四段路驾车的是：郑、张、王、钱、周

根据以上信息，可以推出这五对夫妻分别是（ ）

- A. 李吴、周郑、赵钱、孙张、刘王                      B. 刘赵、钱王、孙李、郑张、周吴  
C. 孙张、李郑、吴周、刘王、赵钱                      C. 孙张、周郑、李吴、刘赵、王钱

66. 顾客：老板，你这盘鱼香肉丝里怎么没有鱼啊？

老板：这有什么奇怪！难道老婆饼里有老婆吗？

以下哪项的对话方式与上述最为相似或相同（ ）

A. 老师：小明，你为什么没有做我昨天布置的家庭作业啊？

小明：对不起，老师！难道没有回家也要做家庭作业吗？

B. 妻：亲，你的钱包里怎么没有钱啊？

夫：这没什么不正常！难道茶叶罐里总是有茶叶吗？

C. 孩子：妈妈，棉花糖里怎么没有棉花啊？

母亲：这很正常！难道你用的英雄墨水里藏了一个英雄吗？

D. 顾客：小妹，你卖的珍珠奶茶里怎么没有珍珠呢？

售货员：这有什么稀奇！夫妻肺片里也没有夫妻啊？

67. 近年来，在全国除港澳台以外的 31 个省市区书法家协会中，许多名誉主席、主席、副主席已为官员或退休官员担任。几乎在每个省市书法家协会领导名单中，都能看到同级政府官员的名字。有专家指出，党政官员热衷于担任各级艺术类人民团体领导，官员与艺术家在身份和职务上相互交叠，会让艺术成为腐败的掮客，使各种肮脏的行贿受贿行为在艺术的光环笼罩下大行其事。

以下哪项不能支持上述专家的论断（ ）

- A. 某下属向其领导请求墨宝，再付之以一笔可观的“润笔费”  
B. 某些官员高价出售自己的作品，并坦然视之为“公平交易”  
C. 某些官员书法功底颇为深厚，对别人请求题字一般并不推托  
D. 在多项艺术活动中，具有行政职务的官员总能获得特别优待

68. 在以下 5×5 矩阵中，每个小方格中可填入一个汉字，要求每行，每列及每个由粗线条围成的小区域内均含有松、菊、梅、兰、竹 5 个汉字，不能重复也不能遗漏。

根据已经给定的条件，可以推出矩阵中①、②、③、④、⑤方格中依次填入的汉字是（ ）

	兰		①	
菊		竹	②	
			③	
	梅		④	
			⑤	松

- A. 松兰梅竹菊                      B. 菊梅松竹兰                      C. 松兰菊竹梅                      D. 梅菊竹兰松

69~70 题基于以下题干



王刚、赵虎与李亮是某机关新进的员工。他们三人中，有两人单身，两人爱好打乒乓球，两人是北方人，两人是公共管理专业硕士。如果王刚与李亮是公共管理专业硕士，则他们都是北方人；如果赵虎与李亮爱好打乒乓球，则他们都单身。已知他们每人最多只拥有3个上述特征。

69. 加上“如果王刚是北方人，则他单身”这一条件，可以得出以下哪项（ ）

- A. 王刚单身
- B. 赵虎是公共管理专业硕士
- C. 李亮爱好打乒乓球
- D. 王刚是北方人

70. 加上“如果赵虎单身，则王刚也单身”这一条件，得不出以下哪项（ ）

- A. 王刚单身
- B. 王刚爱好打乒乓球
- C. 赵虎是公共管理专业硕士
- D. 李亮是北方人

**四、定义判断。先给你一个概念的定义，然后给出一组典型例证，要求你从中选出最符合题意的一项。注意：假设这个定义是正确的，不容置疑的。**

**请开始答题（71~80题）**

71. 认知地图效应：指通过对特定事物多次探索之后，头脑中形成一张包含各种相关信息的地图，根据这张地图采取行动，往往能够取得事半功倍的效果。

下列不属于认知地图效应的是（ ）

- A. 庖丁解牛
- B. 胸有成竹
- C. 老马识途
- D. 管中窥豹

72. 精神赡养：指在家庭生活中，子女理解、尊重、关心、体贴父母，尽力满足其精神生活方面的需要。

下列不属于精神赡养的是（ ）

- A. 老孙最近专门买了一台液晶电视机安装在父母房间，让二老看自己喜欢的节目，还为他们买了多个京剧光盘
- B. 尽管老吴没和父母住在一起，但他多年来已经养成了每天都去看望的习惯，无微不至地照顾好他们的生活，老人感到很欣慰
- C. 春节临近，“夕阳红”敬老院的李院长请来了朝阳小学的“小红花”乐团，孩子们的欢声笑语和精彩节目，为老人们带来了无尽的快乐
- D. 老姜的母亲已七十多岁，但仍不服老，报名参加了交谊舞培训班，为避免老人生气并确保安全，每次母亲去上课时，老姜都悄悄跟在后面

73. 密码焦虑症：指现代人在日常生活中被银行卡、手机、登录网站、进入小区等密码包围，困扰而引起的心理焦虑症状。

下列属于密码焦虑症的是（ ）

- A. 张先生酷爱上网，平日购物、看电影、看书及与朋友通信、聊天都通过网络来实现，好在他将所有的登录密码都设成了自己的生日，因而也就没有感到特别的不方便
- B. 王厂长为保障工厂安全，给厂门加装了密码锁，要求员工输密码进厂，但又担心员工将密码泄漏给外人，为此他经常提醒保安，要认识本厂所有员工，不要让外人进来
- C. 金女士从来不用网银，总担心网银虽有密码保障，但还是不安全，说不定哪天被网络黑客盗取了密码，自己的银行存款就可能不翼而飞，惹来一身的麻烦
- D. 从乡下来到儿子家养老的李大爷，几年来最闹心的事就是不敢外出，因为小区大门、所住大楼单元门及自家大门都有不同的密码，生怕自己记不清，一出门就回不了家

74. 幻想性错觉：指人们即使对于一个客观中立、并无任何暗示性意义的事物，也往往试图从中寻找出某种特殊意义的心理现象。

下列不属于幻想性错觉的是（ ）

- A. 夜晚，有时有人会把高空的灯看成星星
- B. 人们常常会在云朵中发现一个个动物形象
- C. 古人认为月亮上有桂树、兔子、嫦娥、吴刚
- D. 天柱山周围的三座山峰绵延相连很像卧佛

75. 标杆效应：指在某一区域内，由于消费者对某品牌认知度较高，导致其价格往往比同一区域其他同类商品高出一大截，并影响到整个区域同类商品的价格走势。

下列属于标杆效应的是（ ）

- A. 在某市，某大品牌电器企业每到节假日就大搞特价促销活动，其他商家纷纷效仿，也出奇招来招揽顾客
- B. 某知名品牌推出的新款智能手表受到热捧，虽然价格偏高，却一再脱销，其他品牌的智能手表纷纷调低价格争夺市场份额
- C. 市一中即将搬往高新区的消息一传开，高新区的房价就一路飙升，连紧邻的湾树区房价也跟着涨了三四成
- D. 老徐的网店短短半年内就赢利数万，朋友们纷纷前来取经，采用同样的经营方式创办了自己的网店，一个个赚得盆满钵满

76. 帐篷理论：指在一定范围内，帐篷的容量不仅仅取决于篷布的面积，也取决于支撑篷布的竹竿的高度，竹竿越高，帐篷容量就越大。比喻利用核心竞争力要素带动其他各方面要素最终取得竞争优势。

下列不符合帐篷理论的是（ ）

- A. 在某市直机关举办的足球赛上，实力均衡的机关二队出人意料地击败了拥有两名前省队球员的机关一队，夺得冠军
- B. 某公司凭借其在发动机和传动系统上的技术优势，由原先的摩托车陆续进入汽车、割草机、水下引擎和发电机等市场，均获得巨大成功
- C. 小李的高考成绩虽然一般，社会实践经历也不出众，却凭借全国高中物理奥林匹克竞赛一等奖的优异成绩进入了重点大学
- D. 某款手机整体设计并不前卫，配置相当大众化，定价也相对偏高，本来不被业内专家看好。上市以后，却凭借超大屏幕受到广大用户青睐，销量连续数周排行第一

77. 协同治理：指政府部门为了达成公共利益的目标，通过与非政府的、非盈利的社会组织和普通公众合作开展社会管理活动的工作模式。

下列属于协同治理的是（ ）

- A. 某市辖区内有多个街道办，每个街道办管辖一片区域，有的街道服务中心专门设立了为老年人和残疾人提供公益服务的绿色通道
- B. 某高校学生会多次组织大学生深入周边社区，开展心理咨询、消防安全讲座、帮助孤寡老人等公益活动，受到了当地政府的表彰
- C. 为创建卫生城市，某市卫生局、环保局、城管局通力合作，卫生防疫人员、环境监测人员、环卫工人和城管人员各司其职，积极工作
- D. 某市为确保城市公交畅通安全，每个公交站台都配有治安巡查员，这些人员中既有职能部门的，也有志愿者协会成员，还有退休者

78. 020 营销方式：即 OnlineToOffline，指以互联网为前台，用线上营销带动线下消费的商业营销模式。通常包括商家网上提供商品信息、折扣信息、服务预订，消费者在线预付、线下消费等环节完成商品交易。

下列不属于 020 营销方式的是（ ）

- A. 某公司推出线上，线下同价促销活动，旗下的网上商城和实体店所有商品价格相同，一时间网上商城订单量剧增，到实体店提货的人也摩肩接踵
- B. 小兰在时装杂志上看到了一款心仪的长裙，通过某比价网站发现单位附近的一家商场同款长裙正在打折促销，于是趁中午休息时间买了回来。
- C. 女朋友生日临近，小袁从网上团购了某酒店的自助餐消费券，邀请多名好友为女友开了一个难忘的生日派对
- D. 某家电厂商利用微信平台向订阅用户定期推送新品上市、促销信息，用户用手机扫描推送消息中商品下方的二维码即可完成支付，等待附近门店的配送

79. 趋同进化：指不同生物物种在进化过程中由于适应相似的环境而呈现出外形上的相似性。

下列属于趋同进化的是（ ）

- A. 海豚和鲨鱼，一个是哺乳动物，一个是鱼类，只是为了更好地在海洋中生存，它们就变得越来越相像了
- B. 随着共同生活时间的增加，夫妻二人的价值观念，生活习惯，甚至连五官都变得越来越相近了
- C. 无脊椎动物中，腔肠动物门的珊瑚、甲壳类的藤壶、棘皮动物门的海百合等，都有相似的辐射对称躯体构型
- D. 蚂蚁从金合欢的刺中取食蛋白质、脂肪和蜜，也在金合欢枝叶间巡逻，咬断缠绕金合欢的其他植物，进攻来此觅食的食草动物

80. 星期一综合症：指由于在双休日过分耗费精力处理工作之外的事情，待到星期一上班时出现头晕、胸闷、腹胀、食欲不振、周身酸痛、注意力不集中等症状。

下列属于星期一综合症的是（ ）

- A. 五一小长假，小李和同事们计划已久的黄山之旅终于成行了，3 天下来，爬山、聚餐、照相、乘车，一点也不比上班轻松。这不，长假结束刚一上班，个个都像霜打的茄子——蔫了吧唧的
- B. 终于又到周末了，小王将下载好的一部 40 集连续剧不分白天黑夜地看完了，两天里除了上厕所，就没下过床，饭都是舍友帮忙从食堂带的。周一起床整个人都昏昏沉沉，干脆向辅导员请假不去上课了
- C. 周六上午陪小孩参加绘画兴趣班，下午学钢琴，晚上带着去品尝风味小吃；周日上午带着小孩去游乐场，下午去奶奶家。整个周末，王女士的时间表都被小孩填满了，周一上班脑袋里还是这些，根本没法工作
- D. 已经连续工作了 5 天，也计划好周末陪女友上街购物，但公司临时通知周末加班，小许只好向女友“请假”，回到办公室和同事们通宵达旦地又干了两晚。周一上班，个个都成了“熊猫眼”

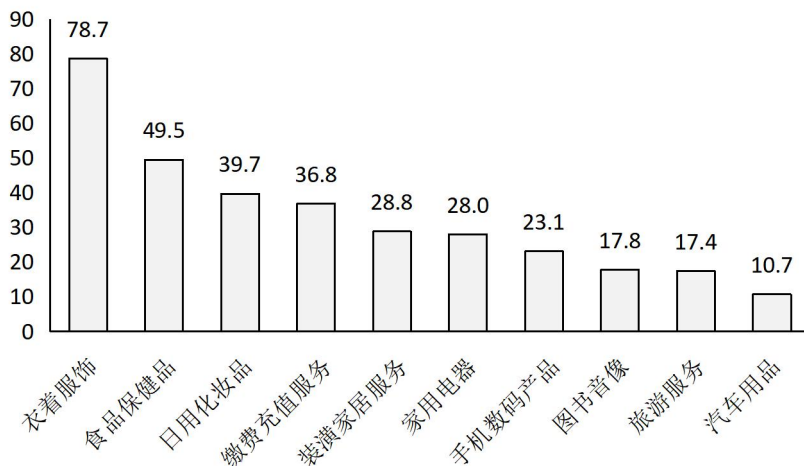
## 第四部分 资料分析

下列给出的文字，表格，图形资料均有五个问题要你回答。你应根据资料提供的信息进行分析、计算、处理，然后从备选答案中选择一个最恰当的答案。

### 一、根据以下资料，回答 81~85 题

S 市统计局在该市范围内，抽取 3000 名 18~70 周岁且在 2013 年有过网购经历的居民，以入户方式进行问卷调查。

调查数据显示：受访者 2013 年人均网购次数为 19.4 次。从分组情况来看，有三类人群使用网购相对频繁：一是年轻群体，35 岁以下的受访者人均网购次数为 25.5 次；二是较高学历群体，文化程度为大学本科及以上学历和大专学历的受访者人均网购次数分别是 27.3 次和 21.8 次；三是中高收入群体，个人月收入为 10000 元以上和 5000~10000 元的受访者人均网购次数分别是 31 次和 26 次。此外，女性受访者人均网购次数为 21.1 次，比男性受访者高出 3.8 次。2013 年该市网购 10 类主要商品和服务的受访者占比情况如下图。



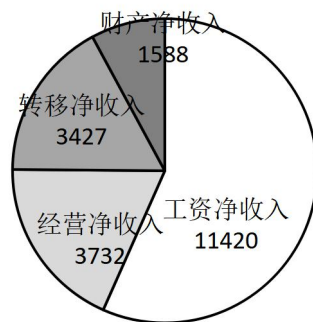
2013 年 S 市网购 10 类主要商品和服务的受访者占比 (%)

81. 2013 年，在该市有超过 40% 的受访者网购的商品和服务项目是（ ）
- A. 衣着服饰、食品保健品      B. 食品保健品、汽车用品
- C. 衣着服饰、缴费充值服务      D. 日用化妆品、装潢家居服务
82. 受访者中女性所占比例约为（ ）
- A. 71.2%      B. 65.7%      C. 55.3%      D. 44.7%
83. 下列群体中，2013 年人均网购次数最多的是（ ）
- A. 35 岁以下的受访者      B. 个人月收入为 10000 元以上的受访者
- C. 大专学历的受访者      D. 大学本科及以上学历的受访者
84. 受访者中，在 2013 年网购了缴费充值服务的人数约为网购图书音像人数的（ ）
- A. 1.5 倍      B. 2.1 倍      C. 2.5 倍      D. 3 倍
85. 不能从上述资料推出的一项是（ ）
- A. 受访者中在 2013 年网购了日用化妆品的人数是 1191 人
- B. 2013 年该市个人月收入为 5000~10000 元的受访者人均网购次数是 26 次
- C. 2013 年该市网购家用电器、图书音像的受访者占受访者之比的差是 10.2%
- D. 2013 年该市大专及以上学历受访者的人均网购次数是 24.6 次

### 二、根据以下资料，回答 86~90 题

2014 年全国居民人均可支配收入 20167 元，比上年增长 10.1%，收入来源如下图所示。按常住地分，城镇居民人均可支配收入 28844 元，比上年增长 9%；城镇居民按户人均可支配收入的中位数为 26635 元，增长 10.3%。农村居民人均可支配收入 10489 元，比上年增长 11.2%；农村居民按户人均可支配收入的中位数为 9497 元，增长 12.7%。全国居民人均消费支出 14491 元，比上年增长 9.6%。按常住地分，城镇居民人均消费支出 19968 元，增长 8%；农村居民人均消费支出 8383 元，增长 12%。





2014 年全国居民人均可支配收入来源（单位：元）

86. 2014 年城镇居民人均消费支出增长比农村居民人均消费支出增长（ ）
- A. 低 2.2 个百分点                      B. 高 4 个百分点
- C. 高 2.2 个百分点                      D. 低 4 个百分点
87. 2014 年全国居民人均可支配收入中经营净收入占比为（ ）
- A. 27%B. 18.5%C. 56.6%D. 7.9%
88. 2013 年城镇居民人均可支配收入比农村居民人均可支配收入多（ ）
- A. 17030 元              B. 18355 元              C. 16138 元              D. 22090 元
89. 2013 年全国居民人均可支配收入与人均消费支出分别为（ ）
- A. 22177 元、17222 元                      B. 18317 元、13222 元
- C. 16367 元、11491 元                      D. 20167 元、14491 元
90. 2014 年全国城镇居民人数占全国居民人数的比重是（ ）
- A. 36.4%              B. 42.1%              C. 52.7%              D. 69.9%

三、根据以下资料，回答 91~95 题

2014 年 1~9 月我国入境外国人共有 1922 万人，其中来自亚洲、美洲、欧洲、大洋洲、非洲的外国人分别为 1184 万人、229 万人、408 万人、58 万人和 43 万人，分不同目的的入境外国人数见下表。

2014 年 1~9 月不同目的入境外国人数

单位：万人

来源	会议（商务）	观光休闲	探亲访友	服务员工	其他
亚洲	219	388	12	176	389
每周	41	84	19	14	71
欧洲	109	147	7	46	99
大洋洲	10	20	6	3	19
非洲	15	12	0	4	12

91. 2014 年 1~9 月来自欧洲的入境外国人数占入境外国人总数的比重是（ ）
- A. 11.9%              B. 21.2%              C. 28.1%              D. 30.2%
92. 2014 年 1~9 月不同目的入境外国人中人数最多的是（ ）
- A. 观光休闲              B. 会议（商务）              C. 探亲访友              D. 其他
93. 2014 年 1~9 月以会议，商务，为目的的入境外国人数为（ ）
- A. 243 万              B. 590 万              C. 394 万              D. 651 万
94. 2014 年 1~9 月来自大洋洲以不同目的入境的人数占其入境总人数的比重超过 15%的有（ ）
- A. 会议（商务）、探亲访友、服务员工
- B. 观光休闲、探亲访友、其他
- C. 会议（商务）、观光休闲、其他
- D. 观光休闲、探亲访友、服务员工
95. 下列判断正确的是（ ）
- A. 2014 年 1~9 月来自亚洲以会议（商务）为目的入境人数不到表中其他各洲以会议（商务）为目的入境总人数的一半
- B. 2014 年 1~9 月来自表中各洲探亲访友的人数占各洲入境总人数的比重均最小

- C. 2014 年 1~9 月来自美洲服务员工的人数不到其会议（商务）人数的三分之一
- D. 2014 年 1~9 月来自表中各洲会议（商务）人数占各洲入境总人数比重最大的是非洲

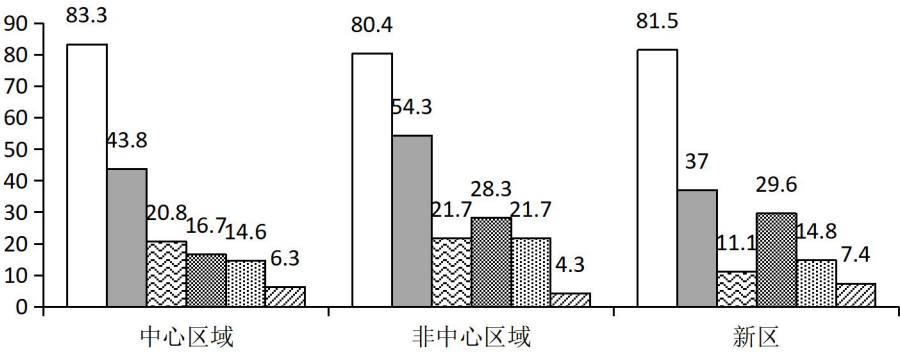
四、根据以下资料，回答 96~100 题

某市统计局在针对噪音扰民的一次调查中，当问及受访市民对哪一类噪音最反感时，选择社区广场舞等活动噪音的占 8.6%，比选择居民社区宠物狗叫声的低 2.9 个百分点。当问及是否支持广场舞等活动时，12.8%的受访市民表示无所谓或不知道，12%表示反对，其余均表示支持。在支持的市民中，当被问及支持的主要原因（多选）时，不同年龄段受访者的回答如下表。在反对的市民中，当被问及反对的主要原因（多选）时，不同区域受访者的回答如下图。

支持广场舞等活动的受访市民选择各主要原因的比例（%）

原因	青年	中年	老年
中老年人正常的锻炼娱乐活动	66	54.6	60.8
有利于中老年人扩大社交、排解孤独	64.7	61.7	54.3
有利于中老年人活络筋骨、减缓衰老	62.8	59.7	58.1
噪音等问题可以通过规范管理克服	22.5	16.3	18.8
社会和谐需要相互包容理解	32.1	32.7	31.7
其他原因	0.3	2	1.6

- ☐ 噪声影响周围居民的生活和休息
- ☐ 挤占公共场地，影响他人休闲锻炼
- ☒ 音乐没有愉悦感，难以忍受
- ☒ 个别中老年人对此着迷，影响家庭和谐
- ☒ 集体舞形式没有美感，影响观感
- ☒ 其他原因



反对广场舞等活动的受访市民选择各主要原因的比例（%）

96. 此次调查中，对居民社区的宠物狗叫声最反感的市民占受访市民的比重是（ ）
- A. 12.5%      B. 11.5%      C. 10.5%      D. 9.5%
97. 如果此次调查的受访者有 1000 名，则支持广场舞等活动的人数为（ ）
- A. 634      B. 752      C. 798      D. 914
98. 此次调查，在支持广场舞等活动的受访青年市民中，同时选择“中老年人正常的锻炼娱乐活动”“有利于中老年人扩大社交、排解孤独”两个原因的比例至少为（ ）
- A. 64.7%      B. 36.3%      C. 30.7%      D. 28.6%
99. 根据此次调查，市民反对广场舞等活动的最主要原因是（ ）
- A. 噪音影响周围居民的生活和休息
- B. 挤占公共场地，影响他人休闲锻炼
- C. 音乐没有愉悦感，难以忍受
- D. 集体舞形式没有美感，影响观感
100. 下列判断正确的是（ ）
- A. 此次调查的 16.3% 的中年受访者认为广场舞等活动噪音可以通过规范管理克服
- B. 此次调查的受访者中，青年所占比例高于中年和老年
- C. 和中心城区的老年人相比，非中心城区和新区的中老年人对广场舞更着迷
- D. 在反对广场舞等活动的非中心城区受访市民中，选择“音乐没有愉悦感，难以忍受”“集体舞形式没有美感，影响观感”两个原因的市民比例一样多



## 2015 年江苏省考行测解析 A

1. 【解析】C。文段首先指出受财税体制改革影响最大的是各级地方政府，接着阐释原因——财税体制改革将对目前地方财政面临的诸多问题，直剖病灶予以解决。C 项为文段内容的同义替换，当选。A 项点出了财政体制改革的对象，B 项说的是直面各种财税问题，与文中的，予以解决 表述不一致，D 项中的，收紧地方财政的‘钱袋子’，是地方政府关注财税改革的原因，而不是财税改革的目的。

2. 【解析】A。根据文意可知，B 项，不求名利 对应，足具淡泊明志，宁静致远的神采，C 项，意志坚强 对应，不管是……还是……他始终锲而不舍，D 项，胸怀天下 对应，他有儒家兼济天下、学以致用的热肠，均为朱光潜所具备的品质。A 项，无为而治 为老子的政治主张，与文段中体现的朱光潜的，出世 思想相悖，且文段中，深得道家超然物表、虚静无为的精髓 与，无为而治 并不一致。因此 A 项当选。

3. 【解析】B。文段列举了我国人均水资源量少、南方和北方普遍缺水等问题，意在宏观指出我国当前水资源面临严重问题。A、C、D 三项都是水资源问题的具体表述，过于片面，排除。B 项当选。

4. 【解析】C。文段论述了当前大学内部制度中缺乏教学的价值体现以及教学与科研相对立的现象，综合这两部分的内容可知，文段意在强调大学必须提高对教学价值的认识，C 项正确，当选。A 项文段对大学自身职能的认识只是铺垫，并非主旨，B 项与文段论述的主体不符，D 项的，一视同仁 在文中没有体现，均排除。

5. 【解析】D。根据文段所列举的，这个星球上的其他生物，从细菌和植物，到鱼类、昆虫和哺乳动物，都具有这种能力 可知，拥有，生物钟 的主体是具有生命的生物，A、B、C 三项的腊梅、公鸡、人都符合这一要求，而 D 项，夏季来临昼长夜短 是一种自然规律，与生物无关，因此当选。

6. 【解析】B。文段论述了我国企业改组过程中国内民间资本以及境内上市公司的发展现状。由，到 2012 年，中国……股票市值达 23 万亿元，占当年 GDP 的 43% 可知，2012 年我国 GDP 约为 53 万亿，B 项说法错误。A、C、D 三项均可在文段中找到对应内容。因此 B 项当选。

7. 【解析】B。文段前两句指出人多地少、粮价波动的全球性问题，后两句介绍了日韩两国的解决措施及其起到的积极作用。因此文章论述的重点应该是海外屯田战略对解决粮价波动的影响。B 项与之最为接近，当选。

8. 【解析】D。根据文意可知，夏商及周早期没有商税是因为，工商食官 这一体制，即必须在官府作坊内从事生产和贸易，，这种体制决定了自己对自己征税并无必要。因此 D 项当选。

9. 【解析】B。文中，在重视市场机制的同时……政府要实行必要的宏观调控 说明政府起主导作用，总规划应该由政府调控，因此 B 项错误，当选。易错项为 C 项，文段最后一句，政府应该从以行政手段为主转变为采用经济和法律手段为主管理城镇发展可以解释 C 项中的，坚持并强化依法行政，法律手段这一管理方式一直存在，所以说要，坚持，但现在要以，法律手段为主 所以说是，强化，C 项表述正确。

10. 【解析】D。文段从正反两方面论述了，认识和评价律师在诉讼活动中的地位 的重要性和必要性，意在强调要正确认识和评价律师在诉讼活动中的作用，D 项正确。A、B、C 三项均只是律师地位的一个方面，表述片面。

11. 【解析】D。文章第一段指出，《汉书·地理志》，采获旧闻，考迹《诗》、《书》，推表山川，以缀《禹贡》、《周官》、《春秋》，下及战国、秦、汉，对见于历史典籍记载的重要山川地名作了考订注释，D 项表述错误。A、B、C 三项均可在原文中找到对应表述。因此 D 项当选。

12. 【解析】A。由文章第二段，由于在如此巨大的空间和时间中所发生的变化是如此复杂，已不是一般学者所能随意涉足，因而产生了一门专门学问——舆地之学（沿革地理）可知，沿革地理产生的根本原因是地理情况变化具有复杂性，A 项表述正确。B、C 两项只是沿革地理产生的背景而非根本原因，D 项为无关选项，均排除。

13. 【解析】D。根据文意可知，第一空带有发源、起源之意，，创立 指初次建立，一般与具体的组织、国家等搭配，此处修饰，中国历史地理的研究 不妥，排除 C 项。第二空，，溯源 比喻向上寻求历史根源，根据语法可知，不适宜作，更长的历史 的谓语，排除 A 项。，回溯 指回顾、回忆，与文意不符，排除 B 项。D 项的，追溯 比喻探索事物的由来，填入此处符合文意。因此 D 项当选。

14. 【解析】D。原文中，数百年来除了有少数几位专治沿革地理的学者之外，大多只是历史学家、经学家、训诂学家、文学家、金石家的副业，由此可见 D 项表述错误，同时，D 项表述也并非，沿革地理不等于历史地理学 的理由，因此 D 项当选。

15. 【解析】C。，中国沿革地理向历史地理学的发展是 30 年代以后才开始的，可见历史地理学的发展并非源远流长，排除 A 项。文段并没有重点讲述历史地理学形成发展的主要原因，而是从地理学起篇，说到《汉书·地理志》对历史地理的研究，紧接着引出中国古代的沿革地理，并辨析了沿革地理与历史地理学的区别，最后总结，显然，历史地理学形成和发展的一个决定因素是现代地理学的建立……中国沿革地理向历史地理学的发展是 30 年代以后才开始的，由此可知，文章主要讨论的是历史地理学的形成和发展过程。因此 C 项当选。

16. 【解析】A。先看第二空，，有教无类 侧重于表现主观性的教育态度，，润物无声 指有大胸怀者，做了贡献而不张扬，默默奉献，均与文意不符，排除 B、C 两项。，不可或缺 指不能有一点点缺失，语义过重，用在此处修饰辞书的作用不恰当，排除 D





项。A项当选。

17.【解析】A。先看第二空，根据语法关系可知，横线处需要填入作宾语的成分，，危在旦夕 和，痛彻心扉 均为形容词，不适合作宾语，排除B、C两项。，灭顶之灾 比喻毁灭性、致命性的灾难，语义过重，排除D项。将A项代入验证符合文意，因此A项当选。

18.【解析】D。第一空，D项，雷厉风行 比喻执行政策法令严厉迅速，符合文意。，大张旗鼓，声势浩大 和，排山倒海 都侧重于表现活动规模之大，而没有表现出贯彻政策之决绝、严厉，排除A、B、C三项。将D项代入文段验证，符合文意。

19.【解析】C。先看第三空，根据文意可知，文段带有积极的感情色彩，，杂乱无序 和，喧嚣不已 带有鲜明的负面意义，与文段感情色彩不符，排除B、D两项。，欢声笑语 与横线后的，夜晚 搭配不当，排除A项。将C项代入文段验证，符合文意。因此C项当选。

20.【解析】B。先看第二空，根据文意可知，养老保险的统一应与改革采用相同的做法，，服从 与，纳入 均与文意不符，排除C、D两项。再看第三空，文段想要表达的意思是随着各项工作的推进，养老制度会不断改革和完善，，水到渠成 比喻条件成熟，事情自然就会成功，与文意相符，B项当选。

21.【解析】A。先看第二空，根据文意可知，此处意在说明一个人的表达文风是可以变化的，，一蹴而就 和，持之以恒 不合语义，排除C、D两项。再看第三空，，经历 是指亲身体验的时间过程，是客观的、已经发生的，是不能变化的，而，阅历 是指一个人对社会所发生的事的经历和理解方式，是可以变化的，后者更符合文意。因此A项当选。

22.【解析】C。第一空，语境语义可知，应填入与，揠苗助长 语义相近，与前文的，市场发挥决定性作用 语义相反的词。，李代桃僵 指以此代彼或代人受过，，大包大揽 指把工作或事情全部兜揽、承担起来，，鞭打快牛 比喻对先进的单位或个人进一步增加任务或提出过高的要求，均与文意不符，排除A、B、D三项。将C项代入文段验证，符合文意，C项当选。

23.【解析】D。先看第三空，根据，一千多年历史，源远流长 可推知，文段应侧重表达客家文化的强大生命力，，不绝如缕 多形容局面危急或声音、气息等低沉微弱、时断时续，与原文不符，排除B项。，波澜壮阔 侧重于表现声势雄壮或规模巨大。，流光溢彩 形容光芒耀眼，色彩明亮，这两个成语与文段主旨也并不贴合，排除A、C两项。因此D项当选。验证D项其他两空，也符合文意。

24.【解析】B。，鱼目混珠 指把鱼眼珠杂混在珍珠中，比喻以假乱真，以次充好。第三空意在形容认证机构之多、之杂，并未侧重于区分真伪、好坏，排除A项。，良莠不齐 指好人坏人都有，混杂在一起，不适用于形容环保标识，排除C项。，垂青 的宾语只能是名词性的，不能接动词短语，排除D项。因此B项当选。

25.【解析】C。第一空，，仰慕 指敬仰思慕，多与人搭配，此处用于形容书不恰当，排除D项。第二空，，超脱 指不拘泥成规、传统、形式等或超出、脱离、解脱，与文意不符，排除B项。，幻想 指不切实际的、不能实现的一种想象；，奢望 一般指过高的希望，根据第二空后一句，有些勉为其难 可推知，此处应填入，奢望 更符合文意。因此C项当选。

26.【解析】C。-7-5-15（13）23作差（后项减前项）246810公差为2的等差数列

27.【解析】D。2130405268（92）作差（后项减前项）9101216（24）再次作差124（8）公比为2的等比数列

28.【解析】A。分组数列。小数点之前的部分2.4.8.16.32，是公比为2的等比数列，下一项为64。小数点之后的部分3.8.24.51.89，两两作差得到5.16.27.38，是公差为11的等差数列，则下一项小数点之后的数字为11+38+89=138。因此未知项为64.138。

29.【解析】B。由于3=9，4=16，则根号内数字构成的数列具有如下规律：

911162435（49）

作差（后项减前项）

25811（14）公差为3的等差数列

则可得未知项根号内的数字为49，未知项为49=7。

30.【解析】B。分数数列。题干的数列可以写为：14. 36. 511. 719. 930.（ ）。观察可知，分母构成公差为2的等差数列，则未知项的分母应为11。分子构成的数列是4. 6. 11. 19. 30，两两作差可得到一个新的等差数列：2. 5. 8. 11，则括号内所填数字的分子应为30+14=44。

31.【解析】A。由等差数列的第2项和第4项可求出其公差d=5，则首项a<sub>1</sub>=21-5=16。又已知a<sub>n</sub>=516，根据等差数列求和

32.【解析】D。不定方程求解，可分析未知数所应满足的倍数特征。132为11的倍数，11a是11的倍数，则7b也是11的倍数，则b是11的倍数，令b=11，可得a=5。

33.【解析】C。解法一：假设规定的工期为x天，对比，若甲队单独做，则要超工期9天完成 和，若两队合做，则恰好按期完成 可知，甲队（超工期）9天完成的工程量恰好就是乙队在规定工期x天内完成的工程量。又由题意可得甲队工作效率大于乙队，则x>9，观察选项发现C项符合。

解法二：假设规定的工期为x天，对比，若甲队单独做，则要超工期9天完成 和，若两队合做，则恰好按期完成 可知，甲队（超工期）9天完成的工程量恰好就是乙队在规定工期x天内完成的工程量，即9×甲队工作效率=x×乙队工作效率。同理可得，乙队（超工期）16天完成的工程量恰好就是甲队在规定工期x天完成的工程量，即16×乙队工作效率=x×甲队工作效率。上述两





等式左右两边分别相乘，然后化简得  $x=12$ 。C 项正确。

34.【解析】B。解法一：由题干，每组 22 人，则多出一人未分进组 可知，学生总人数减去 1 后可以被 22 整除。C、D 两项的数字减去 1 后均为奇数，无法被 22 整除，排除。代入 A 项， $441-1=22 \times 20$ ，但是 441 无法被 19 整除，排除。验证 B 项符合题意，当选。

解法二：第二次少分一组，说明把多出的  $22+1=23$ （人）平均分给了第二次各组。由 23 是质数，可知第二次总组数只能为 23，则第一次分了 24 组，总人数为  $24 \times 22+1$ ，利用尾数法算得尾数为 9，B 项符合。

35.【解析】C。溶液问题。设取出的三种溶液的质量都是 1，且 A、B、C 三种盐溶液的浓度分别为  $a\%$ 、 $b\%$ 、 $c\%$ 。

36.【解析】A。解法一：设重度污染的城市数为  $x$  个，则空气质量良好的城市数为  $(3x+3)$  个，轻度污染的城市数为  $2x$  个。根据题意可列方程  $x+3x+3+2x=63$ ，解得  $x=10$ 。所以空气质量良好的城市有  $10 \times 3+3=33$ （个）。

解法二：由题意可知空气质量良好城市数是 3 的整数倍，排除 B、C 两项。假设空气质量良好城市数是重度污染城市数的 3 倍，可得空气质量良好城市数：轻度污染城市数：重度污染城市数  $=3:2:1$ ，共 6 份对应 63，空气质量良好城市数 3 份对应 31.5，而实际空气质量良好城市数要比 31.5 大一些，A 项符合。

37.【解析】B。设该商品原来的价格为 1，则 4 个商场经过两次价格调整后的售价列式，易知甲、丁两商场两次提价后售价相同，不可能是最高的，故排除 A、D 两项。比较乙、丙两商场两次提价后的售价，乙商场该商品两次提价后的售价最高。

38.【解析】C。由题意可以得出， $193-6=187=11 \times 17$ ，根据 11、17 均为质数这一特性，要使得黑盒子中的棋子数最少，令白盒子中的棋子数最大  $=17$ ，则放入后黑盒子中的棋子数  $=193-17=176$ ，放入前黑盒子中的棋子数  $=176-15=161$ 。

39.【解析】C。

40.【解析】B。设甲、乙、丙的速度分别为甲  $v$ 、乙  $v$ 、丙  $v$ ，根据追及问题公式有： $(乙 v - 甲 v) \times 120 = 30 甲 v$ 、 $(丙 v - 乙 v) \times 300 = 20 乙 v$ ，整理得  $(乙 v - 甲 v) : 甲 v = 1 : 4$ ， $(丙 v - 乙 v) : 乙 v = 1 : 15$ ，令  $乙 v = 15$ ，则  $甲 v = 12$ ， $丙 v = 16$ 。设甲出发 10 分钟后，乙出发直至追上甲用了  $x$  分钟，根据追及问题公式可得  $(15-12) \times x = 12 \times 10$ ，解得  $x=40$ 。可知丙出发时甲已经出发了  $10+40=50$ （分钟），那么丙追上甲需要 150 分钟

41.【解析】C。并列关系。白羊和黑羊都属于羊，是同级并列关系；周刊和月刊都属于杂志，也是同级并列关系。

42.【解析】B。种属关系。自拍属于拍照的一种形式，茶馆属于休憩的一类场所。A 项，铁矿属于矿石，不属于金属。C 项，微信和博客是并列关系，都是一种社交平台。D 项，船舱是飞船的一部分，二者是组成关系。

43.【解析】D。《教师法》规定了教师的权利和义务，且对尊重教师有正向促进作用。D 项的逻辑关系与题干一致，《婚姻法》规定了夫妻的权利和义务，且对婚姻自主有正向促进作用。A、B、C 三项的第三个词组，都属于其所对应的法律禁止的行为，与题干逻辑关系不符。

44.【解析】C。并列关系。人民币、美元、欧元都属于货币的种类；兰花、牡丹、菊花都属于花的品种。三者都是并列关系，因此 C 项当选。

45.【解析】A。全同关系。一星期等于七天，一米等于十分米，二者都为全同关系。B 项，一百元等于十个十元，排除。C 项，直线是几何学的一部分，二者不能等同，排除。D 项，十公斤等于十千克，一吨等于一千千克，排除。因此 A 项当选。

46.【解析】D。扎小羊灯要用到细绳；剪福字窗花要用到剪刀。47.【解析】A。海盐可以用来增加食物的咸味；供暖器可以用来供暖。

48.【解析】B。题干中，第二位和第三位的数字相同，第七位和第八位的字母相同，排除 C、D 两项。题干中，最后两位均为大写字母，排除 A 项。因此 B 项当选。

49.【解析】C。题干中，第三位和第五位符号相同，第四位和第六位符号相同，第一位和第八位样式相同、大小不同，第二位与第七位符号与其他符号各不相同。符合此规律的只有 C 项。

50.【解析】A。题干中，第一位和第七位符号相同，第二位和第三位符号相同，第四位和第五位符号相同，第六位和第八位符号相同，符合此规律的只有 A 项。

51.【解析】B。题干中的图形均为禽类，并且头都朝向左侧，符合这一规律的只有 B 项。

52.【解析】D。题干中图形的交点的数量依次为 4，5，6，7，8，构成一个等差数列，下一个图形交点的数量应该是 9。只有 D 项符合。

53.【解析】A。题干中的图形竖线条的数量依次为 2，3，4，5，6，构成一个等差数列，下一个图形竖线条的数量应该是 7。只有 A 项符合。

54.【解析】C。题干中的图形封闭空间数量依次为 1，2，3，4，5，构成一个等差数列，下一个图形封闭空间数量应为 6，并且这 5 个图形既是轴对称图形，又是中心对称图形，满足这一规律的只有 C 项。

55.【解析】D。题干中的图形可以拼合成如下图形：

56.【解析】A。

57.【解析】A。B 项右侧面上的线段应与公共边相交，排除。C 项右侧面内应该是小三角形，排除。D 项左侧面内应该是小三



角形，排除。A 项正确。

58.【解析】D。A 项，由展开图可知，若左侧面为 A 项所示，右侧面应为有深色阴影三角形所在的面，排除。若左侧面为 B 项所示，右侧面应为浅色阴影的平行四边形所在面，且在相邻边上应只有一个公共点，没有公共边，排除。同理，可排除 C 项。因此 D 项当选。

59.【解析】B。A 项的正面与右侧面、C 项的正面与顶面、D 项的正面与右侧面均为相对面，根据相对面不相邻的原理，可排除 A、C、D 三项。因此 B 项当选。

60.【解析】A。B 项，具有两个三角形的面与深色阴影三角形所在面为相对面，B 项错误。C 项，深色阴影三角形所在面为右侧面时，顶面与正面中的三角形应有一条相邻边，C 项错误。D 项，浅色阴影三角形所在的面为相对面，D 项错误。因此 A 项当选。

61.【解析】B。题干可翻译为：（1）官员，不敢腐 → 加大查处、惩罚力度，（2）官员，不能腐 → 在权力运作的每个环节建立和完善相关制度，（3）官员缺乏必要的廉耻之心 → 官员会找到制度的漏洞，（4）官员有一定的廉耻之心 → 官员，不想腐。A 项中，一般不会发现制度的漏洞 表述错误，题干表述为，即便存在一些制度漏洞，他们也不会有意利用，而是会克制自己。B 项等价于（4）的表述，正确。C 项可翻译为：加大查处、惩罚力度 → 官员，不敢腐，根据（1）可知，肯后不能肯前，排除。D 项可翻译为：建立和完善权力运作各个环节的相关制度 → 官员，不能腐，根据（2）可知，肯后不能肯前，排除。因此 B 项当选。

62.【解析】A。题干，逆耳的未必都是忠言 等价于，逆耳的可能不是忠言，即 A 项的，有的逆耳之言可能不是忠言。B 项，有的忠言并不逆耳 不能推出。题干，有种电话诈骗就是以很凶的方式出现的 是特称肯定命题，C 项，有的电话诈骗的声音并不是很凶 是特称否定命题，由题干表述不能推出 C 项。D 项，题干中，一旦你心里打怵了，你就听他们的了 是充分条件，肯定前件能得到肯定后件，但否定前件并不能得到确定的结论，因此 D 项也无法推出。A 项当选。

63.【解析】C。单位领导只采纳了上述一种意见，采用代入法。假设 A 项正确，满足意见（1）、（2），排除。假设 B 项正确，满足意见（1）、（3），排除。假设 C 项正确，只满足意见（2），符合题意。假设 D 项正确，满足意见（1）、（3），排除。因此 C 项当选。

64.【解析】B。为富皆不仁，为官皆不义 这两个命题都是全称否定命题，与之矛盾的是特称肯定命题，即，有的为富仁，有的为官义，B 项正确。

65.【解析】C。根据题干可知，小孙一直未碰方向盘，四段路程皆由其妻子驾车，那么四段路程中都出现的人就是小孙的妻子，即，张，由此判断，孙张 为夫妻，排除 B 项。夫妻二人不能同时作为同一段路程的驾车人，A、D 两项中，李、吴 都是第三段路的驾车人，不可能是夫妻，排除。因此 C 项当选。

66.【解析】D。题干的对话所犯逻辑错误为混淆概念，顾客将，鱼香肉丝 中，鱼 的概念理解为动物，鱼，老板以同样的逻辑方式反驳。D 项中顾客将，珍珠奶茶 中，珍珠 的概念理解为珠宝，珍珠，同样是混淆了概念，售货员以同样的方式反驳。题干与 D 项都是实物之间的对比，C 项中英雄墨水中的，英雄 为品牌，因此 D 项更符合题意。

67.【解析】C。题干中专家的论断是：官员与艺术家的身份重叠会使行贿受贿行为更加便利。A、B、D 三项通过增加论据支持了专家的论断。C 项客观陈述了某些官员书法功底深厚，对别人请求题字一般并不推托的事实，对专家的论断不构成影响，为无关选项，当选。

68.【解析】A。先看④所在的粗线条围成的，十 字型小区域，竹 下面的三个方格不能填，竹，因此④只能填，竹，排除 D 项。再看②③所在的粗线条围成的小区域，该区域第一行最左边的方格，由于其上、下、左、右依次有，兰，梅，菊，竹，因此，该方格只能填，松，而③不能再填，松，排除 B 项。该区域，松 下面的方格不能再填，竹，又由于该方格所在的列已有，兰，松，梅，因此，该方格只能填，菊，而③不能再填，菊，排除 C 项。因此 A 项当选。

69.【解析】B。假设王刚与李亮是公共管理专业硕士，由题干可知他们都是北方人，王刚单身；由于只有两人是北方人，所以可得赵虎不是北方人。由题干，如果赵虎与李亮爱好打乒乓球，则他们也都是北方人 的逆否命题可得，赵虎与李亮不都爱打乒乓球。由于有两人爱好打乒乓球，则王刚必然爱打乒乓球，那么王刚具有题干所述 4 个特征，与题干矛盾，则王刚与李亮是公共管理专业硕士的假设不成立，即赵虎是公共管理专业硕士，B 项当选。

70.【解析】D。假设赵虎单身，则王刚也单身，再根据，如果赵虎与李亮爱好打乒乓球，则他们都单身，可得出赵虎和李亮不都爱好打乒乓球，那么王刚爱好打乒乓球。再假设王刚与李亮是公共管理专业硕士，那么他们都是北方人，这样的话王刚就满足了四个条件。那么，假设王刚与李亮是公共管理专业硕士有误，则可得出赵虎是公共管理专业硕士；或者假设赵虎单身错误，那么王刚就单身。因此，A、B、C 三项均可能通过推理得出，只有 D 项不能得出，当选。

71.【解析】D。认知地图效应的要点是：（1）对特定事物多次探索；（2）头脑中形成一张包含各种相关信息的地图；（3）根据这张地图采取行动，往往能够取得事半功倍的效果。A、B、C 三项都符合定义要点。D 项中的，管中窥豹 是指从竹管的小孔里看豹，只看到豹身上的一块斑纹，比喻只见到事物的一小部分，所见不全面或略有所得，不符合定义要点，当选。

72.【解析】C。精神赡养的定义要点是：（1）在家庭生活中；（2）子女理解、尊重、关心、体贴父母；（3）满足其精神生活方面的需要。A、B、D 三项都符合定义要点。而 C 项的，小红花 乐园的孩子们并不是老人们的子女，不符合定义要点（1）和（2），

- 当选。
- 73.【解析】D。定义的关键信息是,被密码包围、困扰而引起的焦虑心理。A、B、C三项均不符合定义。D项,李大爷在日常生活中因被小区大门、所住的大楼单元门及自家大门密码所困扰而不敢出门,符合密码焦虑症的定义,当选。
- 74.【解析】A。幻想性错觉的定义要点是:对于一个客观中立、并无任何暗示性意义的事物,往往试图从中寻找出某种特殊意义的心理现象。B项在云朵中发现动物形象,C项认为月亮上有桂树、兔子、嫦娥、吴刚,D项将天柱山周围的三座山峰想象成卧佛,都是赋予一个客观中立的事物以某种特殊意义,都符合定义要点。A项把高空的灯看成星星,并不是从客观事物中寻找特殊意义,而是视觉感受的错觉,不是一种心理现象,不属于幻想性错觉,当选。
- 75.【解析】B。将选项代入定义。A项,没有体现出,价格往往比同一区域其他同类商品高出一大截。C项,房价飙升并不是消费者对品牌认知度较高导致的,而是消费者获得其他消息后造成的,不满足定义。D项同样没有体现,消费者对某品牌认知度较高,不符合定义。因此B项当选。
- 76.【解析】A。帐篷理论的定义要点是:利用核心竞争力带动其他各方面要素,最终取得竞争优势。B项,某公司凭借其在发动机和传动系统上的技术优势不断扩大市场,C项,小李凭借全国高中物理奥林匹克竞赛一等奖的优异成绩进入重点大学,D项,某款手机凭借超大屏幕受到广大用户青睐,均符合定义要点。A项,实力均衡的二队击败一队,夺得冠军,并不是凭借其在某方面的核心竞争力,不符合定义要点。因此A项当选。
- 77.【解析】D。协同治理的定义要点:(1)主体是政府部门;(2)方式是,与非政府的、非盈利的社会组织和普通公众合作开展。A项中街道办是政府的派出机关,不符合要点(2)。B项的主体是某高校学生会,不符合要点(1)。C项的卫生局、环保局、城管局都属于政府部门,不符合要点(2)。D项符合定义要点,当选。
- 78.【解析】B。定义的要点是,以互联网为前台,用线上营销带动线下消费的商业营销模式,这种营销模式的主体是商家。B项,小兰只是通过某比价网站发现一家商场同款长裙正在打折促销,并到该商场买回,不符合定义的主体要点,当选。
- 79.【解析】A。定义的要点是,不同生物物种、,由于适应相似的环境、,呈现出外形上的相似性。B项的夫妻不属于,不同生物物种,C项中的珊瑚、藤壶、海百合都属于无脊椎动物,且选项中没有体现它们生活环境的相似性,D项蚂蚁和金合欢不存在,外形上的相似性,而A项中哺乳类的海豚和鱼类的鲨鱼,为了适应相似的环境——海洋,从而变得越来越相似了,符合定义要点,当选。
- 80.【解析】C。将选项一一代入定义。A项,小李和同事们是小长假出去爬山的,并不是双休日,不属于星期一综合症。B项,小王是学生,不满足,星期一上班,不属于星期一综合症。D项,小许双休日处理的是工作,不满足,在双休日过分耗费精力处理工作之外的事情,不属于星期一综合症。C项满足定义的各项要点,当选。
- 81.【解析】A。由图可知,2013年在该市有超过40%的受访者网购的商品和服务项目是衣着服饰(78.7%)和食品保健品(49.5%)。
- 82.【解析】B。设受访者中女性所占的比例为x。根据资料,受访者2013年人均网购次数为19.4次,女性受访者人均网购次数为21.1次,比男性受访者高出3.8次,可列方程为 $3000x \times 21.1 + 3000 \times (1-x) \times (21.1-3.8) = 3000 \times 19.4$ ,解得 $x \approx 55.3\%$ 。
- 83.【解析】B。由资料第二段可知,2013年人均网购次数分别为:35岁以下的受访者25.5次,个人月收入为10000元以上的受访者31.0次,大专学历的受访者21.8次,大学本科及以上学历的受访者27.3次;最多的是B项。
- 84.【解析】B。由图可知,2013年网购缴费充值服务的受访者占比为36.8%,网购图书音像的受访者占比为17.8%,则网购了缴费充值服务的人数为网购图书音像人数的2.1倍
- 85.【解析】D。由图可知2013年网购日用化妆品的受访者占比为39.7%,而受访者共3000人,故网购日用化妆品的受访者人数为 $3000 \times 39.7\% = 1191$ (人),A项正确。
- 由资料,个人月收入为10000元以上和5000~10000元的受访者人均网购次数分别是31.0次和26.0次可知,B项正确。
- 由图可知,2013年网购家用电器、图书音像的受访者占比分别为28.0%和17.8%,二者相差 $28.0\% - 17.8\% = 10.2\%$ ,C项正确。
- D项,资料中分别给出了大学本科及以上学历和大专学历受访者的人均网购次数,并不能简单由二者的平均数得出大专及以上学历受访者的人均网购次数,D项错误。
- 86.【解析】D。由文字资料最后一句话可知,2014年城镇居民人均消费支出增长比农村居民人均消费支出增长低 $12.0\% - 8.0\% = 4.0\%$ ,D项当选。
- 87.【解析】B。
- 88.【解析】A。
- 89.【解析】B。
- 90.【解析】C。
- 91.【解析】B。2014年1~9月来自欧洲的入境外国人数占外国人总数的比重为 $408 \div 1922 \approx 400 \div 2000 = 0.2$ 。B项最为接近。
- 92.【解析】A。浏览表中各列,可以锁定各列求和较大的为观光休闲和其他,仔细比较可知最多的是观光休闲,A项当选。
- 93.【解析】C。以会议(商务)为目的的入境外国人数为 $219 + 41 + 109 + 10 + 15 = 394$ (万人)。本题可采用尾数法。
- 94.【解析】C。根据大洋洲以不同目的入境的人数,从大到小取前三,C项当选。





95.【解析】D。来自亚洲以会议（商务）为目的入境人数为 219 万人，大于其他各洲以会议（商务）为目的入境总人数，A 项错误。

来自表中各洲探亲访友的人数并非所有行都最小，美洲和大洋洲不符合，B 项错误。来自美洲服务员工的人数为 14 万人，大于会议（商务）人数的三分之一，C 项错误。表中非洲入境总人数最小，目的为会议（商务）的比重最大，接近 35%。因此 D 项当选。

96.【解析】B。根据文字资料第一段第一句可知，对居民社区宠物狗的叫声反感的市民占受访市民的比重为  $8.6\% + 2.9\% = 11.5\%$ ，B 项正确。

97.【解析】B。支持广场舞等活动的人数为  $1000 \times (1 - 12.8\% - 12.0\%) = 752$ （人），B 项正确。

98.【解析】C。题干中，由于受访市民可以进行多项选择，即选择，中老年人的正常锻炼娱乐活动 和，有利于中老年人扩大社交、排解孤独 的青年市民人数存在重合，则同时选择二者的比重至少为  $66\% + 64.7\% - 100\% = 30.7\%$ ，C 项正确。

99.【解析】A。根据柱状图中柱状的高低可以判断出市民反对广场舞等活动的主要原因是，噪音影响周围市民的生活和休息，A 项正确。

100.【解析】D。A 项，在支持的市民中，有 16.3% 的中年受访者认为广场舞等活动可以通过规范管理克服，并不是此次调查中的中年受访者的 16.3%，该项错误。B. C 两项在资料中均没有提及，均排除。D 项，在反对广场舞等活动的非中心城区受访者中，选择，音乐没有愉悦感，难以忍受 的比例为 21.7%，高于中心城区（20.8%）和新区（11.1%），该项正确，当选。