



## 2016 年江苏省考行测真题 C

### 第一部分 常识判断

(共 20 题, 参考时限 15 分钟)

根据题目要求, 在四个选项中选出一个最恰当的答案。

- 党的十八届五中全会通过了《中共中央关于国民经济与社会发展第十三个五年规划的建议》, 下列关于该建议的, 正确的是 ( )
  - 《十三五规划的建议》是针对两个一百年奋斗目标收官阶段提出的战略蓝图
  - 《十三五规划的建议》充分论述继续坚持我国改革开放以来发展方式的必要性
  - 《十三五规划的建议》针对社会主要矛盾的新变化提出了经济发展的新方针
  - 《十三五规划的建议》提出并阐释了我国经济社会发展的“五大发展理念”
- 2016 年一号文件聚焦加快农业现代化, 对此, 下列理解正确的是 ( )
  - 一号文件将促进农业的规模经营, 提升农业在产业结构中的比重
  - 一号文件将激发农业的科技创新, 以服务业带动农业现代化发展
  - 一号文件将推动农村的产业融合, 促进农民收入的持续较快增长
  - 一号文件将带动农村基础设施建设, 依靠社会资本加快新农村建设
- 习近平总书记在中央政治局第二十次集体学习时强调, 要增强问题意识, 坚持问题导向。这体现的哲学原理是 ( )
  - 矛盾具有普遍性和客观性, 矛盾是事物发展的源泉和动力
  - 联系具有普遍性和多样性, 任何事物都处在普遍联系之中
  - 真理具有绝对性和相对性, 绝对真理包含在相对真理之中
  - 认识具有反复性和无限性, 认识是一个辩证运动的过程
- 鲁迅先生曾说, 贾府里的焦大是不会爱上林妹妹的, 这句话蕴含的哲学意义是 ( )
  - 社会存在决定社会意识
  - 经济基础决定上层建筑
  - 社会意识具有主观能动性
  - 社会意识对社会存在具有反作用
- 对应不正确的是 ( )
  - 总把新桃换旧符—清明节
  - 遍插茱萸少一人—重阳节
  - 蓦然回首, 那人却在灯火阑珊处—元宵节
  - 两情若是久长时, 又岂在朝朝暮暮—七夕节
- 为了适应全球科技创新发展的趋势, 我国制定了《中国制造 2025》的行动纲领, 下列对《中国制造 2025》理解错误的是 ( )
  - 全球制造业格局面临重大调整是制定《中国制造 2025》的重要背景
  - 《中国制造 2025》的覆盖范围包括国民经济门类中的所有产业
  - 制定《中国制造 2025》是为了通过“三步走”实现制造强国的战略目标
  - 《中国制造 2025》与美国工业物联网, 德国的工业 4.0 都强调生产效率
- 在需求和供给自由作用的市场条件下, 能够有效缓解天然气供给短缺的方法是 ( )
  - 提高天然气的市场销售价格
  - 劝告人们尽可能的节约用气
  - 限制居民家庭每月用气量
  - 在特定的时段实施天然气供给
- 供给侧结构改革强调从供给, 生产端入手, 不断解放生产力, 提高效率, 促进经济发展。下列属于供给侧结构性改革举措的是 ( )
  - 物价部门开展市场价格检查
  - 商业银行上浮企业贷款几率
  - 发改委取消部分行政审批事项
  - 工商部门限制明星代言广告
- 中国民兵在抗日战争中取得的一系列重大胜利, 下列不属于抗日战争中取得的成就是 ( )
  - 平型关大捷
  - 昆仑关大捷
  - 镇南关大捷
  - 台儿庄大捷
- 2016 年我国各地按照“双百方针”积极整理民族传统文化, 通过收集, 整理, 编演拯救了一批剧种, 其中被周恩来总理评价为“一出戏救活了一个剧种”的是 ( )
  - 昆曲《十五贯》
  - 黄梅戏《天仙配》
  - 豫剧《穆桂英挂帅》
  - 越剧《杨毅传书》
- 高铁列车的车窗和车门在运行过程中必须完全密闭。对此, 下列解释最准确的是 ( )



- A. 减少高铁列车运行的能源消耗      B. 保持高铁列车车厢内部的安静  
C. 避免车速过快形成空气压强差      D. 确保高铁列车车厢内部的整洁
12. 下列对日常现象解释正确的是（ ）  
A. 自行车在夏天暴晒后容易爆胎，是因为橡胶放在高温下变软了  
B. 夏天从冰箱里取出的冷饮瓶表面上有小水滴，是因为冰箱湿度大于室内  
C. 赤脚站在瓷砖上比站在棉被上凉爽，是因为瓷砖温度比棉被的温度低  
D. 热水瓶的内胆镀水银是为了减少热辐射
13. 国际性河流是指流经两个以上国家和地区的河流，往往成为国际贸易，区域合作的重要通道，下列发源或流经我国的国际性河流中，流经国家最多的是（ ）  
A. 黑龙江      B. 澜沧江      C. 图们江      D. 雅鲁藏布江
14. 下列关于我国少数民族的名称，特色饮食与代表性文化对应错误的是（ ）  
A. 傣族—镶—孔雀舞      B. 蒙古族—手抓羊肉—蒙古长调  
C. 朝鲜族—泡菜—《阿里郎》民谣      D. 藏族—酥油茶—《格萨尔王》长诗
15. 下列对于司法术语说明错误的是（ ）  
A. 案结事了——司法解决的根本性      B. 有告必理——司法解决的普遍性  
C. 不告不理——司法活动的被动性      D. 一事不再理——司法程序的终结性
16. 某村是所在乡的人口第一大村，村民委员会经民主选举成立后通过了一系列事项，下列事项符合法律规定的是（ ）  
A. 村委会采取主任负责制      B. 村里财务每两年公布一次  
C. 村委会设置多个下属委员会      D. 村委会向村党支部负责并报告工作
17. 某村是贫困村，县扶贫工作队调研后认为该村有种植天麻的先天优势，遂决定将推动天麻种植作为扶贫工作的重要内容。县扶贫工作队采取的下列措施中不正确的是（ ）  
A. 加强宣传引导，调动村民种植天麻的积极性  
B. 确定种植任务，规定每户村民的种植面积  
C. 统筹扶贫资金，做好良种引进和技术服务  
D. 吸引社会资本，推进天麻产品的深度加工
18. 张某家的梧桐树枝生长到李某家的院中，落下的树叶和树絮给李某带来一定的烦恼。双方为此发生争执，本案涉及的法律关系是（ ）  
A. 人身关系      B. 债权债务关系  
C. 相邻关系      D. 宅基地使用权关系
19. 下列有关“三更半夜”中“三更”的说法，正确的是（ ）  
A. 每更约等于现在的一个小时      B. 古人将夜晚划分为12更  
C. “三更”大致是指晚上九时      D. “三更”也可以叫作“三鼓”
20. 胡某承包的鱼塘被洪水冲垮，饲养的鱼游入杨某的蟹塘。胡某要求杨某返还游入蟹塘中的鱼，杨某认为鱼是自己游入的，没有义务返还。双方为此发生纠纷。经村干部调解，杨某同意补偿胡某3000元。后杨某反悔，胡某诉至法院。下列关于本案的说法，正确的是（ ）  
A. 杨某蟹塘里游入胡某饲养的鱼，属于善意取得  
B. 胡某诉杨某的理由可以是杨某获得了不当利益  
C. 杨某对村干部的调解反悔，违反法律的规定  
D. 双方在本案中均无过错，法院应依公平原则来处理

## 第二部分 言语理解与表达

（共35题，参考时限30分钟）

一、片段阅读。每道题包含一段文字，要求你从四个选项选出最恰当的一项，你的选择必须与题干要求相符合。

21. 联产承包责任制释放了农村的经济生产活力，从其产业结构而言，联产承包责任制所释放的并不是自产自销，而是被纳入了现代产业体系，农村经济成为现代产业重要的一环，专营化、职业化、金融化成为其重要特征，“农民”于农村劳动力而言更多是一种产业身份而非社会身份，村落社会的农民集体逐渐变成了“非农”。

这段文字重要强调的是（ ）

- A. 联产承包责任制改变了农村劳动力的特征  
B. 联产承包责任制使农业步入了现代产业体系



- C. 联产承包责任制调整了农村生产关系
- D. 联产承包责任制创新了农业劳动方式

22. 一张照片的场景是这样的，夜幕降临，各种灯光开始勾勒出城市的轮廓，高低错落的楼宇林立，道路上车流的灯光划出流光溢彩的轨迹，如果时空真的能够穿越，让古人穿越到这里，他们一定不会对眼前的景色陌生。因为古人喜欢讲楼阁依山依河而建，喜欢登楼观水。这道路不就是高楼峡谷中蜿蜒流淌的河流。

根据文意这张照片拍摄的角度是（ ）

- A. 仰视
- B. 俯视
- C. 平视
- D. 侧视

23. ①回顾人类法律发展史，我们也能看到法律发展过程在很大程度上是法官不断补充完善法律规则，填补法律漏洞的过程  
②即使法律再完备也不能包罗万象，总是会给法官留下大量的解释空间  
③法律只有借助法官的解释才能实现对社会生活的有效规范  
④法典由法律语言构成，法律语言描述功能和信息载体功能十分有限，无法涵盖与描述全部的社会生活  
⑤有的立法者希望通过立法本身的高度完善去消除法律解释活动的必要性，但事实证明是徒劳的

- A. ②①⑤④③
- B. ①⑤④③②
- C. ①④⑤③②
- D. ②①③④⑤

24. 目前出现一些智能快递后，代表着未来中国快递业的发展方向——智能快递，即通过引入信息化，大数据等现代化手段，融合预测等方式，以更便捷的智能设施（如智能快递柜）和手段来满足高密度、高成本、高人力的现代快递工作，通过建设社区的“智能快递站”为消费者服务。

以下与文意不符的是（ ）

- A. 走智能快递之路，符合未来中国快递业的发展方向
- B. 建设社区的“智能快递站”能更便捷的为消费者服务
- C. 智能快递能有效满足“三高”状态的现代快递工作
- D. 智能快递柜的出现预示着快递服务费用更加低廉

25. 电影是否适合 3D 制作，主要取决于影片的内容，如果动作的变化较多，视觉要求高。拍成 3D 片很好，比如阿凡达等，比较适合 3D 特效，但一些室内电影，包括很多文艺片，一些动画片，就没有必要采用 3D 版本，而且如果勉强使用 3D 特效，反而会给观众带来不好的观影感受。

作者通过这段文字在说明（ ）

- A. 3D 影片制作成了吸金噱头
- B. 3D 影片制作可能弊大于利
- C. 3D 影片制作其实可有可无
- D. 3D 影片制作应当因片而异

26. 膳食指南本身不是科学研究，它是政府组织专家，对过去几年中公开发表的涉及饮食与健康的科学文献进行的汇总与梳理，不同的文献研究的对象、方式和考察的健康指标不同，就可能得出不同的结论，指南的制定是把这些不同的研究进行统一的考察，然后根据证据的强弱做出“推荐”，这些推荐只是根据目前的证据所能作出的合理判断，而不是对该问题的盖棺定论。

下列说法不符的是（ ）

- A. 膳食指南受到当下研究成果的制约
- B. 膳食指南根据科学研究的发展往往会产生变动
- C. 膳食指南所做的推荐其实不具有参考价值
- D. 不同的研究者有时对同一问题得出不同的结论

27. 提升公民科学素质是加快经济方式转变的迫切要求，一个国家的核心竞争力和强大后劲取决于包括科学素质在内的国民素质的不断提升，实施创新驱动发展战略，把经济增长方式转移为推动科技进步和提高劳动者素质上来，需要有数以亿计的高素质劳动者和数以万计的精工巧夺，没有公民科学素质的普遍提高，就难以建立起庞大的高素质劳动大军，难以将科学成果快速转化为现实的经济实力。

这段文字中主要讨论的是（ ）

- A. 公民科学素质同样是核心竞争力
- B. 时代呼唤高素质的劳动大军
- C. 经济发展方式转变是当务之急
- D. 推动科技成果转化经济实力

28. 从特定意义上说，决策的过程就是抢抓机遇，将可能性变为现实的过程。机遇从来都是公正的，机遇一旦到来，就看谁能审时度势，及早地发现它，抓住它；能否抓住它，又关键看谁具有立断立行的智慧和勇气，凡是决策，没有不存在风险的，若想等到有百分之百的把握再拍板，恐怕时机早已逝去了。

这段文字主要说明（ ）



- A. 应该掌握时机果断决策以免错失机遇
- B. 决策者的智慧和勇气是决策成败的关键
- C. 有了充分的把握再决策已丧失最好的时机
- D. 决策者主要考虑如何将可能性变为现实

29. 不是所有的花都适合于肥沃的土壤，沙漠就是仙人掌的乐园。人生的许多成败，不在于环境的优劣，而在于你是否选对自己的位置。

这段话的主要含义是（ ）

- A. 仙人掌最适合在沙漠地区生长
- B. 每种花都有适合它生长的环境
- C. 虽身处优越的环境但未必就能成功
- D. 找准自己位置与获得成功密切相关

30. 在传统单位制社区中，社区居民彼此熟悉，整个社区类似于社会学家所言的“熟人社区”。但伴随改革开放尤其是工业化、城市化的快速推进，社区尤其是商品房社区成为人们日常生活的重要社会空间，其业主多是因产权而成为邻居。与过去的单位制熟人社区相比，陌生人社区在成员构成、空间结构以及社会秩序维系机制等方面呈现出诸多不同。

这段文字接下来最可能讨论的问题是（ ）

- A. 传统单位制社区的新发展
- B. 陌生人社区的建设治理
- C. 商品房社区的社会空间拓展
- D. 熟人社区的改造与优化

31. 除了品种，温度和光照也会影响到茶氨酸的分解。在关于茶的各种诗文中，优质的茶总是生长在深山幽谷。除了水源土壤的清洁，更重要的原因在于深山幽谷中光照不足，而在春天茶叶发育期间温度较低，所以茶氨酸的分解以及儿茶素的合成受到抑制。这样制得的春茶茶氨酸含量高而茶多酚含量低，也就更好喝。

根据文意，下列说法不正确的一项是（ ）

- A. 受到较多光照的茶叶会使茶氨酸含量降低
- B. 一般产自深山幽谷的茶叶比平地上的好喝
- C. 抑制茶氨酸的分解后制成的茶叶味道不佳
- D. 秋茶一般不如春茶好喝与茶树光照多有关

32. 俄国著名剧作家果戈理说：“当诗歌和传说都缄默的时候，只有建筑在说话。”建筑是凝固的历史、时代的缩影，一座没有老建筑的城市相当于没有灵魂。如果不对历史文化建筑好好保护，本能“说话”的历史文化建筑也会湮没在历史的尘埃里。只有保护和利用好这些老建筑，才能留住城市的历史和文化。否则，\_\_\_\_\_。

填入画横线部分最恰当的一项是（ ）

- A. 一切都无所作为
- B. 一切都无从谈起
- C. 一切都无计可施
- D. 一切都无声无息

33. 通俗地说，暗物质就是宇宙中看不见的物质。有迹象表明，宇宙中还存在大量人们看不见的物质，它们不发出可见光或其他电磁波，用天文望远镜观测不到。但它们能产生万有引力，会对可见的物质产生作用。暗物质中的“暗”，不仅在于其“没有正常物质的光谱”，还在于“人类对其的未知”。

这段文字未涉及的是（ ）

- A. 暗物质如何被发现
- B. 暗物质的基本特点
- C. 关于暗物质目前所知甚少
- D. 暗物质大量存在于宇宙之中

34. 网络用语从一开始就不是交际语言，文字和语言的性质是不一样的，语言本质上是用声音符号做物质外壳的，文字则是用来记录有声语言的。世界上大多数语言并没有文字，这些语言也就不会有网络用语。文字有记录、保存语言的功能，并能远距离传送，网络主要利用文字来实现即时的远距离交流。文字有这样的优点，但是它不能取代语言。

根据文意，网络用语之所以不是交际用语是由于（ ）

- A. 网络用语本质上是用文字符号记载的语言
- B. 网络语言主要用来实现即时的远距离交流
- C. 文字虽能远距离传送但不能取代交际语言
- D. 网络即使再发达也不可能不用交际语言

35. 蓝藻本身没有多少危害，就怕蓝藻上浮形成水华。蓝藻形成水华时，一方面将严重抑制浮游植物利用光合作用产生氧气，另一方面也阻隔空气中的氧进入水体，导致水体中溶解氧严重不足，造成生态失衡。长期以来人们对水资源的不合理开发与利用，





导致大量含有氮、磷营养元素的污染物质不断排入海洋、江河、湖泊和水库等水体，造成严重的水体富营养化状态，为蓝藻的爆发提供了得天独厚的条件。

这段话意在强调（ ）

- A. 谨防蓝藻上浮形成水华阻隔氧气进入水体
- B. 蓝藻爆发会影响生态平衡以及水资源开发
- C. 治理水体污染是控制蓝藻爆发的根本措施
- D. 适当引种蓝藻吸收氮磷元素以优化水环境

**二、文章阅读。阅读下面文章，回答问题。本题共有五道题，每道题提供四个选项，要求你从中选出最恰当的一项，你的选择必须与题干要求相符合。**

①研究农村，首要的问题是理解农村社会和农民阶层的生活状态和行为特征。在这方面，农村经济研究者必须\_\_\_\_\_和参考社会学和文化人类学的研究方法以及研究成果。

②比如，在研究中国农村金融的时候，如果不能深切了解中国农民和农村的社会生活及其结构特征，就很难了解为什么农民会选择这种金融组织形式和融资方式，而拒斥另一种金融组织形式和融资方式，就很难理解为什么有些金融机构在农村领域获得了极大的成功，而有些金融机构却负债累累乃至至于倒闭。

③社会研究，包括农村研究的基本方式有调查研究、实验研究、实地研究和文献研究等。

④调查研究的基本要素包括抽样、问卷、统计分析、相关关系等。实验研究的构成要素包括实验组、控制组、实验刺激、因果关系等。实地研究包括参与观察、研究者的角色、投入理解、扎根理论等。而文献研究则包括内容分析、现有统计分析等。

⑤这四种方法反映了不同的方法论倾向：以实验研究、调查研究和文献研究为代表的定量研究方式，比较集中地体现了实证主义方法论的倾向；而以实地研究为代表的定性研究方法，则集中体现了人文主义方法论的倾向。

⑥不同研究方式也分别被用于不同的研究目的：调查研究最常被用于描述一个大的总体的状况，以及探讨不同变量之间的相关关系；实验研究则主要被用于探索和证明两个变量之间的因果关系；实地研究则更多是在深入理解社会现实，以及在提炼和建构理论方面发挥作用；而文献研究常被用于帮助研究者去探讨那些任何其他方式在时间和空间上无法达到的社会现象和问题。

⑦可以说，不同的方法有不同的用途，应该综合运用各种方法，而不要局限于某一种方法。

⑧应该指出的是，社会研究的方法体系是一个有机的整体，方法论是居于统帅地位的指导社会科学研究的一般思想方法和哲学基础。

⑨具有实证主义方法论的社会研究者，通常采用调查研究、实验研究以及定量的文献研究的方式，以凸现研究的规范性、精确性和客观性。从建立研究假设、数据资料收集、定量分析方法的运用，直到依据结果的解释和假设的检验，其中每一个步骤都尽可能严格按照自然科学研究的方式进行。而具有人文主义方法论的学者，则更经常地采用实地研究的方式，以及定性的研究方式，以凸现研究过程的特殊性、深入性和主观性，在研究思路更多地依赖研究者的主观体悟，方法上更多地依赖研究者的参与和对情景的分析。

36. 填入文中划横线处最恰当的一项是（ ）

- A. 探寻
- B. 凭借
- C. 追随
- D. 借助

37. 关于“有些金融机构在农村领域获得了极大的成功”的原因，与文意不符的一项是（ ）

- A. 采用了适合当地农村的金融组织形式
- B. 全面满足了农民急需的农业生产融资
- C. 理解当地农村社会的结构方式
- D. 懂得农民的日常生活社会生活方式

38. 作者认为“实地研究”与其他几种研究方法的主要不同点在于（ ）

- A. 更多体现了人文主义的研究倾向
- B. 通过研究成果建立新的理论架构
- C. 研究过程强调研究者的亲身参与
- D. 更多更深入地理解当前社会现实

39. 根据文意，下列对“实证主义”研究方法概括不准确的是（ ）

- A. 强调研究的规范性、精确性和客观性
- B. 尽可能按照自然科学研究的方式进行
- C. 关注整个研究过程的特殊性及深入性
- D. 通常采用调查研究、实验研究的方法

40. 如果把这篇文章分为三个层次，最恰当的一项是（ ）

- A. ①②③/④⑤⑥⑦/⑧⑨
- B. ①②/③④⑤⑥⑦/⑧⑨
- C. ①②/③④⑤⑥/⑦⑧⑨
- D. ①②③/④⑤⑥/⑦⑧⑨

**三、选词填空。从题后所给的四个选项中选出最符合文意的一项。**



41. 盯着名利干事，难免\_\_\_\_\_，欲速则不达；盯着责任干事，“不闻掌声”而\_\_\_\_\_，才能最终赢得掌声。

依次填入画横线处最恰当的一项是（ ）

- A. 急功近利 心无旁骛
- B. 急公好义 心怀大局
- C. 患得患失 心胸开阔
- D. 斤斤计较 心无二用

42. 今日数以亿计的进城务工农民的交往社会化已成一个重要事实。与这一事实相\_\_\_\_\_的是，中国农业生产正经历了一次深刻的变革，快速推进的城镇化大大降低了农业人口比重，人们的食物消费结构和农业生产结构的转型正在\_\_\_\_\_新型农业的产生。

依次填入画横线处最恰当的一项是（ ）

- A. 符合 激励
- B. 验证 敦促
- C. 印证 鼓励
- D. 契合 促使

43. 在成文法背景下，法官没有主动创造法律的\_\_\_\_\_，但在出现法律模糊、空白等情形时，法官只能通过解释法律来发展和\_\_\_\_\_立法。

依次填入画横线处最恰当的一项是（ ）

- A. 责权 补充
- B. 权利 完成
- C. 权力 完善
- D. 授权 促成

44. 经典的魅力是多方面的，而其中有一点就在于，\_\_\_\_\_故事淡忘了，仍会有些东西留在你心间。这种留在心间的东西，就是\_\_\_\_\_的影响，就是熏陶。

依次填入画横线处最恰当的一项是（ ）

- A. 即使 潜移默化
- B. 假使 悄无声息
- C. 即便 耳濡目染
- D. 假如 润物无声

45. 建设 21 世纪海上丝绸之路，是为了\_\_\_\_\_古代海上丝绸之路特有的价值和理念，为其注入新的时代内涵，积极主动地发展与沿线国家的经济伙伴关系，对当前正在进行的各种各样的合作进行整合，使它们相互连接、相互促进，产生整体大于部分之和的\_\_\_\_\_。

依次填入画横线处最恰当的一项是（ ）

- A. 挖掘 效率
- B. 显现 结果
- C. 发掘 效应
- D. 发现 成果

46. 教育机会平等权问题，源自城市化。加强对我国教育机会平等权的保护，\_\_\_\_\_已不在上不上起学的问题，而在于如何配置相对缺乏的教育资源，使其更加\_\_\_\_\_，从而克服城市化带来的弊病。

依次填入画横线处最恰当的一项是（ ）

- A. 重点 平均化
- B. 重心 平等化
- C. 本质 均衡化
- D. 关键 均等化

47. 大自然慷慨的\_\_\_\_\_，使人类得以繁衍生息，创造文明。人类理应顺应自然，但人类的历史，反倒常常是\_\_\_\_\_与辜负大自然美好情意的历史。

依次填入画横线处最恰当的一项是（ ）

- A. 赐予 轻慢
- B. 分享 挥霍
- C. 奉献 嘲弄
- D. 供给 忽略

48. 信息社会的显著\_\_\_\_\_是社会从有形的物质创造价值转向无形的信息创造价值，整个社会对于信息资源的依赖性加强，处于社会信息化进程中的个人也\_\_\_\_\_。

依次填入画横线处最恰当的一项是（ ）

- A. 特点 亦步亦趋
- B. 特征 无处遁形
- C. 标准 无一例外
- D. 标志 概莫能外

49. 金融实证研究基本上无法通过特定的实验来进行，这就决定了在研究方法上主要依靠现实数据收集和计量分析\_\_\_\_\_。因此，数据采集及其分析对于金融学研究的重要性\_\_\_\_\_。

依次填入画横线处最恰当的一项是（ ）

- A. 方式 毫无疑问
- B. 方法 不证自明
- C. 手段 不言而喻
- D. 做法 人所共知

50. 每个时代都有自己的流行语，网络热词则是互联网时代最普遍的副产品。与以往不同，网络热词的更替速度令人\_\_\_\_\_，“来得快，去得更快”成为网络热词的集体\_\_\_\_\_。

依次填入画横线处最恰当的一项是（ ）



- A. 目不暇接 宿愿                      B. 眼花缭乱 宿命  
C. 顾此失彼 结局                      D. 不堪重负 命运

51. 书法是中国艺术体系中最重要艺术形式之一。它以汉字为\_\_\_\_\_，通过具有特殊笔墨情韵的汉字形象的\_\_\_\_\_，表现艺术家的思想情感。

依次填入画横线处最恰当的一项是 ( )

- A. 代表 创新                              B. 载体 创造  
C. 材料 表现                              D. 工具 再现

52. 由于知识产权的保护客体主要是智力劳动成果，所以知识产权是在保护金融创新方面具有\_\_\_\_\_的优越性，对金融创新产品的知识产权保护主要包括商标权、著作权、专利权以及商业秘密保护等方式的综合\_\_\_\_\_。

依次填入画横线处最恰当的一项是 ( )

- A. 天生 采用                              B. 天然 应用  
C. 无比 运用                              D. 无穷 利用

53. 苟日新，日日新，又日新中华传统文化本身是亘古常新的，这是其\_\_\_\_\_五千年而不曾断裂的秘诀所在，在新的背景时代下，要\_\_\_\_\_传统文化，就要让传统文化更深的进入我们的生活，\_\_\_\_\_为生活的一部分，这就是最好的传承之道

依次填入画横线处最恰当的一项是 ( )

- A. 延续 宣扬 转化                      B. 传承 传播 类化  
C. 历经 继承 深化                      D. 绵延 弘扬 内化

54. 今年的竞赛单元依旧气氛激烈，\_\_\_\_\_，这几年的纪录片有一个明显的变化，就是镜头越来越深入人物内心，\_\_\_\_\_被拍摄对象的生活情绪，传达他们的孤独、挣扎和纠结，甚至达到了剧情片的效果，就探索这个时代人们的内心语言，这些纪录片取得的成就，是电影院里放映的商业电影所\_\_\_\_\_的。

依次填入画横线处最恰当的一项是 ( )

- A. 如火如荼 描写 自叹不如              B. 强手如林 追踪 望尘莫及  
C. 短兵相接 揭露 望而却步              D. 刀光剑影 刻画 无法比拟

55. 劳动不仅\_\_\_\_\_着我们的生活，而且\_\_\_\_\_着我们的灵魂；不仅创造着财富，而且\_\_\_\_\_着人类的文明。

依次填入画横线处最恰当的一项是 ( )

- A. 滋养 铸造 积淀                      B. 滋润 锻造 积攒  
C. 滋养 锻造 积攒                      D. 滋润 铸造 积淀

### 第三部分 数量关系

(共 10 题，参考时限 10 分钟)

一、数字推理。给出一个数列，缺少其中一项，要求你仔细观察数列的排列规律，从四个选项中，选择最合适的一项，使之符合原数列的排列规律。

56. 3, 9, 17, 27, 39, ( )  
A. 48              B. 53              C. 56              D. 59
57. 137, 140, 149, 176, 257, ( )  
A. 300              B. 350              C. 400              D. 500
58.  $1/3, 2/3, 2, 10, 70, ( )$   
A. 770              B. 723              C. 760              D. 1400
59. -12, -7, 2, 19, 52, ( )  
A. 62              B. 77              C. 97              D. 117
60.  $\sqrt{42}, 3\sqrt{5}, 4\sqrt{3}, 3\sqrt{6}, 6\sqrt{2}, ( )$   
A. 12              B.  $2\sqrt{35}$               C.  $2\sqrt{37}$               D. 144

二、数学运算。通过运算，选择最合适的一项。

61. 已知 A、B 两地相距 600 千米。甲、乙两车同时从 A、B 两地相向而行，3 小时相遇。若甲的速度是乙的 1.5 倍，则甲的速度是 ( )

- A. 80 千米/小时    B. 90 千米/小时    C. 100 千米/小时    D. 120 千米/小时

62. 某班有 38 名学生，一次数学测验共有两道题，答对第一题的有 26 人，答对第二题的有 24 人，两题都答对的有 17 人，则两题都答错的人数是 ( )

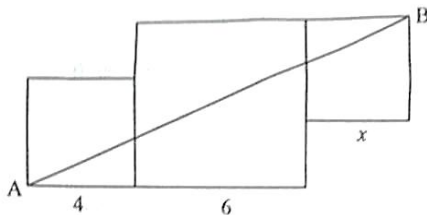
- A. 3              B. 5              C. 6              D. 7



63. 小王以每股 10 元的相同价格买入 A 和 B 两只股票共 1000 股。此后 A 股先跌 5% 再涨 5%，B 股票先涨 5% 再跌 5%。若在此期间小王没有再买卖过这两只股票，则现在这 1000 股股票的市值是（ ）

- A. 10250      B. 9975      C. 10000      D. 9750

64. 下图是由三个边长分别为 4、6、 $x$  的正方形所组成的图形，直线 AB 将它分成面积相等的两部分，则  $x$  的值是（ ）



- A. 3 或 5      B. 2 或 4      C. 1 或 3      D. 1 或 6

65. 某项工程由工作效率相同的甲、乙两工程队承担。若甲、乙两队合做，工期可提前 5 天；若两队先合做 6 天，余下的由甲队独做，恰好也能按工期完成，则该工程的工期是（ ）

- A. 14 天      B. 15 天      C. 16 天      D. 18 天

#### 第四部分 判断推理

（共 45 题，参考时限 45 分钟）

##### 一、类比推理。

（一）先给出一组有某种关系的词或词组，请你从四个选项中选出正确的一项，其关系与题干给出的词或词组的关系最为相似。

66. 播种：庄稼

- A. 烹饪：美食      B. 填写：表格  
C. 品尝：绿茶      D. 复印：文章

67. 欧元：美元

- A. 公斤：公里      B. 小说：散文  
C. 公里：小时      D. 阴性：阳性

68. 消除：障碍

- A. 交流：合作      B. 解决：问题  
C. 制度：创新      D. 改革：开放

69. 纪念：忘却

- A. 创业：就业      B. 传播：引导  
C. 挖掘：埋没      D. 救援：灾难

70. 火车：轨道：行驶

- A. 电脑：键盘：上网      B. 相机：镜头：拍照  
C. 飞机：机场：飞行      D. 油轮：江海：航行

71. 青奥会：亚运会：运动员

- A. 展销会：拍卖会：文物      B. 校友会：同乡会：同学  
C. 座谈会：听证会：专家      D. 教代会：职代会：代表

（二）请从四个选项中选出正确的一项，使得该项的两个词或词组依次代入题干的括号中，能够最大限度地满足题干所表达的类比关系。

72. 喜乐 之于（ ） 相当于（ ） 之于 美德

- A. 快乐 伦理      B. 情绪 诚信  
C. 后悔 丑恶      D. 健康 心理

73. 左右 之于（ ） 相当于（ ） 之于 早晚

- A. 高低——内外      B. 多少——迟早  
C. 长短——大小      D. 上下——快慢

（三）请从四个选项中选出正确的一项，其特征或规律与题干给出的一串符号的特征或规律最为相似。

74. @ \$ @ && @ \$

- A. \$ @ \$ && \$ @      B. & \$ & @ @ & @  
C. @ && \$ \$ @ @      D. @ \$ @ @ && \$





75. 嘀嗒嘀嗒微微滴嗒

A. 嗒微微嗒嗒嗒嗒

B. 嗒嗒嗒嗒微微嗒嗒


C. 嗒嗒嗒微微嗒嗒嗒

D. 滴微微嗒嗒嗒嗒

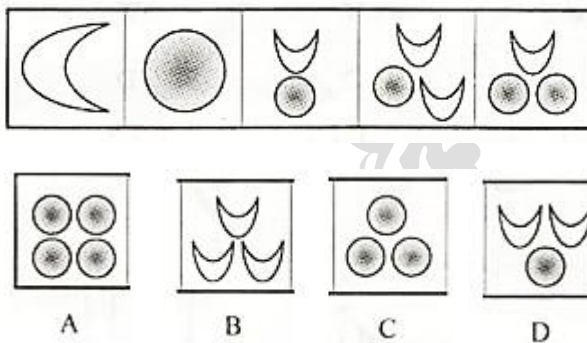
二、图形推理。本部分共 10 题，包括三种类型的题目。

(一) 每道题在左边的题干中给出一套图形，其中包括五个图，这五个图呈现一定的规律性。在右边给出一套图形，其中有四个图，从中选出唯一的一项作为保持左边五个图规律性的第六个图。

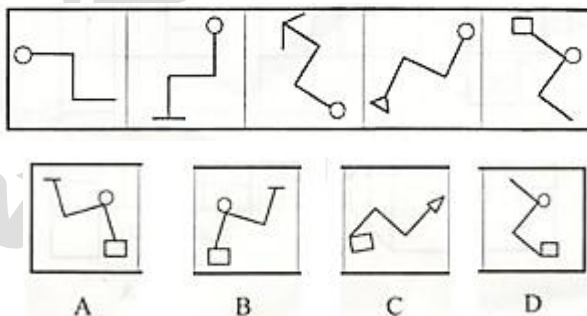
76.



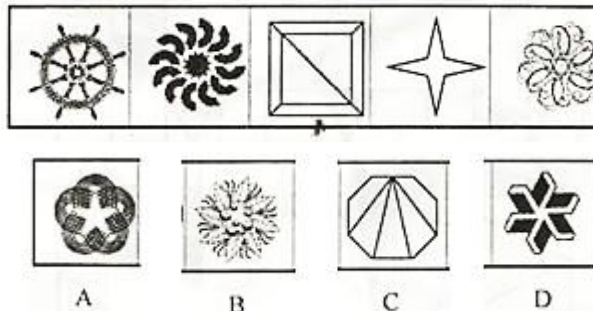
77.



78.

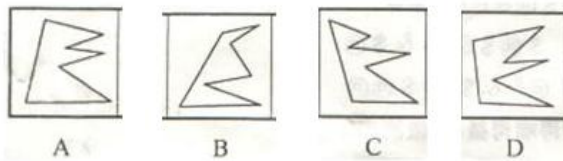
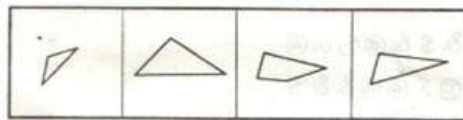


79.

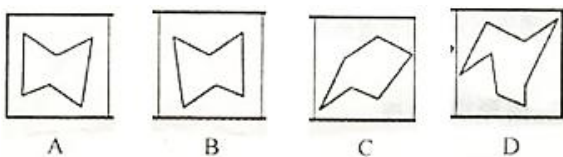
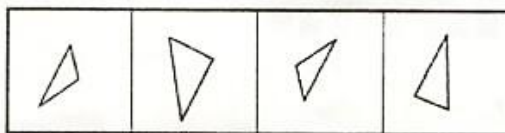


(二) 右边四个图形中，只有一个是左边四个图形拼合 (只能通过上、下、左、右平移) 而成的，请把它找出来。

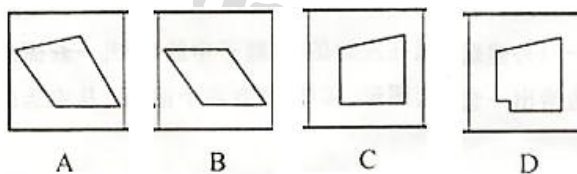
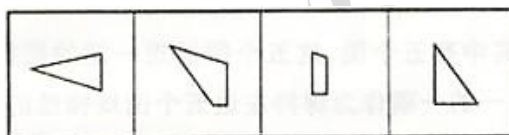
80.



81.

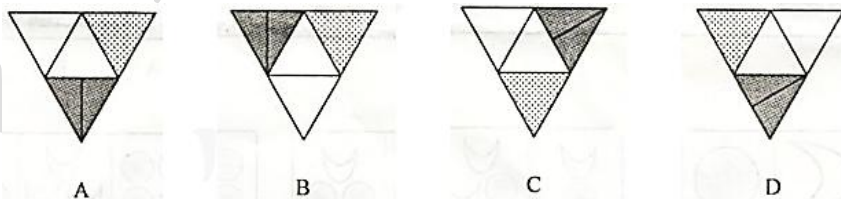


82.

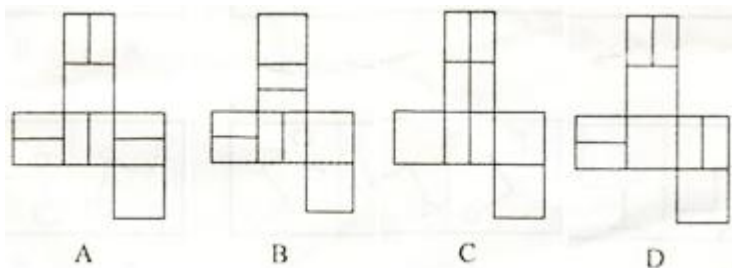
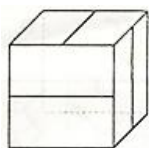


(三) 右边哪一项能由左边的立体图形展开而成? 请把它找出来。

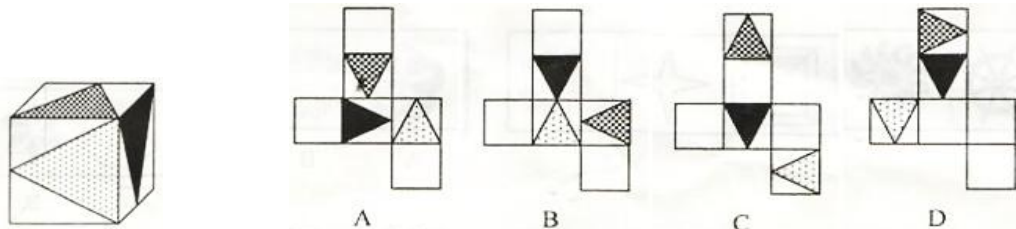
83.



84.



85.



三、逻辑判断。每道题给出一段陈述，这段陈述假设是正确的、不容置疑的。请你根据这段陈述，选择一个答案。注意：正确的答案不需要任何附加说明即可以根据陈述必然推出。

86. 小王不是摄影师，但小王所认识的人都是摄影师，而摄影师都喜欢旅行，因为只有在旅行中才能遇到最美的风景，小王的朋友小张通过旅行与小王一起认识了小李。

根据以上陈述，可以得出以下哪项（ ）

- A. 小王喜欢旅行
- B. 小李喜欢旅行
- C. 小王不喜欢旅行
- D. 小李不喜欢旅行

87. 研究人员为了验证一种长寿新药的效果，用两组小白兔进行了试验。他们对无差别的两组小白兔注射了新药，然后将其中一组关在笼子中饲养，另一组放在自然环境中饲养。结果发现，自然环境中饲养的小白兔的平均寿命比笼子中饲养的小白兔延长了1/10。研究人员由此认为，轻松的环境有利于发挥新药的功能。

以下哪项最有可能是研究人员得出结论的假设（ ）

- A. 关在笼子中的小白兔生活得不愉快
- B. 注射了新药之后的小白兔生活得更轻松
- C. 自然环境中饲养的小白兔生活得更轻松
- D. 新药功能的发挥和实验对象的生活环境密切相关

88. 乡间公路上发生一起车祸，肇事司机是位女性，据这位女司机介绍，当时她发现路边有一家餐馆准备停车用餐，误将油门当刹车，汽车径直向前撞向路边车辆，连撞两车后方才停下，万幸的是车上乘客仅受轻伤。有目击者对这起车祸做出如下评论，女司机更容易出车祸。

以下哪项如果为真，最能质疑上述评论（ ）

- A. 有的男司机开车时比较敏捷和果断，很少出车祸
- B. 有的女司机开车时比较细心和冷静，很少出车祸
- C. 肇事司机已有8年驾龄，技术娴熟，以前从未出过车祸
- D. 女司机各有不同，对肇事女司机不能轻率概括、以点概面

89. 在某公司新招聘的100名应届毕业生（不含专科）中，男性42名，女性58名；研究生的比例超过了本科生，计算机类毕业生人数多于文史类毕业生，除了计算机类和文史类专业外，还有其他专业毕业的学生。

根据以上陈述，关于上述100名大学毕业生，可以得出以下哪项（ ）

- A. 计算机类研究生人数多于文史类本科生
- B. 女性计算机类毕业生人数多于男性文史类本科生
- C. 女性研究生人数多于男性本科生
- D. 计算机类研究生人数多于男性本科生

90. 城市是一个生命体，一座历史文化名城，她的寿命长达千百年，印证她寿命的年轮也定会有千百条。作为城市年轮的历史文化遗产是绝对不能破坏或丢弃的，破坏或丢弃城市的年轮，就是自毁城市特色。而一座城市只有保持其固有特色，才能拥有核心竞争力。

根据以上陈述，可以得出以下哪项（ ）

- A. 只有保护好历史文化遗产，历史文化名城才能拥有核心竞争力
- B. 只有拥有核心竞争力，一座城市才能保护好其历史文化遗产
- C. 如果保护好历史文化遗产，一座城市就能拥有其核心竞争力
- D. 如果历史文化遗产被破坏或丢弃，历史文化名城就会失去其生命力

91. 甲、乙、丙、丁、戊5支足球队进小组单循环比赛。比赛规定，每队胜一场得3分，平一场得1分，负一场得0分；积分前两名出线。比赛结束后发现，没有积分相同的球队，乙队只胜了3场，丙队、丁队均只胜了两场。

根据以上陈述，可以得出以下哪项（ ）

- A. 甲队一定出线
- B. 丙队一定出线



- C. 丁队一定没出线 D. 戊队一定没出线

92. 研究人员比较了过去 3.3 万年以来生活在欧洲的人的骨骼变化情况，发现从 1 万年前的中石器时代到 2000 年前的罗马帝国时期，人类两种腿骨的强度持续下降，但与奔跑行走无关的上臂骨强度则保持稳定。也正是在这一时期，农业开始兴起，人类逐渐向定居的生活方式转变，农业兴起导致现代人的骨骼变轻，但之后两种腿骨的强度几乎没有变化。研究人员由此得出结论，机械化和城市化对骨骼强度的影响并不明显。

以下哪项最可能是研究人员作出结论的假设（ ）

- A. 在过去 3.3 万年间，人类的体重总体变化不大  
B. 从 3.3 万年前至 1 万年间，人类的生活方式没有发生重大的改变  
C. 机械化和城市化发生在农业兴起之后  
D. 人的骨骼变轻会导致其骨骼强度的下降

93. 食品安全标准不仅关系到食品安全，更关系到国家利益。稀土在土壤中广泛存在，也在现有的各种食物中广泛存在。目前，科学界关于稀土对人类健康影响的研究很欠缺，国际权威机构迄今为止并没有对稀土的危害性做出评估，更没有设立所谓“安全摄入量标准”。近年来，我国对稻谷、玉米、小麦、茶叶等食物中的稀土限量标准做出统一标准，均为 2.0 毫克/千克。有专家据此认为，这些标准的制定并非都是合理的。

以下哪项如果为真，最能支持上述专家的观点？

- A. 目前，我国的稻谷、玉米、小麦中的稀土含量一般都低于 2.0 毫克/千克  
B. 茶叶中的稀土只有大约 25% 会进入茶水中，而一个人每天食用的茶叶量要远远小于粮食  
C. 中国先于国际权威机构制定食物中稀土的“安全摄入量标准”，具有一定的超前性  
D. 中国是茶叶出口大国，又是世界上唯一制定了茶叶稀土限量标准的国家

根据以下材料，回答 94~95 题。

某国承办了一次国际大赛，决定将赛事分配给该国的 3 个城市具体筹办。现有甲、乙、丙、丁、戊、己、庚 7 个候选城市通过了初选。根据要求，最终负责筹办的城市还需符合以下条件：

- (1) 甲和乙要么都入选，要么都不入选；  
(2) 丙与丁至多只能有一个入选；  
(3) 丙和甲至少要有一个入选。

94. 如果丁入选，那么下列哪两个城市也一定入选？

- A. 甲和乙 B. 甲和庚 C. 乙和丙 D. 丙和戊

95. 如果戊入选，那么下列哪两个城市也可能同时入选？

- A. 甲和丙 B. 甲和己 C. 乙和丙 D. 丙和己

**四、定义判断。先给你一个概念的定义，然后给出一组典型例证，要求你从中选出最符合题意的一项。注意假设这个定义是正确的、不容置疑的。**

96. 条件性承诺，指在社会活动中，一方对另一方作出附带条件的承诺。

下列属于条件性承诺的是（ ）

- A. 小琴考上了重点高中，老爸奖励她到国外旅游一周  
B. 某公司老总答应给考核优秀员工每人每月加薪 200 元  
C. 陈某对女儿说：“老妈将一如既往支持你报考研究生。”  
D. 小雨为自己立规，不减肥 5 斤，就拒绝参加朋友聚会

97. 趋同感应，指在社会交往过程中，一方能够把握另一方的心理状态，并且能够设身处地体验对方心理。

下列属于趋同感应的是（ ）

- A. 天下谁人不识君 B. 天生我材必有用  
C. 同是天涯沦落人 D. 一片冰心在玉壶

98. 职业基因：指与个人所从事工作的特点相匹配的个性特点与气质。

下列不涉及职业基因的是（ ）

- A. 小李在近十年的货车驾驶工作经历中，他的机智灵敏、注意力集中等特点使他成为公司的优秀驾驶员。  
B. 做事一向细致、认真的小张，对自己从事财务工作感到很满意  
C. 小马头脑灵活、善于交际，在公司销售部工作期间，其业务量多年名列前茅  
D. 以优异成绩毕业于知名大学的马林博士，进入科研机构后很快成为该机构的业务骨干

99. 同质性群体：指经过较长时间后形成的具有某种共同的文化或性格特征的社会群体。

下列不属于同质性群体的是（ ）





- A. 票友      B. 同乡      C. 微商      D. 旅客

100. 众包, 指公司或机构把过去通常由员工承担的工作任务, 交由非特定的社会公众完成的做法。

下列不属于众包的是 ( )

- A. 某玩具公司一直鼓励和赞助用户参与公司设计工作, 从机器人操纵系统到积木套装产品, 都收到了比较理想的效果  
B. 某洗涤用品公司经常把自己的研发项目, 发布在各大网站上, 征集解决方案, 并给予一定的奖励承诺  
C. 近三年来, 某房地产公司将所有的电脑、网络及外设的日常维护工作, 全部交给某电脑公司  
D. 某美术馆请参观者为馆内展品撰写讲解说明, 选出其中的一部分制成标签, 一同展出

101. 安全性思维, 指经过观察后, 对当前事物或事件的发展作出对自己不利的预测, 并做好防备。

下列属于安全性思维的是 ( )

- A. 小李从小体质虚弱, 三天两头感冒, 坚持了 10 年冬泳后, 现在已经很少生病了  
B. 公司经营越来越难, 小陈觉得肯定会裁员, 悄悄到人才市场投递了几份简历  
C. 公共汽车上来了一个驼背老人, 小王怕他跌倒受伤, 便把自己的座位让给了老人  
D. 这两天气温骤降, 老张要到北方出差, 妻子特意往他的行李箱里塞了几件厚衣服

102. 自然淘汰育种法: 指在良种筛选过程中, 减少人为干预, 尽量通过被筛选的自然生长确定所需良种的育种方法。

下列属于自然淘汰育种法的是 ( )

- A. 甲鱼养殖场为了选育出抗病性强的种鱼, 在甲鱼接连死亡的情况下, 没有使用任何药物, 存活到最后的则最为种鱼  
B. 锦鲤养殖户从幼鱼开始分拣最有经济价值的鱼苗, 经过三次人工选鱼后, 最终只有大约 10% 的幼鱼成了鱼苗  
C. 石斛养殖户爬上人迹罕至的悬崖峭壁采集野生石斛, 挑选其中的一部分作为种苗, 精心培育出了多个新品种  
D. 生长在山坡上的某种植物, 有的长势非常茂盛, 有的则弱小枯黄, 泾渭分明, 这正是“物竞天择”的形象说明

103. 路怒症: 指机动车驾驶者在行车过程中因焦躁、愤怒情绪而产生的攻击性行为。

下列不属于路怒症的是 ( )

- A. 在路口等红灯时, 小张感觉汽车被碰了一下, 下车一看, 果然是后车刹车不及时追尾了。小张猛踢后车车轮, 大声责怪其司机并且索要赔偿  
B. 妻子开车送老陈去上班, 一辆小汽车突然窜到了面前, 险些撞到他的车, 老陈下车拦住那辆车, 把司机痛斥一顿  
C. 小李开了 8 年车, 技术高超, 每次被人超车, 都忍不住狂踩油门飚上一把, 直到反超并羞辱对方一番才罢休  
D. 小王正在赶路, 旁边车子中飞出一个纸团突然落在他的挡风玻璃上, 小王十分生气, 他猛按喇叭, 嘴里骂个不停

104. 公共信息资源, 指社会公共领域中由特定管理机构依法管理, 面向全体社会公众提供信息服务的各种数据系统, 具有公共性, 广泛性, 基础性和公益性等特点。

下列属于公共信息资源的是 ( )

- A. 公安部门为了核查居民身份或侦破案件而研发  
B. 银行为了审核贷款申请、开展各种金融业务而开发的客户个人诚信档案系统  
C. 高校教务部门为提高教学管理效率而开发的学生选课、评课、成绩管理系统  
D. 国家气象部门建立的气象信息发布系统, 如天气预报、地质灾害预警系统等

105. 以房养老: 指老人将自己的产权房抵押给金融机构, 按约定条件定期领取养老金并获得相应服务的养老方式。老人去世后, 金融机构可以按约定处置房产, 偿付已经支出的各项费用。

下列属于以房养老的是 ( )

- A. 最近, 老李夫妇把卖房子的钱存进银行, 一起住进了附近的老年公寓, 每月的存款利息足够支付那里的各种费用  
B. 年逾古稀的张先生夫妇与银行签订了协议, 生前, 他们每月从银行领取 13000 元养老金; 死后, 他们的产权房由银行处置  
C. 赵某在一次车祸中落下重度残疾, 他与典当行的远房侄子签了一份协议, 由侄子照顾他的日常起居, 自己名下的房子将来过户给侄子  
D. 老孙退休后卖掉市中心的大房子, 买了一套二手小房住, 每月的退休金加上卖房款利息, 夫妻俩的日子过得很是自在惬意

## 第五部分 资料分析

(共 20 题, 参考时限 20 分钟)

下列给出的文字、表格、图形资料均有五个问题要你回答, 你应根据资料提供的信息进行分析、计算、处理, 然后从备选答案中选择一个最恰当的答案。

一、根据以下资料, 回答 106~110 题。

2015 年 5 月, 国家统计局调查队在江苏省某市开展了农村养老现状专项调研。受访老人中 60~69 岁的占 45.8%, 70~79 岁的占 38.1%, 80 岁及其以上的占 16.1%。受访老人中有一个子女的占 14.1%, 有两个子女的占 37.3%, 无子女的占 3.6%。受访老人中



与配偶同住的占 46.2%，与未婚子女同住的占 2.8%，与某个已婚子女同住的占 31.3%，在子女家轮流住的占 4.0%，独居的占 15.7%。64.3%的受访老人为男性。从不同住子女探望老人的频率看，10.7%的受访老人表示每天来探望，26.5%的表示每周来探望，20.5%的表示每月来探望，其余的表示子女遇事或根据要求来探望。

调查显示，看电视 (82.7%)、串门聊天 (70.3%)、打牌 (34.9%)、散步 (29.7%)、听广播 (19.3%) 和读书看报 (14.9%) 是农村老人的主要闲暇活动。当问及“你想不想参加集体活动”时，20.9%的受访老人表示“想参加”，44.6%的老人表示“可参加可不参加”，还有 34.5%的老人表示“不想参加”。关于受访老人对当前生活状态的满意度，从年龄层看，60~69 岁、70~79 岁，80 岁及其以上的老人对当前生活状态的满意度分别为 80.0%、79.1%、76.7%；从居住状态看，与子女同住、与配偶同住、独居的老人对当前生活状态的满意度分别为 80.6%、80.0%、76.1%；从与村委会互动的频率看，经常互动、偶尔互动、基本不互动的老人对当前生活状态的满意度分别为 82.4%、79.2%、76.7%。

106. 受访老人中有三个及以上子女的占比为 ( )
- A. 44.0%      B. 45.0%      C. 46.0%      D. 47.0%
107. 设与村委会经常互动、偶尔互动、基本不互动的受访老人对当前生活状态的满意度分别为 A、B、C，则有 ( )
- A.  $A < B < C$       B.  $B < A < C$       C.  $C < B < A$       D.  $C < A < B$
108. 从不同住子女探望老人的频率看，占全体受访老人比重最大的是 ( )
- A. 子女每月来探望的老人群体      B. 子女每周来探望的老人群体
- C. 子女每天来探望的老人群体      D. 子女遇事或根据要求来探望的老人群体
109. 受访老人对当前生活状态的平均满意度为 ( )
- A. 79.1%      B. 78.6%      C. 76.7%      D. 80.0%
110. 下列判断正确的是 ( )
- A. 受访老人中喜欢读书看报的多于喜欢打牌的
- B. 在子女家轮流住的受访老人占 15.7%
- C. 喜欢看电视的受访老人都不喜欢听广播
- D. 受访老人中女性占 35.7%

二、根据以下资料，回答 111~115 题。

表 2014 年全国农民工参加“五险一金”情况

		工商保险		医疗保险		养老保险		失业保险		生育保险		住房公积金	
		参保率	比上年提高	参保率	比上年提高	参保率	比上年提高	参保率	比上年提高	参保率	比上年提高	参保率	比上年提高
地区	东部	29.8	1.0	20.4	0.1	20.0	0.4	12.4	0.7	9.1	0.4	6.0	0.4
	中部	17.8	1.6	11.8	1.2	10.7	0.7	6.9	1.0	4.9	0.7	4.7	0.6
	西部	21.9	0.4	13.6	0.8	11.4	0.7	7.7	1.1	5.8	0.8	4.4	0.7
行业	制造业	34.2	1.4	22.1	0.4	21.4	0.5	13.1	0.9	9.3	0.5	5.3	0.3
	建筑业	14.9	0.5	5.4	0.2	3.9	0.2	2.1	0.1	1.3	0.0	0.9	0.0
	批发和零售业	19.2	2.2	15.0	0.8	14.4	0.9	9.9	1.0	7.8	0.8	3.5	-0.1
	交通运输、仓储和邮政业	27.8	2.3	19.2	1.8	17.6	2.0	12.8	2.3	9.2	1.6	8.0	1.8
	宿舍和餐饮业	17.2	0.1	10.8	-1.1	10.0	-0.6	5.4	-1.2	4.0	0.1	2.6	0.1
	居民服务、修理和其他服务业	16.3	0.4	12.1	0.5	11.8	0.5	6.6	0.4	5.2	0.4	3.1	0.9

111. 2013 年东部地区农民工工商保险参保率比中部地区高 ( )
- A. 12.6 个百分点      B. 12.0 个百分点
- C. 11.7 个百分点      D. 10.0 个百分点



112. 2014年农民工住宿和餐饮业的医疗保险参保人数是失业保险参保人数的( )
- A. 2倍      B. 1.5倍      C. 0.8倍      D. 0.5倍
113. 下列行业中, 2014年农民工失业保险参保率比上年提高最少的是( )
- A. 建筑业      B. 住宿和餐饮业  
C. 制造业      D. 批发和零售业
114. 若以 $V_{工}$ 、 $V_{失}$ 、 $V_{医}$ 、 $V_{养}$ 、 $V_{生}$ 分别表示2014年全国农民工“工伤保险”“失业保险”“医疗保险”“养老保险”“生育保险”参保率, 则有( )
- A.  $V_{工} > V_{失} > V_{养}$       B.  $V_{医} > V_{失} > V_{养}$   
C.  $V_{工} > V_{生} > V_{养}$       D.  $V_{工} > V_{养} > V_{生}$
115. 下列判断错误的是( )
- A. 2014年制造业农民工养老保险参保率是建筑业的5倍以上  
B. 2013年交通运输、仓储和邮政业农民工失业保险参保率是10.5%  
C. 2014年西部地区农民工各项保险的参保率提升幅度均大于东部地区  
D. 2014年农民工住房公积金缴纳率增幅最大的行业是居民服务、修理和其他服务业

三、根据以下资料, 回答116~120题

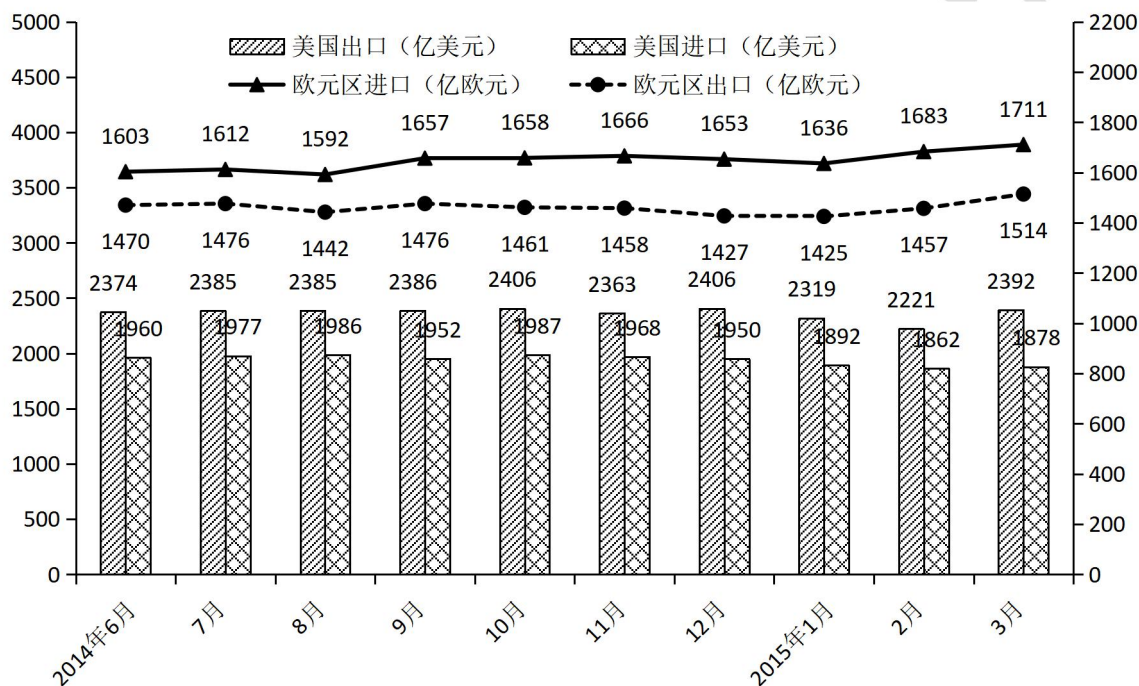


图 2014年6月-2015年3月美国与欧元区进出口额

116. 2014年7月至2015年3月美国出口额月平均增量是( )
- A. 0.8亿美元      B. 0.9亿美元      C. 1.8亿美元      D. 2.0亿美元
117. 2014年7月至2015年3月欧元区进口额与出口额变动方向相反的月份个数有( )
- A. 2个      B. 3个      C. 4个      D. 5个
118. 2014年6月至2015年3月美国贸易顺差最大的月份是( )
- A. 2014年12月      B. 2015年1月  
C. 2015年2月      D. 2015年3月
119. 2014年7月至2015年3月美国与欧元区进、出口额月平均增速最快的是( )
- A. 欧元区出口额      B. 欧元区进口额  
C. 美国出口额      D. 美国进口额
120. 下列判断不正确的是( )
- A. 2015年第1季度欧元区进口额环比有所增加  
B. 2015年1—3月美国进、出口额变动态势相同  
C. 2014年7月至2015年3月欧元区贸易逆差呈逐月增大的态势  
D. 2014年6月至2015年3月美国月度最低进口额为1862亿美元

**四、根据以下资料, 回答 121~125 题**

2014 年末全国就业人员 77253 万人, 比上年末增加 276 万人。其中, 城镇就业人员 39310 万人, 比上年末增加 1070 万人

**2010-2014 年末全国劳动就业状况**

年份	2010	2011	2012	2013	2014
城镇新增就业人数(万人)	1168	1221	1266	1310	1322
城镇失业人员再就业人数(万人)	547	553	552	566	551
城镇登记失业人数(万人)	908	922	917	926	952
城镇登记失业率(%)	4.14	4.09	4.09	4.05	4.09
第一产业就业人员占比(%)	36.7	34.8	33.6	31.4	29.5
第二产业就业人员占比(%)	28.7	29.5	30.3	30.1	29.9
第三产业就业人员占比(%)	34.6	35.7	36.1	38.5	40.6

121. 2014 年末全国城镇新增就业人数比 2013 年末增长( )
- A. 0.7%      B. 0.9%      C. 1.2%      D. 1.6%
122. 2013 年末全国就业人员中从事第三产业的人数为( )
- A. 23170 万      B. 24171 万      C. 29636 万      D. 31365 万
123. 和 2010 年末相比, 2014 年末全国第一产业就业人员占比提高了( )
- A. -7.2 个百分点      B. 1.2 个百分点  
C. 6.0 个百分点      D. 7.2 个百分点
124. 2011-2014 年, 全国城镇失业人员再就业人数占上年末全国城镇登记失业人数比重的最大值是( )
- A. 59.5%      B. 59.9%      C. 60.9%      D. 61.7%
125. 下列判断正确的是( )
- A. 2014 年末全国第二产业就业人数比上年末有所增加  
B. 2014 年末全国城镇就业人员比上年末增加 1322 万人  
C. 2011—2014 年末, 全国第三产业就业人员占比逐年增加  
D. 2011—2014 年末, 全国城镇登记失业率和城镇登记失业人数的变化趋势相同





## 2016年江苏省考行测解析 C

1. 【解析】D。《“十三五”规划建议》指出，“十三五”时期经济社会发展的基本理念，即实现“十三五”时期的发展目标，必须牢固树立“创新、协调、绿色、开放、共享”的发展理念，主要矛盾仍是人民日益增长的物质文化需要同落后的社会生产之间的矛盾，贯穿于我国社会主义初级阶段的整个过程和社会生活的各个方面。因此D项正确。

2. 【解析】C。A项错误，一号文件将促进农业的规模经营，现在要提升第三产业在产业结构中的比重，而不是农业。B项错误，一号文件将激发农业的科技创新，以现代服务业带动农业现代化发展。D项错误，一号文件将带动农村基础设施建设，依靠科技加快新农村建设。C项正确。

3. 【解析】A。习近平总书记强调要增强问题意识，坚持问题导向。就是要承认问题进而解决问题，也是承认矛盾的普遍性和客观性，认识矛盾，进而解决矛盾，才能推动事物的发展。说明矛盾是事物发展的源泉和动力。

4. 【解析】A。焦大是贾府第一代的奴仆，以焦大的经济能力和社会地位来说，无论是从精神需求还是从物质需求方面，择偶观念势必只能是青睐吃苦耐劳且健壮的女子。以他的认知不可能理解林黛玉广阔的精神世界。所以这句话反映出了不同阶级属性的人的不同的审美观、世界观和爱情观。所以体现的哲理是社会存在决定社会意识。所以A项正确。

5. 【解析】A。A项出自王安石的《元日》，对应的是春节。B项出自王维的《九月九日忆山东兄弟》，重阳节有登高，插茱萸的习俗。C项出自辛弃疾的《青玉案·元夕》，描写的是元宵节。D项出自秦观的《鹊桥仙·纤云弄巧》，写的是七夕节。因此A项错误。

6. 【解析】B。《中国制造2025》涉及五大工程、十大产业领域。所以B项《中国制造2025》的覆盖范围包括国民经济门类中的所有产业说法错误。A、C、D项表述均正确。

7. 【解析】A。题意为有效缓解天然气供给短缺的问题，同时在需求和供给自由作用的市场条件下。A项提高销售价格，居民就会减少对天然气的需求，转而寻找其他替代能源，以缓解天然气供给短缺问题。B、C、D项均不能有效缓解天然气供给短缺。

8. 【解析】C。供给侧结构性改革，是从提高供给质量出发，用改革的办法推进结构调整，矫正要素配置扭曲，扩大有效供给，提高供给结构对需求变化的适应性和灵活性，提高全要素生产率，更好满足广大人民群众的需要，促进经济社会持续健康发展，综上所述可知C项发改委取消行政审批事项是从源头供给处进行改革，符合定义。因此C项正确。

9. 【解析】C。镇南关大捷是1885年(清光绪十一年)3月，在中法战争中，清军在广西镇南关(今友谊关)大败法国侵略者取得重大胜利的著名战役。因此选择C项。A项发生在1937年9月的山西大同，中共八路军配合友军阻挡日军，取得胜利。B项起始时间为1939年12月18日至1940年1月11日，是桂南会战国民革命军投入最强规模部队的抗日战役。D项发生在1938年山东台儿庄附近，它是抗日战争以来中国人民取得的最大胜利。

10. 【解析】A。1956年，浙江昆苏剧团根据传奇《双熊梦》改编的《十五贯》登台，周恩来在观看了《十五贯》的演出后做了两次讲话。周恩来说：“你们浙江做了一件好事，一出戏救活了一个剧种”。《十五贯》有丰富的人民性和相当高的艺术性。”这次抢救救活了昆曲的剧团体制和人事制度。从那时起各地陆续成立的昆剧团，形成了昆曲舞台的大致格局，这个格局一直维持至今。所以A项正确。

11. 【解析】C。高铁列车行驶时会产生巨大的空气压力波，它一旦进入车内，会让桌上的物品一片狼藉。车外的尘土会使车内空气变得混浊，车外的噪声，特别是列车进出隧道和两车交会时的巨大噪声也会乘虚而入。更严重的是，乘坐者根本无法忍受这种空气压强差，轻则使乘客耳膜产生压迫感，重则会使乘客感到头晕恶心，严重时甚至造成耳膜破裂。事实上，高铁列车上不仅窗户要固定、密闭，其车门、车厢连接处等都要尽可能地做到密闭，如此才能保证旅客有一个舒适的乘坐环境。因此选择C项。

12. 【解析】D。A项是原理车胎内的空气热胀冷缩。B项原理是高温空气遇到低温的冷饮产生的液化现象。C项原理是因为瓷砖的热传导性比棉花的强。因此本题选择D项。

13. 【解析】B。黑龙江位于中国东北，流经中国和俄罗斯；澜沧江是湄公河上游在中国的名称，湄公河流经老挝、缅甸、泰国、柬埔寨和越南。图们江流经中国吉林、俄罗斯、朝鲜。雅鲁藏布江流经中国、印度、孟加拉国。所以澜沧江流经国家最多，选择B项。

14. 【解析】A。馕是维吾尔族的饮食，不是傣族的。其他选项均正确。

15. 【解析】B。A项，法院结案真正地解决纠纷，化解矛盾，体现司法解决的根本性。C项，对未经起诉的事情法院不予受理的诉讼原则，体现司法活动的被动性。D项，一事不再理原则就是对判决、裁定已经发生法律效力的案件的被告人，不得再次起诉和审理，体现了司法程序的终结性。B项说明了司法的公正性。

16. 【解析】C。《村民委员会组织法》规定，村民委员会应当实行少数服从多数的民主决策机制和公开透明的原则，建立健全各种工作制度。可知，村民委员会应当实行少数服从多数的民主决策机制，而不是村民委员会主任负责制，因此A选项表述不正确。根据《村民委员会组织法》第30条的规定，村民委员会实行村务公开制度。村民委员会应当及时公布事项，接受村民的监督，一般事项至少每季度公布一次；集体财务往来较多的，财务收支情况应当每月公布一次；涉及村民利益的重大事项应当随时公布。涉及财务往来事项应当每月公布一次，所以B选项表述不正确。村民委员会向村民会议负责并报告工作，D项说法错误。因此



C项正确。

17.【解析】B。B项错误：县扶贫工作队定点做好扶贫工作，应当按照精准扶贫的工作要求，进一步加大资金投入、智力支持、技术服务以及信息与政策指导，着力增强贫困地区造血功能，使贫困群众更好实现自我发展、参与发展、共享发展。B项的措施是强制性规定任务，不能从根本上帮助贫困户通过自我发展来实现脱贫，与“增强贫困地区造血功能”的扶贫理念相悖。

A、C、D项正确：这三项措施均能有效推动该村结合实际，因地制宜实现脱贫。A项“加强宣传引导”能帮助贫困村民认清本村的优势，理清发展思路；C项和D项通过借助技术服务和社会资本的投入，能帮助村民实现良性持续地发展，共享发展成果，实现集体脱贫。

本题为选非题，故正确答案为B。

18.【解析】C。相邻关系是指两个或两个以上相互毗邻的不动产的所有人或使用人，在行使不动产的所有权或使用权时，因相邻各方应当给予便利和接受限制而发生的权利义务关系。本题中，张某家的梧桐树枝生长到李某家的院中，可知张某家和李某家为相邻的不动产的使用人关系，涉及的法律关系为相邻关系。

A项错误：人身关系是基于人格和身份而产生的一系列的关系总和，即自然人基于相互间的人格和身份而产生的相互关系。题中没有体现人身关系，排除。

B项错误：债权是得请求他人为一定行为(作为或不作为)的民法上权利。本于权利义务相对原则，相对于债权者为债务，即必须为一定行为(作为或不作为)的民法上义务。在债权债务关系中，债权和债务都不能单独存在，否则即失去意义。题中没有体现债权债务关系，排除。

D项错误：宅基地使用权指的是农村集体经济组织的成员依法享有的在农民集体所有的土地上建造个人住宅的权利。本题没有涉及宅基地使用权的问题，排除。

故正确答案为C。

19.【解析】D。D项正确：古人用鼓打更报时，一更打一鼓，所以“三更”也叫作“三鼓”。

A项错误：“更”是古代夜间计时的单位，一夜分为五更，每更约等于现在的两个小时。

B项错误：古人将夜晚划分为五更。

C项错误：古人规定，逢戌时(约19时~21时)开始，叫做“起更”，也就是“一更”，二更是亥时(约21时~23时)，三更子时(约23时~次日1时)，四更是丑时(约1时~3时)，五更是寅时(约3时~5时)。“三更”大致是指晚上23时至凌晨1时。

故正确答案为D。

20.【解析】B。B项正确：根据《民法总则》第一百二十二条：“因他人没有法律根据，取得不当利益，受损失的人有权请求其返还不当利益。”本题中，胡某承包的鱼塘被洪水冲垮，导致饲养的鱼游入杨某的蟹塘，属于由自然事件引起的不当得利关系，受损方胡某可以基于不当得利请求获益方杨某返还不当得利。

A项错误：善意取得是指无权处分他人动产的占有人，在不法将动产转让给第三人后，如果受让人在取得该动产时出于善意，并以合理价格取得，就可依法取得对该动产的所有权。本题中不涉及到动产的转让和接受。

C项错误：村干部的调解不具备法律上的强制执行的效力，杨某反悔不属于违法行为。

D项错误：公平责任原则即指在法律没有规定适用无过错责任原则，而适用过错责任原则又对受害人显失公平时，依公平原则在当事人之间分配损害的归责原则。适用公平责任原则的基本条件是当事人对造成损害都没有过错。本题中，杨某是不当得利的获益方，不符合公平责任原则的适用条件。

故正确答案为B。

21.【解析】C。主旨概括题。文段属于总分结构，强调总的观点是联产承包责任制被纳入到现代产业体系之后给农业所带来的深刻变化，C项当选。

22.【解析】B。文段中把“道路”比喻成“河流”，把“高楼”比喻成“峡谷”，道路在高楼峡谷中蜿蜒流淌，只有高处俯瞰才能呈现此景。另外，古人登上依水而建的楼阁，所观之景与此相似，其视线是由高处往下的。因此B项当选。

23.【解析】C。语句排序题。根据“寻头断尾”的做题原则，②是让步状语从句，不适合做首句，排除A、D两项。根据相邻排序，⑤③②分别论述的是法官的法律解释问题。因此C项当选。

24.【解析】D。细节理解题。A项表述对应的是文段开篇的第一句话。B项表述对应的是文段最后一句话。C项对应的是“满足高密度，高成本，高人力的现代快递工作”。D项表述属于无中生有选项。

25.【解析】D。文段第一句“电影是否适合3D制作，主要取决于影片的内容”，然后列举了适合或不适合3D的影片类型，很显然D项符合文段内容。

26.【解析】C。细节理解题。A项表述对应的是“推荐只是根据目前的证据所能作出的合理判断”；B、D两项表述对应的是“不同的文献研究的对象、方式和考察的健康指标不同，就可能得出不同的结论”。C项表述属于无中生有。

27.【解析】A。主旨概括题。根据主题排除法，文段中的主体是公民素质的高低，故排除C、D两项。文段强调的重点是公民



素质提高的重要性，决定着国家核心竞争力的高低。A 项当选。

28. 【解析】A。文段属于总分结构，首句指出决策需要抢抓机遇，分句通过并列结构进一步说明要想抓住机遇，需要及早地发现和把握，还需要智慧和勇气，同时通过反面论证，证明及时决策的重要性，即不及时决策，会失去机遇。对应选项为 A 项。

B 项，未体现决策和机遇的关系，且属于分句并列的一部分内容，过于片面，排除。C 项，属于问题类表述，非文段重点，排除。D 项，文段已给出具体对策，故表述不明确，排除。

故正确答案为 A。

29. 【解析】D。文段以“仙人掌的故事”引出人生哲理，即找准自己的位置才能有助于成功，对应 D 项。

A 项“仙人掌”和 B 项“每种花”非文段的重点，文段重点在于人生的哲理，排除；

C 项“身处优越的环境”非文段的重点，文段强调的是选对自己的位置，排除。

故正确答案为 D。

30. 【解析】B。尾句提出了新话题“陌生人社区”，根据 话题一致原则，下文应对陌生人社区展开描述，对应 B 项。A 项“传统单位制社区”、C 项“商品房社区”、D 项“熟人社区”均与尾句话题不一致，排除。故本题选 B。

31. 【解析】C。根据文段内容“所以茶氨酸的分解以及儿茶素的合成受到抑制。这样制得的春茶茶氨酸含量高而茶多酚含量低，也就更好喝”可知，C 项表述和文段意思相反，不符合文意，当选。

A 项，根据“更重要的原因在于深山幽谷中光照不足，而在春天茶叶发育期间温度较低，所以茶氨酸的分解以及儿茶素的合成受到抑制”可知，光照不足会抑制茶氨酸的分解，因此受到较多光照不会抑制茶氨酸的分解，即使茶氨酸含量降低，A 项表述正确；

B 项，文段表述“深山幽谷的茶更好喝”，且“一般”表述平和，可知 B 项符合文意；

D 项，对应文段“春茶茶氨酸含量高更好喝”“光照会影响到茶氨酸的分解”，可知 D 项符合文意。

故正确答案为 C。

【文段出处】《茶-茶氨酸》

32. 【解析】B。文段开头引用果戈理的句子点明“只有建筑在说话”，之后通过正反论证解释保护历史文化建筑的重要性，如果不对历史文化建筑好好保护，本能“说话”的历史文化建筑就消失了，那么一切就无法开口，B 项“无从谈起”与“只有建筑在说话”形成准确的对应，当选。

A 项、C 项和 D 项从文段无法得知，与前文无法形成对应，排除。

故正确答案为 B。

【文段出处】《期盼历史文化建筑不再“缄默”》

33. 【解析】A。文段首先引出暗物质的概念，继而具体阐述暗物质的相关信息。“不发出可见光或其他电磁波”“对可见的物质产生作用”对应 B 项“基本特点”；“人类对其的未知”对应 C 项“目前所知甚少”；“暗物质就是宇宙中看不见的物质”，“宇宙中还存在大量人们看不见的物质”，对应 D 项；A 项在文中并未涉及，属无中生有的表述，当选。

本题为选非题，故正确答案为 A。

【文段出处】《宇宙射线中过量正电子可能来自暗物质》

34. 【解析】A。本题问原因，回到文段重点分析原因，文段首句说明“网络用语不是交际语言”是因为“文字和语言的性质是不一样的”，即“语言”是“用声音做外壳的”，而“文字”是用来记录“语言”的，即强调两者不同之处，后文对此进行了详细说明，对应 A 项。

B 项在描述网络语言的作用，而非两者不同的原因，排除；C 项对应文段最后一句话，仅为一个客观现实，并不是两者不同的原因，排除；D 项为无中生有，文段并未讲述此意。

故正确答案为 A。

【文段出处】《网络语言的本质及社会功能》

35. 【解析】C。文段开篇介绍了蓝藻形成水华时的危害，之后论述人们对水资源的不合理利用和污染是导致蓝藻爆发的重要原因，可知文段意在强调从原因出发解决问题，故答案需选择解决问题的对策，C 项中的“根本措施”即为对策类表述。

A 项表述为危害中“另一方面”的内容，过于片面，排除；B 项，文段表述为人们在水资源不合理的开发会导致蓝藻爆发，故属于因果倒置，排除；D 项表述无中生有，文段并未提到蓝藻有优化水环境的作用，排除。

故正确答案为 C。

【文段出处】《识蓝藻“庐山真面目”探究蓝藻水华爆发之因》

36. 【解析】D。所填入内容与“参考”并列，指查阅、利用有关资料帮助学习、研究或了解情况。且根据后文举例解释可知，必须了解社会学和文化人类学的研究方法以及研究成果，才能研究农村经济。A 项“探寻”指找寻、寻求；C 项“追随”指效仿前人的事迹，均与文意无关，排除；对比 B、D 两项，B 项“凭借”指“依靠、借用一定的手段”；D 项“借助”指凭借别人或事物的帮助以达到目的。可知“研究方法与研究成果”并非手段，故 D 项更符合语境，当选。

故正确答案为 D。





37. 【解析】B。根据文章可知，如果不能深切了解中国农民和农村的社会生活及其结构特征，就很难理解为什么有些金融机构在农村领域获得了极大的成功，故可反推知原因为“深切了解中国农民和农村的社会生活及其结构特征”，C、D两项表述正确。又根据“如果不能深切了解中国农民和农村的社会生活及其结构特征，就很难了解为什么农民会选择这种金融组织形式和融资方式”可知，“这种金融组织形式”与“深切了解中国农民和农村的社会生活及结构特征有关”，故A项表述正确。B项“满足农民急需的农业生产融资”无中生有，当选。

本题为选非题，故正确答案为B。

38. 【解析】A。根据文章可知，第五段提到了几种研究方法的本质区别。即“实验研究、调查研究和文献研究”为定量研究方式，集中体现了实证主义方法论的倾向，而“实地研究”为定性研究方式，集中体现了人文主义方法论的倾向。并且下文详细对这两种方法论的不同从目的、用途、具体方式几个角度加以解释说明。故可知实地研究与其他研究的主要不同点为“人文主义的研究倾向”，对应选项为A。

B项，为研究目的方面的不同，并非主要的不同点，排除；

C项，为研究方式的不同，并非主要不同点，排除；

D项，为研究目的方面的不同，并非主要的不同点，排除。

故正确答案为A。

39. 【解析】C。A项，根据“具有实证主义方法论的社会研究者，通常采用定量的研究方式，以凸现研究的规范性、精确性和客观性”可知正确；

B项，根据“其中每一个步骤都尽可能严格按照自然科学研究的方式进行”可知正确；

C项，根据文章可知，“关注整个研究过程的特殊性及深入性”为具有人文主义方法论的学者的研究方法，并非“实证主义”研究方法，故表述错误，当选。

D项，根据“具有实证主义方法论的社会研究者，通常采用调查研究、实验研究以及定量的文献研究的方式”可知正确。

本题为选非题，故正确答案为C。

40. 【解析】B。整篇文章首先介绍研究农村的事例，说明要想研究农村，必须先深刻了解农村。并由此引出几种社会研究方法，详细加以解释说明其不同之处。最终文章通过“可以说”表总结，说明社会研究应该综合运用几种研究方法。故文段可以分为三层，①②段为介绍事例部分内容；③④⑤⑥⑦段为介绍具体研究方法内容；⑧⑨段为总结，提出对策，即研究社会应综合运用各种研究方法内容。对应选项为B项。

故正确答案为B。

【文段出处】《谈谈田野调查方法》

41. 【解析】A。第一空，由“盯着名利干事”可知，“急功近利”最恰当，且两者也都包含关键字“利”。第二空，由“不闻掌声”可知，“心无旁骛”最恰当。因此A项当选。

42. 【解析】D。根据文段中的提示性信息，“城镇化大大降低了农业人口比重”，说明农业生产所经历的变化与进城务工农民的交往社会化这一事实是相符合或契合的，排除B、C两项。激励侧重指的是物质或精神方面的事物，置于第二空不合适，排除A项。D项当选。

43. 【解析】C。根据文段提示性信息，“法官只能通过解释法律来发展立法”，涉及的内容是法官的权责问题，故用“权力”。第二空，完善立法属于固定搭配。

44. 【解析】A。根据语境，第一空需要填入表示假设的让步关系的连词，排除B、D两项。“这种留在心间的东西……的影响，就是熏陶”，说明不自觉的就受到了影响，故用“潜移默化”。A项当选。

45. 【解析】C。考查知识点为固定搭配，最后一空需填入的是产生整体大于部分之和的现象，故用“效应”。“效率”侧重于速度，排除。文段中仅仅是一种客观陈述，没有作者的感情倾向，排除“成果”。

46. 【解析】D。文段中强调的是“如何配置相对缺乏的教育资源”，故用“均等化”契合文意。

47. 【解析】A。第一空，与“慷慨”搭配，“赐予”最恰当。“分享”“供给”程度不够。“奉献”指恭敬地交付，献出，主要是为别人默默付出，心甘情愿，不图回报。根据语境信息，第二空需填入和“辜负”表意相同的词语，辜负，是指对不住别人的期望，轻慢，意为对人不尊重，对人傲慢，能够和后面的美好情趣搭配。A项当选。

48. 【解析】D。根据语境信息，处于社会信息化进程中的个人也包含在内，故用“概莫能外”。验证第一空，“显著标志”搭配恰当，符合语义。D项当选。

49. 【解析】C。根据语境信息，数据采集及其分析对于金融学研究的重要性是每个个体都明白的，故用“不言而喻”。验证第一空，带入后语句通顺，符合语义。

50. 【解析】B。第一空，“不堪重负”“顾此失彼”与“网络热词的更替速度”搭配不当，排除C、D两项。第二空，“宿愿”指平素的愿望，一向怀着的愿望，与题意不符；所谓“宿命”是指命运的归宿，是人们无法摆脱的必然趋势，符合题意。因此B项当选。





51. 【解析】B。第一空, 根据语境, 书法艺术是以汉字为传播途径的一种形式, 故用“载体”。验证第二空, 语句通顺, 符合语义。因此B项当选。

52. 【解析】B。根据语境信息, “无比”“无穷”说法绝对, 排除C、D两项。第二空考查固定搭配, “综合应用”搭配恰当。B项当选。

53. 【解析】D。根据语境信息, 传统文化不曾断裂, 故用“绵延”, 意为连续不断之意。第二空“弘扬文化为”固定搭配。验证第三空, “内化为生活的一部分”, 语句通顺。D项当选。

54. 【解析】B。根据语境信息, 今年的竞赛单元依旧气氛激烈, 高手很多, 排除C、D两项。第二空展现的是被拍摄对象的内心情感, 用“追踪”一词契合文意。验证第三空, “望尘莫及”代入后, 语句通顺, 符合语义。B项当选。

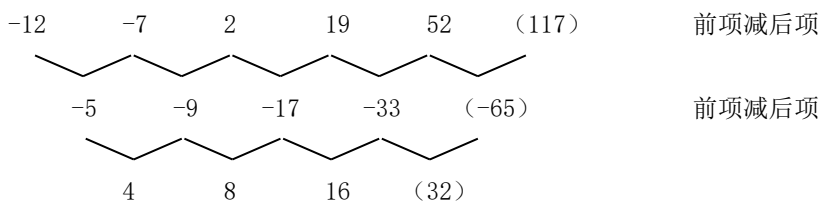
55. 【解析】A。根据语境信息, “滋养生活”属于固定搭配, 排除B、D两项。“积攒文明”搭配不当。A项当选。

56. 【解析】B。相邻两项作差, 6, 8, 10, 12, (14), 因此括号中的数应为:  $39+14=53$ 。B项当选。

57. 【解析】相邻两项作差, 3, 9, 27, 81, ( ), 分别为  $3^1, 3^2, 3^3, 3^4, (3^5)$ 。因此括号中的数为  $257+3^5=500$ 。D项当选。

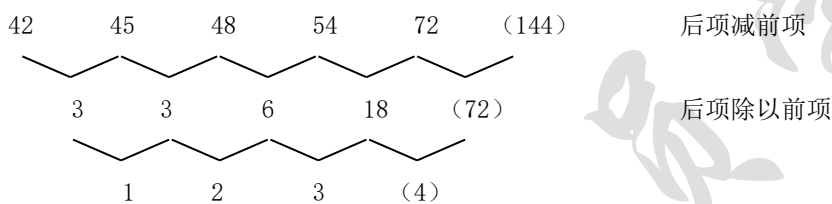
58. 【解析】A。相邻两项作商, 2, 3, 5, 7, ( ), 为质数数列, 因此括号中的数应为  $70 \times 11=770$ , A项当选。

59. 【解析】D。二次作差。



因此D项当选。

60. 【解析】A。作差后作商。  $3\sqrt{5} = \sqrt{45}$ ,  $4\sqrt{3} = \sqrt{48}$ ,  $3\sqrt{6} = \sqrt{54}$ ,  $6\sqrt{2} = \sqrt{72}$ 。只看底数:



因此未知项为  $\sqrt{144} = 12$ , A项当选。

61. 【解析】D。设乙的速度为  $2x$ , 甲的速度为  $3x$ , 相遇路程和公式  $600 = (2x+3x) \times 3$ , 解得  $x=40$ , 甲的速度  $3x=120$  千米/小时。因此D项当选。

62. 【解析】B。根据容斥原理的公式: 在两个集合的情况下: 满足A的个数+满足B的个数-两者都满足的个数=总个数-两者都不满足的个数。因此  $26+24-17=38-x$ , 解得  $x=5$ 。两题都答错的人是5个, 因此B项当选。

63. 【解析】B。1000股股票的市值是:  $10 \times 1000 \times (1-5\%) \times (1+5\%) = 10000 \times (1-5\%+5\%-5\% \times 5\%) = 9975$  (元), 因此B项当选。

64. 【解析】B。以AB为对角线将图形补成长方形, 也就是要缺失的两部分面积相同,  $2 \times 4 = x \times (6-x)$ , 解得  $x=2$  或  $4$ 。B项当选。

65. 【解析】C。赋值两个工程队的效率均为1, 设该工程的工期为  $x$  天, 根据题意可得:  $2 \times (x-5) = 2 \times 6 + (x-6) \times 1$ , 解得  $x=16$ 。故正确答案为C。

66. 【解析】A。考查目的关系。播种目的是为了收获庄稼, 烹饪的目的是为了得到美食。

67. 【解析】B。考查反对关系。欧元、美元都是一种货币, 小说散文都是一种文体。A、C两项的公斤、公里、小时都是不同类型的计量单位。

68. 【解析】B。考查语法结构, 动宾关系。消除障碍, 解决问题。

69. 【解析】C。考查反义词关系, 纪念和忘却却是反义词关系, 挖掘和埋没也是反义词关系。

70. 【解析】D。火车在轨道上行驶, 油轮在江海上航行。

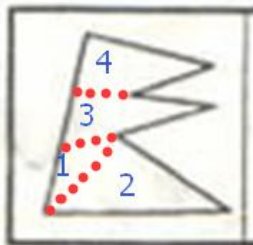
71. 【解析】D。考查对应关系。青奥会和亚运会必须要有运动员参加, 教代会和职代会必须要有代表参加。

72. 【解析】B。考查种属关系, 喜乐是一种情绪, 诚信是一种美德。

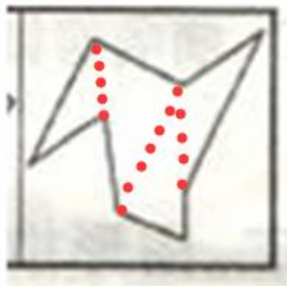
73. 【解析】D 填空式, 需要将选项一一代入题干, 逐一分析: A项, 左右与高低没有明显逻辑关系, 内外与早晚也无明显逻辑关系, 排除; B项, C项同理, 均无明显逻辑关系, 排除。D项, 左右与上下均表示方位, 为对应关系, 快慢与早晚表示时间, 为对应关系。故正确答案为D。



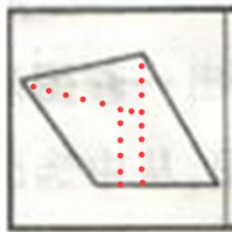
74. 【解析】A。考查字符顺序。第一、三、六位置上相同符号，二、七位置上符号相同，四、五位置上符号相同。
75. 【解析】D。考查字符顺序。第一、三位置上相同汉字，二、四、八位置上汉字相同，五、六位置上汉字相同。
76. 【解析】B。考查图片信息类，图中都是一个大人和一个小孩。
77. 【解析】C。考查元素换算，一个圆等于两个月亮，换算出的结果是1、2、3、4、5、6个月亮。
78. 【解析】B。考查数量和位置。除了圆外，线条数依次为3、4、5、6、7、(8)，排除C、D两项。A项的线条旋转方向与前四个图不一致，排除。
79. 【解析】B。考查属性类，所有图形都是中心对称图形。
80. 【解析】A。根据特殊角，特殊边，拼合之后只有A项符合，如下图所示：



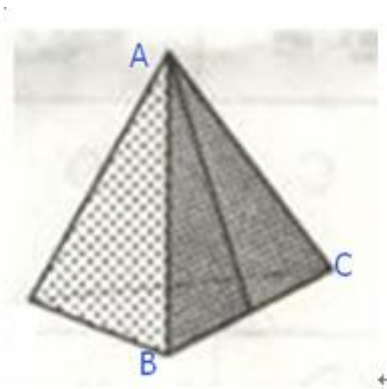
81. 【解析】D。根据特殊角和平行边拼合，只有D项符合，如下图所示：



82. 【解析】A。根据平行边、特殊边和特殊角，拼合之后只有A项符合，如下图所示：



83. 【解析】A。根据相邻边关系。只有A项符合。原图中有垂线的三角形和带点的三角形的公共边为AB(如下图所示)，B、D两项这两个三角形的公共边为BC，C项为AC。



84. 【解析】B。根据相对面关系，排除A、C、D三项，只有B项符合。
85. 【解析】D。题干三个面的图形都交于公共顶点，只有D项符合。
86. 【解析】B。考查翻译推理。最后一句话表明小王认识小李，根据第一句，“小王所认识的人都是摄影师”，所以小李是摄影师，根据第二句，“摄影师都喜欢旅行”，所以小李喜欢旅行。



87. 【解析】C。本题考查前提假设。结论是“轻松的环境有利于发挥新药的功能”，通过将两组小白兔进行对比，一组在笼子，一组在自然环境中，前提必须是承认自然环境中饲养的小白兔生活得轻松，因此C项符合，当选。
88. 【解析】D。论点是：女司机更容易出车祸。目击者仅仅根据一起车祸就得出了以偏概全的结论，D项指出了论证方式的不合理之处，当选。
89. 【解析】C。女性人数比男性人数多→女研究生多于男研究生，“研究生的比例超过了本科生”→男研究生的比例多于男本科生，因此女性研究生的人数多于男性本科生。
90. 【解析】A。本题考查翻译推理。“破坏或丢弃城市的年轮（历史文化遗产），就是自毁城市特色”翻译为：破坏（历史文化遗产）→毁灭特色，“只有保持其固有特色，才能拥有核心核心竞争力”翻译为：竞争力→保持特色，根据递推规则，得出：破坏（历史文化遗产）→毁灭特色→-竞争力。因此A项当选。
91. 【解析】D。本题考查翻译推理。五支球队一共进行十场单循环比赛，乙、丙、丁共取胜七场，因为没有积分相同的球队，所以不能有相同胜场数，甲与戊最多胜两场，因此戊不会进入前两名，D项当选。
92. 【解析】C。本题考查前提假设。题干论据为：农业兴起之后并未导致腿骨的强度有变化，结论是，机械化和城市化对骨骼强度的影响并不明显，因此前提应是农业兴起与机械化和城市化之间的关系，只有C项符合。
93. 【解析】B。第一步：找到论点论据，论点：这些标准的制定并非都是合理的。论据：近年来，我国对稻谷、玉米、小麦、茶叶等食物中的稀土限量标准做出统一标准，均为2.0毫克/千克。
- 第二步：逐一分析选项，A项：“我国的稻谷、玉米、小麦中的稀土含量一般都低于2.0毫克/千克”说明规定达到国家标准，至于这些标准制定的合理不合理没说，无关项，排除；B项：“茶叶中的稀土只有大约25%会进入茶水中，而一个人每天食用的茶叶量要远远小于粮食”和粮食对比说明茶叶的稀土进入水中的少、食用量小，采取统一标准限定标准不合理，举例加强，当选；C项：“具有一定的超前性”不一定就是合理的，无法加强，排除；D项：“中国是茶叶出口大国，又是世界上唯一制定了茶叶稀土限量标准的国家”和制定标准是否合理，无关项，排除。
94. 【解析】A。第一步：翻译题干，①要么（甲且乙），要么（-甲且-乙），② -丙或-丁，③丙或甲
- 第二步：逐一分析选项
- 已知确定信息：丁入选，代入条件②可以推出：丁→-丙；将-丙代入条件③可以推出：-丙→甲；将甲代入条件①可以推出：甲且乙，得知甲、乙两个城市入选。
- 故正确答案为A。
95. 【解析】D。根据题干要从7个城市中入选3个，又因戊入选，故剩余的2个入选名额将会在甲、乙、丙、丁、己、庚6个城市中产生。
- 题干问法是不可能，优先带入排除。
- A项，若甲丙同时入选，则根据（1）可知，乙也会入选，则入选的人数超过题干要求的3人，矛盾，排除；
- B项，若甲己同时入选，则根据（1）可知，乙也会入选，则入选的人数超过题干要求的3人，矛盾，排除；
- C项，若乙丙同时入选，则根据（1）可知，甲也会入选，则入选的人数超过题干要求的3人，矛盾，排除；
- D项，若丙己同时入选，则甲乙都不入选，符合条件（1），且丙入选，丁不入选，符合条件（2），若丙入选，则符合条件（3），与题干信息未出现矛盾，是可能成立的选项，当选。
- 故正确答案是D。
96. 【解析】B。“条件承诺”的定义要点：①一方对另一方；②附带条件的承诺。A、C两项不符合②，D项不符合①，均排除。因此B项当选。
97. 【解析】C。“趋同感应”的定义强调“一方把握另一方的心理状态，设身处地体验对方心理”。只有C项符合定义，当选。
98. 【解析】D。题干关键词是“个性特点与气质”，D项马林博士是因为优异成绩，不符合定义，D项当选。
99. 【解析】D。定义关键词是“具有某种共同的文化或性格特征”，D项旅客不具备，当选。
100. 【解析】C。题干关键词是“非特定的社会公众”，C项某电脑公司是特定的公司，当选。
101. 【解析】B。定义的关键要点是“作出对自己不利的预测，做好防备”，A项没有作出预测，C项不是针对自己，D项天气降温并不是对自己不利，而且也是妻子的行为，都不符合定义要点，均排除。因此B项当选。
102. 【解析】A。“自然淘汰育种法”的定义强调“在良种筛选过程中，减少人为干预”，只有A项符合定义要点，当选。B、C两项有人工干预选种。D项并没有提到筛选良种。
103. 【解析】B。“路怒症”定义要点为：①机动车驾驶者；②行车过程中；③因焦躁、愤怒产生攻击性的行为。B项老陈并不是机动车驾驶者，不符合定义要点①。因此B项当选。
104. 【解析】D。公共信息资源的定义要点为：①面向全体社会公众；②具有公共性、广泛性、基础性和公益性等特点。因此D项当选。
105. 【解析】B。“以房养老”的定义要点为：将自己的产权房抵押给金融机构，定期领取养老金，去世后，金融机构按照约



定处置房产。只有B项符合定义要点。A、C、D三项均没有把产权房抵押给金融机构。

106. 【解析】B。受访老人有一个、两个和无子女的分别占14.1%、37.3%、3.6%，因此剩下的即为三个和三个以上子女老人的占比。 $100-14.1-37.3-3.6=45$ ，因此选择B项。

107. 【解析】C。直接观察题目最后一句话可知：A为82.4%，B为79.2%，C为76.7%，因此 $C < B < A$ 。

108. 【解析】D。直接从题中比较可以得出：A项为20.5%。B项为26.5%。C项为10.7%。D项为42.3%。

109. 【解析】B。从年龄层来看平均满意度为 $(80.0\%+79.1\%+76.7\%)/3=78.6\%$ 。

110. 【解析】D。A项错误，读书看报14.9%小于打牌的34.9%。B项错误，轮流住的老人占4.0%。C项错误，文中未提及。D项正确，64.3%的受访老人为男性，则女性占35.7%。

111. 【解析】A。2013年东部地区农民工工商保险参保率为28.8%，中部地区为16.2%。 $28.8-16.2=12.6$ ，因此选择A项。

112. 【解析】B。2014年住宿和餐饮业医疗保险比例为10.0%，失业保险是5.4%。 $10 \div 5.4 \approx 1.5$ （倍）。

113. 【解析】B。A项建筑业失业保险参保率比上年提高了0.1，B项住宿和餐饮业比上年下降了1.2，C项制造业提高了0.9，D项批发和零售业提高了1.0。因此提高最少的是B项住宿和餐饮业。

114. 【解析】D。V工为69.5%，V失为27%，V医为45.8%，V养为42.1%，V生为20.3%。综上得出D项排序正确。

115. 【解析】D。A项错误，2014年制造业农民工养老保险参保率为21.4%，建筑业为3.9%，大约5倍左右。B项错误2013年交通运输、仓储和邮政业农民工失业保险参保率为 $12.8+2.3=15.1\%$ 。C项错误，2014年工商保险领域西部地区农民工小于东部地区提升幅度。因此选择D项。

116. 【解析】D。由问题所求“2014年7月至2015年3月...月平均增量”，可判定此题为平均数问题。定位柱状图可得，2015年3月美国出口额=2392，2014年6月美国出口额=2374。2014年7月至2015年3月共9个月的增长量=2392-2374=18，月平均增量=18/9=2。故正确答案为D。

117. 【解析】A。

定位折线图可得，2014年7月至2015年3月欧元区进口额与出口额变动方向如下：

	2014年 7月	8月	9月	10月	11月	12月	2015年 1月	2月	3月
进口额 变动方向	↑	↓	↑	↑	↑	↓	↓	↑	↑
出口额 变动方向	↑	↓	↑	↑	↑	↓	↓	↑	↑

变动方向相反的为：2014年10月、11月，共2个月份。故正确答案为A。

118. 【解析】D。贸易顺差=出口额-进口额，定位柱状图可得：

A. 2014年12月贸易顺差=2406-1950=456；B. 2015年1月贸易顺差=2319-1892=427；

C. 2015年2月贸易顺差=2221-1862=359；D. 2015年3月贸易顺差=2392-1878=514；

D项2015年3月的贸易顺差最大。

故正确答案为D。

119. 【解析】B。由问题所求“2014年7月至2015年3月...月平均增速最快的是”可判定此题为增长率问题，月平均增速比较，只需比较末期值/基期值的大小。定位统计图可得，2014年7月至2015年3月，四选项分别为：A欧元区出口额 $\frac{1514}{1470} = 1 + \frac{44}{1470}$ ，

B欧元进口额 $\frac{1711}{1603} = 1 + \frac{108}{1603}$ ，C美国出口额 $\frac{2392}{2374} = 1 + \frac{18}{2374}$ ，D美国进口额 $\frac{1878}{1960} = 1 - \frac{82}{1960}$ ，明显B项最大。

故正确答案为B。

120. 【解析】C。A项：定位折线图可得，2015年1、2、3月欧元区进口额分别为1636、1683、1711，2015年第1季度总额=1636+1683+1711=5030；2014年10、11、12月欧元区进口额分别为1658、1666、1653，2014年第4季度总额=1658+1666+1653=4977，因此，2015年第1季度欧元区进口额环比增加，说法正确；

B项：定位柱状图可得，2015年1-3月，美国各月进口额为1892、1862、1878，变动态势为先降后升；各月出口额为2319、2221、2392，变动态势也为先降后升，说法正确；

C项：贸易逆差=进口额-出口额，定位折线图可以发现，2014年12月的贸易逆差=1653-1427=226，2015年1月的贸易逆差=1636-1425=211，贸易逆差小于上月，说法错误；

D项：定位柱状图可得，2014年6月至2015年3月美国进口额最低的为2015年2月的1862亿美元，说法正确。





本题为选非题, 故正确答案为 C。

121. 【解析】B。由题干“比…增长”, 结合选项都为百分数, 可判定该题是求一般增长率问题。定位表格数据可得, 2013 年末全国城镇新增就业人数 1310 万人, 2014 年末全国城镇新增就业人数 1322 万人, 因此 2014 年末全国城镇新增就业人数比 2013 年末增长  $= (1322-1310)/1310 \approx 12/1300 \approx 0.92\%$ 。故正确答案为 B。

122. 【解析】C。由题干“2013 年…从事第三产业的人数为”, 可判定该题是基期计算问题。定位文字材料和表格数据, 2014 年末全国就业人员 77253 万人, 比上年末增加 276 万人, 2013 年末第三产业就业人员占比 38.5%, 因此 2013 年末全国就业人员  $= 77253 - 276 = 76977$  万人, 那么 2013 年末全国就业人员中从事第三产业的人数  $= 76977 \times 38.5\% \approx 77000 \times 40\% \approx 30800$  万人, 略大于答案 C。故正确答案为 C。

123. 【解析】A。由题干“占比提高”, 结合材料中已经给出了 2010 和 2014 年全国第一产业就业人员占比, 可判定该题属于简单加减计算问题。定位表格数据, 2010 年末全国第一产业就业人员占比 36.7%, 2014 年末全国第一产业就业人员占比 29.5%, 因为  $29.5\% - 36.7\% = -7.2\%$ , 所以和 2010 年末相比, 2014 年末全国第一产业就业人员占比提高了 -7.2 个百分点。故正确答案为 A。

124. 【解析】D。

由题干“2011—2014 年…比重的最大值”, 可判定该题是比值计算问题。

方法一: 定位表格中数据, 列表可得:

2011 年	2012 年	2013 年	2014 年
$\frac{553}{908}$	$\frac{552}{922}$	$\frac{566}{917}$	$\frac{551}{926}$
60.9%	59.9%	61.7%	59.5%

最大值为 2013 年的 61.7%。

方法二: 2011—2014 年, 全国城镇失业人员再就业人数占上年末全国城镇登记失业人数比分别为: 2011 年  $\frac{553}{908}$ , 2012 年  $\frac{552}{922}$ , 2013 年  $\frac{566}{917}$ , 2014 年  $\frac{551}{926}$ , 可得  $\frac{566}{917} > \frac{553}{908} > \frac{552}{922} > \frac{551}{926}$ , 因此 2011—2014 年, 全国城镇失业人员再就业人数占上年末全国城镇登记失业人数比重的最大值是 2013 年  $\frac{566}{917} = 61.7\%$ 。

故正确答案为 D。

125. 【解析】C。A 项: 2013 年末全国就业人员  $= 77253 - 276 = 76977$  万人, 因为 2014 年末全国第二产业就业人数  $77253 \times 29.9\% = 23099$  万人, 2013 年末全国第二产业就业人数  $= 76977 \times 30.1\% = 23170$  万人, 错误;

B 项: 2014 年城镇就业人员 39310 万人, 比上年末增加 1070 万人, 不是 1322 万人, 错误;

C 项: 2011—2014 年末全国第三产业就业人员占比分别为 35.7%, 36.1%, 38.5%, 40.6%, 占比逐年增加, 正确;

D 项: 2011—2014 年末, 全国城镇登记失业率变化趋势为: 减-增; 城镇登记失业人数的变化趋势为: 增-减-增, 错误。

故正确答案为 C。