

# 2016下半年事业单位联考真题

## 《职业能力倾向测验》

(经济类)

文政公务员  
江苏公务员考试中心



江苏公务员考试信息



江苏事业单位招聘信息





# 2016 年下半年江苏省事业单位笔试经济类

## (会计、审计类)

### 第一部分 综合知识

一、单项选择题 (在下列选项中选择最恰当的 1 项, 并用 2b 铅笔在答题卡相应题号涂黑所选答案项的信息点, 在试卷上作答一律无效。在试卷本大题共 60 小题, 共 60 分)

- 2016 年 10 月 24 日至 27 日, 中国共产党十八届六中全会在北京召开, 会议的主题是 ( )。  
A. 全面深化改革  
B. 全面依法治国  
C. 全面建成小康社会  
D. 全面从严治党
- 2016 年 11 月, 国务院办公厅印发《关于全面推进政务公开工作的意见, 实施细则》, 提出要着力推进“五公开”, 下列对应不一致的是 ( )。  
A. 交通部门发布决策草案的征求意见——决策公开  
B. 国资部门公开国有资产交易监管信息——执行公开  
C. 国政部门公开社会救助项目落实情况——结果公开  
D. 人社部门发布公共服务项目办事指南——服务公开
- 2016 年 9 月 4 日, 二十国集团领导人第十一次峰会在中国杭州举行。会议通过《二十国集团领导人杭州峰会公报》, 进一步明确了合作的发展方向、目标、举措, 就推动世界经济增长达成“杭州共识”, 关于此次峰会, 说法不正确的是 ( )。  
A. 核准并通过了《二十国集团创新增长蓝图》  
B. 中国首次提出“自己安全也要别人安全”的重要理念  
C. 中国首次把绿色金融议题引入二十国集团议程  
D. 发起《二十国集团支持非洲和最不发达国家工业化倡议》
- 长征是一次体验真理的伟大远征, 长征的胜利使中国共产党进一步认识到, 只有把马克思主义基本原理同中国革命具体实际集合起来, 独立自主解决中国革命的重大问题, 才能把革命事业引向胜利。这是在血的教训和都中考验中得出的真理。上述这段话突出体现的哲理是 ( )。  
A. 实践对认识的决定作用  
B. 意识对物质的能动作用  
C. 社会意识反映社会存在  
D. 经济基础决定上层建筑
- 2016 年 5 月在, 中共中央, 国务院印发《国家创新驱动发展战略纲要》提出创新驱动是一个系统性的变革, 要按照“坚持双轮驱动, 构建一个体系, 推动六大转变”, 进行布局, 构建新的发展动力系统, 这里的“双轮驱动”是指 ( )。  
A. 原始创新和集成创新  
B. 企业创新和高等院校创新  
C. 理论创新和应用创新  
D. 科技创新和体制机制创新
- 某省建设全省办公“一张网——电子政务网, 形成了全省上下互联互通, 省市县乡四级信息共享, 有限与移动并行的办公网络, 全省公务人员可实现跨地区、跨部门、跨层级信息共享和联动办公, 所有非涉密文稿可在各级各部门之间无障碍传递, 对于该省的做法, 下列说法不正确的是 ( )。  
A. 有利于打破“信息壁垒”  
B. 有利于群众及时获取信息  
C. 有利于提升政务办公效率  
D. 有利于行政办公低碳环保
- “放管服”即是要简政放权、放管结合、优化服务, 深化“放管服”改革, 是推动经济社会持续健康发展的战略措施, 是一场牵一发动全身的深刻改革, 对于“放管服”改革的认识, 下列理解不正确的是 ( )。  
A. 这是转变政府职能的重要抓手  
B. 这是全面深化改革的主要内容  
C. 这是推动经济体制改革的关键所在  
D. 有利于激发市场活力和社会创造力
- “法律只有被信仰, 才能被切实地遵守。”对此。下列理解正确的是 ( )。  
A. 为了保证法律被信仰, 人们才需要遵守法律  
B. 法律史强制的行为规范, 因而被人们信仰  
C. 只要人们遵守了法律, 就是对法律的信仰  
D. 人们不信仰法律, 就不能切实遵守法律
- 黄某在自己的微信公众号发表了一篇生活日记, 崔某未经许可便在自己的公众号上转载了该篇日记, 但注明了作者和出处, 对此。下列说法不正确的是 ( )。  
A. 黄某可以要求崔某停止转载  
B. 崔某没有侵犯黄某的署名权  
C. 崔某没有侵犯黄某的发表权  
D. 崔某起凡了黄某的隐私权



10. 某市质监部门在对 S 商场电梯进行安全检查时, 发现该商场正在使用的一部电梯存在安全隐患。对此, 该质监部门的做法不合法的是 ( )。

- A. 向媒体通报上述检查的相关信息
- B. 责令 S 商场立即改正, 消除隐患
- C. 对该电梯立即采取查封措施
- D. 责令 S 商场停止使用该电梯

11. 经济学研究怎样配置资源以满足人们无限的需求。下列有关“资源”的说法正确的是 ( )。

- A. 已经被人类开发利用的就不再是资源
- B. 世界上无论何种经济资源都是稀缺的
- C. 空气、阳光、水资源能充分满足需要
- D. 对自然资源进行使用不需要支付成本

12. 关于燃放鞭炮造成的大气环境污染, 下列说法正确的是 ( )。

- A. 二氧化硫和一氧化碳的浓度明显增高
- B. 含有三氧化二铁的可吸入颗粒物超标
- C. 污染物排放到周围水体中引起水污染
- D. 与化工排放的废气甲烷构成重复污染

13. 一般情况下不宜吃很热很烫的食物。下列与此相关的说法不正确的是 ( )。

- A. 很热很烫的食物的温度通常在  $70^{\circ}\sim 80^{\circ}$  之间
- B. 很热很烫的食物将会烫伤口腔黏膜和食管壁
- C. 人们在进食时不能接受温度超过体温的食物
- D. 长期吃很热很烫的食物可能引起口腔的癌变

14. 保护产权是依法治国的主要标尺。一切个人拥有的财产, 只要是合法取得, 即应得到法律的严格保护, 未经正当法律程序, 不得被非法侵犯和剥夺。在法治社会, 一切产权的变动、限制和剥夺, 都需要通过法定程序和法定方式来完成。如果国家为了公共利益确需征收征用公民、法人的财产, 除应严格限定公共利益的范围和支付公平合理的补偿, 还应当赋予公民寻求司法救济的权利。

这段文字未涉及的内容是 ( )。

- A. 产权保护需要恪守物权法定原则
- B. 产权保护需要不断完善产权制度
- C. 产权保护需要秉持正确的执法理念
- D. 产权保护需要履行既定的法律程序

15. 在市场竞争中形成的品牌优势、稳定的产品需求和良好的经营绩效, 是吸引金融资本的重要因素。因此, 培育发展从事专业化、标准化、规模化生产经营的合作组织等新型农业经营主体, 是解决现代农业发展中金融供给不足问题的有效举措。只有专业化、标准化、规模化, 才能提高生产效率、确保产品品质, 进而形成品牌优势。在实践中, 一些地方政府推动建立了一批现代农业示范区、农业综合开发园区以及多种形式的新型农业合作组织, 提高了农业生产水平和效率, 有效吸引了金融资本进入农业, 促进了现代农业发展。

这段文字主要强调的是 ( )。

- A. 进一步强化农业领域的市场竞争机制与利益分配机制
- B. 现代农业综合开发园区等新型农业合作组织大有可为
- C. 创新农业组织形式以实现金融资本与现代农业有效对接
- D. 专业化、标准化、规模化生产经营是现代农业的根本出路

16. 常绿树并非真的不落叶。实际上, 落叶树和常绿树的树叶都是要脱落的, 区别在于, 叶子是树枝上生存的长短不一, 落叶树的叶子一般仅存活几个月, 而常绿树种的冷杉叶子可活 12 年, 松树叶子可活 3~5 年。因此, 每当冬季来临, 落叶树的叶子同时枯死脱落, 而常绿树往往是新叶长出老叶才脱落。而且, 常绿树的叶子一般细而厚, 表面有一层蜡质, 水分蒸发较慢, 鲜因缺水枯死。这样从全树来看就终年常绿, 所以, 有“松柏长青”的说法。

这段文字适合做标题的是 ( )。

- A. 松柏长青的秘密
- B. 树叶的不同命运
- C. 落叶树与常绿树
- D. 树木的新陈代谢

17. 公共文化投资项目则是在政府主导下, 以政府、企业及其他非营利组织单独或合作的方式向人民群众提供文化产品和服务的一系列建设或活动项目。政府部门不可能也没有必要独自提供所有的公共文化产品, 通常可以通过扶持企业等非政府组织的方式间接提供公共文化服务, 从而提高公共文化产品的供给效率。那么, 在众多的公共文化投资项目中, 政府应该扶持哪一个项目? 其选择的科学依据是什么?



这段文字接下来讨论的可能是 ( )。

- A. 公共文化投资项目的管理规范与运行规则
- B. 公共文化产品的投入可否完全由政府买单
- C. 公共文化投资项目的内涵、特征以及风险
- D. 如何提高公共文化产品和服务的供给效率

18. 要提高城乡规划的科学水平,除了要充分发挥专业机构的作用、遵循相关标准外,更重要的是在规划编制过程中,统筹好与相关部门、相关领域、相关规划等之间的关系,确保规划的综合性和前瞻性。编制城乡规划的专业单位和主管部门要加强对规划区域的深入研究,掌握更为详尽的数据,做好科学研判,形成符合当地自然历史条件和发展前景要求的规划蓝图。

这段文字着重强调的是 ( )。

- A. 要切实提高城乡规划编制的科学化水平
- B. 要加强城乡规划与其他规划的数据共享
- C. 要注重依托地域文化资源编制城乡规划
- D. 要协调好各方面关系确保城乡规划实施

19. 目前我国消费品市场缺乏高技术含量、高附加值、符合居民消费结构升级方向的新产品、新供给。尤其是在部分消费品细分市场上,供给创新升级不够迅速直接导致消费需求增长放缓。国家信息中心经济预测部高级经济师祁京梅认为,供给侧结构性改革有望通过去产能、去库存等措施,把优质资源转移到适合消费升级的产业部门上来,促进产品质量提升,促进产业转型升级,为扩大消费创造优质和可持续的新增需求。

这段文字主要强调的是 ( )。

- A. 我国国民的消费方式正在发生深刻变革
- B. 消费品细分市场亟待进行深度研究分析
- C. 消费升级与供给侧改革可形成良性互动
- D. 传统产业持续去产能、去库存势在必行

20. 我们现在讲地名的时候,往往忽略了它们的时间概念和意义,因为从空间范围讲一个地名,无论点还是面,是通过地理坐标,用具体界限划定的。但是任何一个空间范围其实都与一定的时间范围相联系,这个时间范围有的长有的短,在这个时间范围里面又与很多地名以外的事物和因素相联系,所以地名除它们的本意之外,还有其历史的、文化的、社会的、民族的等各方面的意义。

以下概括不符合文意的是 ( )。

- A. 地名代表了一种空间和时间范围
- B. 地名标识了一种空间地理位置
- C. 地名含有多重社会历史文化意义
- D. 地名的时间意义重于其空间意义

21. 任何人都不准把党的干部当作私有财产,党内不准搞人身依附关系。规范和纯洁党内同志交往,领导干部对党员不能\_\_\_\_\_,党员对领导干部不能\_\_\_\_\_。

依次填入文中画横线处最恰当的一项是 ( )。

- A. 颐指气使 阿谀奉承
- B. 目空一切 吹牛拍马
- C. 恃才傲物 低眉须眼
- D. 视如草芥 曲意逢迎

22. QQ 隐身表现了一种\_\_\_\_\_的交际策略,即明明期待他人找自己聊天,\_\_\_\_\_故意隐身起来,表现出一副怕打扰的样子。

依次填入文中画横线处最恰当的一项是 ( )。

- A. 欲擒故纵 却
- B. 欲扬先抑 还
- C. 欲说还休 但
- D. 欲言又止 又

23. 移动互联网用户增速迅猛,带动了商业与服务的\_\_\_\_\_,又驱动着中国互联网企业踏上\_\_\_\_\_国际化业务的战略新征程。

依次填入文中画横线处最恰当的一项是 ( )。

- A. 创造开创
- B. 创新开拓
- C. 创办开展
- D. 创意开办

24. 新闻工作者必须学好用好群众语言多一些短话、\_\_\_\_\_,新话,少一些大话、空话、\_\_\_\_\_,让人们爱读爱听爱看,实现最佳\_\_\_\_\_效果。

依次填入文中画横线处最恰当的一项是 ( )。



- A. 真话 假话 宣传                      B. 实话 废话 新闻  
C. 实话 套话 传播                      D. 真话 套话 播放

25. 老兵老了, 70 年前, 他们正值\_\_\_\_\_, 甘洒一腔热血, 捍卫社稷百姓; 今天, 他们一个个步入\_\_\_\_\_, 其中很多人甚至来不及承接鲜花与美誉, 就在沉默与凄凉中故去, 令人\_\_\_\_\_

依次填入文中画横线处最恰当的一项是 ( )。

- A. 风华正茂 耄耋之年 辛酸                      B. 豆蔻年华 烈士暮年 唏嘘  
C. 青春年少 风烛残年 心酸                      D. 青葱岁月 古稀之年 心痛

下列 26~30 题中, 分别给出了 5 个事件, 请你从备选答案中选出 5 个事件排序最合理的一项。

26. ①有人小声说: “他就是军需处长……”  
②姜俊举起右手, 向被冰雪覆盖的军需处长敬军礼  
③将军吼道: “军需处长呢? 为什么不给他发棉衣?”  
④一个衣着单薄的老战士冻僵在山顶  
⑤姜俊率领战士们翻越雪山

- A. ⑤-④-③-①-②                      B. ⑤-④-②-③-①  
C. ④-③-⑤-①-②                      D. ③-⑤-④-①-②

27. ①查尔德回到印度教授少林文化  
②查尔德学会了后空翻等功夫动作  
③查尔德跟随少林武僧表演团到全球表演  
④查尔德进行了膝盖手术  
⑤查尔德来到少林寺进行术后恢复

- A. ④-③-⑤-①-②                      B. ③-⑤-④-①-②  
C. ⑤-④-③-①-②                      D. ④-⑤-②-③-①

28. ①能淡化海水的石墨烯薄膜研发成功  
②研究团队用石墨烯材料制成薄膜  
③石墨烯薄膜投入大规模生产  
④研究团队测试薄膜淡化海水能力  
⑤石墨烯薄膜销往世界各地

- A. ②-①-⑤-③-④                      B. ⑤-②-①-④-③  
C. ②-①-⑤-④-③                      D. ②-④-①-③-⑤

29. ①郭师傅昏迷倒地  
②郭师傅写下六个字: 护士还没吃饭  
③医护人员全力抢救 13 小时  
④郭师傅苏醒  
⑤郭师傅要来纸笔

- A. ③-④-②-⑤-①                      B. ①-③-②-⑤-④  
C. ①-③-④-⑤-②                      D. ⑤-①-②-③-④

30. ①鸡苗被送到贫困农户手中  
②小赵每天上传微信步数  
③小赵用步数兑换了一批鸡苗  
④小赵累积步数达到 10 万步  
⑤步数换鸡苗的扶贫公益活动启动

- A. ⑤-①-④-③-②                      B. ⑤-②-③-①-④  
C. ②-③-①-④-⑤                      D. ⑤-②-④-③-①

下列 31—33 题中, 分别给出了一个数列, 缺少其中一项, 要求你仔细观察数列的排列规律, 从四个选项中, 选择最合适的一项, 使之符合原数列的排列规律。

31. 2, 5, 14, 41, 122, ( )

- A. 386                      B. 365                      C. 286                      D. 265

32.  $\frac{1}{2}, \frac{5}{7}, \frac{4}{5}, \frac{11}{13}, \frac{7}{8}, ( )$



- A.  $\frac{15}{17}$       B.  $\frac{16}{17}$       C.  $\frac{17}{19}$       D.  $\frac{18}{19}$

33. 2. 14, 4. 24, 11. 55, 3. 12, 9. 27, ( )

- A. 7. 14      B. 8. 18      C. 13. 21      D. 16. 48

下列 34~38 题中, 每道题先给出一组相关的词, 请你在备选答案中找出一组与之在逻辑关系上最为贴近、相似或匹配的词。

34. 燕子: 鸽子

- A. 玄武: 朱雀      B. 五岳: 泰山  
C. 梧桐: 水仙      D. 热水器: 油烟机

35. 家庭: 家风

- A. 行家: 行风      B. 作家: 文风  
C. 工作: 作风      D. 学校: 学风

36. 购物: 导购

- A. 乘车: 乘务员      B. 护理: 护工  
C. 饭店: 服务员      D. 网购: 快递员

37. 导弹之于 ( ) 相当于老鹰之于 ( )

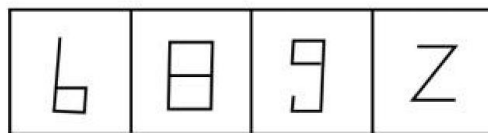
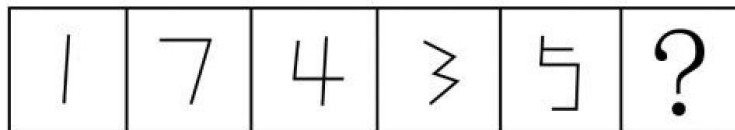
- A. 武器——飞禽      B. 部队——打猎  
C. 宇宙——天空      D. 火箭——野兔

38. 微信之于 ( ) 相当于 ( ) 之于运动

- A. 通讯——慢跑      B. 朋友圈——奥运会  
C. 微博——游泳      D. 点赞——马拉松

下列 39-42 题中, 左边给出了 5 个图形请你从右边的四个图形中选出唯一的一项, 作为保持左边五个图形规律的第六个图。

39.



A      B      C      D

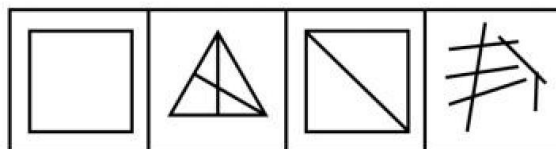
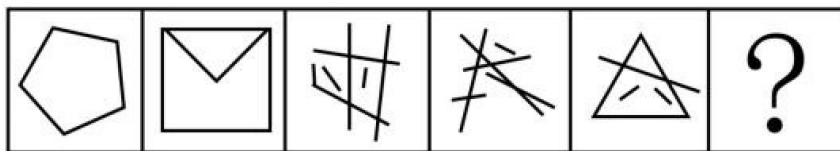
A. A

B. B

C. C

D. D

40.



A      B      C      D

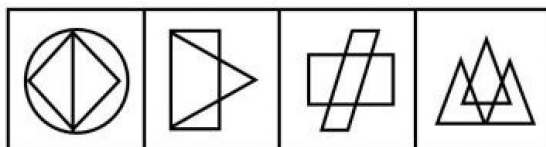
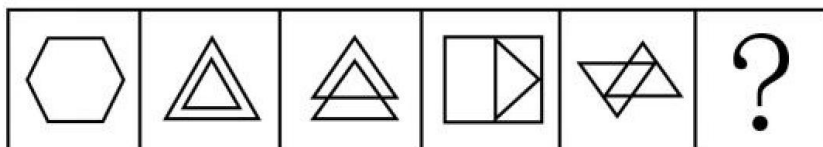
A. A

B. B

C. C

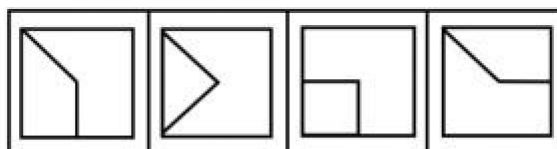
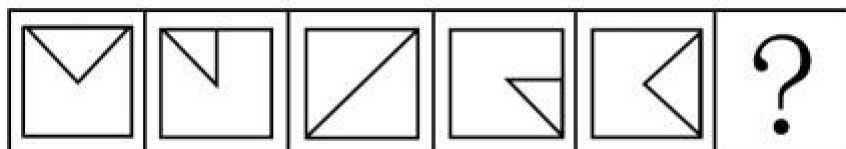
D. D

41.



A B C D

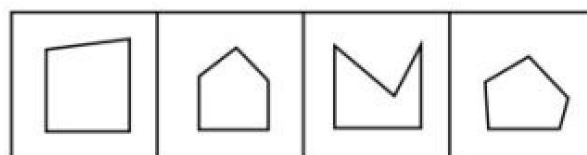
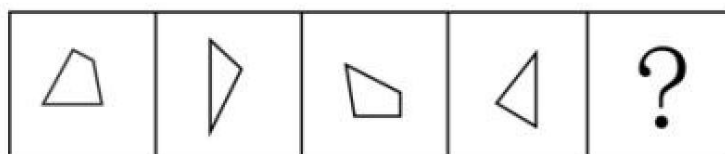
42.



A B C D

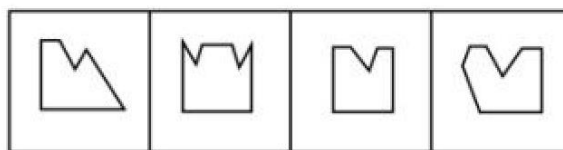
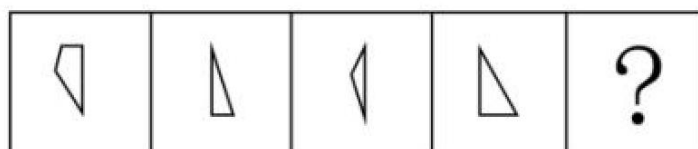
下列 43-45 题中, 右边给出了四个图形, 只有一个是 由左边的四个图形拼合 (只能通过上、下、左、右平移) 而成的, 请你把它找出来。

43.



A B C D

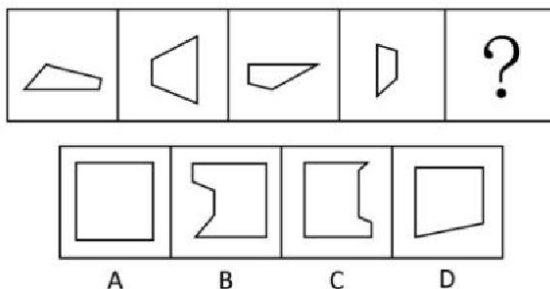
44.



A B C D

45.





46. 补偿性消费:指消费者通过消费来应对心理焦虑,补偿内心缺失的行为。

假设这个定义是正确的,不容置疑的,则下列属于补偿性消费的是( )。

- A. 高先生下班高峰时段在路上被堵了一个小时,头脑发胀,口干舌燥他决定去买一瓶冰镇饮料降降火。
- B. 李女士因家务繁杂与老公吵了一架,气愤的离开家之后,她独自一个人去逛街,为自己买了许多新衣服。
- C. 因为近段时间工作压力很大,小李打算周末约上一群朋友去郊外的草坪上踢一场球,放松一下心情。
- D. 小王的婚期将近,他的父亲坚决要大摆筵席,认为不请客就收不回以前的人情投资,为了补偿以前的支出,他们在饭店订了几十桌酒席。

47. 底线意识:指做人做事都能自觉意识到底线在哪里,时刻牢记越过底线的严重后果,始终警醒自己坚持底线,严格自我约束,这个底线包括法律底线,纪律底线,政策底线和道德底线。

假设这个定义是正确的,不容置疑的,则下列属于底线意识的是( )。

- A. 学校文明规定,上课不能玩手机,但语文课上依然有很多同学在玩手机,章老师坚持原则,毫不手软,没收了二十多部手机,准备期末交还给家长。
- B. R 网络平台拥有庞大的用户资源,在互联网产品研发中,该平台始终关注产品伦理问题,明确所有产品设计都不能围着荷尔蒙打转,不忘企业应承担的社会责任。
- C. 某家居企业的产品因不符合欧盟标准在出口时被退回。为此,公司从欧盟国家引进先进的生产和检测设备,使品质管控比肩欧盟标准,推动产品质量不断提升。
- D. 小汤所在公司已经两次裁员。面对巨大压力,他开始估算可能出现的最差情景,比如降职、失业等等。当他设想接受最差的情况时,发现自己的恐惧感消失了。

48. 网宅经济:指在网络科技的支持下为满足宅生活而兴起的一种新的经济模式。他使人们足不出户就可以通过网络订购满足需求。

假设这个定义是正确的、不容置疑的,则下列属于网络宅经济的是( )。

- A. 某搜索引擎推出懒人搜索,不用打字直接说出要查询的关键词,搜索结果就会显示出来。
- B. 调查显示,有 8 成购书者过去一年没有去过实体店,而是采取网购的形式获取所需的书籍。
- C. “有事您动嘴,办事我跑腿,一个电话就 OK。”代办证件、代购代送、酒后代驾,跑腿公司的业务越来越火。
- D. 打网络游戏是小胖赚生活费的一个渠道。卖个装备能挣 100,带小号升级能挣 300。玩着还能赚钱,小胖乐此不疲。

49. 周边产品:指利用动漫、游戏、影视剧中作品中的角色、场景、道具、标识等经授权后制成的产品。

假设这个定义是正确的,不容置疑的,则下列属于周边产品的是( )。

- A. 《金丝猴 III》首映日,影片发行方推出了金丝猴为主体的玩偶、手环、钥匙扣、文具等,被影迷抢购一空。
- B. 电视剧《来自月亮的我》热播,剧中女主角使用的音乐手机也受到剧迷追捧,许多手机厂家看准商机,纷纷推出类似的音乐手机。
- C. “夏夜”主题餐厅开业一个月来,主打饮料“夏夜”销量破百万杯,该款饮料是获奖小说《夏夜》中男主角的最爱。
- D. 国产网络《苏州河》在日本受到热捧,日本旅行社推出了“苏州和浪漫之行”的主题游,组织很多玩家到上海,江苏等地进行为期四天三晚的中国游。

50. 隐性失业:指劳动者有固定工作岗位和劳动能力,但工作量不足,未能充分发挥作用的状态。

假设这个定义是正确的,不容置疑的,则下列属于隐性失业的是( )。

- A. 毕业求职的小于四处碰壁,朋友介绍了一份资料翻译的工作给她,两周后他完成了这项工作并获得了报酬。
  - B. 因公司业务萎缩,销售骨干小张过起了清闲日子,为避免被列入裁员“黑名单”他主动向老板提出降薪。
  - C. 老李从企业病休后,原单位每月向他发放基本工资,而他本人则在社会上找了一份零时工补贴家用。
  - D. 随着网络经济的发展,大量实体店的销售岗位被削减,同时许多网上营销岗位却虚位以待,招不到合适的人才。
51. 数据显示,近年来,我国个税收入一直稳步增长,缴纳个税的人数也不断增加,但缴纳个税的人数也不断增加,但缴



纳税的人数占总人口的比例始终保持在 2% 左右。工薪阶层作为个税缴纳的主体，在总纳税额中始终占 70% 左右。

据此，可以推出 ( )。

- A. 近年来个税起征点始终保持稳定
- B. 近年来我国居民平均收入稳步增长
- C. 近年来不缴纳个税的人数不断增加
- D. 缴纳个税的工薪阶层人数不断增加

52. 在元旦 3 天假期中，市卫生部门分别安排人民医院、脑科医院、市中医院和妇幼保健院进行义诊，要求每天安排 2 家医院；人民医院不能安排在第一天；脑科医院和人民医院同时义诊，市中医院和妇幼保健院同时义诊；如果市中医院没有安排在第二天，那么脑科医院就安排在第一天。

据此，可以推出 ( )。

- A. 人民医院一定在第二天义诊
- B. 脑科医院一定在第三天义诊
- C. 市中医院不会在第一天义诊
- D. 妇幼保健院不会在第二天义诊

53. 有数据表明，适量饮酒的人群比滴酒不沾的人群整体健康水平更高。这说明，适量饮酒有利于身体健康。

以下各项如果为真，最能质疑上述观点的是 ( )。

- A. 酒精对一些关节疾病有一定的疗效，而对大多数消化系统和神经系统疾病有负面作用。
- B. 一般情况下，身体健康的人更倾向于适量饮酒，而健康问题更容易成为人们拒绝烟酒的原因。
- C. 适量饮酒者往往比滴酒不沾的人更乐观、自信，对自我评价更高，精神上的愉悦有助于身体的健康。
- D. 所谓饮酒的适量往往因人而异，调查显示，高纬度地区人们饮酒量更大，而低纬度地区的饮酒量则相对较小。

54. 针对 A 和 B 两位候选人的民意支持率调查数据显示，对 A 的支持率大大超过了 B，但终选举结果却出现了 B 的支撑票数大大超过 A，最终赢得了选举，由此可以说明，此次民调数据不可信。

以下各项如果为真，最能加强上述论证的是 ( )。

- A. 民意调查的样本数量太少，只有 1651 人，不具有代表性，而且误差范围高达 4%。
- B. 此次选举中大学以下教育程度的选民投票率大大提高，而这些选民多数是 B 的支持者。
- C. 民调数据受到了主流媒体的影响、操纵甚至恶意篡改，而这些媒体大多是 A 的坚定支持者。
- D. 民意调查采用随机抽取并拨打电话的方式，这种方式只能打固话，而全国半数以上人口不使用固话。

55. 某区从 8 月份以上启动“文明交通志愿者”活动，每天组织近 300 名文明交通志愿者到早晚高峰路段上岗，引导行人不闯红灯，文明出行。活动开展三个多月以来，行人闯红灯的老大难问题得到了有效整治，行人交通违章行为有了明显下降，可见，“文明交通志愿者”活动，可以有效治理交通违章，改善交通环境。市公安局决定在全市范围内推广该活动。

以下各项如果为真，最能削弱上述论证的是 ( )。

- A. 行人并非自愿遵守交通法规，一旦没有了志愿者监督，违章行为还会上升。
- B. “文明交通志愿者”活动增加了交通执法的成本，数百人的人力动员没有可持续性。
- C. 行人违章在交通违章中所占比例很低，交通环境改善的重点在于机动车的遵章守法。
- D. 8 月以来，行人违章引发的交通事故仅 8 起，与去年同期相比数量明显下降。

**根据所给资料回答 56—60 题：**

2016 年 10 月份，我国规模以上工业原油产量降幅较大，天然气产量有所下降，进口量继续保持快速增长。10 月份，原油产量 1605.1 万吨，由 9 月份的同比下降 9.8%，转为同比下降 11.3%；天然气产量 108.3 亿立方米，由 9 月份的同比增长 0.1%，转为同比下降 1.4%。1~10 月份，原油进口量 31228 万吨，同比增长 13.6%，原油进口量占产量与进口量之和的比重已达到 65.2%，比去年同期提高了 4.6 个百分点；天然气进口量 4338 万吨，同比增长 21.1%，天然气进口量占产量与进口量之和的比重已达到 35.0%，比去年同期提高了 2.7 个百分点。

56. 2016 年 10 月我国规模以上工业原油、天然气产量同比速度分别比 9 月 ( )

- A. 下降 1.4 个百分点、上升 0.5 个百分点
- B. 上升 0.1 个百分点、下降 1.4 个百分点
- C. 下降 1.5 个百分点、下降 1.5 个百分点
- D. 上升 1.5 个百分点、下降 1.4 个百分点

57. 2016 年 10 月我国规模以上工业原油产量约占 1—10 月份总产量的 ( )

- A. 21%
- B. 16%
- C. 12%
- D. 10%

58. 2016 年 1—10 月份我国规模以上工业天然气产量约为 ( )

- A. 31228 万吨
- B. 16668 万吨
- C. 8056 万吨
- D. 4338 万吨

59. 2016 年 2—10 月份，我国规模以上工业原油进口量月同比增速比截止到上月年内累计增速有所下降的月份有 ( )



- A. 2 个                      B. 4 个                      C. 6 个                      D. 8 个
60. 下列关于 2016 年我国规模以上工业天然气进口量同比增速的说法不正确的是 ( )
- A. 第 3 季度的同比增速为 22.7%                      B. 第 2 季度的同比增速高于第 1 季度
- C. 2 月份的同比增速为 18%                      D. 1 月份的同比增速为 22.3%

## 第二部分 专业知识和专业能力

一、单项选择题 (在下列选项中选择最恰当的 1 项,并用 2B 铅笔在答题卡相应题号涂黑所选答案项的信息点,在试卷上作答一律无效。本大题共 10 小题,每小题 0.5 分,共 5 分)

61. 当市场失灵时,政府需要发挥其对经济调控作用,下列选项属于政府对经济进行直接调控的措施是 ( )
- A. 制定规章制度,规范企业经济行为
- B. 提高利率水平影响货币供给量
- C. 增加公共产品供给促进居民消费
- D. 回购商业票据抑制物价变动水平
62. 在供给侧结构性改革过程中,下列措施能够降低实体经济企业经营成本的是
- A 对库存原材料按照市价确定价值                      B 根据业务发生目的汇率计算损益
- C 采取年限分摊法确定资产的这就                      D 营业税全部改按增值税进行计征
63. 依据会计准则,某些资产在计提减值准备后,若价值得到恢复则准备金可以转回。下列符合这一规定的资产是
- A 固定资产                      B. 无形资产                      C 存货                      D 长期股权投资
64. 2016 年 9 月,某企业外购一台设备用于扩充再生产,取得的增值税专用发票注明价款 10 万元,增值税税金 1.7 万元,另外支付装卸费 1000 元,保险费 500 元。假设该设备无需安装,则其入账价值是
- A. 10 万元                      B. 10.15 万元                      C. 11.7 万元                      D. 11.85 万元
65. 某企业年末应收及预付款余额如下,应收账款 100 万,应收你款额 50 万,其他应收款 20 万,预付款 10 万。若实行余额百分比按 3% 的坏账准备,该企业年末应提的坏账准备是 ( )
- A. 3.6 万                      B. 3.9 万                      C. 5.1 万                      D. 5.4 万
66. 下列属于会计控制中预防性控制措施的是 ( )
- A 总账与明细账的核对                      B. 月末对库存现金余额进行盘查
- C. 现金与支票的连续编号                      D. 现金库存簿与实际现金的核实
67. 某公司承建了由财政拨款的河道整治系统工程,审计部门到该工程视察发现大部分问题还没有整治,审计部门采用的这种审计方法是 ( )
- A. 观察法                      B 分析法                      C 核对法                      D 审阅法
68. 某公司 2015 年 12 月 30 日收到货物一批,金额 120000 元,购货发票于 2016 年 1 月 6 日收到,发票日期为 2015 年 12 月 28 日,该公司会计将此笔业务收入计入 2016 年 1 月份交易中。此时,审计应重点关注的是
- A 应付账款交易是否真实发生                      B 账务记载是否在正确的会计期间
- C 应付账款记账金额是否正确                      D 货物质量及数量是否与合同相符
69. 某连续变量分为 5 组:第一组为 0-25,第二组为 25-50,第三组为 50-75 第四组为 75~100. 第五组为 100 以上,根据计分组的原则,下列说法正确的是
- A. 25、40 分别属于第一、第二组                      B. 50、75 属于第二、第三组
- C. 75、90 分别属于第三、第四组                      D. 90、10 属于第四、第五组
70. 某班 5 名学生的经济学课程考试成绩分别为 77、78、82、85、94,下列对于上述成绩统计不正确的是
- A. 算数平均数是 84                      B 众数是 85
- C. 全距是 17                      D 中位数是 82

二、多项选择题 (在下列选项中至少有 2 项是符合愿意的,请用铅笔在答题卡相应题号下涂黑所选答案项的信息点,不选或少选均不得分,本大题共有 5 小题,每小题 1 分)

71. 自上海自贸区十点之后,我国又批准了广东、福建、天津作为第二批自贸区试点,辽宁、浙江、河南、湖北、重庆、四川、山西作为第三批自贸区试点。下列关于我国自贸区试点扩容的说法中,正确的有
- A. 中国自贸区按沿海向内地的顺序逐步拓展试点
- B. 中国自贸区的试点已经覆盖了东中西三大区域
- C. 自贸区试点重在探索扩大不同地区的商品出口
- D. 自贸区试点的本质是最大限度促进生产力发展
72. 公共产品是由政府向社会和私人提供的各种产品与服务的总称,下列能够体现公共产品属性的有



- A. 国家武装力量巡航和守卫凌海  
B. 对贫困地区增拨教育卫生经费  
C. 向出口创汇大户发放奖励基金  
D. 通过招标的方式购买办公用品

73. 公司以每股 8 元购入股票 10000 股, 支付佣金 650 元, 有关该股票账务处理正确的有

- A. 资产成本为 80650 元  
B. 资产成本为 80000 元  
C. 佣金计入“投资收益”科目  
D. 佣金计入“财务费用”科目

74. 对某单位使用的 40 万元“绿色环保”财政专项资金金额均在 4 万元以下。根据重要性原则, 下列单笔列支中应作为审计重点的有

- A. 购买树苗 1.21 万元  
B. 支付宣传费 3.96 万元  
C. 购买沙发 0.84 万元  
D. 发放劳务费 1.29 万元

75. 对高校应届毕业生就业情况进行统计研究, 有利于提高高等教育质量。下列关于高校应届毕业生就业情况统计的说法中, 正确的有

- A. 全部应届毕业生是研究的总体  
B. 应届毕业生就业率是统计标志  
C. 应届毕业生的数量是统计指标  
D. 毕业生就业岗位是标志体现

**三、简答题** (本大题共有 2 小题, 每小题 10 分, 共 20 分, 请在答题纸指定位置作答, 在其他位置作答一律无效)

《网络预约出租汽车经营服务管理暂行办法》以下简称办法正式对外公布, 并于 2016 年 11 月 1 日开始实施, 该办法对网约车提出了明确要求和报废标准, 同时规范了网约车的运营价格, 并授权各地出租汽车行政主管部门。按照高品质服务, 差异化经营的发展原则, 结合本地实际情况确定具体的实施细则。

1. 请从经济学的竞争理论角度, 谈谈《办法》实施后可能产生的行业效应。

2. 会计要素是对核算对象的具体化, 并按交易或事项的经济特征所做的基本分类, 是进行会计确认和计量的依据。请简要阐述反应财务状况的会计要素及其相互关系。

**四、综合分析题** (本大题共有 2 小题, 每一题 20 分, 共 40 分, 请在规定的答题纸上作答, 其他位置作答一律无效) 阅读下列材料, 根据要求回答问题

1. 截止到 2016 年 11 月, 中国连续两年成为世界第一大出口国, 同时又是全球遭遇贸易壁垒最多的国家, 中国对世界经济增长的贡献率持续增加, 人民币入篮成为权重第三的货币并履行了相应的义务, 但仍有国家认为中国未成承担应尽的责任, 一带一路战略推进实施以来, 沿线已经有近三分之一国家与中国建立了良好的经贸关系, 中国声音在 APEC、G20 等国际顶级论坛里不断增强, 但有关中国威胁论的话题还不时泛起, 每当国际性重大的经济政治事件出现时, 国内媒体上就会出现所谓中国或成最大赢家的说法, 例如: “英国脱欧”, 中国或成最大赢家、美国放弃了 TPP, 中国或成最大赢家, 等等。

请分析材料, 概括中国融入国际经济合作组织的状况; 你认为中国应当以怎样的心态进一步融入国际经济合作。

2. 某公司主营业务为城建环保工程, 2014 年起主要承接污水处理工程并取得了相应的绩效, 公司内审部门进行了持续审计, 内审部门在制定 2016 年度审计计划时认为, 鉴于内审的职能定位和企业治理结构不够清晰, 为了体现审计的独立性, 无须与管理层及审计对象沟通, 可根据以往年度发现的会计记录不及时、报表披露欠规范、财务数据变动幅度较大等财务问题, 运用风险导向审计确立 2016 年的审计重点。该公司 2014-2015 年财务数据见下表。

某公司 2014~2015 年主要财务

财务项目	2014 年		2015 年		说明
	污水工程一期	污水工程二期	增长金额	增长率	
营业收入	10000	58000	48000	480%	2015 年市建委 欠款 25000 万元
营业成本	9000	36600	27600	307%	
应收账款	6000	35000	29000	483%	

内审部门制定的 2016 年污水工程审计实施方案包括: 审计目标: 财务数据的真实计量的正确性、记录的完整性、信息披露的及时性 (2) 审计重点: 营业收入、营业成本; (3) 审计方法, 运用信息技术实施分析性复合程序; (4) 重要性水平, 采用稳收入法, 按 2015 年营业收入的 0.5% 确立 (5) 时间安排: 见下表。

审计进度安排表

审计进度	时间	说明
分析性复核程序	2016 年 3 月 01-02 日	财务指标分析
控制测试	2016 年 3 月 03-05 日	
实质性测试	2016 年 3 月 06-20 日	



编写审计报告	2016年3月21-24日	
审计报告沟通	2016年3月25-56日	与公司管理层沟通

- (1) 请分析上述材料, 指出该公司内部审计年度计划制定的不妥之处。  
 (2) 根据国际 IIA 审计范围, 分析 2016 年审计方案的局限性并提出改进意见。

五、实务题 (20 分, 请在答题卡上指定位置作答, 在其他位置作答无效)

某事业单位所属 A 企业为增值税一般纳税人, 实行独立核算, 2012 年开始投入运营, 2014 年末, 该企业“利润分配-未分配利润”“科目借方余额”20 万元, 2015 年当年实现总利润 200 万元, 适用 25% 税率缴纳企业所得税。2015 年 8 月 5 日, 该企业购进一批原材料, 价款为 50 万元, 享受供应方提供的“2/20, n/40”的条件, 但企业因资金周转紧张决定放弃上述优惠条件, 并于 9 月 12 日全额支付原材料价款。

在企业所得税汇算清缴期间, 税务人员发现该企业 2015 年存在一些涉税问题, 相关事项及账务处理如下: 一是企业将自产的产品用于发放员工福利, 总价款 25 万元 (不含税), 已结转成本, 但未计入收入, 二是企业支付的环保部门罚金 5 万元、银行罚息 3 万元, 均已在营业外支出列支并在税钱扣除

1. 请说明 A 企业所放弃优惠条件的具体内容, 并计算由此产生的资本成本率。
2. 请列式计算该企业 2015 年的利润率。



# 解析

## 第一部分

### 一、单项选择题

1. 【答案】D。解析：2016年10月24日至27日，中国共产党十八届六中全会在北京召开。全会聚焦了全面从严治党的主题，并明确提出全面从严治党必须以加强和规范党内政治生活作为起点和支点。故本题选D。

2. 【答案】B。解析：“五公开”是指决策公开、执行公开、管理公开、服务公开、结果公开。推进管理公开是指全面推行权力清单、责任清单、负面清单公开工作，建立健全清单动态调整公开机制。推进监管情况公开，重点公开安全生产、生态环境、卫生防疫、食品药品、保障性住房、质量价格、国土资源、社会信用、交通运输、旅游市场、国有企业运营、公共资源交易等监管信息。B项的举措是管理公开。推进执行公开是指主动公开重点改革任务、重要政策、重大工程项目的执行措施、实施步骤、责任分工、监督方式，根据工作进展公布取得成效、后续举措，听取公众意见建议，加强和改进工作，确保执行到位。故本题选B。

3. 【答案】C。解析：在2016年杭州G20峰会上，中国首次把绿色金融议题引入二十国集团议程，核准并通过了《二十国集团创新增长蓝图》，同时，发起《二十国集团支持亚洲和最不发达国家工业化倡议》，A、B、D三项均正确。2012年习近平总书记首次提出“自己安全也要让别人安全”的重要理念，C项说法错误。故本题选C。

4. 【答案】A。解析：“只有把马克思列宁主义基本原理同中国革命具体实际结合起来，独立自主解决中国革命的重大问题，才能把革命事业引向胜利。”表明实践决定认识，实践是检验认识正确与否的唯一标准。故本题选A。

5. 【答案】D。解析：《国家创新驱动发展战略纲要》指出，双轮驱动就是科技创新和体制机制创新两个轮子相互协调、持续发力。一个体系就是建设国家创新体系。故本题选D。

6. 【答案】B。解析：某省建立全省办公“一张网”——电子政务网的做法改变了以往各单位办公系统只能在本单位或系统内传递信息，有利于打破信息壁垒，提高行政效能，降低行政成本，有利于行政办公健康环保，更重要是各地各部门实现了信息资源共享，传统的办公流程不断得到再造。A、C、D三项说法均正确。该省的做法主要是方便了行政内部的信息交流和共享，与群众及时获取信息之间联系不紧密，B项说法错误。故本题选B。

7. 【答案】B。解析：深化简政放权放管结合优化服务改革，是转变政府职能的重要推手，是推进经济体制改革的关键所在，是推动经济社会持续健康发展的战略举措；推动简政放权向纵深发展，更好激发市场活力和社会创造力；推进政府监管体制改革，促进社会公平正义。“放管服”改革不属于全面深化改革的主要内容。故本题选B。

8. 【答案】D。解析：“法律只有被信仰，才能被切实地遵守。”的意思是说人们如果不信仰法律，就不愿意去遵守法律，D项理解正确。A、B、C三项理解均不正确。故本题选D。

9. 【答案】B。解析：张某未经许可便在自己的公众号上传黄某的个人生活日记，其侵犯了黄某的著作权和隐私权，黄某可以要求张某停止转载，B项说法错误，A、D项说法正确。但张某在转载日记时，注明了作者和出处，表明其没有侵犯黄某的发表权。故本题选B。

10. 【答案】C。

11. 【答案】B。

12. 【答案】C。解析：燃放鞭炮时，会产生二氧化硫、二氧化氮等有害气体和烟尘，造成空气污染；还会造成噪音污染、固体废弃物污染等。燃放烟花爆竹还会造成水污染，如果是在下雨或下雪时燃放烟花爆竹，污染物会排放到周围水体之中，污染周围河流；此外燃放烟花爆竹会产生很大的噪声，燃放方式不规范也容易引起火灾。故本题选C。

13. 【答案】C。解析：太热太烫的汤饭会使口腔和舌粘膜烫伤外，还会造成食管粘膜烫伤。损伤的食管粘膜坏死，形成假膜，脱落后就成为溃疡。这种溃疡愈合后，能形成瘢痕，造成食管狭窄，影响正常的进食，长期吃很热很烫的食物易患上食管炎、急性胃炎、食管癌。人的口腔、食管和胃粘膜的耐受温度为50~60℃。C项说法错误。故本题选C。

14. 【答案】B。解析：文段讲个人的合法财产受法律保护，一旦产权变动、限制和剥夺都要通过法定程序和法定方式来完成。A、C、D项都是文段的论述的内容，B项“不断完善产权制度”无从体现。故本题选B。

15. 【答案】C。解析：文段首先提出要吸引金融资本的重要因素，对于农业而言，只有建立新型农业经营主体，才能吸引金融资本的进入。显然，C项创新农业组织形式以实现金融资本与现代农业有效对接是对文段的最好概括。A项属于无中生有，B项说法过于绝对，D项“根本出路”无从体现。故本题选C。

16. 【答案】A。解析：文段首先讲常绿树并非不落叶，而是因为其叶子的生存时间较长，加上叶子一般细而厚，表面有一层蜡质，水分蒸发较慢，很少因缺水枯死，所以才会有“常绿”的说法。显然，文段围绕“常绿树”展开论述，先排除B、D项。C项落叶树并不是文段重点论述对象，排除。A项“秘密”正好是对常绿树“常绿”原因的分析，最适合作为标题。故本题选A。



17. 【答案】C。解析：文段最后一句讲政府应该依据什么标准去选择、扶持一个公共文化投资项目。C项“内涵、特征以及风险”正是“科学依据”的评判标注，最可能是接下来要讨论的内容。A项“管理规范与运行规则”只有政府在选择之后才能实行；B、D项均未提及“公共文化投资项目”。故本题选C。

18. 【答案】D。解析：文段讲城乡规划编制要重点统筹好与相关部门、相关领域等之间的关系，只有这样，才能确保城乡规划的编制更符合当地的自然条件和发展前景要求。显然，文段重点讲城乡规划的编制要协调好各方面关系。故本题选D。

19. 【答案】C。解析：文段学者认为我国消费品市场因为供给创新不足导致消费需求放缓，而供给侧改革有望促进产品质量的提升和产业的转型升级，为消费创造优质和可持续的新增需求。由此可知，文段主要强调供给侧改革的作用，只有C项提到“供给侧改革”。故本题选C。

20. 【答案】D。解析：A项正确，由“但是任何一个空间范围其实都与一定的时间范围相联系”可得知；B项正确，由“从空间范围讲一个地名，无论点还是面，是通过地理坐标，用具体界限划定的”可得知；C项由“地名除了它们的本意之外，还有其历史的、文化的、社会的、民族的等各方面的意义”可得知；D项地名的“时间意义”和“空间意义”孰轻孰重，文段无从体现。故本题选D。

21. 【答案】A。解析：直接看第一空，先排除B、C项，“目空一切”和“恃才傲物”均是动宾型成语，无法与论述对象“党员”并用；D项“视如草芥”与“党员”无法搭配，可以表述为“视党员如草芥”，排除。验证A项，“颐指气使”形容有权势的人指挥别人的傲慢态度，“阿谀奉承”指曲从拍马，迎合别人，竭力向人讨好，二者均符合语境。故本题选A。

22. 【答案】A。解析：第一空先辨析四个成语：“欲擒故纵”泛指为了更好地控制，故意先放松一步；“欲扬先抑”指要发扬、放开，先控制、压抑；“欲说还休”形容情意复杂而又难以表达；“欲言又止”形容有难言的苦衷。根据后文意思，可先排除C、D项。第二空表达强烈的转折意思，“却”更符合语境，排除B项。故本题选A。

23. 【答案】B。解析：先看第二空，宾语是“新征程”，显然，“开展”和“开办”无法与之搭配，排除C、D项。再看第一空，“创造”无法与“商业与服务”搭配，排除A项。故本题选B。

24. 【答案】C。解析：先看第三空，主语是“新闻工作者”，与之搭配的谓语不能是“新闻”或“播放”，先排除B、D项。再看第二空，“大话”“空话”均是虚幻的，用“套话”与之并列最贴切，排除A项。验证第一空，“实话”符合语境。故本题选C。

25. 【答案】C。解析：先看第三空，“辛酸”（指悲苦伤痛）和“心痛”的语气均过重，排除A、D项。再看第一空，“豆蔻年华”指女子十三四岁时，无法修饰“老兵”，排除B项。验证第二空，“风烛残年”比喻人到了接近死亡的晚年，符合语境。故本题选C。

26. 【答案】A。解析：看见④一个穿着单薄的老战士冻僵在山腰，③将军才会吼道：“军需处长呢？”，接下来才有人回答道：“他就是军需处长……”，因此④③①紧密衔接，锁定A项。验证A项，符合逻辑。故本题选A。

27. 【答案】D。解析：事件的起因是④查尔德进行膝盖手术，⑤需要到少林寺进行术后恢复，②在少林寺学会了后空翻等功夫动作，③之后跟随少林武僧表演团到全球表演，①最终回到印度传授少林文化。故本题选D。

28. 【答案】D。解析：题干讲述的是石墨烯薄膜被研发成功，且最终销往世界各地的时间，因此⑤排在末尾，且③石墨烯薄膜大规模生产之后才能销往世界各地，因此③⑤紧密衔接，锁定D项。验证D项，符合逻辑。故本题选D。

29. 【答案】C。解析：事件起因是①郭师傅昏迷倒地，排除A、D项。且②写下六个字应在④郭师傅苏醒之后，排除B项。故本题选C。

30. 【答案】D。解析：事件起因是⑤步数换鸡苗的扶贫公益活动启动，最终目的是将①鸡苗送到贫困农户手上，D项当选。验证D项，符合逻辑。故本题选D。

31. 【答案】B。解析：原数列符合如下规律： $a_{n+1}=a_n \times 3 - 1$ ，即 $5=2 \times 3 - 1$ ， $14=5 \times 3 - 1$ ， $41=14 \times 3 - 1$ ， $122=41 \times 3 - 1$ 。因此原数列未知项为 $122 \times 3 - 1=365$ 。故本题选B。

32. 【答案】C。解析：将原数列反约分得到：41、75、108、1311、1614，其中，分子列：1、5、8、11、14、(17)，是公差为3的等差数列；分母列：4、7、10、13、16、(19)，是公差为3的等差数列。因此原数列未知项为 $\frac{19}{17}$ 。故本题选C。

33. 【答案】A。解析：观察原数列发现，原数列整数部分与小数部分之间的倍数关系存在一定的规律，即原数列每项小数部分除以整数部分得到：7、6、5、4、3、(2)，为等差数列。因此原数列未知项的小数部分除以整数部分等于2，观察选项，只有A项符合。故本题选A。

34. 【答案】A。解析：燕子和鸽子均属于动物，A项玄武和朱雀均属于汉族神话中的神兽，也属于动物。故本题选A。

35. 【答案】D。解析：家风是指家庭或家族的传统风尚或作风，D项校风是指一个学校的风气。A项行风是指一个行业的风气，和行家无关；B项文风是指文章的风格，而不是作家的作风或风气；C项作风是指人们在工作、学习和生活中表现出来的稳定的态度和行为，并不特指工作作风。故本题选D。



36. 【答案】A。解析：消费者购物时，导购起到服务、引导的作用；消费者乘车时，乘务员起到服务、引导的作用。故本题选 A。
37. 【答案】A。解析：导弹属于武器，老鹰属于飞禽，前后关系一致。故本题选 A。
38. 【答案】A。解析：微信属于一种通讯方式，慢跑属于一种运动方式，前后关系一致。故本题选 A。
39. 【答案】C。解析：各图形直线数依次为 1、2、3、4、5、(6)，只有 C 项符合。故本题选 C。
40. 【答案】B。解析：各图形交点数均为 5，只有 B 项符合。故本题选 B。
41. 【答案】A。解析：各图形封闭空间数依次为 1、2、3、4、5、(6)，只有 A 项符合。故本题选 A。
42. 【答案】A。解析：第一个图形中，正方形内部左侧斜线依次逆时针旋转  $90^\circ$ ，右侧斜线依次顺时针旋转  $45^\circ$ ，得到后一个图形，则问号处应为 A 项图形。故本题选 A。
43. 【答案】C。解析：【解析】图形拼合类。根据题干图二最长边去掉 B、D，A 选项各有一条直线，而原题没有，去掉 A 选项。所以正确答案为 C。
44. 【答案】B。解析：【解析】图形拼合类。根据题干两条直线，拼合起来要么 0 条直线，要么两条直线，所以去掉 A、D 选项，再根据平行拼合两面都有直线，所以正确答案为 B。
45. 【答案】A  
【解析】图形拼合类。根据两条竖直线，排除 B、C 选项，两条横直线答案为 A 选项。
46. 【答案】B。【解析】A 选项中不是心理焦虑，补偿内心，而是降降火，所以不符合定义要件“补偿内心缺失”，所以排除；B 选项完全符合定义要件，正确；C 选项没有消费，所以排除；D 选项不是心理焦虑，而是补偿支出费用，人情费用，所以排除。所以正确答案为 B。
47. 【答案】B。解析：“底线意识”的定义要点：①自觉意识的底线在哪里；②严格自我约束。A 项章老师的行为是对学生的约束，而不是自我约束，不符合②；B 项“始终关注产品伦理问题”“明确所有产品涉及都不能围着荷尔蒙打转”“不忘企业应承担的社会责任”符合①②，符合定义；C 项不涉及“底线”，不符合①；D 项明显不符合①②。故本题选 B。
48. 【答案】B。解析：“网宅经济”的定义要点是“使人们足不出户就可以通过网络订购满足需求”。只有 B 项“采取网购的方式获取所需的书籍”属于“通过网络订购满足需求”，符合定义。A、C、D 三项均不符合定义。故本题选 B。
49. 【答案】A。解析：“周边产品”的定义要点：①利用动漫、游戏、影视剧等作品中的角色、场景、道具、标识等；②经授权；③制成的产品。A 项“影片发行方推出了以金丝猴为主题的玩偶、手环、钥匙扣、文具等”符合①②③，符合定义；B、C 项不符合②；D 项“主题游”不符合③。故本题选 A。
50. 【答案】B。解析：“隐性失业”的定义要点：①有固定工作岗位和劳动能力；②工作量不足，未能充分发挥作用。A 项小于和 C 项老李均没有固定工作岗位，不符合①；B 项“销售骨干小张过起了清闲日子”符合①②，符合定义；D 项不符合①②。故本题选 B。
51. 【答案】C。解析：A 项“个税起征点”和 B 项“我国居民平均收入”的情况题干均未提及，不能推出。由近年来缴纳个税的人数占总人口的比例始终保持在 2%左右，可知近年来不缴纳个税的人数占总人口的比例始终保持在 98%左右，而缴纳个税的人数不断增加，说明总人口数不断增加，因此不缴纳个税的人数也不断增加，C 项可以推出。题干仅提及工薪阶层的纳税额占总纳税额的比重，B 项“工薪阶层人数”的变化情况不能推出。故本题选 C。
52. 【答案】B  
【解析】由题目得“市中医院没有在第二天→脑科医院第一天”，但是题目中说人民医院和脑科医院在同时义诊，而且人民医院不再第一天，那么脑科医院不能在第一天义诊，所以通过推理规则，否后比否前得到市中医院在第二天，又因为市中医院和妇幼保健院同时义诊，所以得到市中医院和妇幼保健院都在第二天义诊，所以人民医院和脑科医院不在第一天，这时候只能在第三天了，所以正确答案为 B。
53. 【答案】B。解析：题干观点：适量饮酒有利于身体健康。论据：有数据表明，适量饮酒的人群比滴酒不沾的人群整体健康水平更高。A 项说明酒精对人体有利有弊，不能质疑观点；B 项指出身体健康的人更倾向于适量饮酒，说明题干论证因果倒置，最能质疑；C 项支持观点；D 项属于无关项。故本题选 B。
54. 【答案】B。
55. 【答案】C。解析：题干论点：“文明交通志愿者”活动可以有效治理交通违章，改善交通环境。论据：“文明交通志愿者”活动开展三个多月以来，行人闯红灯的老大难问题得到了有效整治，行人交通违章行为有了明显下降。A 项不能削弱“文明交通志愿者”活动的作用；B 项质疑“文明交通志愿者”活动效果的可持续性，但对活动本身效果的削弱力度较小；C 项削弱论点和论据间的联系，即行人交通违章行为下降不能证明该活动可以有效治理交通违章，改善交通环境，最能削弱论证；D 项支持论证。故本题选 C。





56. 【答案】C。解析：根据文字材料可知，2016年10月我国规模以上工业原油同比增速与9月相比为 $-11.3\% - (-9.8\%) = -1.5\%$ ，即下降1.5个百分点；天然气同比增速与9月相比为 $-1.4\% - 0.1\% = -1.5\%$ ，即下降1.5个百分点。故本题选C。

57. 【答案】D。解析：根据文字材料可知，1~10月份，原油进口量31228万吨，占产量与进口量之和的比重已达到65.2%，则2016年1~10月份我国规模以上工业原有总产量为 $65.2\% \times 31228 \div (1 - 65.2\%) \approx 65\% \times 31200 \div (1 - 65\%) = 16800$ 万吨。而2016年10月我国规模以上工业原油产量为1605.1万吨，因此题干所求为 $16800 \div 1605.1 \times 100\%$ ，略小于10%，D项与之最接近。故本题选D。

58. 【答案】C。解析：根据文字材料可知，2016年1~10月份，天然气进口量4338万吨，占产量与进口量之和的比重已达到35.0%，则2016年1~10月份我国规模以上工业天然气产量为 $(4338/35\% - 4338)$ 吨，利用直除法，首位为8，只有C项符合。故本题选C。

59. 【答案】B。解析：根据折线图和混合增长率可知，2月份我国规模以上工业原油进口量月同比增速大于9.3%，高于1月年内累计增速 $(-4.6\%)$ ；3月份同比增速大于13.4%，高于2月年内累计增速 $(9.3\%)$ ；同理可知，4月、6月、7月和10月的月同比增速与上月年内累计增速相比均有所下降。因此，共有4个月份。故本题选B。

60. 【答案】C。解析：根据折线图可知，2016年我国规模以上工业天然气进口量6月累计增速为22.7%，9月累计增速为22.7%，则第3季度的同比增速为22.7%，A项说法正确；同理可知，第2季度同比增速高于22.7%，第1季度同比增速为22.4%，后者大于前者，B项说法正确；根据混合增长率可知，1月份同比增速为22.3%，2月份同比增速为小于18.0%，C项说法错误，D项说法正确。故本题选C。

## 第二部分

### 一、单项选择题

61. 【答案】A。解析：国家宏观经济调控的方式包括直接调控和间接调控。其中，直接调控是指国家用行政手段和指令性计划，直接对每个微观经济单位而不通过市场机制来进行的宏观调控。间接调控是指国家用经济手段通过市场机制来实现的宏观调控。选项A属于直接调控，是政府通过行政管理手段直接调控企业等微观经济单位的经济活动以直接配置资源；选项BCD属于间接调控。

62. 【答案】D。解析：营业税改增值税（以下简称营改增）是指以前缴纳营业税的应税项目改成缴纳增值税，增值税只对产品或者服务的增值部分纳税，减少了重复纳税的环节，其目的是加快财税体制改革、进一步减轻企业赋税，降低企业经营成本，调动各方积极性，促进服务业尤其是科技等高端服务业的发展，促进产业和消费升级、培育新动能、深化供给侧结构性改革。

63. 【答案】C。解析：资产负债表日，存货应按照成本与可变现净值孰低计量，可变现净值低于成本的需计提存货跌价准备，计入资产减值损失，会计分录如下：借：资产减值损失；贷：存货跌价准备。如果原来导致减值的因素已经消失，减值的金额应在原计提的存货跌价准备金额内予以转回。

64. 【答案】B。解析：企业外购固定资产的成本，包括购买价款、相关税费（不含可抵扣的增值税进项税额）、使固定资产达到预定可使用状态前所发生的可归属于该项资产的运输费、装卸费、安装费和专业人员服务费等。该设备的入账价值 $= 10 + 0.1 + 0.05 = 10.15$ （万元）。65. 【答案】A。解析：企业自行决定余额百分比法的计提比例，计提范围包括应收账款和其他应收款，不包括应收票据。该企业应计提的坏账准备 $= (100 + 20) \times 3\% = 3.6$ （万元）。

66. 【答案】C。解析：在会计内部控制中凭证必须连续编号，凭证的使用必须按编号顺序使用，领用空白凭证必须经过登记是属于会计控制中预防性控制措施，ABD均属于事后控制。故选C。

67. 【答案】A。解析：观察法，是指审计人员到被审计单位的经营场所及其他有关场所进行实地察看，来证实审计事项的一种方法。核对法，是指审计人员将会计资料的相关数据按照其内在关系互相对照、复核检查以取得审计证据的一种方法。审阅法，是指审计人员审查和翻阅会计资料，以查明该资料及其反映的经济活动是否真实合规并取证的一种方法。如果说书面资料的检查方法和客观事物的调查方法只是发现问题，那么经济活动的分析方法还能帮助我们解决问题。审计人员应善于对审计结果进行分析。经济活动的分析方法主要有比较分析法、因素分析法和趋势分析法。审计部门到该工程现场审计时发现大部分河塘还没有整治属于观察法。

68. 【答案】C。解析：独立检查会计人员应核对所记录的凭单总数与应付凭单部门送来的每日凭单汇总表是否一致，并定期独立检查应付账款总账余额与应付凭单部门未付款凭单档案中的总金额是否一致。

69. 【答案】D。解析：在统计各组频数时，恰好等于某一组的组限时，则采取上限不在内的原则，即将该频数计算在与下限相同的组内。25为第一组的上限，所以应在第二组；50为第二组的上限，所以应在第三组；75为第三组的上限，所以应在第四组；100为第四组的上限，所以应在第五组。故本题选D。

70. 【答案】A。解析：算术平均数为 $(77 + 78 + 82 + 85 + 94) \div 5 = 83.2$ ，A项错误；五个数都只出现一次，都可以称为众数，B项正确；全距为 $94 - 77 = 17$ ，C项正确；中位数是82，D项正确。



## 二、多项选择题

71. 【答案】ABD。解析：自贸区试点覆盖区域的布局，也从东部沿海省份，向广袤的内陆纵深地区推进。自贸区从东到西，从沿海到中西部，各自承担着不同的改革任务。自贸区的本质是通过变革生产关系进一步解放生产力。自贸区建设重在制度创新试验。C项说法错误。ABD项说法正确。故本题答案选ABD。

72. 【答案】AB。解析：公共产品具有非竞争性和非排他性。常用的公共产品包括国防、秩序、环保、科技、教育、文化。

73. 【答案】BC。解析：购买该股票的会计处理如下：

借：交易性金融资产 8000

    投资收益 650

    贷：银行存款 80650

74. 【答案】ABCD。解析：资金使用审计一是重点检查财政专项资金是否专用。从账证及票据等原始凭证入手，按照重要性原则，检查使用程序是否合规，各项支出有无严密的审批手续；票据是否合法，资金投放是否符合政策，支出内容是否真实，用途是否符合要求，有无截留、克扣、挪用、虚报冒领、擅自改变用途的情况，如违规用于补充办公经费，发放奖金、津贴和福利，项目之外购车、搞基建，擅自出借资金等问题。对税务等部门“代开”的运输、劳务等票据要重点检查是否以合法形式掩盖虚假事项和不实内容。要强化对白条支出、袋袋账、包包账的审计。

75. 【答案】AC。解析：标志是说明总体单位特征的，指标是说明总体特征的。例如，一个工人的工资是数量标志，全体工人的工资总额是统计指标。标志有用文字表示的品质标志和用数值表示的数量标志，指标则都是用数值表示的，没有不能用数值表示的指标。B反映总体不能，是统计指标，D毕业生的就业岗位是标志名称，会计、律师等是标志表现。

## 三、简答题

### 1. 【参考答案】

网约车经营服务，是指以互联网技术为依托构建服务平台，整合供需信息，使用符合条件的车辆和驾驶员，提供非巡游的预约出租汽车服务的经营活动。近年来，我国城市居民生活水平逐渐提高，传统出租车的巡游服务模式已无法满足许多城市居民的需求。因此，一批打车软件、专车软件随之出现，网络预约模式开始进入居民的生活。以挂在打车软件平台下的传统出租车和专车为代表的网络预约模式的出现不仅有效改善了巡游出租车的不能满足居民需求的问题，更以其对社会闲置资源的有效整合对出租车行业产生了巨大影响。但是，在该《办法》出台前，网约车也对传统出租车产生了一定的冲击，其中一个重要原因就是缺乏公平竞争的市场环境：

网约车在准入标准、价格机制、保险制度、车辆安全、报废管理、税费缴纳等方面与传统出租汽车存在较大差异。特别是网络平台公司为了抢占市场，通过持续巨额的补贴抢占市场，在事实上造成两者不公平竞争。

所以出台的《办法》对网约车明确了许可条件，对平台、车辆和人员均设定了许可要求。同时，要求其网络预约出租汽车经营者应当合理确定网络预约出租汽车运价，实行明码标价。网络预约出租汽车经营者不得有为了排挤竞争对手或者独占市场，以低于成本的价格运营，扰乱正常市场秩序，损害国家利益或者其他经营者合法权益等不正当价格行为。这些都是为了形成一个公平的竞争环境，使出租车市场在市场准入、价格定位等方面更加地公平、透明，使得“专车”合法化，更大限度的维护了市场秩序及消费者合法权益，同时促进出租车领域的健康良性发展。

### 2. 【参考答案】

会计要素，是指按照交易或事项的经济特征所作的基本分类，包括资产、负债、所有者权益、收入、费用和利润六大类。其中，反映企业财务状况的会计要素为资产、负债和所有者权益：

(1) 资产是指企业过去的交易或者事项形成的、由企业拥有或者控制的、预期会给企业带来经济利益的资源。资产主要包括货币资金、应收票据、应收账款、预付款项、应收利息、应收股利、其他应收款、存货、长期股权投资、固定资产、在建工程、工程物资、无形资产等。

(2) 负债是指企业过去的交易或者事项形成的、预期会导致经济利益流出企业的现时义务。负债主要包括短期借款、应付票据、应付账款、预收款项、应付职工薪酬、应交税费、应付利息、应付股利、其他应付款、长期借款、应付债券等。

(3) 所有者权益是指企业资产扣除负债后，由所有者享有的剩余权益，又称净资产。所有者权益包括实收资本（或者股本）、资本公积、盈余公积和未分配利润。

反映财务状况的会计要素之间的关系，可以用“资产=负债+所有者权益”这一会计恒等式表示。其含义是：

资产来源于所有者的投入资本和债权人的投入资金及其在生产经营中所产生的收益，分别归属于所有者和债权人。归属于所有者的部分形成所有者权益，归属于债权人的部分形成债权人权益（即企业的负债）。资产和权益（包括所有者权益和债权人权益）实际是企业所拥有的经济资源在同一时点上所表现得不同形式。资产表明的是企业存在的资源、分布的形态，而权益则表明了资源取得和形成的渠道。资产来源于权益，资产与权益必然相等。

## 四、综合分析题【参考答案】

1. (1) ①在中国成为全球第一大出口国之后，在国际贸易保护主义回潮的背景下，针对中国产品的贸易摩擦有增无减，



中国所面临的贸易摩擦形势更加严峻。

②“中国或成最大赢家”已经成为国内对国际事件评价的“标配”，利益冲突是当今“中国威胁论”的深层原因。“中国威胁论”，说到底是由于中国在经济、军事等方面的快速发展引起的，是国家崛起中的必然伴随品。

(2) ①贸易摩擦已经呈现出复杂化、综合化和常态化格局。妥善处理贸易摩擦问题，为对外贸易创造良好的国际环境，是实现中国经济可持续发展的重要一环。中国应该将贸易摩擦限定在良性范围之内，以互利共赢的心态，在国际协调、宏观调控、产业升级和对外投资等宏观、微观层面构建起贸易摩擦预警和化解机制。利用多边、区域和双边渠道理性应对贸易摩擦问题。必要时可以采取单边利益让渡的方式，取得利益的平衡，避免贸易摩擦升级，为中国经济的平稳运行和可持续发展创造良好的发展环境。

②“中国威胁论”一定程度上恶化了中国的发展环境，但同时也成为刺激中国发展的动力。面对“中国威胁论”日益成为一些国家惯用政治手段的现状，我们应该淡定从容、主动作为，

采取多种方法应对它。以开放姿态融入国际经济合作竞争中，是中国经济融入世界经济体系的重要渠道，也是帮助中国经济实现迅猛增长的助推器。开展各种形式的对外经济合作，不仅有力地促进了我国国民经济和对外经贸事业的发展，取得了显著的经济和社会效益，还加强了我国与世界各国和地区的经贸合作关系，为有关国家，特别是广大发展中国家的经济发展做出了贡献，有利于实现优势互补，促进共同发展。尽管中国目前的对外经济合作中还存在着不少问题，但从整体和长远来看，这些问题都能够在采取合理有效措施后逐步解决，中国在对外经济合作方面仍然存在着巨大的潜力。因此，中国应当充分认清当前国际经济合作的形式，解决存在的问题，以便更好地发展我国的对外经济合作。

## 2. 【参考答案】

(1) 1 制定年度计划时，不与管理层及被审计对象沟通不合理。内部审计是管理控制机制的组成部分，要为管理层提供有关经济性、效率性和效益性的评价和建议，帮助管理层发现和风险控制，实现企业的价值增值。从年度计划的制定、具体项目方案的设计到实施方案、沟通审计发现，到形成审计结论出具报告，甚至到后期的审计回访，内审部门都要与被审计单位进行充分的沟通。

2 公司营业收入与营业成本增长比例不一致，存在虚增营业收入的可能性，相应公司应收账款虚高，且应收账款中有 25000 万元为城建委欠款，应确认该部分应收账款是否为真实的收入款，而不是其他性质的往来款。

(2) 2016 年的审计方案的局限性有以下几点：

第一，审计目标不完整。除了题目中所列出的审计目标外，还应包括业务的截止性。

第二，审计重点不完全。审计重点除了包括营业收入和营业成本外，还应包括应收账款。因为根据题目所给的财务数据，应收账款的增长率达到了 483%，应予以重点审计。第三，审计方法不应以分析性复核程序，而应为控制测试和实质性程序。

第四，审计进度安排有不妥，应先进行控制测试、实质性测试，再进行分析性复核程序，然后与公司管理层沟通，最后编写审计报告。

## 五、实务题【参考答案】

1. A 企业所放弃优惠条件是 20 日内付款，享受 2% 的现金折扣，付款的最后期限是 40 日，此时不享受折扣。

企业放弃现金折扣所产生的资本成本率=现金折扣百分比/(1-现金折扣百分比)×360/延期付款天数=2%/(1-2%)×360/(40-20)=36.73%。

2. (1) 企业将自产的产品用于发放单位职工福利应视同销售，应增加应纳税所得额 25 万元。(2) 企业支付的环保部门罚金 5 万元不得在税前扣除，应增加应纳税所得额 5 万元。(3) 企业支付的银行罚息 3 万元可以在税前扣除，不用调整应纳税所得额。

(4) 2014 年末，该企业“利润分配——未分配利润”科目借方余额 20 万元，说明需要弥补亏损 20 万元。

所以 A 公司 2015 年应纳税所得额为 200+25+5-20=210 (万元)，实现的净利润为 200-210×25%=147.5 (万元)。



我爱学习，学习使我快乐