

2018年事业单位联考真题

《职业能力倾向测验》

（经济类）

文政公务员
江苏公务员考试中心



江苏公务员考试信息



江苏事业单位招聘信息



2018 年江苏省省属及各地市事业单位统考笔试真题

经济类（会计审计）

《综合知识和能力素质》

答题说明：

请在专用答题卡指定位置作答，在试卷、草稿纸及其他位置作答一律无效

一、单项选择题(在下列选项中选最恰的 1 项，并用 2H 铅笔在答题卡相应题号下涂黑所选答案项的信息点。在试卷上作答一律无效，本大题共有 60 小题，共 40 分。)

1.习近平在参加第十三届全国人民代表大会第一次会议重庆代表团审议时强调，整个社会道德建设的风向标，立政德，就明大德、守公德、严私德。下列对上述重要讲话理解正确的是

- ①要铸牢理想信念、锤炼坚强党性
- ②要强化宗旨意识，全心全意为人民服务
- ③要严格约束自己的操守和行为
- ④明大德、守公德、严私德是一个有机联系的整体

A.①②③ B.①③④ C.②③④ D.①②③④

2.2018 年 3 月 23 日，中华人民共和国国家监察委员会在北京揭牌。下列对国家监察委员会的认识正确的是

- ①行使国家监察职能的专责机关
- ②行使共产党党内监督的专责机关
- ③实现党和国家自我监督的政治机关
- ④调查职务违法和职务犯罪的国家机关

A.①②③ B.①②④ C.②③④ D.②③④

3.列古文中没有体现矛盾普遍性的是

- A.天地不仁，以万物为刍狗
- B.万物皆有两端，独中又自有对
- C.天地万物之理，无独必有对
- D.万物皆各有耦，祸中又自有耦

4.方便市民随时随地免费借书看书，某市计划投建 50 个“城市书房”，面向不同人群提供富有针对性的阅读选择。下列对这一做法理解不正确的是

- A.这是为推动公共文化建设进行的必要投入
- B.这是为提升对文化资源的控制力采取的有力措施
- C.这是为推进“全民阅读”活动做出的有益举措
- D.这是为实现公共服务个性化选择提供的有效手段

5.藏游务中心为推介当地的旅游业务，设计开发了“快乐旅游”表情包，一经推出就受到广泛好评，这种做法对于公共信息传播的好处是：（ ）

- A.能够提升公共信息传播的有效性
- B.能够扩大公共信息传播的范围
- C.能够增加公共信息的传播量
- D.能够明确公共信息传播的权威性

6.最近微信朋友圈疯传“低钠盐就是高钾盐，是送命盐，长时间食用会严重危及生命，引发社会关注，下列政府有关部门对此采取的举措正确的是（ ）

- A.邀请专家学者做出科学解读，以免误导公众
- B.加强联合执法，劝阻市民购买和食用低钾盐
- C.采取强制措施，关闭传播这一说法的公众号
- D.相信广大市民有明辨是非的能力，不予理会

7.某地为缓解快递包装带来的环境污染问题，出台相关政策，促进“绿色快递”的发展，推广快递的绿色包装和绿色配送。在该地采取的下列措施中，最恰当的是

- A.按绿色标准严格实施快递企业的市场准入制度
- B.出台相应措施鼓励全业和个人使用环保包装材料
- C.规定公共机构应使用“绿色快递”企业的配送服务



- D.对使用非环保包装的企业和个人采取惩戒措施
- 8.外表述未能体现“法律不是万能的”这句话含义的是
- A.某些社会生活领域，不适合由法律来调整
- B.出现新的社会关系，法律往往来不及调整
- C.法律在生效后适用，在生效之前不能适用
- D.法律要能有效实施，还必须依靠其他条件
- 9.下列情形中，王某可以请求国家赔偿的是
- A.王某被前去上班的某公务员驾车撞伤手臂
- B.王某因对警察扣车提出异议而被辅警打伤
- C.王某的工厂被执法机关依法查封导致营业受损
- D.王某因某机关未履行政府采购协议而遭受损失
- 10.下列对紧急情况的处理，构成违法的是
- A.甲出租车司机为了将心脏病突发的乘客尽快送到医院，连续闯了红灯
- B.乙医院为抢救昏迷的孕妇，在无法联系上家属的情况下紧急实施手术
- C.饭店老板对未支付用餐费用的顾客扣押其行李以防止他迅速逃离
- D.丁警察在追捕盗窃钱包的小偷时，在鸣枪警告无效之后将其当场击毙
- 11.精神病人李某，父母年迈，妻子打工，女儿在外读大学，因无人看管而到处游荡。某日，李某穿越马路时被他人驾车撞伤。本案的原告应该是
- A.李某本人 B.李某的妻子 C.李某的父母 D.李某的女儿
- 12.2018年3月23日，东航从上海飞往纽约的一架客机，为了救治一名旅客，空中放油30吨，紧急备降河拉斯加安克雷奇机场。下列有关空中放油的说法不正确的是
- A.空中放油的地点，一般都选在海洋、山区、荒原的上空
- B.高空的低气压会将燃油雾化，不会对水和土壤造成污染
- C.航空器需要紧急放油时，应及时向空中交通管制单位报告
- D.空中放油是为了减轻飞机的重量，以达到安全降落的要求
- 13.2018年3月1日，习近平在纪念周恩来同志诞辰120周年座谈会上指出，周恩来在中国人民谋幸福、为中华民族谋复兴、为人类进步事业而奋斗的光辉一生中建立的卓著功勋、展现的崇高风范，深深铭刻在中国各族人民心中。下列中国近现代历史事件中，周恩来直接参与的有
- ①南昌起义 ②广州起义 ③遵义会议 ④重庆谈判
- A.①②③ B.①②④ C.①③④ D.②③④
- 14.近年来，人们对“海淘”一词渐渐从陌生变为熟悉，“足不出户，买遍全球”描述的就是“海淘”的便利之处。下列对“海淘”现象产生的原因解释不正确的是
- A.“海淘”产品都是国外生产的，外观设计具有吸引力
- B.日前国内高端零售业发展相对滞后，引领消费升级乏力
- C.生活水平的提高使居民消费全面升级，品质成为新追求
- D.进口产品国内售价普遍较高，通过“海淘”可以省钱
- 15.网友爆料在某网购平台上遭遇大数据“杀熟”的堵心事：“同一款纸中，同事(非会员)手机显示原价499元，特价39.9元，而我(会员)的手机则显示原价49.9元，会员价44.9元……”，该消息引发热议，不少网友表示也有类似经历。下列对这一现象的解释不正确的是
- A.大数据可以对客户的碎片数据进行分析，以了解其消费能力
- B.互联网使消费者彼此区隔，但消费者可在购买前获知标准定价
- C.大数据使商家有能力针对客户单独定价，价格歧视成为可能
- D.杀熟是杀鸡取卵的行为，它会影响消费者的满意度和忠诚度
- 16.改革开放以来，我国经济社会不断发展，法治不断进步，公民的人格权实际享有水平和司法保护程度不断得到提升。但不可否认的是，各种侵犯公民人格权的行为和现象仍然很突出。现实生活中公民的隐私权、肖像权、名誉权、使康权、名誉权甚至生命权都有可能受到不法侵害，这种侵害既有可能来自于公权力机关及其工作人员的滥用职权、玩忽职守、徇私枉法等，更可能来自于民事主体相互之间的侵害，法院每年受理的各种侵权纠纷案件特别是侵犯自然人人格权的案件一直处于上升状态。



这段文字之后接下来讨论的话题最有可能是

- A.提高公权力机关的执法水平
- B.加强人格权保护的法治建设
- C.慧治侵害人格权的商业行为
- D.告诫亲朋好友谨守法律边界

17.学者提出，“一带一路”//议便得世界经济运行了传就的“中心一外用”榄式逐渐转变为以中国为中介的“双环流”体系：一个环流是在中国与发达国家之乙饿•以产业分工、贸易，投资、资本同接流动为载体：另一个环流是在中国与其他发展中国家之间，以贸易和直接投贷为主要找体。在这个体系中，中国发羊若枢纽、节点的作用，将发达国家的贸易投资与发展中间家的产业发展连接起来，从而在中国、发达国家、其他发展中国家之间形成了资本的“双环流”

下列概括不符合文意的是

- A.“双环流”体系体现了中国对时界经济运行式的创新
- B.“双环流”体系白效了中国与发达国家的经济介你
- C.“双环流”体系将优化中国与和其和发下国家的经所投房
- D.“双环流”体系中“另个坪流”将成为“双不流”

18.数百年来，北极航线直是航海者们梦想征服的黄金水道：通常情况下，连接亚太地区 and 欧洲地区的主要航线需要通过马六甲海峡、苏伊士运河或绕道非洲好望角，但通过北极东北航道航行，能比传统航线节省 1/3 航程，可大大节省燃油等各项成本，减少二氧化碳等有害气体排放，避开夏季印度洋季风并减少海盗袭扰的风险、不过，目前北极航线还有很多需要改进的地方：比如极地水文与气候多变，缺乏为船舶提供及时、确的气象信的渠道，需要岸基的及时指导以及对船舶的不间断跟踪。

下列关于北极航线的说法不符合文意的是

- A.是一条综合成本相对低廉的航线
- B.需要气象水文信息服务及时跟进
- C.可能成为连接亚太地区和欧洲地区的理想航线
- D.将改善印度洋季风对极地生态环境的影响

19.众投票(简称“公投”)本来是公民议政参政的于段，是直接民主的具体体现，但如果我们把目光聚焦当今的西方世界就会发现，公投实质上既是西方国家内部由政治、历史、经济、文化等因素综合引发的动荡不安的一种表现，同时又反过来进一步加剧了社会的分裂动荡。这地西方民主机制本身的一个窘境：既不敢排除公投这个直接民主的形式，又怕它带来无法挽回的后果。到头来，公投反倒让西方社会自顾不暇，非常“闹心”

下列不符合文中“窘境”所表达意思的是

- A.前倨后恭
- B.进退维谷
- C.左右两难
- D.畏首畏尾

20.内物流行业对于无人机的热衷正在持续升温。本来汽车饱和度将进一步加大，传统地面运输将受到越来越多的制约，打造高效、快速的物流体系迫在眉睫。物流企业通过资本融资、租赁采购十线货运飞机补充运力；电商企业则进一步升级仓储能力，保证仓库足够贴近日标客户，减少大规模高时效性干线物流，尽管上述方式压缩了干线物流时间，支线物流以及“最后一公里”配送难题仍然无法通过现有科技有效解决。因此各方均以 1000 米以下的空域作为关键资源，支线固定翼一小型旋翼无人机成为发展趋势。

根据文意，物流业对无人机的热衷主要是由于

- A.传统快递物流方式已出现颈
- B.电商企业仓储能力已接近极限
- C.无人机快递能大大降低物流成本
- D.无人机运送比地面运输更加安全

21.防范化解金融风险，事关国家安全、发展全局、人民财产安全，是实现高质量发展必须跨越的重大关口。近年来，强监管成为金融行业防范风险的鲜明特征，从去杠杆到控债务，从成立金融稳定发展委员会到合并银监会保监会，从强化银行同业监管到规

范互联网金融发展，多措并举下，金融业告别野蛮生长，逐步回归本源。但不可否认，在行政监管力量日渐强大的同时，法治监管的力量显得相对薄弱，不能很好地适应新时代金融防范风险需求。

这段文字着重强调的是

- A.防范化解金融风险事关高质量发展大局
- B.金融业野蛮生长的时代已经一去不复返了
- C.必须坚定不移地推行各项金融强监管措施
- D.应强化金融法治监管以实现与行政监管共治

22.话说，“蓬生麻中，不扶[，出沙在，与之俱黑”，字里行间说明了____的特蛛影响，家风的建设与巩固也离不开一个优良的环境，要通过文化下乡、榜样宣讲等形式，积极宣扬良好家风，借助微信微博、电视节目、报栏横幅等方式宣传，凝心聚



力、弛而不息地营造一个大众参与的“学良好家风、树良好家风”的社会环境，力争在全民学习中取得“春风化雨、润物无声”的效果

根据上下文语义，填入凹横线处最恰当的一项是

- A.方式手段对环境建设 B.外部环境对事物发展
C.外界环境对植物生长 D.社会环境对家风建设

23.几年，行业巨头尤其是科技巨头，吞噬具有增长潜力的初创公司的现象愈演愈烈。虽说垄断阻碍创新在学界仍存较大争议，但如果新一轮科技和产业革命短期内不会全面到来的话，大公司或许会更倾向于雪藏其所并购的技术，确保坐收渔利，而非将那些专利和创新成果付诸应用。大公司间的合并也表现出这一倾向。若任由其发展，在可预见的未来，那些代表科技和产业发展方向的行业和领域将不可避免地出现“创新黑洞”，也就是说，初创公司大都会被收购，且可能导致新一轮科技和产业革命与我们行渐远

对于近年频现的大公司垄断并购行为，作者认为

- A.可推动大公司和初创公司联合开发更多新技术
B.能促使大公司通过应用创新技术谋得更多利益
C.能帮助有价值的初创公司更好地应用创新技术
D.将阻碍创新技术应用并最终影响科技产业发展

24.数字经济时代，我们身边充满了数字以及围绕数字而形成的经济和商业形态。统计显示，目前全球十五大互联网公司均为平台形式的数据公司；全球最大的100家企业中，有60家的主要收入来自平台商业模式。平台经济具有千万量级的商品和服务提供者，更有数十亿级的消费者用户，平台经济是大势所趋，但如此庞大的规模，仅靠单一力量很难实现有效治理。如果说，鼓励创新、包容、审慎是数字经济时代的行政监管原则，那么，协同共治就应成为数字经济时代的社会治理机制

下列概括文中未涉及的是

- A.平台经济终将成为主流商业形态 B.平台经济呼唤包容审慎协同共治
C.平台经济拥有海量的商品和用户 D.平台经济类型丰富业态多种多样

25.智商相对应，有人提出了“情商”的概念，情商是指通过对自我情感的调和管理营造良好的人际关系，融入社会和组织的能力。事实上，自我掌控和自我管理能力也都是智商的一部分，一个人情绪越不稳定，智商的利用率就越低；反之，情绪越稳定的人，智商的利用率越高，判断力越强。而情绪的控制是能够通过后天培养的，因此通过恰当的训练，人会变得更聪明。

这段文字着重强调的是

- A.智的水平取决于情商的水平 B.智商情商其实不需要严格区分
C.情商的提升有助于智商的利用 D.情商也是一种稳定的聪明才智

26.往2018年博鳌亚洲论坛会场的路上有一条“时光隧道”，近200张珍贵的史料图片和近500分的视频，_____展现了改革开放40年来中国社会的快速变迁，开放是其中一条_____的主线。

依次填入画横线处最恰当的一项是

- A.全面 贯穿 B.全程 突出
C.全景 清晰 D.全新 鲜明

27.故居外，车水马龙；院落里，_____幽雅。翠竹掩映下，林觉民的半身塑像目光炯炯，直视远方。《与妻书》的片段在耳旁响起，让人仿佛置身百年前那个_____的年代。

依次填入画横线处最恰当的一项是

- A.清新 波诡云谲 B.清丽 云遮雾罩
C.清静 风云激荡 D.清朗 风云际会

28.在赞叹互联网海纳百川的同时，我们也必须认识到，互联网的使用者_____，产出的内容自然也会_____、纷繁芜杂。因此，互联网内容生产绝不等同于互联网内容建设。

依次填入画横线处最恰当的一项是

- A.形形色色 泥沙俱下 B.五行八作 黑白颠倒
C.林林总总 鱼龙混杂 D.三教九流 斑驳陆离

29.立自主，崇尚和平，中国有主心骨。尊重各国人民自主选择发展道路的_____，中国有同理心。这是追求“大道之行也，天下为公”的_____，也是追求国际公平正义的_____。

依次填入画横线处最恰当的一项是

- A.自由 思路 风向标 B.诉求 路径 他山石
C.权利 境界 出发点 D.决定 方略 信息源

30.些能“择一事，爱一事，终一生”的人，令人_____，他们的职业精神和专业素养，能够促使我们在本职岗位上深扎不



辍、_____。更重要的是，社会主义核心价值观中的敬业，是职业道德的灵魂，更需要职业精神的_____。

依次填入画横线处最恰当的一项是

- A.过目难忘 坚定不移 培育 B.肃然起敬 精益求精 滋养
C.心驰神往 不离不弃 提升 D.见贤思齐 玉汝于成 呵护

下列 31~35 题中，分别给出了 5 个事件，请你从备选答案中选出 5 个事件排序最合理的一项

31.①雨密密地磁下来

②黑云翻腾，电闪

③天空突然出现

④乌云不时飘过，遮住太阳

⑤人们纷纷拿出手机拍彩虹

- A.④②③①⑤ B.②④①③⑤ C.④-②①③⑤ D.②-④①⑤③

32.①老王回家后终于想起这位熟人的名字

②老王走在路上突然遇到一张熟悉的面孔

③老王知道这就是老人常有的大脑暂时“短路”现象

④老王想打招呼却叫不出对方的名字

⑤老王看着对方消失在川流不息的人群中

- A.④③①⑤② B.②④③⑤① C.⑤②③①④ D.②④①⑤③

33.①拨打救援电话

②车主感谢路人

③路人自愿帮助

④修好汽车返家

⑤深夜汽车抛锚

- A.⑤①③②④ B.⑤③①④-② C.⑤①④-②③ D.⑤-①-②④-③

34.小张定近 ATM 机准备存歌

②小张效入现金

③小张输入密

④小张插入银行卡

⑤小张拿了一万元奖学金

- A.①⑤④②③ B.⑤①②④③ C.⑤①②③④ D.⑤①④③②

35.夯实基础，静待时机

②员工收入减少

③云开见日，经济回暖

④全球金础危机爆发

③订单少，出口下降

- A.⑤④②③① B.②-③⑤④① C.④⑤②①③ D.①④-⑤②③

下列 36~40 题中，每道题先给出一组相关的词，请你在备选答案中找出一组与之在逻辑关系上最为贴近、相似或匹配的词。

36.口水楼：贸易战

A.越野车：机动车

B.经理人：年轻人

C.党委会：支部会

D.演训赛：辩论赛

37 辅导员：大学生

A.售货员：购物者

B.炊事员：指导员

C.敬老院：老年人

D.教练员：运动员

38.文化名城：文化

A.夫妻肺片：夫妻

B.水上行舟：水上

C.行为科学：行为

D.客观规律：客观

39.准脱贫：共同高裕

A.顶层设计：一带一路

B.决胜千里：运筹帷幄

C.发展生产：改善生活

D.勇于担当：勤政廉洁

40.：立：不破不立

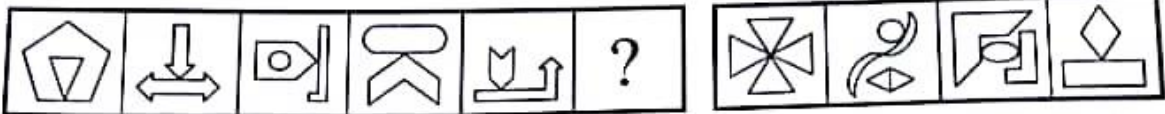
- A.愤：启：不愤不启

.即：离：不即不离
- C.闻：问：不闻不问

D.清：白：不清不白

下列 41~45 题，请从所给的四个选项中，选出最合适的一个填入问号处，使一定的规律性

41.



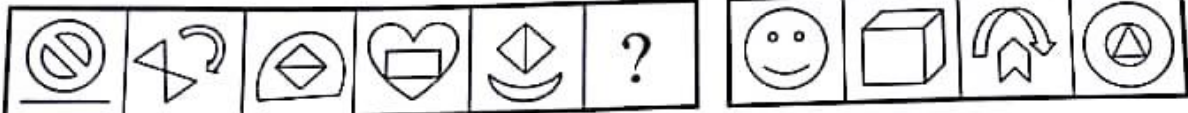
A

B

C

D

42.




A

B

C

D

43.



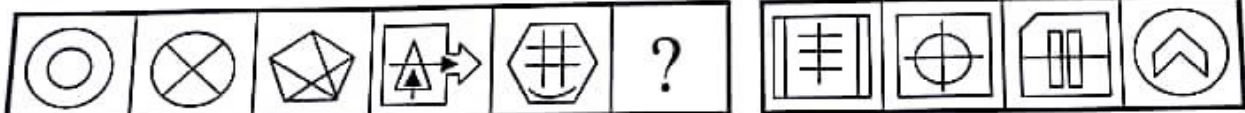
A

B

C

D

44.



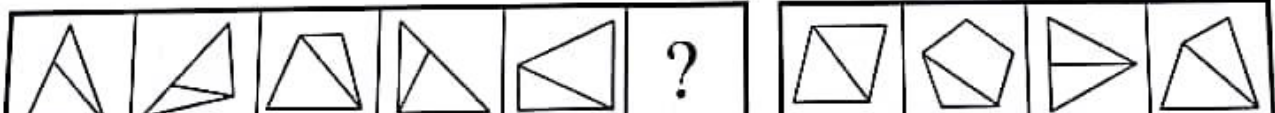
A

B

C

D

45.



A

B

C

D

46.良好的精神状态是做好一切工作的重要前提。综观我国革命、建设、改革各个时期创造的业绩，无不彰显出一种充满正能量的精气神。以新状态踏上新征程，同样需要这种精气神。如果党员、干部责任意识不强，担当精神缺乏，工作就难以推进，任务就难以完成，梦想就难以实现。

根据以上陈述，可以得出以下哪项？

- A.党员、干部如果具备充满正能量的精气神，就能做好工作、创造业绩

B.党员、干部如果能够推进工作和完成任务，就能实现新时代的伟大梦想

C.党员、干部如果具各较强的责任意识和担当精神，就能推进工作、完成任务

D.党员、干部只有具备较强的责任意识或担当精神，才能推进工作、实现梦想

47.某国针对一项政策议题的网络民调结果显示，支持者占 46%，反对者占 54%。而针对投票率的调查则显示,50 岁以上老年人的投票率达到 78%，而 18~40 岁年轻人的投票率仅在 43%。因此，此次网络民调的结果并没有反映出真实的民意，支持者的声音被反对者的声音掩盖了。

以下哪项如果为真，是作出上述结论最合理的假设？

- A.反对者大多是中老年人，支持者大多是年轻人

B.该国 50 岁及以上中老年人口的比例大大超过年轻人的比例

C，网络调查对象主要覆盖的是年轻人群和高知人群，他们多是坚定的支持者

D.老年人中反对者比例较低，他们不易受网络影响，同时还被主流声音忽视



48. 某单位接到上级通知，需要选派 2 名干部去基层挂职锻炼。根据相关条件和报名情况，最后确定甲、乙、丙、丁作为候选人。相关意见如下：

- (1) 如果选甲，则选乙
- 2) 如果不选甲，则选乙
- (3) 如果选丙，则选丁。

已知上述 3 条意见都在挑选中得到了贯彻。

根据以上信息，可以得出该单位不会选派的干部是

- A. 甲 B. 乙 C. 丙 D. 丁

49. 为使女性免受性骚扰，近来我国方个别城市开始在地铁中设置“女性车厢”让女性乘客专用。然而，自运行伊始，就有大量男性无视标识，强行挤上车去，让“女性车厢”形同虚设；而在运营高峰期，又多次出现“女性车厢”相对宽敞，非“女性车厢”拥挤不堪的情形，这些均引发社会各界对“女性车厢”存在价值的热议。有专家指出“女性车厢”的设置是小题大做，完全没有必要。

以下哪项如果为真，最能质疑上述专家的观点

- A. 设置“女性车厢”只是个别地铁公司的企业行为，目前并不存在法律强制规定
- B. 许多男乘客是正人君子，限制他们进入“女性车厢”，是对他们人格尊严的侵犯
- C. 在日本等发达国家，一些大城市的地铁早已设置“女性车厢”让女性乘客专用
- D. 南方城市天气炎热，人们穿着单薄，设置“女性车厢”是关爱女性的有效措施

50. 近年来，互联网小企业日益繁荣。这些数量庞大的小企业在给我们的生活带来极大便利的同时，也给政府市场监管带来了新的挑战。若加强对它们的监管，就需要增加公共支出，而这些公共支出的增加势必会加重互联网小企业的税负，其中的一些会退出激烈竞争的市场；若放松监管，依照“看不见的手”的规律，一些信誉不佳的小企业最终也会在竞争中被淘汰

根据以上陈述，可以得出以下哪项？

- A. 互联网小企业的繁荣必然带来公共支出的增加
- B. 总有一些互联网小企业会在市场竞争中被淘汰
- C. 被市场淘汰的互联网小企业一般总是信誉不佳
- D. 互联网小企业在竞争中必然会从繁荣走向萧条

51. 表面大喊简政放权，遇到关键环节却不放手：言补民生短板，该上马的项目却迟迟不开工……日常生活中，类似这样“调门高，落实少”的现象，让工作遇阻，让群众不满。为什么一些领导干部喜欢“唱高调”？对此，有专家分析，这些领导干部之所以不满意扎扎实实地开展工作，是因为动动玻璃皮子显然更容易

以下哪项如果为真，不能支持上述专家的观点？

- A. 有些领导干部把唱高调当作护身符、挡等牌，为自己贪污腐败打掩护
- B. 有些领导干部认为调门拔得高，讲一些大而无当的话，一般不会出错
- C. 有些领导干部内心清楚自己能力不够，只好靠讲大话获得“政治正确”
- D. 有些领导干部认为一旦扎实工作就会有很多困难，弄不好会身败名裂

52. 一条笔直的街道上连着多家商铺。“好吃来”蛋糕店位于“金刚”五金店和“红叶”时装店之间的某处，“金刚”五金店则位于“春天里”花店和“红叶”时装店之间。

根据以上信息，可以得出以下哪项？

- A. 蛋糕店到五金店的距离，比到时装店的距离远
- B. 五金店到蛋糕店的距离，比到花店的距离近
- C. 五金店到时装店的距离，比到蛋糕店的距离远
- D. 花店到时装店的距离，比到蛋糕店的距离近

53~55 题基于以下题干

为了如快推进精准扶贫工作，某县扶贫办以张村、王村、李村、赵村、陈村为试点，创新下村扶贫干部选配办法，即让每个村从甲、乙、丙、丁、戊 5 位经验丰富的扶贫干部中任选 3 位作为布扶本村的干部。事后得知，每个村均按此方法进行了选择，而每位扶贫干部正好被 3 个村选上，另外，还知道：

- 1) 如果张村选择甲，则李村也选择甲
- 2) 如果王村选择丁，则赵村也选择丁
- 3) 如果李村选择甲，则赵村也选择甲
- 4) 如果王村选择丙，则陈村也选择丙：

- 5)赵村和陈村所选的干部完全相同
- 53.根据以上信息，可以得出以下哪项？
- A.张村选择甲 B.王村选择乙
- C.李村选择丙 D.赵村选择戊
- 54.如果王村选择丙，则可以得出以下哪项？
- A.张村选择丁 B.李村选择丙
- C.赵村选择乙 D.陈村选择戊
- 55.果张村没有选择丁，则可以得出以下那项？
- A.王村没有选择乙 B.李村没有选择丙
- C.赵村没有选择丁 D.陈村没有选择丙
- 根据以下资料，回答 56——60 题

根据以下资料，回答 56~60 题：

小王 2017 年所定套餐及包含的通讯量

4G 自选套餐 流量包 40 元	月套餐费 40 元，包含当月 700MB 国内移动数据流量（2G/3G/4G 网络），超出套餐后按照 0.29 元/MB 计费（套餐外流量费用达到 60 元后，停止收费，客户可免费使用套餐外流量至 1GB，赠送流量使用完毕后，按照上述规则以此类推收费）。
流量安心包 (100MB 档)	订购流量安心包后，不使用不收费。发生套餐外的国内移动数据流量时，自动叠加 10 元包 100MB 流量的加油包（可多次叠加）。每次自动叠加后，不足 10 元部分按照 0.29 元/MB 实扣，当超出套餐后流量费用达到 60 元时，可免费使用流量至 1GB，流量超出 1GB 后，仍按上述原则自动叠加收费和优惠，以此类推。
4G 自选套餐 语音包 48 元	月套餐费 48 元，包含当月国内主叫 200 分钟，国内被叫免费，超出部分国内主叫 0.19 元/分钟，免月租费、来电显示费。
自选套餐 短信包 10 元	月套餐费 10 元，包含当月 200 条短信，超出部分 0.1 元/条。

注：1GB=1024MB。

小王 2017 年 1~12 月通讯量使用明细表

	1 月	2 月	3 月	4 月	5 月	6 月	7 月	8 月	9 月	10 月	11 月	12 月
国内主叫（分钟）	89	205	42	99	45	78	47	68	213	125	187	286
国内被叫（分钟）	176	312	83	159	226	199	210	225	198	248	331	236
短信（条）	97	207	289	117	184	89	128	104	380	74	171	430
移动数据流量（MB）	624	1967	312	726	552	799	890	930	800	2676	589	794

注：小王 2017 年未发生国（境）外语音及移动数据流量费用。

- 56.小王 2017 年每月套餐固定费用总计为
- A.88 元 B.98 元 C.108 元 D.110 元
- 57.小王 2017 年日均通话时长最长的月份是
- A.2 月 B.9 月 C.11 月 D.12 月
- 58.王 2017 年月套餐外短信费用超过月套餐外移动数据流量费用的月份数有
- A.0 个 B.1 个 C.2 个 D.3 个
- 59.小王 2017 年 8 月的消费金额是
- A.98.4 元 B.108.5 元 C.126.7 元 D.164.7 元
- 60.下列说法正确的是
- A.小王 2017 年 3 月上网时间最少
- B.小王 2017 年全年通讯消费共计 1176 元
- C.小王 2017 年月消费额不足 100 元的月份数有 4 个
- D.小王 2017 年主叫时间最短的月份被叫时间也最短

继续作答，第二部分试题

第二部分 专业知识和专业能力（60 分）

二、单项选择题（在下列选项中选择最恰当的 1 项，并用 2B 铅笔在答题卡相应题号涂黑所选答案项的信息点，在试卷上作答一律无效。本大题共有 10 小题，每小题 0.5 分，共 5 分。）

- 61.对上班族而言，“五险一金”这个词并不陌生，大多数人把它作为找工作的首要条件。下列符合“五险一金”的



说法正确的是（ ）

- A. 小张工作 5 年后在合同期内被单位辞退，不能领取失业金
- B. 小李的医疗保险和养老保险的保费由企业和个人共同缴纳
- C. 小王的工伤保险和生育保险保费由本人承担，企业不负担
- D. 因缴纳住房公积金较少，小刘申请的公积金贷款利率较高

62. 保税区是一国海关设置的或经海关批准注册、受海关监督和管理的可以较长时间存储商品的区域。下列有关保税区的描述不正确的是（ ）

- A. 外国商品进入保税区不必缴纳关税，可自由出口
- B. 保税区具有保税仓储、出口加工和转口贸易功能
- C. 与自贸区相比，保税区政策更优惠、开放度更大
- D. 保税区内货物如果进入国内销售就需要缴纳关税

63. 我国外汇储备曾达到创纪录的 4 万亿美元，后降至 3 万亿美元左右，人民币对美元汇率出现了较大幅度的波动，经政府干预，人民币汇率趋于稳定。上述事件表明我国实行的汇率制度是（ ）

- A. 固定汇率制度
- B. 联系汇率制度
- C. 管理浮动汇率制度
- D. 完全浮动汇率制度

64. 下列不属于企业盈余公积金主要用途的是（ ）

- A. 弥补亏损
- B. 扩大再生产
- C. 转增资本
- D. 发放职工福利

65. 2016 年我国全面推行“营改增”政策后，对税金核算科目作了调整。下列被调至“税金及附加”科目核算的是（ ）

- A. 增值税
- B. 企业所得税
- C. 车船税
- D. 耕地占用税

66. 会计账簿体系中，总分分类账与明细分类账之间进行平行登记的主要依据是（ ）

- A. 两者时间相同
- B. 核算信息详细程度相同
- C. 两者格式相同
- D. 核算经济业务内容相同

67. 为寻找被审计单位小金库线索，审计人员决定对财务部门实施现金盘点。下列行为符合规范的是（ ）

- A. 审计人员提前 1 天通知了财务人员
- B. 审计人员须亲自清点现金做好记录
- C. 审计人员直接到财务部门突击盘点
- D. 审计人员向被审单位提出盘点申请

68. 社会中介审计人员小李接受审计机关聘请参与审计某国有企业，小李应遵守的审计行为规范是（ ）

- A. 国家审计准则
- B. 内部审计准则
- C. 注册会计师审计准则
- D. 国家会计准则

69. 要调查某市私家车用户对汽车售后服务的满意程度，恰当的抽样方式是（ ）

- A. 系统抽样
- B. 二重抽样
- C. 整群抽样
- D. 分层抽样

70. 甲数列的算术平均数为 50，标准差为 7，乙数列的算术平均数为 20，标准差为 3，下列判断正确的是（ ）

- A. 两数列算术平均数的代表性相同
- B. 两数列算术平均数的代表性无法比较



C. 乙数列算术平均数的代表性优于甲数列

D. 甲数列算术平均数的代表性优于乙数列

二、多项选择题（在下列选项中至少有 2 项是符合题意的。请找出恰当的，用铅笔在答题卡相应题号涂黑所选答案的信息点，在试卷上作答一律无效。本大题共有 5 小 题，每题 0.8 分，共 4 分）

71. 居民王女士一笔存款到期后，选择银行的一款为期 90 天、年化收益率为 5%的理财产品继续投资。下列王女士对该款理财产品的认知正确的有（ ）

- A. 该理财产品虽有风险提示但实际不会发生
- B. 该理财产品出现的亏损不能用存款保险补偿
- C. 该理财产品最终实现的年化收益率不会低于 5%
- D. 该理财产品投资风险通常要比 2 年期理财产品小

72. 国家统计局数据显示，最终消费对我国经济增长的贡献率已接近 60%。对此以下说法正确的有（ ）

- A. 应压缩消费规模，加大投资和出口力度
- B. 消费可唱独角戏，投资和出口无关紧要
- C. 继续挖掘消费潜力，深化供给侧结构性改革
- D. 消费持续增长，成为经济稳定运行的“压舱石”

73. 按照会计准则关于财务报表列报的基本要求，企业须对外提供的财务报表有（ ）

- A. 利润分配表
- B. 所有者权益变动表
- C. 现金流量表
- D. 主营业务收支明细表

74. 小王在审计某事业单位“三公经费”时发现，吴某报销的一张差旅费凭证记载金额较大，为审查该 笔支出的合规性，下列小王实施的审计行为有效的有

- A. 审查出差审批手续是否完备
- B. 审查会计核算是否准确
- C. 审查差旅费是否超规定标准
- D. 审查住宿发票是否真实

75. 下列属于相对数指标的有

- A. 商品销售额
- B. 人口密度
- C. 学生出勤率
- D. 人均产量

三、简答题（本大题共有 2 小题，每小题 6 分，共 12 分。请在答题卡上指定位置作答，在其它位置作答一律无效。）

1. 2018 年 4 月 17 日，央行决定下调部分金融机构存款准备金率 1 个百分点。请简述下调存款准备金率是如何通过金融机构影响经济的。

2. 实质重于形式的会计确认与计量原则要求，企业应当按照交易或事项的经济实质进行会计确认、计量，而不应当仅仅按照它们的法律形式作为会计确认、计量的依据，请结合上述原则，简述企业融资租入固定资产的会计处理。

四、综合分析题（本大题共有 2 小题，每小题 12 分，共 24 分。请在答题卡上指定位置作答，在其它位置作答一律无效。）

阅读下列材料，根据要求回答问题。材料一：

如果说贸易是拉动经济增长的一架马车，那么进口与出口则是这驾马车的“左右轮”。过去四十年，以出口为导向的经济增长战略让出口这个“轮子”越来越大，而进口则呈现与出口不平衡且差距不断加大的特点。长期以来我国进口商品主要以原材料和中间产品为主，最终消费品进口则收到诸多限制，在加剧货物贸易失衡的同时，衍生出一系列国内国际问题，并导致中国消费者用海外爆买的行为来“用脚投票”。针对上述问题，我国采取各项措施积极加以解决，2014 年《国务院办公厅关于加强进口的若干意见》提出“实施积极的进口促进战略”，2018 年政府工作报告明确“积极扩大进口”“下调骑车，部分日用消费品等进口关税。……促进产业升级和贸易平衡发展，为消费者提供更多选择”2018 年 4 月 10 日国家主席习近平在博鳌亚洲论坛上再次向世界宣布：中国决定在扩大开放方面采取一系列新的重大举措，中国开放的大门只会越来越大。

（1）根据材料分析我国进口贸易政策调整的主要原因。



（2）结合实际谈谈我国实施积极进口促进战略的意义及相应举措。

材料二：

某市审计局首次对本市医保基金进行审计，由于审计人员人数有限且均没有医保审计经验，此次审计讲面临诸多挑战，通过分析比较后，审计人员决定把获得医保资金较多，具备医保定点资格的区 级民营医院（以下简称 R 医院），作为延伸审计对象。

审计人员和该市医保机构人员一起来到 R 医院，告知院长罗某依法接受审计，罗某先是说财务资料在兼职会计手里，暂时不能提供，但在审计人员与药品库房管理员交涉并取得药品库存日记账后，罗某又改口说会安排会计尽快把账簿送到。审计人员对药品简单盘点后发现，药品库存日记账的记载不真实，随后会计送到的库存商品明细账也存在类似问题，同时审计发现医保基金打入 R 医院的对公账户后，马上转入财务主管董某个人账户，账载的药品采购均从董某账户提现，但相关的进货发票，药品随行单等原始货证严重缺失，甚至连白条收据也没有，对此，院长罗某的解释是没有妥善保管，医保机构人员也说药品监管不是本部门职责。审计人员还发现 R 医院信息系统中的患者就诊数据和处方数据并不是实时向医保机构传输的，而是事后录入的。

（1）确定延伸审计 R 医院后，审计人员应如何做好审前准备工作。

（2）分析归纳 R 医院内部管理存在的主要问题，并据此提出下一步审计重点。

五、实务题（15 分，请在答题卡上指定位置作答，在其它位置作答一律无效。）材料一：

S 公司 2017 年 3 月的部分账户资料如下表所示：

S 公司 2017 年 3 月份部分账户余额表

单位：元

账户名称	初期数	期末数	本期发生额
银行存款	85000	36000	支出款项 161000
原材料	368000	220000	耗用材料 158000
其他应收款	120000	150000	预借差旅费 80000
其他应付款	160000	140000	退还押金 20000

材料二：

S 公司属于增值税一般纳税人，适用增值税税率 17%。2017 年 4 月 28 日，购入一批自用玻璃器皿已验收入库，但是发票尚未收到，4 月 30 日，该批货物的发票仍未收到，对此，会计人员以 100000 元暂估入账，5 月 4 日，编制红字记账凭证冲回暂估价；5 月 5 日，公司收到发票，增值税专用发票上证明该批货物的总价款 100 500 元，增值税税额 17 085 元，款项通过转账支票付讫。

假定：不考虑其他相关税费；除差旅费和押金外，其他应收款和应付款没有其他核算内容。

根据上述材料请作答

（1）根据材料一，计算 S 公司 2017 年 3 月份下列项目金额

- ①银行存款收款总额；
- ②原材料的购买总额；
- ③其它应收款减少总额；
- ④其它应付款增加总额

（2）根据材料二，对 S 公司 2017 年 4~5 月份发生的 4 笔相关业务进行账务处理



2018 年 4 月江苏省属及各地级市事业单位考试

《综合知识和专业素质》经济类（会计审计）

答案和解析

第一部分

- 1——5 DCABD 6——10 ABDBD
 11——15 ABCAB 16-20 BDDAA
 21-25 DBDDC 26-30 CCDCB
 31. C
 32. B
 33. A
 34. D
 35. C
 36-40 ADBBB 41-45:DCABB

46. D。题干中有如下推理，党员干部责任意识不强且担当精神缺乏推出工作难以推进 梦想难以实现，逆否命题即为 D 的表述。

47. A。搭桥，在 A 这个条件补充下可以得到题中论点。
 48. C。根据 1 和 2 条件，乙肯定选，如果选丙就肯定要选丁，人数超过 2 个了。
 49. D。反例。
 50. B。题干中原意。
 51. A。
 52. C。按题意画图即可。
 53. B。
 54. A。
 55. B。

56-60:BACCD

一、单选题：

61. 【答案】B。五险中养老、医疗和失业保险由企业和个人共同缴纳，故 B 项正确；劳动者被用人单位无故辞退，并且用人单位为其缴纳失业保险满一年的，劳动者是可以领取失业金的，故 A 项错误；工伤保险和生育保险完全是由企业承担的，个人不需要缴纳，故 C 项错误；公积金贷款利率低于商业贷款利率，所以小刘申请的公积金贷款利率较低，故 D 项错误。所以答案选 B。

62. 【答案】A。外国商品存入保税区，不必缴纳进口关税，尚可自由出口，只需交纳存储费和少量费用，但如果要进入关境则需交纳关税，故 D 项说法正确，A 项说法错误；保税区的功能定位为“保税仓储、出口加工、转口贸易”三大功能，故 B 项说法正确；保税区是设立在内陆地区具有保税港区功能的海关特殊监管区域，实行封闭管理，是目前我国开放层次最高、政策最优惠、功能最齐全的海关特殊监管区域，故 C 项正确。所以答案选 A。

63. 【答案】C。目前的汇率制度是：以市场供求关系为基础，参考一篮子货币，有管理的浮动汇率制度，题干“经政府干预，人民币汇率趋于稳定”体现的就是一种有管理的浮动汇率制度，故 C 项正确；固定汇率是指由政府规定该国货币同其他国家货币的比价，两国货币汇率波动被限制在一定幅度以内，故 A 项错误；联系汇率制（简称：联汇）是一种固定汇率制，即将本币与某特定外币的汇率固定下来，并严格按照既定兑换比例，使货币发行量随外汇存储量联动的货币制度，故 B 项错误；完全浮动汇率制度与“固定汇率制度”相对而言，一国货币对另一国货币在外汇市场上根据供求关系自由波动的汇率，国家不进行干预，故 D 项错误。所以答案选 C。

64. 【答案】D。盈余公积，是指企业按照规定从净利润中提取的各种积累资金，它可以用于弥补亏损、转增资本、企业扩大再生产、发放现金股利或利润，故 A、B、C 项不正确。企业任意盈余公积不用于发放职工福利，故 D 项正确。所以答案选 D。

65. 【答案】C。“税金及附加”科目核算企业经营活动发生的消费税、城市维护建设税、教育费附加、资源税、房产税城镇土地使用税、车船税、印花税等相关税费，该项目新增了原来由管理费用科目核算的房产税、城镇土地使用税、车船税、印



花税，所以 C 项车船税正确。“税金及附加”科目核算内容不包括增值税、企业所得税、耕地占用税。所以答案选 C。

66. 【答案】D。总分类账户和明细分类账户，登记的原始凭证依据相同，核算内容相同，两者结合起来既总括又详细地反映同一事物。因此，总分类账户和明细分类账户必须平行登记。所谓平行登记就是对每一项经济业务，一方面要在有关的总分类账户中进行总括登记；另一方面还要在其所属的有关明细账户中进行明细登记。所以主要依据是核算经济业务内容相同，而非时间、形式、信息详细程度等相同，故 A、B、C 错误。所以答案选 D。

67. 【答案】C。库存现金盘点应在事先不通知被审计单位相关人员的情况下突击进行，故 C 项正确，A、D 项错误。盘点工作一般由被审计单位出纳在现场清点现金并作记录，审计人员不直接参与盘点，只是现场监督盘点，故 B 项错误。所以答案选 C。

68. 【答案】A。我国社会审计人员参加审计机关组织实施的审计项目时，应遵循的审计准则是国家审计准则，故 A 项正确。内部审计准则是指各类企业、各级政府机关以及其他单位的内部审计人员在进行内部审计工作时所应遵循的原则，本题不属于内部审计工作，故排除 B。中国注册会计师审计准则和国家会计准则不是我国社会审计人员参加审计机关组织实施的审计项目时应当遵循的准则，故排除 C、D。所以答案选 A。

69. 【答案】D。汽车品牌不一样，售后服务也不一样，针对售后服务的满意程度采用分层抽样的方式，故 D 项正确；系统抽样又叫做等距抽样法或机械抽样法，是依据一定的抽样距离，从母体中抽取样本，不符合题干要求，故 A 项错误；双重抽样，又称二重抽样、复式抽样，相关抽样法是指在抽样时分两次抽取样本的一种抽样方式，满意度调查不需要两次抽样，故 B 项错误；整群抽样是指整群地抽选样本单位，对被抽选的各群进行全面调查的一种抽样组织方式，如果采用整群抽样，没办法对不同品牌的汽车进行了解，故 C 项错误。所以答案选 D。

70. 【答案】D。变异系数指的是一组数据的标准差与其相应的平均数之比，又称为离散系数，可以用变异系数来比较平均数的代表性，变异系数越小，代表性就越好，反之则越差。

甲数列的变异系数= $7/50=0.14$ ，乙数列的变异系数= $3/20=0.15$ ，故甲数列平均数的代表性优于乙数列，故 D 项正确，ABC 项错误。所以答案选 D。

二、多选题：

71. 【答案】BD。期限短，风险就相对小，90 天的理财产品投资风险通常要比 2 年期理财产品小，故 D 项正确；存款保险条例只能对银行破产情况下储户的存款起到保护作用，对理财产品出现的亏损不能用存款保险补偿，故 B 项正确；理财产品有风险提示，但也存在实际发生的可能性，故 A 项错误；年化收益率为 5% 的理财产品最终实现的年化收益率会低于 5%，故 C 项错误。所以答案选 BD。

72. 【答案】CD。消费对经济增长率虽然较高，但依然不能忽视，应着力加大消费和投资的双向拉动，继续挖掘消费潜力，故 A 项错误，C 项正确；消费不能唱独角戏，经济增长需要消费、投资和出口共同推动，故 B 项错误；当前消费已成为经济稳定运行的“压舱石”，故 D 项正确。所以答案选 CD。

73. 【答案】ABC。企业向外提供的会计报表包括：（一）资产负债表（二）利润表（三）现金流量表（四）资产减值准备明细表（五）利润分配表（六）股东权益增减明细表（七）分部报表（八）其他有关附表。所以 D 项不属于企业须对外提供的财务报表。所以答案选 ABC。

74. 【答案】ABCD。审查该笔支出的合规性时，小王要关注审批手续是否完备、相关费用是否超过标准等形式要件方面的审查。记载金额较大可能存在以差旅费名义套取资金用于处理其他不合规不合法事项的情形，相关原始票据多为虚开或虚假票据，因此也要关注住宿发票是否真实。除此之外，也要从会计核算方面进行审计。所以答案选 ABCD。

75. 【答案】BCD。“相对数”，是用两个有联系的指标进行对比的比值来反映社会经济现象数量特征和数量关系的综合指标，人口密度、学生出勤率和人均产量，故 BCD 项正确；是反映客观现象总体在一定时间、地点条件下的总规模、总水平的综合指标，商品销售额属于绝对数指标，故 A 项错误。所以答案选 BCD。

三、简答题：

1. 【答案】中央银行通过扩张性的货币政策，对国家经济实行强有力的宏观调控，降低存款准备金率在一定程度上，增加了货币的供应量，也提高了金融市场上货币的流通水平，央行下调存款准备金率是通过如下方式影响经济的：

（1）通过作用于同业拆借市场间接影响商业银行资金的定价能力。存款准备金率的降低使得市场可供交易的资金增加，对资金主力供给方的大型银行的定价能力是个考验。

（2）通过“乘数效应”影响银行的放贷竞争力。存款准备金率的下调可以提高银行存款的派生能力，按货币乘数增加货币供应量，影响贷款的价格，并间接降低中间业务收入。

（3）差别化的融资成本可能会影响银行存款的稳定性。定向获得更大降准幅度的银行，其负债成本略有下降，该类机构可以在存款价格上一浮到顶或者通过更高收益率的理财产品，吸引其他银行客户，进而造成大型银行存款的流失，揽存压力



和吸存成本抬升。

（4）增加市场资金的供给，刺激生产环节。存款准备金率的降低使银行资金变多，放贷能力增强，工商企业及个人贷款也变得容易。企业有足够的资金扩大生产，个人也有足够的资金创业，促进生产力的进步，推动经济的发展。

（5）对农村商业银行等农村金融机构来讲，存款准备金率的降低为其发展带来了新的机遇。存款准备金率的降低，为银行吸引了更多的客户群体，在一定程度上，改善了农民及小型农村企业融资难的问题。

2. 【答案】以融资租赁的形式租入的固定资产，虽然从法律形式来讲企业并不拥有其所有权，但是由于租赁合同中规定的租赁期相当长，接近于该资产的使用寿命；租赁期结束时承租企业有优先购买的选择权，在租赁期内承租企业有权支配资产并从中受益。所以，从实质上看，企业控制了该项资产的使用权及受益权。所以在会计核算上，将融资租赁的固定资产视为企业的资产。融资租入固定资产的会计处理如下：

（1）企业在租赁期开始日，将租赁开始日租赁资产的公允价值（含增值税）与最低租赁付款额现值两者中较低者，加上在租赁谈判和签订租赁合同过程中发生的、可直接归属于租赁项目的手续费、律师费、差旅费、印花税等初始直接费用，减去可抵扣的增值说后余额作为租入资产的入账价值，借记：“固定资产——融资租入固定资产”账户；按最低租赁付款额，贷记：“长期应付款”账户；按发生的初始直接费用，贷记：“银行存款”等账户；按其差额，借记：“未确认融资费用”账户。

（2）每期支付租赁费用时，借记：“长期应付款”账户，贷记：“银行存款”账户。如果支付的租金中包含履约成本，按履约成本，借记：“制造费用”、“管理费用”等账户。

（3）每期采用实际利率法分摊未确认融资费用时，按当期应分摊的未确认融资费用金额，借记：

“财务费用”账户，贷记：“未确认融资费用”账户。

（4）企业租入固定资产应计提折旧，折旧政策应和自有固定资产折旧政策一致，同自有固定资产一样，折旧方法一般有年限平均法、工作量法、双倍余额递减法、年数总和法等。确定融资租赁固定资产的折旧期应视租赁合同而论，如果能够合理确定租赁期届满时企业将会取得资产的所有权，即可认为企业拥有该资产的全部使用寿命，因此应以该资产的使用寿命作为折旧期间，如果无法合理确定租赁期届满后企业是否能够取得租赁固定资产的所有权，则应以租赁期与租赁资产寿命两者较短者作为折旧期。提取折旧时，借记：“制造费用”账户，贷记：“累计折旧”账户。

（5）企业按销售量、使用量、物价指数等为依据计算的或有租金，通常计入销售费用，借记“销售费用”账户，贷记：“银行存款”账户。

（6）租赁期满时，企业对租赁固定资产的处理通常有三种情况：即返还、优惠续租和留购。那么，企业向出租人返还资产时，借记：“累计折旧”账户，贷记：“固定资产——融资租入固定资产”账户；企业行使优惠续租权时，此时应视为该项资产租赁一直存在而作出相应的账务处理。即支付买价款时，借记：“长期应付款——应付融资租赁款”账户，贷记：“银行存款”账户；同时，还应结转固定资产的明细账，借记：“固定资产——生产经营用固定资产”账户，贷记：“固定资产——融资租入固定资产”账户。

四、综合分析题

1. （1）【答案】

①经济增长和人均收入增加是进口模式转化的内在动力。人均收入水平是影响消费结构变化的主要因素，人均收入水平越高，消费结构随之升级，一方面从满足温饱型消费向精神娱乐类消费转变；另一方面满足基本生活需要的衣食住行也向品牌化和高档化发展。改革开放以来，中国社会阶层的一个最显著变化就是中产阶层的产生和发展，消费能力也在增强。

②供需不均衡结构的转换。供需不均衡是中国进口贸易模式转型的基础。党的十九大报告指出，中国特色社会主义进入新时代之后，我国社会主要矛盾已经转化为人民日益增长的美好生活需要和不平衡不充分的发展之间的矛盾。美好生活也包括对高质量的产品和高端消费品的需求。经过40年的改革开放，我国已经成为世界第一个工业生产国，工业产品门类齐全，发挥了规模经济的巨大优势，生产成本的降低使得国际竞争力提升。随着我国居民收入的提高，对中低档次的实物消费品的需求大幅减少，对中高档次的实物消费品和服务类产品的需求增加，但国内的生产结构还没有转变过来。由于依附于全球价值链，处于价值链低端，产品升级和产业结构转换仍然没有完成，所以国内的供给难以满足不断提升的居民需求。

③国际产业转移是进口模式转型的重要条件。在人民币升值和劳动力成本上升的背景下，部分劳动密集型产业逐步转移到劳动力成本低的越南、印度等国家，而中国从这些国家劳动密集型产品的进口也呈现上升的趋势。对于劳动密集型产业来说，生产成本是其获取竞争优势的关键，由于人民币升值，出口产品价格以美元计价就需要提高，显然会降低产品市场竞争力。随着“一带一路”倡议的推进，中国对区域内部分国家的产业转移加速，产业转移的行业不仅仅是纺织服装鞋帽等，也逐渐向化工、机电、运输机械等产业延伸，这必将进一步减少中国相关产业的出口，增加其进口比例。

（2）【答案】意义：

①经济发展阶段变化必然带动进口贸易模式的变化。工业化发展的不同阶段对于进口产品结构要求不同。在工业化发展初



期，进口的目的主要是促进国内生产，或者为出口或者为国内替代，因此，进口的产品主要是初级产品和资本品，但是随着工业化的发展，到了中期阶段以后，资本品占比上升到顶点，消费品进口开始上升，工业化后期，消费品成为进口增速最快的种类。

②经济增长和人均收入增加是中国进口贸易模式转化的根本动力。国际经验表现，经济增长和人均收入增加，提升了中产阶层所占比例，其消费结构的变化也必然会带动进口结构的转化。

③供求结构的不均衡是进口模式转化的现实基础。虽然中国不断推进产业结构升级和产品质量升级，但目前中国的产业结构很难满足国内消费者的需要，无论是产品多样性还是产品的质量特征等，影响了进口结构的变化。

④人民币升值和产业国际转移是进口结构转型的重要原因。中国改革开放以来的经济增长依赖于劳动力资源禀赋导致的出口贸易的发展，但是随着人民币升值和劳动力成本上升，大量劳动密集型产业逐渐从中国大陆转向越南、印度等其他发展中国家，这就减少了原材料和中间产品的进口，而且相关产业的转移也导致国内产业生产不足，需要依赖于进口才能满足需求。

相应举措：

①鼓励先进技术、仪器和设备的进口。在该领域扩大进口，既符合国内产业升级、补短板的需要，同时又有利于中国扩大进口、实现贸易平衡发展。具体措施包括：降低进口关税，大幅提高企业新购入仪器设备税前扣除上限，提高企业从国外进口先进仪器设备的积极性。

②下调部分日用消费品等进口关税。随着居民对高质量产品的需求增加，为满足人民对美好生活的需要，可以大幅下调部分日用消费品的关税，高质量如国内缺乏同类、同档次替代品，和价格弹性较高的产品如一些奢侈品和高档的农产品等食品。避免因为高关税而导致境外购物或代购等非正常贸易形式的出现，将使居民的境外旅游购物部分转移到境内，将使国内批发零售业受益。同时，也将改变国际收支平衡表中经常账户的结构，预期服务贸易逆差、货物贸易顺差将同时有所下降。

③完善和优化公共服务。除了进一步降低关税以外，还需要进一步优化进口环节管理，加强管理机构的协调。进口贸易的管理机构，除了央地关系的垂直协调以外，还有不同部委之间的横向协调，需要更高层次整体的工作部署。

④进口贸易的平台建设。积极扩大进口要推动更大力度的市场开放，这不仅包括下调关税，而且还包括进口贸易的平台建设。在上海、天津、苏州、宁波 4 个国家进口贸易促进创新示范区取得积极的建设成效的基础上，复制到其他地区，实现地域的全覆盖。

⑤促进跨境电子商务的发展。与传统国际贸易相比，跨境电子商务利用互联网信息技术，使国际间商品、服务与要素自由地流动，缩短了传统贸易冗长的链条，有效减少了商品流通的成本，将全世界的需求和供给快速连接起来。

2. 【答案】

（1）延伸审计开展前，要做足功课、做好准备。古语有云，“凡事预则立，不预则废”。事先做

好功课对延伸审计尤为重要，如果对被延伸审计单位职责、业务流程、工艺过程等相关内容一知半解甚至一无所知，延伸审计人员只能是处于弱势地位，延伸审计工作是无法开展的，也无法实现延伸审计的目的、得到延伸审计想要的结果。在延伸审计前，要通过“5W1H”分析法，弄清楚延伸审计的目的（Why），明确延伸调查的工作内容和预期结果（What）。对每一项工作内容结合延伸审计目的设定工作流程找准审计要点和突破口（Where），选择合适的开展延伸审计时间点（When），对每个重点事项做好时间安排，发掘重要信息。同时，选好审计延伸调查人员和陪同人员（Who），全面掌握调查审计事项，采取合适的延伸审计方式和方法（How）也是完成延伸审计的重要方面。通过以上途径做好延伸审计的全面准备，为延伸审计奠定扎实的基础。

（2）账目记录不真实；医保基金打入个人账户；原始凭证缺失；医院信息系统的数据并非实时。目前民营医院内部控制是管理中的薄弱环节，依然存在很多问题。对内部控制的认识不足。表现在对内部控制的认识落后于现实需要，认为内部会计控制知识形式上的东西，在内部管理体制的设计和内部会计制度方法运用上不能达到一定的专业水准，在风险评估环节、信息沟通环节、监督审批等确保医院财产安全、完整，会计信息真实、可靠等各项内部控制残缺不全，医院不重视健全内部控制制度的各项要素有机结合。审查医院规章制度的建立、实施。检查药品采购的计划和出入库制度。检查会计机构设置。

五、实务题

（1）【答案】

①银行存款收款总额 = 期末数 + 支出款项 - 期初数 = 36000+161000-85000=112000

②其他应收款减少总额=期初数+增加总额（预借差旅费）-期末数= 120000+80000-150000=50000

③原材料的购买总额=期末数+减少数（耗用材料）- 期初数= 220000+158000-368000=10000

④其他应付款增加总额 = 期末数 + 减少数（退还押金）- 期初数 = 140000+20000-160000=0



（2）【答案】

① “2017 年 4 月 28 日，公用玻璃器皿已验收入库，但是发票尚未收到”

对于已验收入库的购进商品，但发票尚未收到的，企业应当在月末合理估计入库成本（如合同协议价格、当月或者近期同类商品的购进成本、当月或者近期类似商品的购进成本、同类商品同流通环节当期市场价格、售价*预计或平均成本率等）暂估入账。

② “4 月 30 日，该批货物的发票仍未收到，会计人员以 100000 元暂估入帐” 会计分录为：

借：原材料 100000

贷：应付账款—暂估款 100000

③ “5 月 4 日，编制红字记账凭证冲回暂估价：100000 元。次月初，冲回暂估入库成本，以红字编制如下分录：

借：原材料 100000

贷：应付账款—暂估款 100000

④ “公司收到发票，增值税专用发票上注明该批货物的总价款 100500 元，增值税税收款项通过转帐支票付讫”

取得发票后，编制正式入帐分录：

借：原材料 100500

应交税金—应交增值税（进项税额）17085

贷：银行存款 117585



我爱学习，学习使我快乐